

TAREAS DIGITALES: RECURSO DIDÁCTICO PARA FAVORECER LA
ARGUMENTACIÓN

VIVIANA ELENA MANRIQUE PÉREZ

IRWIN JAMID MEDINA MELÉNDEZ

UNIVERSIDAD PEDAGÓGICA NACIONAL
FACULTAD DE CIENCIA Y TECNOLOGÍA
DEPARTAMENTO DE MATEMÁTICAS
MAESTRÍA EN DOCENCIA DE LA MATEMÁTICA
BOGOTÁ, OCTUBRE DEL 2017

TAREAS DIGITALES: RECURSO DIDÁCTICO PARA FAVORECER LA
ARGUMENTACIÓN

VIVIANA ELENA MANRIQUE PÉREZ

IRWIN JAMID MEDINA MELÉNDEZ

Trabajo de grado para optar por el título de
Magister en Docencia de la Matemática

Asesor: Mg. Camilo Sua Flórez

UNIVERSIDAD PEDAGÓGICA NACIONAL
FACULTAD DE CIENCIA Y TECNOLOGÍA
DEPARTAMENTO DE MATEMÁTICAS
MAESTRÍA EN DOCENCIA DE LA MATEMÁTICA

Bogotá, octubre del 2017

Para todos los efectos, declaramos que el presente trabajo es original y de nuestra total autoría; en aquellos casos en los cuales hemos requerido del trabajo de otros autores o investigadores, hemos dado los respectivos créditos.



UNIVERSIDAD PEDAGÓGICA
NACIONAL

Educadora de educadores

FACULTAD DE CIENCIA Y TECNOLOGÍA
DEPARTAMENTO DE MATEMÁTICAS

ACTA DE VALORACIÓN DE TRABAJO DE GRADO

Escuchada la sustentación del Trabajo de Grado titulado **Tareas digitales: recurso didáctico para favorecer la argumentación**, presentado por los estudiantes:

Viviana Elena Manrique Pérez, Cód. 2016185005,
CC. 1.023.895.167


Irwin Jamid Medina Meléndez, Cód. 2016185007, CC. 80.222.708


como requisito parcial para optar al título de **Magíster en Docencia de la Matemática**, analizado el proceso seguido por el estudiante en la elaboración del trabajo y evaluada la calidad del escrito final, se le asigna la calificación de **Aprobada**, con 46 puntos.

Observaciones:

En constancia se firma a los 27 días del mes de noviembre de 2017.

JURADOS

Director del Trabajo: Profesor: 
JEISON CAMILO SUA FLOREZ (UPN)

Jurados: Profesora: 
CLAUDIA MARCELA VARGAS (UPN)

Profesor: 
ARMANDO ECHEVERRY
(UNIVERSIDAD DE VALENCIA)

AGRADECIMIENTOS

A Dios, por ser una guía constante en mi vida y permitirme culminar una meta más en ella.

A mis padres, por acompañarme en los momentos felices y en los más difíciles, por ser ejemplo de perseverancia, ustedes son la razón principal de todos mis logros.

A mis hermanos, por apoyarme en todos mis proyectos, por sus consejos y compañía incondicional.

A la Universidad Pedagógica Nacional y, en especial, a los profesores del departamento de matemáticas, por permitirme formarme como Licenciada, Especialista y ahora como Magister; aprender de todos ustedes ha sido un verdadero privilegio.

Al profesor Camilo Sua y a mi compañero Irwin Medina, por confiar en mí para desarrollar este trabajo, por sus valiosos aportes y por todos los conocimientos compartidos.


A los compañeros de la Maestría en Docencia de las Matemáticas, porque a lo largo de estos dos años aprendí mucho de todos ustedes en lo personal y en lo profesional.

Viviana Manrique

Gracias totales a mis padres, de quienes he recibido apoyo incondicional durante todo mi proceso formativo ustedes lo empezaron todo, como un puntico, algo muy pequeño que no se quedó así. Alrededor de este puntico mis padres y yo fuimos –vamos– tejiendo, agregando puntadas en espiral, paso a paso para conseguir algo más grande y espero conseguir, a su lado, muchos más triunfos que serán suyos también...

Gracias a Viviana, sin duda fue la mejor compañera para desarrollar este trabajo académico, de ella recibí apoyo y aprendí mucho durante nuestro paso por la maestría. Gracias a todos los maestros de la UPN, a nuestro asesor Camilo por emprender con nosotros esta aventura, también gracias a aquellos que sin serlo se convirtieron en maestros y en referentes para que yo sea un mejor docente y sobre todo *una mejor persona*.


Irwin Medina

	FORMATO	
	RESUMEN ANALÍTICO EN EDUCACIÓN - RAE	
Código: FOR020GIB	Versión: 01	
Fecha de Aprobación: 10-10-2012	Página 1 de 6	


Información General	
Tipo de documento	Trabajo de grado en maestría de profundización.
Acceso al documento	Universidad Pedagógica Nacional. Biblioteca Central
Título del documento	Tareas digitales: recurso didáctico para favorecer la argumentación
Autor(es)	Manrique Pérez Viviana Elena; Medina Meléndez Irwin Jamid
Director	Sua Flórez Camilo
Publicación	Bogotá D. C., Universidad Pedagógica Nacional, 2017, (329 páginas)
Unidad Patrocinante	Universidad Pedagógica Nacional, Facultad de Ciencia y Tecnología, Departamento de Matemáticas.
Palabras Claves	Tareas digitales, geometría, argumentación, variación, arrastre, Moodle, GeoGebra

Descripción
<p>El trabajo tiene origen en el análisis de las tareas digitales que, como resultado del auge actual de la tecnología, han venido desarrollando las editoriales colombianas y el Ministerio de Educación Nacional para el área de matemáticas y, en particular, para geometría. En el análisis realizado se evidenció que las tareas encontradas carecían de elementos que promovieran la argumentación y la conjeturación en geometría, por tal motivo se proyectó como objetivo principal de nuestro trabajo el determinar qué características debían tener las tareas digitales de geometría para favorecer estos procesos. Para tal efecto, se desarrollaron, implementaron y analizaron un conjunto de tareas digitales de geometría con un grupo de estudiantes de grado séptimo de un colegio distrital. Nuestra propuesta se desarrolló asociada al grupo de investigación de Aprendizaje y Enseñanza de la Geometría $\mathcal{A}\cdot\mathcal{E}\cdot\mathcal{G}$ de la Universidad Pedagógica Nacional en la línea de Argumentación y Prueba en Geometría.</p>

Fuentes
<ul style="list-style-type: none"> • Álvarez-Niño, L. C., y Arias-Ortiz, C. (2014). Los ambientes virtuales de aprendizaje (AVA) como facilitadores del proceso de enseñanza y aprendizaje de la geometría analítica en la educación media. <i>Revista de educación y desarrollo</i>, 30, 63–70. • Arellano, C. (2013). <i>La argumentación de alumnos de bachillerato al resolver problemas matemáticos</i>. Universidad Autónoma de Querétaro. • Arzarello, F., Olivero, F., Paola, D., y Robutti, O. (2002). A cognitive analysis of dragging practises in Cabri environments. <i>Zentralblatt für Didaktik der Mathematik</i>, 34(3), 66–72. https://doi.org/10.1007/BF02655708 • Baccaglioni-Frank, A., y Mariotti, M. A. (2010). Generating conjectures in dynamic geometry: The maintaining dragging model. <i>International Journal of Computers for Mathematical Learning</i>, 15(3), 225–253. https://doi.org/10.1007/s10758-010-9169-3

 UNIVERSIDAD PEDAGÓGICA NACIONAL <small>Escuela Superior de Pedagogía</small>	FORMATO	
	RESUMEN ANALÍTICO EN EDUCACIÓN - RAE	
Código: FOR020GIB	Versión: 01	
Fecha de Aprobación: 10-10-2012	Página 2 de 6	

- Flores, C., Gómez, A., y Flores, H. (2010). Esquemas de argumentación en actividades de Geometría Dinámica. *Acta Scientiae*, 12(2), 22–42.
- Flores, H. (2007). Esquemas de argumentación en profesores de matemáticas del bachillerato. *Educación Matemática*, 19(1), 63–98.
- Franco, B., y Moreno, G. (2011). *La argumentación como núcleo de la actividad demostrativa*. Universidad Pedagógica Nacional.
- Garcia, M. D. M. (2011). *Evolución de actitudes y competencias matemáticas en estudiantes de secundaria al introducir geogebra en el aula*. Universidad de Almería.
- González, M. (2009). A propósito del libro de texto escolar en la sociedad de la información. *Revista Educación y Pedagogía*, 21, 125–138.
- Gutiérrez, A. (1991). La investigación en Didáctica de las Matemáticas. En A. Gutiérrez (Ed.), *Area de conocimiento Didáctica de la Matemática* (pp. 149–195). Madrid: Síntesis.
- Harel, G., y Sowder, L. (1998). Students' proof schemes: Results from exploratory studies. *CBMS Research in Collegiate Mathematics Education*. III.
- Hattermann, M. (2010). The drag-mode in three dimensional dynamic geometry environments – Two studies. En *CERME 6–WORKING GROUP 5* (pp. 786–795).
- Leung, A. (2003). Dynamic Geometry and the Theory of Variation. *Proceeding of the 27th Conference of the International Group for the Psychology of Mathematics Education*, 3, 197–204.
- Leung, A. (2008). Dragging in a dynamic geometry environment through the lens of variation. *International Journal of Computers for Mathematical Learning*, 13(2), 135–157. <https://doi.org/10.1007/s10758-008-9130-x>
- Leung, A. (2011). An epistemic model of task design in dynamic geometry environment. *ZDM - International Journal on Mathematics Education*, 43(3), 325–336. <https://doi.org/10.1007/s11858-011-0329-2>
- Leung, A., Baccaglini-Frank, A., y Mariotti, M. A. (2013). Discernment of invariants in dynamic geometry environments. *Educational Studies in Mathematics*, 84(3), 439–460. <https://doi.org/10.1007/s10649-013-9492-4>
- Leung, A., Chan, Y., y Lopez-real, F. (2000). *Instrumental Genesis in Dynamic Geometry Environments*. Hong Kong.
- Leung, A., y Yip-Cheung, C. (2006). Exploring Necessary and Sufficient Conditions in Dynamic Geometry Environments. *The International Journal for Technology in Mathematics Education*, 13(1), 37–43.
- Lopez-Real, F., y Leung, A. (2006). Dragging as a conceptual tool in dynamic geometry environments. *International Journal of Mathematical Education in Science and Technology*, 37(6), 665–679. <https://doi.org/10.1080/00207390600712539>
- Mariotti, M. A. (2006). Proof and proving in Mathematics Education. En A. Gutiérrez y P. Boero (Eds.), *Handbook of Research on the Psychology of Mathematics Education* (pp. 173–204). Rotterdam: Sense Publishers.
- Medina, I., Manrique, V., y Sua, C. (2017). Módulo de GeoGebra para Moodle: Herramienta para docentes y docentes investigadores. Curso llevado a cabo en el 23 encuentro de geometría y sus aplicaciones, Bogotá - Colombia: Universidad Pedagógica Nacional.

	FORMATO	
	RESUMEN ANALÍTICO EN EDUCACIÓN - RAE	
Código: FOR020GIB	Versión: 01	
Fecha de Aprobación: 10-10-2012	Página 3 de 6	


- Ministerio de Educación Nacional. (2006). Estándares Básicos de Competencias en Matemáticas. *Estándares Básicos de Competencias en Lengua, Matemáticas, Ciencias y Cuidadas*, 46–95.
- Olivero, F. (2002). *The Proving Process within a Dynamic Geometry Environment*. University of Bristol.
- Orgill, M. (2012). Variation theory. En *Encyclopedia of the Sciences of Learning* (pp. 2608–2611). Springer.
- Osorio, M. (2012). Unidad 3: Formas de entender la tecnología en un proceso enseñanza-aprendizaje: Formación presencial mediada por la tecnología, formación combinada y formación virtual. En *Asesoría para el uso de las TIC en la formación*. Bogotá: SENA.
- Romero, J. L. (2011). El libro de texto digital en la enseñanza. *Revista digital innovación y experiencias educativas*, 43, 1–9.
- Samper, C., y Molina, O. (2013). *Geometría plana: un espacio de aprendizaje* (1a ed.). Bogotá: Universidad Pedagógica Nacional.
- Samper, C., Molina, O., Perry, P., y Camargo, L. (2013). *Geometría plana: un espacio de aprendizaje*. Bogotá: Universidad Pedagógica Nacional.
- Samper, C., Perry, P., Camargo, L., Molina, O., y Echeverry, A. (2010). Geometría dinámica: Su contribución a la comprensión de condicionales de la forma si-entonces. *Educación Matemática*, 22(3), 119–142.
- Scheuer, O., Loll, F., Pinkwart, N., y McLaren, B. M. (2010). Computer-supported argumentation: A review of the state of the art. *International Journal of Computer-Supported Collaborative Learning*, 5(1), 43–102. <https://doi.org/10.1007/s11412-009-9080-x>
- Toulmin, S. (2007). *Los usos de la argumentación*. *Journal of Chemical Information and Modeling* (Vol. 53). <https://doi.org/10.1017/CBO9781107415324.004>

Contenidos

El documento está dividido en ocho capítulos. El primer capítulo incluye la introducción del trabajo en donde se presenta la estructura del documento de manera general. En el segundo se presenta la delimitación del problema que se pretende resolver a partir de esta investigación; en particular, se incluyen los intereses que dieron lugar a este trabajo, la justificación y los objetivos general y específicos de la propuesta.

En el tercer capítulo se hace referencia a algunos antecedentes investigativos relacionados con los intereses de nuestra propuesta, específicamente el uso de las TIC en clases de geometría y estudios que relacionan los esquemas de argumentación con el uso de los SGD. En el cuarto capítulo se presentan los referentes teóricos que permitieron fundamentar el diseño y análisis de las tareas, algunos de estos son la teoría de la variación, la actividad demostrativa y los ambientes virtuales de aprendizaje.

En el quinto capítulo se da cuenta de los aspectos metodológicos tenidos en cuenta para desarrollar la propuesta, como lo son la perspectiva investigativa donde se menciona que nuestra investigación es un estudio de casos, el contexto educativo en el que se aplicó el estudio, la descripción de las tareas implementadas, la caracterización del proceso de recolección de información y las categorías definidas

 UNIVERSIDAD PEDAGÓGICA NACIONAL <small>SECTORES DE EDUCACIÓN</small>	FORMATO	
	RESUMEN ANALÍTICO EN EDUCACIÓN - RAE	
Código: FOR020GIB	Versión: 01	
Fecha de Aprobación: 10-10-2012	Página 4 de 6	

para realizar el análisis. En el sexto capítulo se incluyen las transcripciones del trabajo realizado por los estudiantes y su respectivo análisis y clasificación de acuerdo a las categorías definidas. En el séptimo capítulo se realiza un análisis global de los resultados obtenidos por cada estudiante al aplicar las tareas. Finalmente, en el octavo capítulo se presentan las conclusiones de la investigación, haciendo énfasis en el análisis comparativo de los estudiantes, la caracterización de las tareas aplicadas, el logro de los objetivos planteados y el planteamiento de algunas proyecciones investigativas que se podrían derivar de este trabajo.

Metodología

Para el desarrollo de este trabajo de grado se eligió trabajar con tres referentes que permitieron fundamentar nuestra propuesta, (i) Las TIC en clases de geometría, de donde determinamos que el diseño de los applets se realizaría en GeoGebra y serían dispuestos en la plataforma de aprendizaje Moodle del colegio; (ii) la teoría de la variación (Orgill, 2012) y la adaptación a las tareas digitales de geometría con apoyo de los SGD propuestas por Leung (2003, 2008), Leung y Yip-Cheung (2006), en particular de esta teoría tomamos las funciones de la variación para fundamentar el diseño de las tareas y, (iii) la actividad demostrativa, los procesos de conjeturación y argumentación, donde además de elegir que entenderíamos la argumentación como lo hacen Harel y Sowder (1998) y adoptamos los esquemas de argumentación propuestos por ellos y adaptados por Flores (2007).


En este apartado indicamos la perspectiva investigativa del trabajo desarrollado que se corresponde con un estudio de casos llegado a cabo en una institución educativa distrital, así que también fue descrito el contexto educativo en donde fueron implementadas las tareas diseñadas y recolectados los datos con tres estudiantes, claro está, no sin antes haber realizado pruebas piloto.

Presentamos la secuencia de tareas digitales diseñadas y un análisis de cada una de ellas, posteriormente, mencionamos la manera en que elegimos realizar la recolección de los datos y, finalmente, se presentan las categorías con las que se realizó el análisis de los datos recolectados.

Conclusiones

La teoría de variación indica que uno de los objetivos de la educación consiste en ayudar a los alumnos a experimentar fenómenos de manera poderosa (Orgill, 2012). Atendiendo a este planteamiento, el diseño de las tareas buscaba promover el acercamiento a fenómenos geométricos de manera poderosa por parte de los alumnos. En los resultados obtenidos observamos que este objetivo se cumplió en el caso del estudiante que ejecutó variedad de arrastres enmarcados en todas las funciones de variación y con una alta frecuencia, lo cual derivó en la producción de múltiples argumentos, muchos de ellos muy acertados; además, el proceso de resolución de este chico le llevó a descubrir relaciones presentes en las tareas estudiadas y que no habíamos contemplado como posibles respuestas. Esto mismo ocurrió, aunque en menor medida en el caso de una segunda estudiante, a quien la variedad de arrastres la condujo a argumentos correctos o parcialmente correctos en muchos casos.

Encontramos también que las tareas lograron promover variedad de argumentos, los cuales se basan en

 UNIVERSIDAD PEDAGÓGICA NACIONAL <small>SECTORES DE EDUCACIÓN</small>	FORMATO	
	RESUMEN ANALÍTICO EN EDUCACIÓN - RAE	
Código: FOR020GIB	Versión: 01	
Fecha de Aprobación: 10-10-2012	Página 5 de 6	

la ejecución de diferentes modalidades de arrastre y el desarrollo de diferentes funciones de variación. Cuando hubo ausencia de dichas modalidades y funciones, disminuyó la cantidad de argumentos desarrollados por los alumnos, así como su validez e importancia dentro de la resolución de la tarea


Así mismo, si bien las tareas se planearon para el desarrollo de la argumentación individual, vimos que esta se potenció cuando se interactuaba con otra persona, en este caso el docente. En la intervención de los profesores se vieron potenciados los argumentos que producían los alumnos, aunque su participación fue básicamente para cuestionarlos e intentar aclarar sus respuestas para efectos del estudio realizado. Por tal motivo, destacamos que el papel del profesor sigue siendo importante, aunque se propongan tareas digitales como las señaladas en este trabajo.

Otro de los aspectos a destacar de las tareas está relacionado con la herramienta para GeoGebra desarrollada en este trabajo: *Mostrar huella*. En el trabajo realizado por dos de los estudiantes, el uso de esta herramienta fue importante para lograr visualizar el lugar geométrico que cumplía la condición explorada. De hecho, el uso de la herramienta les permitió a los estudiantes ejecutar las modalidades de arrastre de nivel intermedio que evidenciaron mayor dificultad para los alumnos. Adicionalmente, en el caso de dos de los estudiantes observados, la herramienta les permitió construir un lugar geométrico a partir de los puntos que conformaban la trayectoria resultante. Es necesario destacar que esto es algo que no permite desarrollar la opción *Mostrar Rastro* que trae el programa GeoGebra por defecto y que, incluso, el lugar geométrico que provee esta opción se puede borrar fácilmente.

Se contemplaron cuatro objetivos específicos relacionados con (1) el desarrollo de una revisión bibliográfica para fundamentar el diseño y la evaluación de tareas que promovieran la elaboración de conjeturas y la argumentación, (2) el diseño de dichas tareas digitales con GeoGebra, (3) la implementación de las tareas mencionadas con un grupo de estudiantes de grado séptimo y (4) la descripción de las características de las tareas digitales de geometría que promueven los procesos mencionados.

En cuanto al primer objetivo, hemos concluido que las modalidades de arrastre propuestas por Arzarello et al.(2002), las funciones de variación adaptadas a la Educación Matemática por Leung (2003, 2008) y Leung y Yip-Cheung (2006) y los esquemas de argumentación retomados por Flores (2007) del trabajo de Harel y Sowder (1998), resultaron ser una combinación útil para el desarrollo y análisis de las tareas pues se observó que la relación entre las modalidades y las funciones, con base en la cual se diseñaron las tareas, potenció la elaboración de variedad de argumentos en los alumnos. En relación con los objetivos dos y tres, concluimos que el software GeoGebra permitió diseñar tareas, que no correspondían a los problemas abiertos planteados por estos autores, pero que promovieron la variedad de modalidades de arrastre propuesta por ellos y, por ende, que desarrollaran las funciones de variación en los estudiantes seleccionados, dando cabida a la elaboración de los diferentes tipos de argumentos que, muchas veces, se identificaban en las respuestas que ellos ingresaban en el software y quedaban registradas en Moodle.

Para finalizar este apartado, y en relación con el cuarto objetivo, mencionaremos algunas características

 UNIVERSIDAD PEDAGÓGICA NACIONAL <small>Secretaría de Educación Superior</small>	FORMATO	
	RESUMEN ANALÍTICO EN EDUCACIÓN - RAE	
Código: FOR020GIB	Versión: 01	
Fecha de Aprobación: 10-10-2012	Página 6 de 6	

de las tareas digitales de geometría propuestas que fueron claves para promover la elaboración de conjeturas y argumentos. En primer lugar, estas tareas deben darles la posibilidad a los estudiantes de experimentar la variación para descubrir variantes e invariantes y, en consecuencia, tener acceso a los fenómenos geométricos involucrados que los aproximen a los conceptos o propiedades sobre los que se espera que aprendan, lo cual se puede lograr a través de diversas modalidades de arrastre. En segundo lugar, las tareas deben proveer algún grado de retroalimentación al que se debe dirigir la atención de los estudiantes y que les dé respuestas sobre la validez de lo que están conjeturando o argumentando. Particularmente, este segundo aspecto lo vimos potenciado en nuestras tareas cuando los alumnos debían lograr que una figura cumpliera unas ciertas condiciones para avanzar a la siguiente etapa (como en la tarea 3 – etapa 8). Así mismo, las tareas deben permitir el desarrollo de respuestas de tipo abierto, en las que los alumnos puedan expresar sus argumentos, ya que vimos que este tipo de preguntas permiten dar cuenta real de los procesos desarrollados por los estudiantes a diferencia de las de selección múltiple. Y, por último, que el alumno tenga la posibilidad de revisar y corregir sus respuestas en etapas previas, pues esto facilita que establezca relaciones entre las diferentes etapas de las tareas o que cuestione constantemente sus respuestas.

Elaborado por:	Manrique Pérez Viviana Elena; Medina Meléndez Irwin Jamid
Revisado por:	Sua Flórez Camilo

Fecha de elaboración del Resumen:	01	10	2017
--	----	----	------

Contenido

1.	INTRODUCCIÓN.....	1
2.	PLANTEAMIENTO DEL PROBLEMA.....	2
2.1.	Descripción y formulación del problema de investigación	2
2.2.	Justificación	6
2.3.	Objetivos	8
3.	ANTECEDENTES.....	9
3.1.	TIC en la clase de geometría.....	9
3.2.	Esquemas de argumentación y SGD.....	17
4.	MARCO TEÓRICO.....	20
4.1.	Las TIC en la clase de geometría.....	20
4.1.1.	Ambientes virtuales de aprendizaje y sistemas de argumentación.....	20
4.1.2.	Sistemas de Geometría Dinámica y la herramienta arrastre	22
4.2.	La Teoría de la Variación.....	31
4.2.1.	Discernimiento.....	33
4.2.2.	Variación	34
4.2.3.	Simultaneidad	40
4.2.4.	Discernimiento anidado	41
4.2.5.	Tareas digitales	42
4.3.	Actividad demostrativa	42
4.3.1.	Conjeturación.....	44
4.3.2.	Argumentación	45
5.	METODOLOGÍA	47
5.1.	Perspectiva investigativa.....	47

5.2.	Recolección de la información	48
5.3.	Contexto educativo	49
5.4.	Diseño de la secuencia de tareas.....	50
5.4.1.	La herramienta Mostrar Huella.....	53
5.4.2.	Diseño tarea 1. El triángulo rectángulo	54
5.5.	Herramientas teóricas	61
6.	ANÁLISIS.....	71
6.1.	Análisis del trabajo de Luis en la tarea 1: el triángulo rectángulo.....	71
7.	ANÁLISIS DE RESULTADOS	86
7.1.	Análisis por estudiante	86
8.	CONCLUSIONES.....	104
8.1.	Conclusiones relativas a los estudiantes.....	104
8.2.	Conclusiones relativas a las tareas diseñadas	105
8.3.	Conclusiones relativas a los objetivos planteados.....	107
8.4.	Proyecciones investigativas	108
9.	REFERENCIAS BIBLIOGRÁFICAS	110
10.	ANEXOS	1
10.1.	Anexo 1. Continuación sección diseño de la secuencia de tareas	1
10.1.1.	Tarea 2. Ángulo con medida constante	1
10.1.2.	Tarea 3. Equidistancia	7
10.1.3.	Tarea 4. Circunferencia por dos puntos	13
10.1.4.	Tarea 5. Cuadrilátero	18
10.2.	Anexo 2. Continuación sección análisis.....	23
10.3.	Análisis del trabajo de Nicol.....	23

10.3.1.	Tarea 1. El triángulo rectángulo	23
10.3.2.	Tarea 2. Ángulo con medida constante	36
10.3.3.	Tarea 3. Equidistancia	49
10.3.4.	Tarea 4. Circunferencia por dos puntos	63
10.3.5.	Tarea 5. Cuadrilátero	74
10.4.	Análisis del trabajo de Luis.....	78
10.4.1.	Tarea 1. El triángulo rectángulo	78
10.4.2.	Tarea 2. Ángulo con medida constante	78
10.4.3.	Tarea 3. Equidistancia	90
10.4.4.	Tarea 4. Circunferencia por dos puntos	100
10.4.5.	Tarea 5. Cuadrilátero	112
10.5.	Análisis del trabajo de Sara.....	124
10.5.1.	Tarea 1. El triángulo rectángulo	124
10.5.2.	Tarea 2. Ángulo con medida constante	138
10.5.3.	Tarea 3. Equidistancia	156
10.5.4.	Tarea 4. Circunferencia por dos puntos	168

Lista de figuras

Figura 1. Esquemas de argumentación de Harel y Sowder (1998).	17
Figura 2. Primera configuración para resolver el problema de los triángulos “separables”. $AP = PC = CB$	24
Figura 3. Segunda configuración para resolver el problema de los triángulos “separables”. $AP = PC = PB$	24
Figura 4. Jerarquía entre las modalidades de arrastre (Arzarello et al., 2002a).	28
Figura 5. Problema abierto de construcción paso a paso de Baccaglioni-Frank y Mariotti (2010)	30
Figura 6. Ejemplo de arrastre mantenido.	30
Figura 7. Ejemplo de arrastre con traza activa.	30
Figura 8. Construcción del problema propuesto por Lopez-Real y Leung (2006).	31
Figura 9. Ejemplo de arrastre para ajustar.	31
Figura 10. Conceptos de la Teoría de la Variación.	33
Figura 11. Ejemplo de discernimiento.	34
Figura 12. Ejemplo de variación 1.	35
Figura 13. Ejemplo de variación 2.	35
Figura 14. Arrastre guiado para separar.	37
Figura 15. Arrastre en línea para separar.	37
Figura 16. Arrastre vinculado para generalizar.	38
Figura 17. Arrastre para fusionar.	38
Figura 18. Discernimiento anidado.	41
Figura 19. Objeto que según estudiantes no es un triángulo	50
Figura 20. La herramienta Mostrar Huella.	54
Figura 21. Configuración básica etapa 1. Tarea 1.	55
Figura 22. Configuración etapa 3. Tarea 1.	56
Figura 23. Lugares a los que mover el punto B etapa 4. Tarea 1.	58
Figura 24. Configuración etapa 5. Tarea 1.	58
Figura 25. Configuración etapa 6. Tarea 1.	59

Figura 26. Configuración etapa 7. Tarea 1.	60
Figura 27. Arrastre de pantalla realizado por Luis.	72
Figura 28. Arrastre que permite al estudiante relacionar el movimiento ascendente de B con un aumento en la medida del ángulo ABC.	73
Figura 29. Configuración obtenida por Luis en distintos momentos etapa explora de la tarea 1.	77
Figura 30. Configuración obtenida por Luis en distintos momentos durante el desarrollo etapa explora de la tarea 1.....	79
Figura 31. Construcción hecha por el estudiante Luis durante la etapa Concluye de la tarea 1.	81
Figura 32. Configuración elegida por Luis en la etapa aplica de la tarea 1.	82
Figura 33. Configuraciones obtenidas en distintos momentos etapa aplica de la tarea 1.	83
Figura 34. Configuración elegida por Luis durante la etapa aplica de la tarea 1.	83
Figura 35. Configuraciones obtenidas en distintos momentos etapa aplica de la tarea 1. En las que Luis con el apuntador del mouse señala que se forma un ángulo de 90°	84
Figura 36. Configuración propuesta por el profesor en la etapa 7 de la tarea 1.	84
Figura 37. Escalas para las categorías de análisis definidas.	87
Figura 38. Modalidades de arrastre ejecutadas por Nicol en las cinco tareas.	88
Figura 39. Funciones de variación evidenciadas en el trabajo de Nicol en las cinco tareas.....	88
Figura 40. Relación entre las modalidades de arrastre y las funciones de variación en el proceso de Nicol en las cinco tareas.....	90
Figura 41. Esquemas de argumentación desarrollados por Nicol en las cinco tareas.....	91
Figura 42. Relación entre las modalidades de arrastre, las funciones de variación y los esquemas de argumentación en el proceso de Nicol en las cinco tareas.....	92
Figura 43. Modalidades de arrastre ejecutadas por Luis en las cinco tareas.	94
Figura 44. Funciones de variación evidenciadas en el trabajo de Luis en las cinco tareas.....	94
Figura 45. Relación entre las modalidades de arrastre y las funciones de variación en el proceso de Luis en las cinco tareas.....	95
Figura 46. Esquemas de argumentación desarrollados por Luis en las cinco tareas.....	96
Figura 47. Relación entre las modalidades de arrastre, las funciones de variación y los esquemas de argumentación en el proceso de Luis en las cinco tareas.	98

Figura 48. Modalidades de arrastre ejecutadas por Sara en las cuatro primeras tareas.	99
Figura 49. Funciones de variación evidenciadas en el trabajo de Sara en las cuatro primeras tareas.....	99
Figura 50. Relación entre las modalidades de arrastre y las funciones de variación en el proceso de Sara en las cinco tareas.....	100
Figura 51. Esquemas de argumentación desarrollados por Sara en las cuatro primeras tareas.	101
Figura 52. Relación entre las modalidades de arrastre, las funciones de variación y los esquemas de argumentación en el proceso de Sara en las cinco tareas.	102
Figura 53. Configuración básica etapa 1. Tarea 2.	1
Figura 54. Movimiento del punto B manteniendo un ángulo de 60° registrado por la herramienta Mostrar Huella. Etapa 2. Tarea 2.....	2
Figura 55. Configuración etapa 3. Tarea 2.	3
Figura 56. Configuración etapa 4. Tarea 2.	5
Figura 57. Configuración inicial etapa 6. Tarea 2.	6
Figura 58. Posible respuesta etapa 6. Tarea 2.....	6
Figura 59. Configuración básica etapa 1. Tarea 3.	7
Figura 60. Configuración etapa 4. Tarea 3.	8
Figura 61. Configuración etapa 5. Tarea 3.	9
Figura 62. Configuración etapa 7. Tarea 3.	10
Figura 63. Configuración inicial etapa 8. Tarea 3.	11
Figura 64. Configuración etapa 8. Tarea 3.	11
Figura 65. Configuración etapa 9. Tarea 3.	12
Figura 66. Configuraciones etapa 4. Tarea 4.	13
Figura 67. Configuración etapa 3. Tarea 4.	15
Figura 68. Configuración etapa 6. Tarea 4.	16
Figura 69. Retroalimentaciones de la configuración etapa 6. Tarea 4.	17
Figura 70. Básica etapa 1. Tarea 5.	18
Figura 71. Mostrar Huella, etapa 4. Tarea 5.	20
Figura 72. Uso de Mostrar Huella, etapa 4. Tarea 5.	20

Figura 73. Configuración etapa 6. Tarea 5.	21
Figura 74. Arrastre realizado por Nicol en la primera etapa de la Tarea 1.	23
Figura 75. Arrastre realizado por Nicol en la segunda etapa de la Tarea 1, buscando la medida de 90°	24
Figura 76. Arrastre del punto B, realizado por Nicol en la tercera etapa de la Tarea 1.	25
Figura 77. Arrastre de los puntos auxiliares en posiciones cercanas al punto B, realizado por Nicol en la tercera etapa de la Tarea 1.	26
Figura 78. Arrastre de los puntos auxiliares en posiciones cercanas al punto A, realizado por Nicol en la tercera etapa de la Tarea 1.	27
Figura 79. Primera configuración obtenida por Nicol en la tercera etapa de la Tarea 1.....	28
Figura 80. Configuración final obtenida por Nicol en la tercera etapa de la Tarea 1.	28
Figura 81. Arrastre realizado por Nicol al iniciar la cuarta etapa de la Tarea 1.	29
Figura 82. Arrastre final realizado por Nicol en la cuarta etapa de la Tarea 1.	30
Figura 83. Primera exploración de Nicol en la quinta etapa de la Tarea 1.	31
Figura 84. Arrastre realizado por Nicol en la quinta etapa de la Tarea 1.....	32
Figura 85. Arrastre sobre la segunda circunferencia realizado por Nicol en la quinta etapa de la Tarea 1.....	33
Figura 86. Arrastre sobre la primera circunferencia realizado por Nicol en la quinta etapa de la Tarea 1.....	34
Figura 87. Respuesta de Nicol en la sexta etapa de la Tarea 1.....	35
Figura 88. Respuesta de Nicol en la séptima etapa de la Tarea 1.	35
Figura 89. Primer arrastre de Nicol en la primera etapa de la Tarea 2.....	37
Figura 90. Arrastre de Nicol, buscando la medida de 90°, en la primera etapa de la Tarea 2.	37
Figura 91. Primer uso de la herramienta Mostrar Huella por parte de Nicol.	38
Figura 92. Arrastre realizado por Nicol en la etapa 2 de la Tarea 2, al conversar con uno de los profesores.	38
Figura 93. Exploración final de Nicol en la etapa 2 de la Tarea 2.	39
Figura 94. Exploración de Nicol en la etapa 3 de la Tarea 2.	40
Figura 95. Arrastre realizado por Nicol para obtener la medida de 60° en la etapa 4 de la Tarea 2.	40

Figura 96. Respuesta de Nicol en la etapa 5 de la Tarea 2.	41
Figura 97. Arrastres de Nicol en la etapa 6 de la tarea 2.....	42
Figura 98. Arrastre realizado por Nicol, manteniendo la medida de 90°, en la etapa 2 de la Tarea 2.....	43
Figura 99. Huella dejada por el punto B, luego de que Nicol realizó el arrastre manteniendo la medida de 90°, en la etapa 2 de la Tarea 2.....	44
Figura 100. Circunferencia en la huella dejada por el punto B, luego de que Nicol realizó el arrastre en la etapa 2 de la Tarea 2.	44
Figura 101. Primera exploración de Nicol en la etapa 6 de la Tarea 2.	45
Figura 102. Respuesta final de Nicol en la etapa 6 de la Tarea 2.....	46
Figura 103. Arrastres realizados por uno de los profesores al dialogar con Nicol.....	48
Figura 104. Respuesta de Nicol en la primera etapa de la tarea 3.....	50
Figura 105. Construcción realizada por Nicol en la segunda etapa de la Tarea 3.....	51
Figura 106. Respuesta de Nicol en la etapa 3 de la tarea 3.....	52
Figura 107. Arrastres ejecutados por Nicol en la cuarta etapa de la Tarea 3.....	53
Figura 108. Herramienta Mostrar Huella en la cuarta etapa de la Tarea 3.....	53
Figura 109. Cambio de respuesta de Nicol en la etapa 4 de la Tarea 3.	54
Figura 110. Segunda exploración de Nicol en la etapa 4 de la tarea 3.....	55
Figura 111. Respuesta de Nicol en la etapa 6 de la tarea 3.....	56
Figura 112. Exploración de Nicol en la etapa 7 de la tarea 3.	57
Figura 113. Respuesta de Nicol en la etapa 7 de la tarea 3.....	58
Figura 114. Arrastres realizados por Nicol en la etapa 8 de la tarea 3.....	59
Figura 115. Arrastres realizados por Nicol en la etapa 9 de la tarea 3.....	60
Figura 116. Arrastres realizados por Nicol durante la conversación con la docente en la etapa 9 de la tarea 3.	61
Figura 117. Configuración que obtuvo Nicol en la etapa 10 de la tarea 3.....	62
Figura 118. Revisión de Nicol y el profesor sobre la etapa 8 de la tarea 3.....	63
Figura 119. Primera construcción de Nicol en la etapa 1 de la tarea 4.	64
Figura 120. Segunda construcción de Nicol en la etapa 1 de la tarea 4.....	65
Figura 121. Arrastres de Nicol en la etapa 1 de la tarea 4.	65

Figura 122. Diferentes circunferencias construidas por Nicol en la etapa 1 de la tarea 4.	66
Figura 123. Construcción correcta de Nicol en la etapa 1 de la tarea 4.	66
Figura 124. Arrastre del centro de la circunferencia por parte de Nicol en la etapa 1 de la tarea 4.	67
Figura 125. Arrastre por parte de Nicol en la etapa 3 de la tarea 4.	68
Figura 126. Construcciones de Nicol en la etapa 4 de la tarea 4.	69
Figura 127. Circunferencias construidas por Nicol en la etapa 5 de la tarea 4.	71
Figura 128. Acciones de Nicol en la etapa 6 de la tarea 4.	72
Figura 129. Configuración y respuesta de Nicol en la etapa 7 de la tarea 4.	74
Figura 130. Arrastre de Nicol en la etapa 1 de la tarea 5.	75
Figura 131. Arrastre de Nicol en la etapa 3 de la tarea 5.	76
Figura 132. Arrastre de Nicol en la etapa 6 de la tarea 5.	77
Figura 133. Arrastre realizado por Luis durante la primera etapa de la tarea 2.	79
Figura 134. Configuración que Luis llamó círculo relleno.	80
Figura 135. Configuración que el estudiante Luis obtuvo al finalizar la etapa 2 Verifica de la tarea 2.	81
Figura 136. Configuración que el estudiante Luis obtuvo al finalizar la etapa 3 Explora de la tarea 2.	82
Figura 137. Configuración que el estudiante Luis obtuvo al finalizar la etapa 4 Generaliza de la tarea 2.	83
Figura 138. Configuración que el estudiante Luis obtuvo al finalizar la etapa Construye de la tarea 2.	85
Figura 139. Configuración que el estudiante Luis construye. Etapa 6 de la tarea 2.	86
Figura 140. Configuración para comparar la medida de 2 los ángulos con vértices uno en la circunferencia y otro dentro de la misma.	87
Figura 141. Configuración para comparar la medida de 2 los ángulos con vértices uno en la circunferencia y otro fuera de la misma.	87
Figura 142. Construcción realizada por el estudiante con el propósito de construir ángulos de 90° sobre una circunferencia.	88

Figura 143. Construcción y arrastres realizados por el estudiante Luis durante el desarrollo de la etapa Construye de la tarea 3.	91
Figura 144. Secuencia de arrastre realizada por estudiante 1 durante la etapa Construye de la tarea 3.	91
Figura 145. Configuración obtenida por el estudiante 1 al desarrollar la etapa Anticipa de la tarea 3.	93
Figura 146. Secuencia de arrastre realizada por estudiante Luis durante la etapa Verifica de la tarea 3.	94
Figura 147. Configuración obtenida por el estudiante Luis al desarrollar la etapa Verifica de la tarea 3.	94
Figura 148. Configuración obtenida por el estudiante 1 al desarrollar la etapa Construye de la tarea 3.	95
Figura 149. Configuración obtenida por el estudiante Luis al desarrollar la etapa Concluye de la tarea 3.	96
Figura 150. Arrastres y desarrollo de la etapa Información de la tarea 3.	97
Figura 151. Arrastres realizados por estudiante Luis al desarrollar la etapa Explora de la tarea 3.	98
Figura 152. Arrastres realizados por estudiante Luis al desarrollar la etapa Explora de la tarea 3.	98
Figura 153. Arrastres y desarrollo de la etapa Explora de la tarea 3.	99
Figura 154. Construcción y arrastres del estudiante Luis durante la etapa 1 Construye de la tarea 4.	101
Figura 155. Configuración final del estudiante Luis etapa Construye tarea 4.	101
Figura 156. Primer intento de construcción realizado por el estudiante Luis etapa Anticipa tarea 4.	102
Figura 157. Segundo intento de construcción realizado por el estudiante Luis etapa Anticipa tarea 4.	103
Figura 158. Segundo intento de construcción realizada por el estudiante Luis etapa Anticipa tarea 4.	104
Figura 159. Configuración final del estudiante Luis etapa Anticipa tarea 4.	104

Figura 160. Configuración y arrastre realizado por el estudiante para el desarrollo de la etapa Verifica de la tarea 4.....	105
Figura 161. Exploración del menú de herramientas y elección de herramienta Medio o Centro para hallar el centro de una circunferencia.	106
Figura 162. Configuración final del estudiante Luis tras hallar los centros de las circunferencias. Etapa Explora tarea 4.	107
Figura 163. Construcción y arrastre realizado por el estudiante Luis para el desarrollo de la etapa Generaliza de la tarea 4.	108
Figura 164. Construcción y arrastre realizado por el estudiante Luis para el desarrollo de la etapa Generaliza de la tarea 4.	110
Figura 165. Arrastre de pantalla realizado por Luis durante el desarrollo de la etapa Anticipa tarea 5.	113
Figura 166. Construcción por Luis de la circunferencia que contiene los puntos de un cuadrilátero en el que las mediatrices se intersecan durante el desarrollo de la etapa Generaliza tarea 5.	115
Figura 167. Arrastre que Luis hace de los vértices de un cuadrilátero para que las mediatrices se intersequen durante el desarrollo de la etapa Generaliza tarea 5.....	116
Figura 168. Construcción blanda y arrastres de Luis durante el desarrollo de la etapa Aplica tarea 5.	118
Figura 169. Construcción y arrastres de Luis durante el desarrollo de la etapa Aplica tarea 5.	118
Figura 170. Construcción y arrastres de Luis durante el desarrollo de la etapa Aplica tarea 5.	120
Figura 171. Construcción y arrastres de Luis durante el desarrollo de la etapa Aplica tarea 5.	122
Figura 172. Construcción y arrastres de Luis durante el desarrollo de la etapa Aplica tarea 5.	123
Figura 173. Configuración obtenida por Sara en distintos momentos etapa verifica de la tarea 1.	125
Figura 174. Arrastres erráticos realizados por Sara en etapa verifica de la tarea 1.....	126
Figura 175. Arrastre Para Ajustar realizado por Sara, etapa verifica de la tarea 1.....	126
Figura 176. Arrastre Para Ajustar realizado por Sara, etapa explora de la tarea 1.....	128
Figura 177. Arrastre Para Ajustar realizado por Sara, etapa explora de la tarea 1.....	129
Figura 178. Exploración realizada por Sara, etapa explora de la tarea 1.	130

Figura 179. Icono de la Herramienta Arco Tres Puntos y su uso, etapa explora de la tarea 1.	131
Figura 180. Configuración etapa 4, de la tarea 1.	132
Figura 181. Arrastres hechos por Sara durante la etapa 4, de la tarea 1.	133
Figura 182. Arrastres realizados por Sara etapa 5, de la tarea 1.	135
Figura 183. Configuraciones obtenidas en distintos momentos etapa aplica de la tarea 1.	138
Figura 184. Arrastres erráticos de Sara en la primera etapa de la Tarea 2.	139
Figura 185. Arrastres para ajustar de Sara en la primera etapa de la Tarea 2.	140
Figura 186. Arrastre guiado de Sara, en la segunda etapa de la Tarea 2.	142
Figura 187. Arrastres de Sara en la segunda etapa de la Tarea 2.	143
Figura 188. Uso de las teclas de dirección y Shift para realizar el arrastre.	144
Figura 189. Segunda visualización del recorrido con la herramienta Mostrar Huella ejecutada por Sara.	144
Figura 190. Diferentes usos de la Herramienta huella ejecutados por Sara.	146
Figura 191. Ajuste de la profesora a la escala de la Vista gráfica en la tarea 2 de Sara.	147
Figura 192. Tercera etapa de la tarea 2 resuelta por Sara.	149
Figura 193. Arrastres ejecutados por Sara en la etapa 4 de la tarea 2.	151
Figura 194. Quinta etapa de la tarea 2 en el proceso de resolución de Sara.	152
Figura 195. Arrastres de Sara en la quinta etapa de la tarea 2.	152
Figura 196. Exploración de Sara en la sexta etapa de la tarea 2.	154
Figura 197. Arrastres de Sara en la sexta etapa de la tarea 2.	155
Figura 198. Respuesta final de Sara en la sexta etapa de la tarea 2.	156
Figura 199. Arrastres de Sara en la primera etapa de la Tarea 3.	157
Figura 200. Construcción de un ángulo por parte de Sara en la etapa 1 de la Tarea 3.	158
Figura 201. Arrastres iniciales ejecutados por Sara en la etapa cuatro de la tarea 3.	160
Figura 202. Segunda ejecución de arrastres por parte de Sara en la etapa cuatro de la tarea 3.	161
Figura 203. Uso de la herramienta Mostrar Huella por parte de Sara en las etapas cuatro y cinco de la tarea 3.	162
Figura 204. Arrastre ejecutado por Sara en la etapa seis de la tarea 3.	162
Figura 205. Arrastre ejecutado por Sara en la etapa siete de la tarea 3.	164
Figura 206. Etapa 8 de la tarea 3 en el trabajo de Sara.	166

Figura 207. Arrastres de Sara en la etapa 8 de la tarea 3.	167
Figura 208. Arrastres de Sara en la etapa 9 de la tarea 3.	167
Figura 209. Exploración de Sara en distintos momentos etapa 1, tarea 4.	169
Figura 210. Construcciones hechas por Sara en la etapa 1 de la tarea 4.	170
Figura 211. Intentos de construcciones realizados por Sara, etapa 2 de la tarea 4.	171
Figura 212. Intentos de construcciones realizados por Sara, etapa 2 de la tarea 4.	172
Figura 213. Construcción de otra circunferencia que contenga los puntos A y B, etapa 2 de la tarea 4.	173
Figura 214. Construcción de otra circunferencia que contenga los puntos A y B, etapa 2 de la tarea 4.	174
Figura 215. Configuración inicial etapa 3 de la tarea 4.	175
Figura 216. Arrastres realizados por Sara en la etapa 3 de la tarea 4.	175
Figura 217. Uso que dio Sara a la herramienta Circunferencia Tres Puntos durante la etapa 4 de la tarea 4.	177
Figura 218. Arrastres realizados por Sara etapa 5, de la tarea 4.	178
Figura 219. Estrategia seguida por Sara para ubicar el centro de una circunferencia, etapa 4 de la tarea 4.	181
Figura 220. Estrategia seguida por Sara para ubicar el centro de una circunferencia, etapa 4 de la tarea 4.	182
Figura 221. Construcción para verificar que los centros de las circunferencias se encuentran en una recta, etapa 5 de la tarea 4.	183
Figura 222. Configuraciones obtenidas por Sara, etapa 6 de la tarea 4.	185
Figura 223. Configuraciones obtenidas por Sara, etapa 6 de la tarea 4.	186
Figura 224. Configuraciones obtenidas por Sara, etapa 6 de la tarea 4.	187
Figura 225. Configuración obtenida por Sara, etapa 6 tarea 4.	187
Figura 226. Configuración obtenida por Sara, etapa 6 tarea 4.	188
Figura 227. Configuraciones obtenidas por Sara, etapa 7 de la tarea 4.	191
Figura 228. Configuraciones obtenidas por Sara, etapa 7 de la tarea 4.	191
Figura 229. Configuraciones obtenidas por Sara, etapa 7 de la tarea 4.	192
Figura 230. Configuraciones obtenidas por Sara, etapa 7 de la tarea 4.	193

Figura 231. Configuraciones obtenidas por Sara, etapa 7 de la tarea 4.	194
Figura 232. Configuraciones obtenidas por Sara, etapa 7 de la tarea 4.	195

Lista de tablas

Tabla 1. Tipos de tareas digitales observadas en la revisión.	3
Tabla 2. Distribución de las tareas digitales en las tipologías definidas.	4
Tabla 3. Ejemplos de las modalidades de arrastre propuestas por Arzarello et al. (2002).	26
Tabla 4. Definiciones de los patrones o funciones de la variación.	39
Tabla 5. Categorías relativas a las modalidades de arrastre.....	61
Tabla 6. Categorías relativas a las funciones de la variación	66
Tabla 7. Categorías relativas a los esquemas de argumentación.....	68

1. INTRODUCCIÓN

El presente documento es el resultado de un trabajo de grado desarrollado en el programa de Maestría en Docencia de la Matemática de la Universidad Pedagógica Nacional. El trabajo tiene origen en el análisis de las tareas digitales que, como resultado del auge actual de la tecnología, han venido desarrollando las editoriales colombianas y el Ministerio de Educación Nacional para el área de matemáticas y, en particular, para geometría. En el análisis mencionado se evidenció que las tareas encontradas carecían de elementos que promovieran la argumentación y la conjeturación en geometría, por tal motivo se proyectó como objetivo principal de nuestro trabajo determinar qué características debían tener las tareas digitales de geometría para favorecer estos procesos. Para tal efecto, se desarrollaron, implementaron y analizaron un conjunto de tareas digitales de geometría con un grupo de estudiantes de grado séptimo. Nuestra propuesta se desarrolló asociada al grupo de investigación de Aprendizaje y Enseñanza de la Geometría $\mathcal{A}\cdot\mathcal{G}$ de la Universidad Pedagógica Nacional en la línea de Argumentación y Prueba en Geometría.

El documento está dividido en ocho capítulos, siendo esta introducción el primero. En el segundo capítulo se presenta la delimitación del problema que se pretende resolver a partir de esta investigación; en particular, se incluyen los intereses que dieron lugar a este trabajo, la justificación y los objetivos general y específicos de la propuesta. En el tercer capítulo se hace referencia a algunos antecedentes investigativos relacionados con los intereses de nuestra propuesta. En el cuarto capítulo se presentan los referentes teóricos que permitieron fundamentar el diseño y análisis de las tareas. En el quinto capítulo se da cuenta de los aspectos metodológicos que se tuvieron en cuenta para desarrollar la propuesta, como lo son la perspectiva investigativa, el contexto educativo en el que se aplicó el estudio, la descripción de las tareas implementadas, la caracterización del proceso de recolección de información y las categorías definidas para realizar el análisis. En el sexto capítulo se incluyen las transcripciones del trabajo realizado por los estudiantes y su respectivo análisis. En el séptimo capítulo se realiza un análisis global de los resultados obtenidos por cada estudiante al aplicar las tareas. En el octavo capítulo se presentan las conclusiones de la investigación, haciendo énfasis en el análisis comparativo de los estudiantes, la caracterización de las tareas aplicadas, el logro de los

objetivos planteados y el planteamiento de algunas proyecciones investigativas que se podrían derivar de este trabajo.

2. PLANTEAMIENTO DEL PROBLEMA

En este capítulo se presentan los aspectos que dieron lugar al planteamiento del problema de investigación de la presente propuesta, estos son: la descripción y formulación del problema que se pretende abordar en este trabajo; la justificación, en la que se describe la importancia de desarrollar esta propuesta; y, por último, el objetivo general y los objetivos específicos propuestos para desarrollar el trabajo.

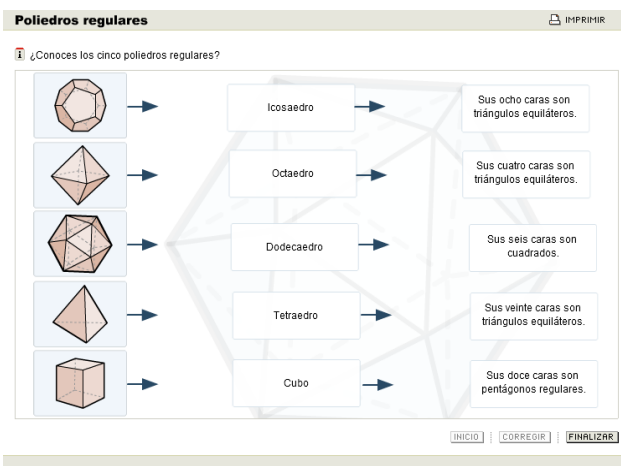
2.1. Descripción y formulación del problema de investigación

La presente propuesta tiene origen en algunas inquietudes que han surgido en nuestros ámbitos laborales, el sector editorial y el contexto escolar, relacionadas con la transición del libro de texto en papel al libro de texto digital y con las tareas que promueven la formulación de conjeturas y la argumentación en geometría, respectivamente.

En relación con el libro de texto, cabe señalar que, aunque no existe uniformidad de opiniones respecto a su potencialidad para la educación (González, 2009), durante mucho tiempo este ha sido un recurso presente en las instituciones educativas. En la actualidad, como consecuencia del auge de la tecnología, aparece el libro de texto digital que, según diversos estudios, podría reemplazar en los próximos años al libro de texto tradicional en papel, de manera casi definitiva (Romero, 2011). En particular, en Colombia se han desarrollado recientemente algunas propuestas de material digital por parte de las editoriales y del Ministerio de Educación Nacional [MEN]. Sin embargo, al realizar una revisión de algunas de estas propuestas, encontramos que estas no aprovechan la interactividad y el dinamismo de los recursos digitales para proponer tareas que promuevan diferentes procesos en los estudiantes, específicamente, el desarrollo de conjeturas y la argumentación. En su lugar, en general resultan ser una reproducción de las tareas que se presentan en el libro de texto en papel.

La revisión señalada se realizó sobre 36 tareas digitales¹ de geometría para grado séptimo, desarrolladas por las editoriales Santillana y Norma en las series *Los Caminos del Saber* y *Avanza Matemáticas*, respectivamente, y por el Ministerio de Educación Nacional en el proyecto *Contenidos para aprender*. A partir de dicha revisión, clasificamos las tareas en las tres tipologías que se muestran en la Tabla 1. En cada caso incluimos un ejemplo de las tareas revisadas, que ilustra lo que hemos observado. En la Tabla 2 se presenta la distribución de las tareas revisadas de acuerdo a las tipologías definidas.

Tabla 1. Tipos de tareas digitales observadas en la revisión.

Tipo de tarea digital	Ejemplo
<p>Relacionar: Tareas en las que se le pide al estudiante que relacione diferentes elementos bajo algún criterio específico. Por ejemplo, nombres de objetos geométricos con su representación y su definición.</p>	<p>En esta tarea del libro <i>Los Caminos del Saber, Matemáticas 7</i>, el estudiante debe relacionar cada poliedro con su nombre y su descripción correcta.</p>  <p>La tarea requiere recordar el nombre del poliedro e identificar sus propiedades. Sin embargo, al estudiante no le es posible realizar una exploración sobre las representaciones u otra acción que le facilite verificar las propiedades de los objetos estudiados. Por lo tanto, la tarea no promueve acciones que le permitan al estudiante convencerse de que su respuesta es o no verdadera.</p>
<p>Completar: Tareas en las que el alumno debe escribir la respuesta a una pregunta o el valor faltante</p>	<p>En esta tarea del proyecto <i>Contenidos para aprender</i>, el estudiante debe completar los espacios con las abreviaturas o medidas equivalentes que se solicitan.</p> <p>La tarea exige recordar la abreviatura de las unidades de medida y hacer</p>

¹ Como se menciona en el apartado 4.2.5 del Marco teórico del presente trabajo, una tarea digital es aquella que se propone haciendo uso de algún tipo de material digital. En el caso de las tareas revisadas, se trata de tareas que se presentan en un “libromedia” en DVD o en una plataforma educativa a la que se accede a través de Internet y que tienen las características que se señalan en la Tabla 1.

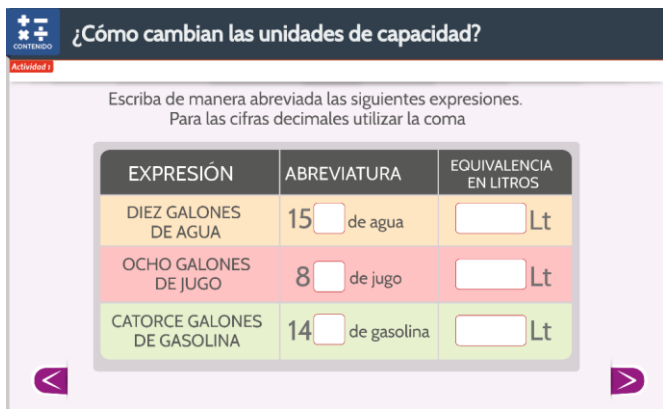
<p>en una igualdad.</p>	<p>un cálculo (en lápiz y papel o con calculadora) para hallar la equivalencia en litros. Luego, registrar las respuestas obtenidas.</p>  <p>El estudiante recibe una señal que le indica si sus respuestas son correctas o incorrectas. Sin embargo, la tarea no proporciona retroalimentación que le ayude a desarrollar un procedimiento para obtener las respuestas y tampoco promueve alguna acción de justificación de las mismas.</p>
<p>Seleccionar: Tareas en las que el estudiante debe seleccionar la respuesta correcta entre varias posibles.</p>	<p>En esta tarea del libro <i>Avanza Matemáticas 7</i>, el estudiante debe elegir la opción correcta para cada enunciado, entre las posibles respuestas, las cuales son verdadero o falso.</p> <p>Semejanza Determina si cada afirmación es verdadera o falsa.</p> <p>Dos polígonos con diferente número de vértices no pueden ser semejantes.</p> <p><input checked="" type="radio"/> Verdadero</p> <p><input type="radio"/> Falso</p> <p>Para que dos polígonos sean semejantes deben estar en la misma posición.</p> <p><input type="radio"/> Verdadero</p> <p><input checked="" type="radio"/> Falso</p> <p>La preimagen de una rotación es semejante con su imagen.</p> <p><input checked="" type="radio"/> Verdadero</p> <p><input type="radio"/> Falso</p> <p style="text-align: right;">Siguiente ></p> <p>Aunque el estudiante debe tomar una postura respecto al valor de verdad de las proposiciones, la tarea no promueve acciones que le permitan fundamentar su postura. Los enunciados no están acompañados de representaciones que puedan ser manipuladas o enriquecidas por el estudiante para explorar sus ideas. En ese sentido, el estudiante podría responder al azar y no construir razones para justificar sus respuestas.</p>

Tabla 2. Distribución de las tareas digitales en las tipologías definidas.

Tipo de tarea	Relacionar	Completar	Seleccionar
---------------	------------	-----------	-------------

Cantidad de tareas	8	20	8
--------------------	---	----	---

Como se puede ver, las tareas digitales encontradas aprovechan de manera poco eficaz las características propias del material digital, para promover la experiencia matemática del estudiante y apoyar el desarrollo de conjeturas y la argumentación en geometría. De hecho, las tareas no requieren que los estudiantes realicen algún proceso distinto a los que se pueden hacer con lápiz y papel y no permiten que se identifiquen propiedades o relaciones en las representaciones de los objetos geométricos. En conclusión, en ninguno de los tres casos, lo que el material digital le proporciona al estudiante favorece que él haga una exploración para tener evidencias que fundamenten su respuesta. No obstante, lo que sí se logra con estas tareas es una respuesta inmediata respecto a la validez o no de las respuestas.

En relación con la argumentación y el desarrollo de conjeturas, nos enfocamos en estos procesos porque en nuestra experiencia como docentes hemos notado que los estudiantes no están acostumbrados a construir las razones que les ayudan a convencerse de sus respuestas. En su lugar, los alumnos tienden a dar respuestas sin estar seguros de las mismas. En consecuencia, volviendo a las tareas anteriores, consideramos que estas no le proveen al estudiante experiencias o recursos que le permitan formular hipótesis y auto convencerse de sus ideas o descartarlas. En ese sentido, no promueven el desarrollo de conjeturas y la argumentación². Estas situaciones abren posibilidades para la actividad de investigación en Educación Matemática, específicamente para el diseño de tareas digitales que permitan el desarrollo de estos procesos en geometría.

Desde nuestro punto de vista, el material digital consultado debería brindar un entorno para la exploración que permita hacer explícito lo que varía y lo que se mantiene invariante para reconocer propiedades. De esta forma sería posible promover la experimentación y, así mismo, la conjeturación y la argumentación a través de este material. Esto coincide con lo planteado por autores como Leung (2003), quien señala que existe una dificultad en el aprendizaje de las matemáticas, ya que los alumnos deben realizar una especie de “animación mental” de las

² Para realizar esta afirmación nos basamos en las definiciones de conjeturación y argumentación planteadas en el marco teórico del presente trabajo (apartado 4.3.). La conjeturación es el proceso de la Actividad Demostrativa que tiene como finalidad la elaboración de un enunciado general o conjetura, mientras que la argumentación es el conjunto de razones que conducen al auto convencimiento y la persuasión individual respecto a la validación de una conjetura.

representaciones de los objetos matemáticos para comprenderlos; a esta actividad el autor la denomina dinamismo implícito y requiere de cierta experticia que los aprendices no tienen. El objetivo de dicha animación es evidenciar variantes e invariantes, para identificar propiedades. Sin embargo, este suele ser un proceso de pensamiento sin apoyo en representaciones físicas y que, en consecuencia, no permite la experimentación concreta.

De acuerdo con el problema descrito, planteamos la siguiente pregunta de investigación:

¿Qué características de las tareas digitales de geometría contribuyen a promover la conjeturación y la argumentación en los estudiantes?

Suponemos que, tal y como lo menciona Leung (2003), estas tareas deben proveer una realidad física en la que se puedan explorar los objetos geométricos, mediante la interactividad y el dinamismo, para favorecer la conjeturación y la argumentación gracias a la exploración y la visualización que permite identificar qué aspectos críticos varían y cuáles se mantienen invariantes.

2.2. Justificación

Realizar una propuesta de tareas digitales que promuevan el desarrollo de conjeturas y la argumentación en geometría es importante porque, como se señala en los Estándares en Matemáticas del MEN (2006), uno de los procesos generales de la actividad matemática, que explicitan lo que significa ser matemáticamente competente, es “usar la argumentación, la prueba y la refutación, el ejemplo y el contraejemplo, como medios de validar y rechazar conjeturas, y avanzar en el camino hacia la demostración” (MEN, 2006, p. 51). Así mismo, porque la educación matemática debe contribuir a la formación de valores democráticos, lo cual se puede lograr con actividades que impliquen tomar decisiones informadas, proporcionar justificaciones razonables o refutar las aparentes y falaces.

Adicionalmente, nuestra propuesta coincide con los intereses de algunas investigaciones desarrolladas por la comunidad de educadores matemáticos en las últimas décadas, en las cuales se han estudiado los procesos de conjeturación y argumentación, sus vínculos con la demostración en la clase de matemáticas y el papel de los medios digitales para promover estos procesos. Algunas de estas investigaciones han revelado que la argumentación constituye un

punto entre los aspectos empíricos y teóricos de las matemáticas que, de acuerdo con Mariotti, (2006), reflejan la naturaleza dual de esta ciencia. Otros han señalado que los recursos tecnológicos, especialmente aquellos en los que se pueden construir representaciones dinámicas, permiten la elaboración de conjeturas y argumentos. Tal es el caso de Hanna (citada por Mariotti, 2006), quien señala que, por sus capacidades gráficas, los programas de geometría dinámica tienen el potencial para estimular tanto la exploración como la demostración, lo que hace más fácil proponer y probar conjeturas. De manera más específica, estas conjeturas “pueden surgir de la coordinación entre las propiedades que se utilizan en la construcción y las propiedades destacadas como invariantes por el modo arrastre” (Mariotti, 2006, p. 191). En relación con el modo arrastre, Mariotti (2006) destaca las diferentes modalidades de uso de esta herramienta (definidas por autores como Arzarello y Olivero) que pueden interpretarse como argumentos instrumentados de apoyo a una conjetura producida en la exploración y que se pueden comparar con los argumentos formales que se utilizan en la constitución de una demostración matemática. De acuerdo con esta autora, esta hipótesis provee nuevas direcciones en la investigación, dentro de las cuales se puede estudiar si es posible fomentar la continuidad cognitiva³ en el desempeño de los estudiantes, cuando el profesor les suministra los modos de arrastre como mediadores. Consideramos que el presente trabajo puede aportar a esta dirección investigativa, al analizar la potencialidad que tienen dichas modalidades de arrastre en la producción de conjeturas por parte de los alumnos y en los argumentos que ellos construyen para apoyar estas conjeturas.

Por último, es importante señalar que muchos de los trabajos que se han realizado alrededor de los procesos de conjeturación y argumentación en geometría hacen referencia a estos como resultado de la interacción de un grupo de estudiantes y el docente. En contraposición a esta perspectiva sociocultural y por nuestro interés en elaborar material digital que sea una alternativa al libro de texto, nuestra propuesta pretende analizar estos procesos desde la actividad individual del estudiante que trabaja con las tareas digitales. En ese sentido, entendemos la argumentación como el conjunto de justificaciones que conducen al auto convencimiento y la persuasión individual

³ La continuidad cognitiva hace referencia a la correspondencia que se puede presentar entre los argumentos que se elaboran para rechazar o apoyar una conjetura y los que se organizan en una cadena lógica para su demostración. A esta correspondencia también se le denomina *Unidad Cognitiva* (Boero, Garuti y Mariotti, citados por Mariotti, 2006).

respecto a la validación de una conjetura, lo cual coincide con una de las funciones que le otorgan Harel y Sowder (1998) a este proceso. De esta forma, se busca dar respuesta a lo que plantean C. Flores, Gómez y Flores (2010), quienes presentan los resultados de una investigación en la que se pretendía determinar qué esquemas de argumentación se usan al resolver actividades en un ambiente de geometría dinámica y, dado que realizan un trabajo desde lo colectivo, plantean la posibilidad de que en futuras investigaciones se estudien dichos esquemas desde el trabajo individual, en un estudio de casos.

2.3. **Objetivos**

De acuerdo con lo expuesto, la propuesta a desarrollar tiene los siguientes objetivos:

Objetivo general

- Sugerir un conjunto de características que podrían considerarse en el diseño de tareas digitales de geometría para grado séptimo para promover el desarrollo de conjeturas y la argumentación.

Objetivos específicos

1. Realizar una revisión bibliográfica para fundamentar el diseño y la evaluación de tareas digitales, en términos de promover el desarrollo de conjeturas y la argumentación.
2. Diseñar un conjunto de tareas digitales de geometría para grado séptimo, haciendo uso del software Geogebra, de manera que en ellas se use el dinamismo y la interactividad para promover el desarrollo de conjeturas y la argumentación.
3. Implementar las tareas digitales con un grupo de estudiantes de grado séptimo, y evaluar si promueven el desarrollo de conjeturas y la argumentación.
4. Establecer las características de las tareas digitales de geometría aplicadas a los estudiantes de grado séptimo que promovieron el desarrollo de conjeturas y la argumentación.

3. ANTECEDENTES

En este apartado se presenta una breve descripción de algunos trabajos previos que se relacionan con nuestra investigación y que nos aportan elementos conceptuales y herramientas metodológicas para el desarrollo de la misma. Para tal efecto, hemos organizado estos trabajos en dos grupos. En el primer grupo, se describen aquellos trabajos que están relacionados con el uso de las TIC en la clase de geometría, específicamente, los Sistemas de Geometría Dinámica (SGD) y los Ambientes Virtuales de Aprendizaje (AVA); destacando, en el caso de los SGD, el uso de la herramienta arrastre y su potencialidad para promover la conjeturación y la argumentación. En el segundo grupo, se hace referencia a los trabajos en los que se ha estudiado la argumentación en el contexto de los SGD, particularmente, tomando como referencia los esquemas de argumentación definidos por Harel y Sowder (1998).

3.1. TIC en la clase de geometría

Desde hace unas décadas, el avance de la tecnología ha permeado la Educación Matemática, en particular, la clase de geometría. A finales de la década de los 80, se presentó un gran interés en los aspectos pedagógicos inmersos en el uso de software para la enseñanza de las matemáticas. Esta situación demandó que el software fuera de fácil uso, de manera que permitiera centrarse en el contenido, en lugar de la tecnología misma. Como respuesta a este interés, se desarrolló el primer Sistema de Geometría Dinámica, *Cabri-Géomètre* y el sistema de algebra computacional, *Derive* (Preiner, citado por Garcia, 2011). Con el paso de los años, estos software han evolucionado y, adicionalmente, se han desarrollado otros tipos de software que abarcan diferentes aspectos del contenido matemático.

Garcia (2011) clasifica las herramientas tecnológicas utilizadas para la Educación Matemática en: sistema de geometría dinámica (SGD), sistema algebraico computacional (CAS), hojas de cálculo y software de matemática dinámica (SMD). Un SGD permite crear construcciones geométricas y modificarlas de manera dinámica, de manera que las propiedades y las relaciones entre los objetos de la construcción se mantengan. Un CAS posibilita transformar expresiones simbólicas del algebra, la geometría analítica y el cálculo y realizar representaciones gráficas a partir de ecuaciones. Una hoja de cálculo permite organizar textos alfanuméricos o valores

numéricos en tablas o usar fórmulas para calcular valores. Por último, un SMD es el que combina algunas características de los SGD, los CAS y las hojas de cálculo. En ese sentido, GeoGebra puede ser considerado un SMD o un SGD. En el presente trabajo, nos centramos en este programa desde su perspectiva como SGD, ya que hacemos énfasis en su componente de geometría dinámica.

Diversos trabajos han analizado los efectos de la implementación de los SGD en la clase de geometría. Como se verá a continuación, algunos de estos trabajos han destacado las posibilidades que ofrecen estos sistemas para promover la conjeturación y la argumentación, procesos en los que estamos interesados.

Baccaglioni-Frank y Mariotti (2010) se interesan por investigar a fondo los procesos cognitivos que ocurren durante la fase de generación de conjeturas en la solución de problemas abiertos en un SGD. De acuerdo con estas autoras, tales procesos cognitivos están asociados con usos específicos de la herramienta arrastre, es decir, con las diferentes modalidades de arrastre planteadas inicialmente por Arzarello y otros autores (ver Arzarello, Olivero, Paola y Robutti, 2002; Olivero, 2002 para mayor información). El marco teórico considerado para esta investigación comprendió tres conceptos fundamentales: lo que es un Sistema de Geometría Dinámica (SGD), la noción de problema abierto en un SGD y la herramienta arrastre en un SGD. En relación con estos conceptos es importante señalar que, para estas autoras, los problemas abiertos son aquellos en los que se da una declaración corta, que no sugiere la solución o ningún método de solución. En particular, en este trabajo se plantean problemas abiertos que se caracterizan por la descripción de una secuencia de pasos de construcción que deben seguir los estudiantes, produciendo una figura dinámica, seguida de una pregunta abierta en la que se pide explícitamente una conjetura; a este tipo de problemas las autoras los denominan problemas de construcción paso a paso. En lo que respecta a la herramienta arrastre, se destacan las posibilidades que ofrece esta herramienta para hacer evidente la dependencia en el movimiento y transformarla en una dependencia lógica clave en la construcción de conjeturas. Específicamente, a partir de la literatura revisada (Arzarello, Olivero, Paola y Robutti; Mariotti; Leung; Lopez-Real y Leung; Olivero; Rabardel, citados por Baccaglioni-Frank y Mariotti, 2010), las autoras definen las siguientes modalidades adicionales de arrastre: arrastre

errático, arrastre mantenido, arrastre con traza activada y arrastre test⁴. Tomando como base estas modalidades, las autoras plantean su modelo de generación de conjeturas, al que denominan modelo de conjeturación MD⁵ o *modelo de conjeturación del arrastre mantenido*. El estudio realizado por las autoras comprendió varias fases. En la primera fase, concibieron el modelo de generación de conjeturas, a partir de literatura que revisaron previamente y de los datos preliminares recolectados en un estudio piloto. En la segunda fase, recopilaron los datos de tres grupos de estudiantes entre los 16 y 17 años, de diferentes escuelas secundarias italianas, en la resolución de problemas de construcción paso a paso con Cabri y pusieron a prueba el modelo como una herramienta de análisis. En este punto nos parece importante destacar que, antes de que los estudiantes se involucraran en los problemas mencionados, las autoras realizaron un trabajo para familiarizar a los participantes en la construcción paso a paso en Cabri, en las dependencias que se derivan de dichas construcciones y en las diferentes modalidades de arrastre que se pueden usar para explorarlas. Rescatamos este último hecho porque nos sugiere que el uso de estas modalidades no es espontáneo, sino que requiere de la guía del docente y del diseño de tareas que lo promuevan.

Como resultado del trabajo realizado con los estudiantes, las autoras concluyen que el modelo de conjeturación MD parece describir y predecir adecuadamente el comportamiento de los estudiantes en la resolución de problemas abiertos de construcción paso a paso, en los casos en que se han apropiado de las modalidades de arrastre. Adicionalmente, de este trabajo se desprenden dos conceptos: la noción de *camino* (path) y la concepción de *argumento instrumentado* (instrumented argument):

- El *camino* hace referencia al lugar que debe recorrer un punto al ser arrastrado para que suceda un invariante inducido intencionalmente o propiedad. Este camino evoluciona a lo largo de la exploración del problema. En un principio, el estudiante debe identificar que es posible arrastrar el punto para mantener la propiedad; luego, se centra en la búsqueda de una descripción geométrica de la trayectoria; a continuación, construye dicha trayectoria como

⁴ Las modalidades de arrastre corresponden a las diferentes formas en las que un estudiante puede usar esta herramienta, con diferentes propósitos, durante la resolución de un problema. Una profundización de estas modalidades se encuentra en el Marco teórico del presente trabajo, en el apartado 4.1.2.

⁵ Las siglas MD hacen referencia a la modalidad de arrastre que plantean las autoras: arrastre mantenido (maintaining dragging).

una figura geométrica en el software y usa el arrastre sobre esta figura (moviendo el punto de manera aproximada sobre la figura o vinculándolo a ella) para probar la conjetura.

- Un *argumento instrumentado* es aquel en el que el garante es producido a través del uso de algunas herramientas propias de los SGD, por ejemplo, la herramienta arrastre. Así como cualquier argumento, en este tipo de argumentos el objetivo es convencerse a sí mismo o a otros, cambiando su estado epistémico, pero en este caso la persuasión está basada en las herramientas del software. Un ejemplo de argumento instrumentado es el que se observa cuando un estudiante construye la figura que parece representar el camino que recorre un punto para que una configuración cumpla una determinada propiedad. El argumento instrumentado consiste en demostrar que cuando el punto pertenece a dicha figura, la configuración mantiene la propiedad descubierta a través del arrastre.

Estos conceptos resultan importantes para nuestros intereses dado que nos proporcionan ideas en relación con el proceso que podría seguir un alumno para producir conjeturas relacionadas con el lugar geométrico que componen los puntos que cumplen una determinada propiedad. El lugar geométrico sería concebido como un “camino”. Adicionalmente, nos indica el tipo de argumentos que podrían surgir en actividades que estén orientadas al estudio de estos “caminos”.

Leung, Baccaglini-Frank y Mariotti (2013) consideran que identificar invariantes es una actividad importante en el pensamiento matemático. Sin embargo, solo aquellos que tienen un sentido matemático agudo, especialmente en el dominio de la geometría, pueden hacer esto a través de una simulación mental. Los SGD permiten realizar una variación, a través del arrastre, que ayuda a visualizar tal simulación mental. Es así como los autores se plantean las siguientes preguntas: ¿cómo se les puede dar un sentido geométrico a los fenómenos de arrastre en un SGD? ¿cómo puede el arrastre conducir a la identificación de invariantes que potencialmente corresponden a propiedades geométricas? ¿cómo está involucrada la percepción en el uso de formas particulares de arrastre durante exploraciones en un SGD? y ¿cómo se identifican y se interpretan geoméricamente las invariantes y sus relaciones?

Para responder estas preguntas, los autores proponen un modelo cognitivo que se deriva de la combinación de dos lentes cognitivos: algunos elementos de la Teoría de la Variación (Leung,

2008) y el modelo del arrastre mantenido (Baccaglioni-Frank y Mariotti, 2010). Dicho modelo describe la transición del discernimiento⁶ de invariantes del nivel 1 al nivel 2, los cuales se describen así:

- El discernimiento de los invariantes de nivel 1 en un SGD es la conciencia de los aspectos invariantes de una figura dinámica, percibidos bajo el arrastre, a través del contraste, la separación y la generalización⁷.
- El discernimiento de los invariantes de nivel 2 en un SGD es la conciencia de diferentes tipos de control⁸ sobre los invariantes de nivel 1 y cómo estos tipos de control se fusionan para implicar relaciones lógicas entre los invariantes de nivel 1. El uso del arrastre mantenido permite una experiencia de arrastre particular donde este proceso se hace posible.

Para poner a prueba su modelo, los autores retoman algunos episodios de la investigación realizada por Baccaglioni y Mariotti sobre el modelo de conjeturación MD, los cuales correspondían a estudiantes de grado décimo en Italia. Recordemos que estos alumnos habían trabajado previamente con diferentes modalidades de arrastre en la resolución de problemas abiertos de construcción en los cuales se les solicitaba elaborar conjeturas. Básicamente, a través de la resolución de la tarea, los estudiantes experimentan la evolución del *camino* (path) descrito en el trabajo de Baccaglioni-Frank y Mariotti (2010).

Dentro de las conclusiones de este trabajo, se destaca el impacto que tiene el uso de los SGD y la herramienta arrastre para la enseñanza de la geometría. Una característica fundamental del diseño de la mayoría de los SGD, es que todos los elementos de una figura dinámica que dependen de un punto de base dado, se mueven cuando se arrastra ese punto base, de tal manera que las propiedades definidas por la construcción se mantienen. Esta característica

⁶ El discernimiento es uno de los conceptos centrales de la Teoría de la Variación, en el cuál se profundiza en la sección 4.2.1. del presente trabajo.

⁷ Los conceptos de contraste, separación y generalización hacen parte de la Teoría de la Variación y se describen en el Marco Teórico del presente trabajo, en el apartado 4.2.2.

⁸ Los diferentes tipos de control hacen referencia al control directo y el control indirecto que se tiene sobre los elementos de una configuración cuando se realiza el arrastre. Esto es, cuando el estudiante realiza el arrastre de un punto a lo largo de un camino preconcebido este arrastre es directo. Si, de manera simultánea, el estudiante observa cómo se arrastra una figura que depende del punto, manteniendo un invariante en su forma, este arrastre es indirecto.

básica del diseño hace que el arrastre se convierta en una poderosa herramienta epistémica que apoya el razonamiento geométrico y, específicamente, se convierta en una herramienta capaz de producir conjeturas geométricas. Particularmente, el modelo planteado por los autores revela que, en la resolución de problemas geométricos en un SGD, se presenta una transición desde la elaboración de conjeturas, a partir de la exploración de fenómenos en el software, hasta el reconocimiento de una relación condicional en la geometría euclidiana.

Cabe señalar que los programas especializados en matemáticas no son el único tipo software que se han involucrado en la enseñanza de esta ciencia. Algunos trabajos en los que se han aplicado TIC en la enseñanza de las matemáticas han implementado diferentes Ambientes Virtuales de Aprendizaje (AVA), los cuales son plataformas que permiten la gestión de cursos en internet. En particular, dado que en el presente trabajo planteamos una propuesta a partir del uso del AVA Moodle y del SGD GeoGebra, nos interesan los trabajos que han involucrado estas dos herramientas, de los cuales se describen algunos a continuación.

García (2011) implementa GeoGebra y Moodle en su tesis de Doctorado en Investigación Didáctica. El interés de su trabajo radica en tres focos fundamentales: el uso de TIC en la enseñanza-aprendizaje de las matemáticas en Secundaria, la mejora de las actitudes relacionadas con las matemáticas por parte de los estudiantes y el desarrollo de sus competencias matemáticas. Con base en estos focos, la autora se plantea la siguiente conjetura de investigación:

Se puede diseñar, poner en práctica y evaluar una secuencia de enseñanza basada en el uso de Geogebra que promueva una transformación positiva de las actitudes relacionadas con las matemáticas y un desarrollo de las competencias matemáticas de los estudiantes de secundaria. El uso de Geogebra potenciará en mayor grado determinadas actitudes y competencias. Ciertas características y atributos del software guardarán relación directa con las transformaciones provocadas en determinadas actitudes y competencias de los estudiantes (García, 2011, p. 15).

Para abordar esta conjetura, la autora plantea una secuencia de enseñanza-aprendizaje alrededor de los mosaicos, basada en el uso de software Geogebra y las plataformas Helvia y Moodle.

GeoGebra es usado para realizar los mosaicos y Helvia y Moodle para compartir los archivos de GeoGebra con los estudiantes o diseñar cuestionarios, chats o foros.

El marco teórico de este trabajo tiene tres elementos principales: el uso de las TIC en la enseñanza-aprendizaje de las matemáticas, el concepto de actitud en este mismo contexto y el aprendizaje matemático basado en competencias. En relación con la metodología, la autora adopta el paradigma de Investigación-Acción, el cual es desarrollado por profesores con el objetivo de mejorar su propia práctica, a través de la implementación y mejoramiento de una intervención a partir de un protocolo cíclico. Así mismo, el diseño de la investigación es un experimento de diseño basado en una conjetura, es decir, un experimento que se guía por una conjetura que es revisada y elaborada a lo largo de la investigación.

De los resultados de este trabajo se desprenden diversas conclusiones, dentro de las cuales destacamos que el uso del software tuvo efectos positivos en las actitudes de los alumnos en las tres componentes analizadas (cognitiva, afectiva y comportamental). Especialmente, se evidenció que los estudiantes manifestaron mayor gusto, agrado, interés e implicación en la actividad matemática durante el desarrollo las tareas con GeoGebra. En relación con el desarrollo de competencias, se concluyó que GeoGebra resultó ser más potente para promover competencias relacionadas con la visualización, la modelación y el planteamiento y resolución de problemas.

Álvarez-Niño y Arias-Ortiz (2014) plantean que en el mundo digital que se vive hoy, las TIC proveen un estilo nuevo para abordar los procesos cognitivos. Estos autores realizan un trabajo en el Colegio Nuestra Señora de la Salud (Santander), en el que han detectado grandes dificultades en el área de matemáticas a partir de los resultados de las pruebas Saber en los años 2009 y 2012. Para abordar esta problemática, se plantean desarrollar un proyecto que articule la pedagogía, la tecnología y la comunicación, a través del diseño e implementación de un AVA, bajo la modalidad de B-Learning. La pregunta de investigación que orientó el trabajo mencionado fue la siguiente: ¿De qué manera desde la práctica pedagógica se pueden diseñar ambientes virtuales que faciliten el proceso de enseñanza y aprendizaje de la Geometría Analítica, temática perteneciente al contenido de matemáticas para el grado 10° en el Colegio

Nuestra Señora de la Salud para favorecer el desarrollo de habilidades de pensamiento en este campo?

El marco teórico en el que se fundamenta este trabajo, hace referencia a las ventajas de basar el aprendizaje de las matemáticas en el uso de las TIC. En general, los autores señalan que este tipo de herramientas presentan características interesantes como la gran capacidad para organizar y almacenar información y tener acceso a ella, la posibilidad de representar modelos y simular fenómenos y construcciones difíciles de observar en la realidad y la posibilidad de interactuar con estas simulaciones o construcciones para obtener respuestas rápidamente o explorar situaciones que facilitan la comprensión de conceptos y propiedades (Bracho y Maz, citados por Álvarez-Niño y Arias-Ortiz, 2014).

La metodología de esta investigación fue un enfoque cualitativo de Investigación - Acción Educativa (IAE) que se desarrolló en dos etapas. En la primera de ellas, se realizó una recolección de información que contempló una entrevista al docente y una encuesta a los estudiantes que pretendía conocer su percepción de las TIC y su integración en el aula, así como la observación de algunas clases. En la segunda etapa, se analizó la información recolectada y se planteó un plan de trabajo para integrar las TIC a las clases de geometría analítica, bajo un enfoque constructivista y un modelo B-Learning. En la experiencia participaron 48 alumnos de grado décimo, con edades entre los 16 y 18 años, y su docente de matemáticas. Para el desarrollo de la propuesta se seleccionó Moodle como plataforma base y GeoGebra como herramienta para crear applets interactivos. En la plataforma, los estudiantes tenían la posibilidad de compartir sus ideas en relación con las exploraciones de algunas secciones cónicas que podían realizar en GeoGebra.

A partir del trabajo realizado, los autores concluyen que la aplicación de AVA en el aula resulta ser un mecanismo de motivación y un medio de enseñanza que permite la asimilación más rápida, clara y precisa. Particularmente, señalan que la modalidad B-Learning integra el enfoque tradicional con formas novedosas en las que el individuo se apropia de su aprendizaje. Adicionalmente, afirman que el docente que participó de la experiencia, reconoció en el proyecto una oportunidad para renovar sus prácticas y abrir nuevas formas de comunicarse con sus estudiantes. Por último, plantean la posibilidad de que se implementen AVA en otras áreas

en la institución, a través del apoyo entre los mismos docentes y el uso adecuado de los recursos con los que cuentan.

3.2. Esquemas de argumentación y SGD

Flores (2007) presenta los resultados de un estudio que tenía como intención indagar si los profesores mexicanos de bachillerato utilizan la demostración matemática y el pensamiento deductivo en sus prácticas argumentativas. Para lograr esto, el autor se planteó la siguiente pregunta: ¿cuáles son las características de las prácticas argumentativas de los profesores frente a un proceso de validación matemática? El estudio se basa en analizar las actuaciones de un grupo de docentes cuando se enfrentan a actividades geométricas de construcción y validación en un ambiente de geometría dinámica.

Como marco teórico se usa el trabajo de Harel y Sowder (1998), quienes afirman que un *esquema de prueba o demostración* es aquello que conforma el autoconvencimiento y la persuasión para una persona; estos autores identifican tres esquemas de demostración: de convicción externa, empíricos y analíticos. A su vez, cada uno de estos esquemas tiene las subcategorías que se observan en la figura 2.



Figura 1. Esquemas de argumentación de Harel y Sowder (1998).

Flores (2007) realiza una adaptación de esta propuesta. De acuerdo con este autor, la práctica argumentativa es “el conjunto de acciones y razonamientos que un individuo pone en juego para justificar o explicar un resultado o para validar una conjetura nacida durante el proceso de resolución de un problema” (Flores, 2007, p.71) y un esquema de argumentación es “la manera en que el individuo utiliza sus razonamientos durante una práctica argumentativa” (Flores, 2007, p.71). Según Flores (2007) los esquemas de argumentación se pueden clasificar en autoritarios, simbólicos, de recuento fáctico, empíricos o analíticos⁹.

La metodología elegida para el estudio fue un experimento de enseñanza que consistió en un curso de 48 horas, dividido en dos sesiones semanales de 4 horas. El curso comprendió un cuestionario diagnóstico, actividades de construcción, discusiones grupales y reflexiones críticas de cada sesión. Las actividades propuestas mayormente fueron de resolución de problemas. El curso fue impartido a 14 profesores de matemática de bachillerato tecnológico y se tituló “La geometría euclidiana en un ambiente de geometría dinámica”.

A partir de los datos recopilados y de las respuestas a las actividades propuestas, el autor concluye que los esquemas de argumentación que utilizaron los profesores asistentes al curso son fundamentalmente fácticos y empíricos, aunque con la práctica, la discusión y la reflexión provocada por esta tienden a volverse analíticos. Por otra parte, el experimento de enseñanza mostró que es “posible lograr un cambio en los esquemas de argumentación de los profesores y que las actividades diseñadas en un ambiente de geometría dinámica ayudan en este cambio” (Flores, 2007, p 93). El trabajo realizado por Flores, y así lo señala en su artículo, es un primer intento por determinar las prácticas argumentativas de los profesores de bachillerato, por lo que se hace necesario diseñar nuevos y más específicos experimentos de enseñanza que permitan recabar información nueva sobre las prácticas argumentativas.

Siguiendo la línea del trabajo anterior, C. Flores et al. (2010) presentan los resultados de un estudio que tenía como objetivo determinar qué esquemas de argumentación se usan al resolver actividades en un ambiente de geometría dinámica. Para tal efecto, se buscó respuesta a las siguientes preguntas: ¿Es posible pasar del uso de esquemas de argumentación no analíticos al

⁹ Las descripciones de estos esquemas se presentan en el Marco Teórico del presente documento, en la sección 4.3.2.

uso de esquemas analíticos? De ser así, ¿cómo sería esta transición? ¿Los esquemas analíticos llevan a una demostración matemática? ¿De qué manera?

Como marco de referencia los autores usan los esquemas de argumentación propuestos por Flores (2007). La metodología elegida para el estudio fue un experimento de enseñanza que consistía en el desarrollo de un taller a lo largo de tres sesiones de hora y media, cada una. El taller lo integraron 16 estudiantes de licenciatura y profesores de matemáticas en ejercicio. Las actividades eran problemas de geometría en las que se pedía realizar construcciones de figuras planas, bajo ciertas condiciones. Las mismas fueron resueltas usando el software *The Geometer's Sketchpad*, en grupos de tres o cuatro personas.

Los autores parten de la hipótesis de que el uso de algún software de Geometría, en especial de la herramienta arrastre, está relacionado con los esquemas de argumentación que usa el individuo. Por ejemplo, un estudiante que recurre con frecuencia a esquemas empíricos, posiblemente use el software para comprobar sus resultados, tomando medidas y usando el arrastre para mostrar hechos; mientras que uno que habitualmente emplea esquemas analíticos, probablemente use el arrastre para buscar regularidades o patrones que justifiquen su conjetura (Flores, citado por C. Flores et al., 2010) o aplique la denominada prueba del arrastre, que consiste en mover elementos de la construcción de manera que se conserven sus características esenciales, para evidenciar hechos que permitan formar o validar una conjetura.

A partir de estos planteamientos y de las respuestas a las actividades propuestas por parte de los estudiantes, los autores concluyen que es viable promover el uso de esquemas analíticos y, en consecuencia, el desarrollo del razonamiento deductivo, si se diseñan secuencias de actividades abiertas en las que se pida a los estudiantes justificar los resultados obtenidos. Además, establecen que es posible propiciar la transición desde el uso de esquemas no analíticos al uso de esquemas analíticos, a través del trabajo con esquemas empíricos con ayuda del Sistema de Geometría Dinámica y de la posterior justificación de los resultados fuera del software. Así mismo, afirman que los esquemas analíticos se pueden asociar a una demostración matemática, si se desarrollan actividades de exploración y construcción de conjeturas con ayuda del software en las que las premisas de los esquemas analíticos sean verdaderas, lo cual conducirá a conclusiones válidas y, por ende, a la demostración matemática.

Finalmente, dado que el estudio realizado corresponde al trabajo en colectivo, los autores plantean la posibilidad de que en un futuro se indague por esquemas de argumentación de personas en un estudio de casos. Adicionalmente, proponen que, en futuras investigaciones, se analicen estos esquemas en estudiantes y profesores, no solo en geometría, sino en otras ramas de la matemática o contextos no matemáticos.

4. MARCO TEÓRICO

El presente trabajo tiene como objetivo principal el desarrollo de tareas digitales de geometría que promuevan la conjeturación y la argumentación. Por esta razón, consideramos importante enfocarnos en artículos e investigaciones que nos aporten elementos teóricos en relación con el uso de las TIC (Tecnologías de la Información y la Comunicación) en la clase de geometría, en particular, lo relacionado con los AVA y los SGD. Adicionalmente, vemos pertinente apoyarnos en la Teoría de la Variación, propuesta para la educación matemática por Leung (2003, 2008), pues, como veremos, esta nos brinda elementos para concebir tareas digitales que promuevan la conjeturación y la argumentación. Por último, centraremos la atención en la Actividad Demostrativa, aproximación metodológica que promueve procesos de conjeturación y argumentación y en la que los SGD son relevantes como recurso para la resolución de problemas. Respecto a la Actividad Demostrativa, nos basaremos en dos referentes teóricos: la concepción planteada por el grupo de Aprendizaje y Enseñanza de la Geometría $\mathcal{A}\bullet\mathcal{G}$ de la Universidad Pedagógica Nacional (Colombia) y la propuesta teórica que plantean Harel y Sowder (1998) en relación con la argumentación.

4.1. Las TIC en la clase de geometría

En este apartado se presentan algunos elementos teóricos relacionados con el uso de las TIC en la clase de geometría, que fueron tenidos en cuenta para el desarrollo de la propuesta, estos son: los AVA y los SGD.

4.1.1. Ambientes virtuales de aprendizaje y sistemas de argumentación

De los múltiples entornos que se pueden elegir para gestionar un proyecto escolar a través de las TIC, el presente trabajo se centra en la plataforma Moodle, la cual es un AVA. Un AVA es

un espacio en el que se da un proceso pedagógico mediado por las tecnologías. En estos sistemas se encuentran recopiladas las didácticas, herramientas y recursos que usan los docentes con los estudiantes, bien sea de manera virtual o presencial. Específicamente, Moodle se enmarca en una subcategoría de los AVA denominada Sistemas de Gestión de Aprendizaje. Esta clase de ambientes contiene una gran cantidad de herramientas y servicios cuyo objetivo principal es administrar, distribuir y controlar los cursos que allí se alojen (Osorio, 2012).

Osorio (2012) describe diferentes elementos de este tipo de entornos, dentro de los cuales se destacan las modalidades y los Objetos Virtuales de Aprendizaje que se manejan en un AVA. De acuerdo con este autor, las modalidades más utilizadas en la actualidad para emprender un programa mediado por las TIC son:

- La formación presencial con apoyo de las tecnologías en el aula.
- La formación combinada, un porcentaje de carácter presencial, y el restante en modalidad virtual (B-learning).
- La formación 100% virtual y a distancia (E-learning).

Por otra parte, un *Objeto Virtual de Aprendizaje (OVA)* es un recurso digital propio de un AVA. Algunos ejemplos de OVA son los simuladores, aplicativos, multimedia, tutoriales, animaciones, videos, documentos interactivos, imágenes o cualquier otro elemento creado por el profesor para cumplir con una meta de aprendizaje y que presente un contenido. Los OVA deben cumplir con los siguientes criterios:

- Atemporalidad: no deben perder vigencia en el tiempo ni en los contextos utilizados.
- Didáctica: deben responder a qué, para qué, con qué y quién aprende.
- Navegabilidad: deben ser de uso intuitivo para los estudiantes.
- Interacción: deben motivar a los estudiantes a manifestar sus inquietudes y seleccionar su propia ruta de aprendizaje.
- Retroalimentación: deben incluir un componente evaluativo, en el cual se realice una retroalimentación automática (interactiva) al estudiante o se le presenten propuestas de prácticas dentro del material.

Además de los elementos anteriores, es importante poner en consideración algunos aspectos teóricos relacionados concretamente con el software desarrollado tanto para apoyar como para enseñar a argumentar. Scheuer, Loll, Pinkwart y McLaren (2010) realizan una extensa revisión de este tipo de software, al cual denominan *Sistema de argumentación*. Según estos autores, en este tipo de herramientas se reconocen dos formas de argumentación: colaborativa o individual.

La *argumentación colaborativa*, que se presenta en los sistemas de aprendizaje colaborativo apoyado por computadora (CSCL, por sus siglas en inglés), se concibe como una estrategia que promueve el desarrollo del pensamiento crítico y el razonamiento por parte de los estudiantes (Andriessen, citado por Scheuer et al., 2010). Este modelo de argumentación no está dirigido a que el alumno haga prevalecer sus ideas sobre otros, sino que propende por el establecimiento de acuerdos entre los integrantes del grupo. Por lo tanto, la argumentación colaborativa es sustancialmente distinta de la argumentación tipo debate. Por su parte, la *argumentación individual*, propia de los sistemas uno a uno (humano – computadora), usualmente se usa para presentar a los estudiantes las reglas de argumentación en un dominio particular y darles la oportunidad de practicar. De esta forma, mientras que las herramientas de argumentación de un solo usuario apoyan la construcción del conocimiento y el aprendizaje de estructuras argumentativas por parte del estudiante, los sistemas colaborativos le permiten estar al tanto de las opiniones, puntos de vista y conocimientos de otros estudiantes. No obstante, las características y los servicios de los sistemas de un solo usuario son potencialmente útiles en los entornos colaborativos si, por ejemplo, varios estudiantes trabajan en una sola computadora. En consecuencia, este tipo de sistemas deben considerarse por los diseñadores de sistemas colaborativos.

4.1.2. **Sistemas de Geometría Dinámica y la herramienta arrastre**

Gran parte de los trabajos realizados en el campo del aprendizaje y la enseñanza de la geometría mediado por la tecnología, hacen referencia al uso de los SGD. Este tipo de software se caracteriza por tres herramientas fundamentales: el modo arrastre, la función lugar geométrico y la capacidad de construir macros (Hattermann, 2010). De estas herramientas, el modo *arrastre* es la característica más importante que suministran estos sistemas, ya que permite introducir el movimiento en la geometría euclidiana estática (Sträßer, citado por

Hattermann, 2009). Ahora bien, como nuestro interés al desarrollar esta propuesta es promover la conjeturación y argumentación a través de tareas digitales, vemos necesario enfocar el uso de la herramienta arrastre hacia estos procesos. Una respuesta de cómo esto puede lograrse se encuentra en el trabajo de Arzarello et al. (2002). De acuerdo con estos autores, la herramienta arrastre promueve la producción de conjeturas, ya que, al explorar figuras a partir del movimiento, es posible identificar qué cambia y qué no cambia en ellas para reconocer sus propiedades invariantes. Además, las prácticas realizadas con esta herramienta se pueden enmarcar en dos tipologías cognitivas:

- *Procesos ascendentes*: El estudiante parte de las representaciones para realizar exploraciones sobre ellas, usando el arrastre, en busca de regularidades o invariantes.
- *Procesos descendentes*: El estudiante usa el arrastre para verificar propiedades, validar conjeturas o refutarlas.

En consecuencia, los procesos ascendentes van desde la representación hacia lo teórico, mientras que los procesos descendentes van desde lo teórico hacia la representación. Así mismo, las prácticas que involucran estos procesos revelan lo que los estudiantes conciben como dado en un problema y lo que para ellos debe hallarse. Cabe destacar que, en el proceso de resolución de un problema abierto usando un SGD, los estudiantes usan diferentes tipos de arrastre, de acuerdo con diferentes propósitos. A dichas tipologías, Arzarello et al. (2002) las denominan *modalidades de arrastre*. Estos autores proponen las siguientes modalidades:

- *Arrastre errático*: Mover los puntos base¹⁰ de una construcción de manera aleatoria, sin un plan predefinido, para descubrir configuraciones interesantes o regularidades en las figuras.
- *Arrastre limitado*: Mover un punto “semi-arrastrable”, es decir, un punto que se encuentra enlazado a un objeto. Dicho punto solo se puede mover sobre el objeto al que pertenece.
- *Arrastre guiado*: Mover los puntos de una figura con el fin de darle una forma particular.

¹⁰ Un punto base es un punto libre o un punto que está sobre un objeto, que es susceptible de ser arrastrado a cualquier lugar de la pantalla (Baccaglioni-Frank y Mariotti, 2010). Desde nuestra interpretación, en una construcción en un SGD, hay puntos que se pueden arrastrar (independientes) y puntos que no se pueden arrastrar (dependientes). Los primeros son los denominados puntos base, mientras que los segundos dependen de la construcción realizada y la posición de otros elementos.

- *Arrastre de lugar mudo*: Mover un punto base para que la figura mantenga una propiedad descubierta. El punto que se mueve sigue un camino, incluso si el estudiante no se da cuenta de esto. El lugar no es visible para el estudiante, que no siempre se da cuenta de que está realizando el arrastre a lo largo de un lugar. Este camino describe lo que los autores denominan “lugar mudo”.
- *Arrastre en línea*: Mover un punto y representar con nuevos puntos, a lo largo de una línea, las posiciones de dicho punto en las que se mantiene la regularidad de la figura.
- *Arrastre vinculado*: Enlazar un punto a un objeto y moverlo sobre ese objeto.
- *Arrastre de test*: Mover puntos arrastrables o semi-arrastrables para comprobar si la figura mantiene las propiedades iniciales. Si es así, entonces se considera que la figura pasa la prueba. Si no, esto indica que la figura no fue construida según las características iniciales que el estudiante quería que tuviera.

Para ilustrar mejor estas modalidades, Arzarello et al. (2002) plantean el siguiente problema:

Dado un triángulo ABC , considere un punto P en \overline{AB} y los triángulos APC y PCB determinados por este. Elabore una hipótesis acerca de las propiedades que debe tener el triángulo ABC para que los triángulos APC y PBC sean isósceles (en el caso que esto se cumpla, el triángulo ABC se denomina “separable”).

Para empezar, existen dos configuraciones que cumplen con la condición solicitada y son las que se muestran a continuación.

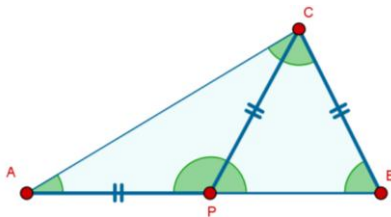


Figura 2. Primera configuración para resolver el problema de los triángulos “separables”. $AP = PC = CB$.

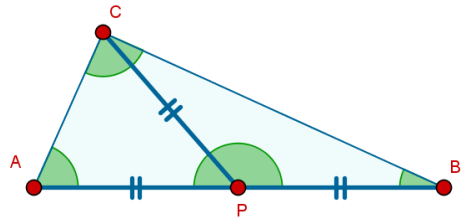
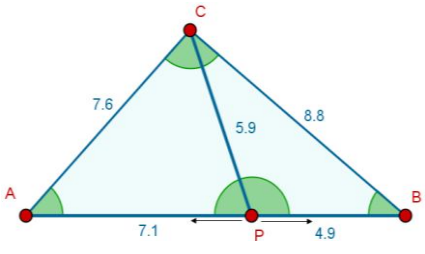
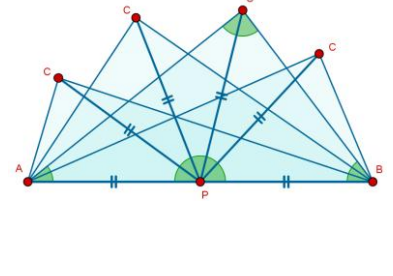
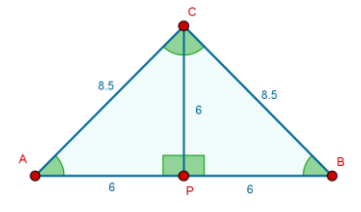
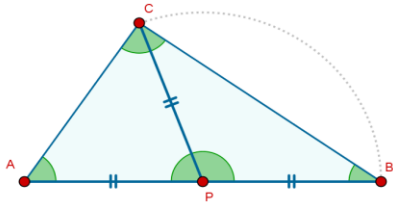
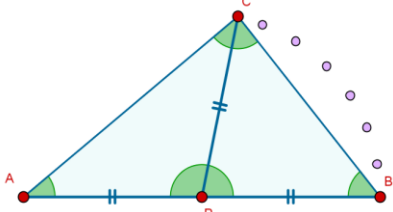


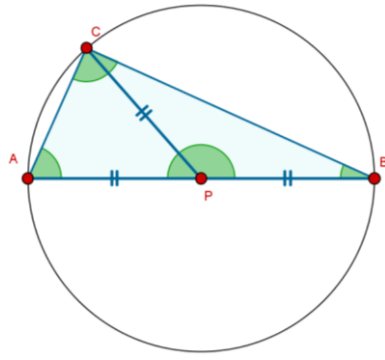
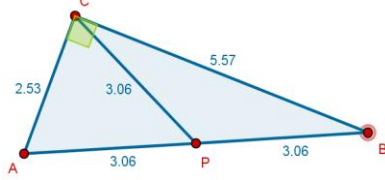
Figura 3. Segunda configuración para resolver el problema de los triángulos “separables”. $AP = PC = PB$.

En ambos casos, los triángulos APC y PBC son isósceles. Al estudiar la situación, se pueden ejecutar las diferentes modalidades de arrastre que se ejemplifican en la Tabla 3. Algunos de

estos ejemplos son los propuestos por los autores y otros, los que hemos desarrollado desde nuestra interpretación de su trabajo.

Tabla 3. Ejemplos de las modalidades de arrastre propuestas por Arzarello et al. (2002).

Tipo de arrastre: descripción	Gráfico
<p><i>Arrastre limitado:</i> Se construye el triángulo ABC y se crea el punto P sobre \overline{AB}. Este punto será “semi-arrastrable”, ya que se mueve sobre este segmento. Al realizar el arrastre de P, se busca que el triángulo ABC sea “separable”.</p>	
<p><i>Arrastre errático:</i> Se determina P como el punto medio del \overline{AB} (configuración 2). Luego, se arrastra aleatoriamente el punto C, sin algún tipo de plan, más que lograr que el triángulo ABC sea “separable”. Este tipo de arrastre permite encontrar varios triángulos que cumplen la propiedad, de manera que es evidente que el problema tiene varias soluciones.</p>	
<p><i>Arrastre guiado:</i> Se mueven los puntos de la construcción buscando darle una forma particular al triángulo ABC. Por ejemplo, algunos triángulos isósceles son “separables”.</p>	
<p><i>Arrastre de lugar mudo:</i> Se mueve el punto C, tratando de mantener la propiedad $AP = PC$. El camino que sigue el punto C, describe un lugar geométrico que aún no es visible para los alumnos.</p>	
<p><i>Arrastre lineal:</i> Se marcan los puntos correspondientes a la posición correcta que debe tener C para que el triángulo ABC sea “separable”. Se observa que dichos puntos pertenecen a una circunferencia de radio PA y centro P. Entonces, el lugar mudo se vuelve explícito.</p>	

<p><i>Arrastre vinculado:</i> Con el fin de validar la conclusión obtenida mediante el arrastre lineal, se representa la circunferencia de centro P y radio PA. Luego, se vincula el vértice C a dicha circunferencia. Al arrastrar el punto C sobre la circunferencia, se observa que todos los triángulos ABC son “separables”. Es decir, los triángulos "separables" son aquellos cuyo vértice C pertenece a una circunferencia con centro P y con radio PA. Esta condición equivale al hecho de que el triángulo ABC es rectángulo.</p>	
<p><i>Arrastre test:</i> Se construye un triángulo rectángulo ABC, se ubica el punto medio P de AB y se representa el segmento PC. Luego, se usa el arrastre para mover los puntos de esta figura y verificar que mantiene la propiedad de ser “separable”. De esta forma, se verifica la conjetura de que todo triángulo rectángulo es “separable”.</p>	

Del análisis de los ejemplos anteriores, se desprenden algunas observaciones realizadas por los autores. En primer lugar, que existe una “jerarquía genética” al usar las modalidades de arrastre, cuando en el proceso de solución de un problema se ejecutan varias de estas modalidades. Dicho de otra forma, parece que hay una secuencia en el uso de ellas. No obstante, esta jerarquía no es prescriptiva, ya que no todos los estudiantes aplican las modalidades atendiendo a dicha secuencia. El paso de lo perceptivo a lo teórico, a través de las modalidades ascendentes y descendentes, no ocurre de manera automática. En realidad, se requiere de un cuidadoso diseño didáctico que apoye a los estudiantes en este proceso en SGD.

En segundo lugar, Arzarello et al. (2002) observa que los estudiantes aprovechan las diferentes modalidades para alcanzar objetivos variados:

- Las modalidades de *arrastre errático*, *limitado* y *guiado*, se usan para investigar o explorar una tarea, por tal razón, se consideran parte del proceso ascendente.
- El *arrastre de lugar mudo* deja ver que el estudiante ha encontrado el camino que debe seguir el arrastre. Es decir, está comenzando a ver una relación, propiedad o invariancia y trata de darle sentido a esta, en términos lógicos. Esta modalidad revela el comienzo de la transición del proceso ascendente al descendente, lo cual corresponde a una abducción.

- El *arrastre en línea* es el que le sigue al arrastre de lugar mudo, ya que hace que dicho lugar geométrico sea explícito y visible en pantalla. También se considera parte del cambio hacia el proceso descendente.
- El *arrastre vinculado* le permite al estudiante comprobar su conjetura. Si el lugar geométrico descubierto puede ser representado en el software, el estudiante puede vincular el punto a ese lugar y comprobar si la propiedad establecida se mantiene al mover el punto sobre el lugar. Por lo tanto, este tipo de arrastre evidencia el comienzo del proceso descendente. Sin embargo, el arrastre vinculado también puede aprovecharse en el proceso de exploración, por ejemplo, si lo que se quiere es disminuir los parámetros libres de la situación inicial.
- El *arrastre test* se usa como un medio para validar una conjetura. En especial, si la conjetura tiene origen en la visualización o en la construcción. En consecuencia, también forma parte del proceso descendente.

La Figura 4 representa las relaciones que los autores plantean entre las diferentes modalidades de arrastre, atendiendo a los procesos ascendentes y descendentes descritos antes.

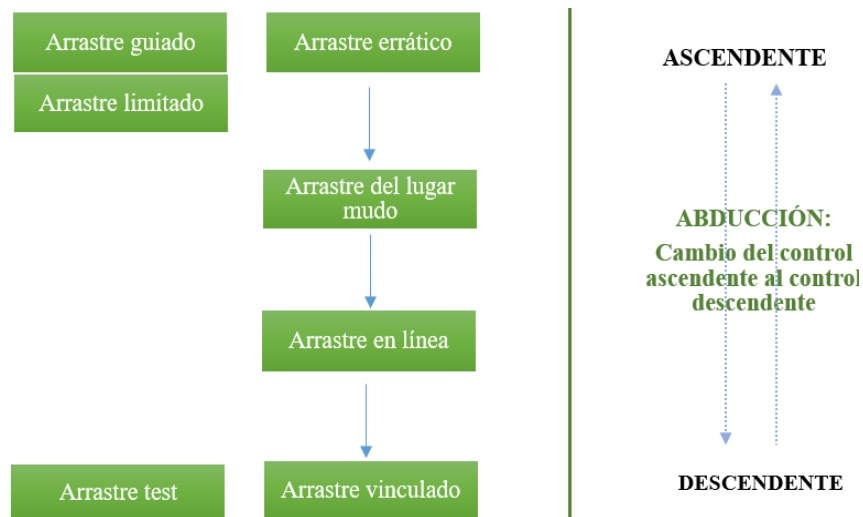


Figura 4. Jerarquía entre las modalidades de arrastre (Arzarello et al., 2002a).

Retomando el trabajo de Arzarello et al. (2002), otros autores han planteado nuevas modalidades de arrastre que relacionamos a continuación:

- *Arrastre mantenido*: Mover un punto base para que la figura mantenga una determinada propiedad. Este tipo de arrastre implica el reconocimiento de una configuración particular

interesante o propiedad, y el intento por inducir dicha propiedad para convertirla en un invariante a través del arrastre (Baccaglini-Frank y Mariotti, 2010). Las autoras que proponen esta modalidad, resaltan que difiere de la modalidad de arrastre del lugar mudo porque este arrastre no necesariamente se realiza a lo largo de un camino preconcebido.

- *Arrastre con traza activa:* Mover un punto base con la opción trazo activada (Baccaglini-Frank y Mariotti, 2010). En el caso de GeoGebra, esta opción se denomina *Rastro* y permite visualizar el camino que recorre un punto a través del arrastre. Cuando dicho arrastre se realiza manteniendo una propiedad, el *rastro* del punto permite observar la forma del lugar geométrico que recorre el punto.

Para ejemplificar estas dos modalidades, consideremos el siguiente problema abierto de construcción paso a paso, propuesto por Baccaglini-Frank y Mariotti (2010) para ser resuelto en Cabri:

- *Representar un punto P.*
- *Construir una línea r que contenga a P.*
- *Construir la línea perpendicular a r, a través de P.*
- *Ubicar un punto C sobre la recta perpendicular.*
- *Construir un punto simétrico a C con respecto a P y llamarlo A.*
- *En el semiplano identificado por r que contiene A, dibujar un punto D.*
- *Construir una línea a través de los puntos D y P.*
- *Construir un círculo con centro en C y radio CP.*
- *Nombrar B al segundo punto de intersección del círculo con la línea que contiene a los puntos P y D.*
- *Considerar el cuadrilátero ABCD.*

Hacer conjeturas sobre los tipos de cuadriláteros que puede llegar a ser ABCD, describiendo las posibles formas en que puede convertirse en un cierto cuadrilátero. Escribe tus conjeturas y luego pruébalas.

Al seguir los pasos, se obtiene una construcción como la que se muestra en la Figura 5. Según estas autoras, al realizar el arrastre del punto D, el estudiante puede descubrir que el cuadrilátero ABCD puede ser un paralelogramo (Figura 6). Entonces, el alumno puede aplicar el *arrastre mantenido* del punto D tratando de que la figura sea un paralelogramo, mientras dicho punto se mueve. De esta forma, el invariante inducido intencionalmente (III) es la forma de una figura geométrica que se quiere mantener a través del arrastre.

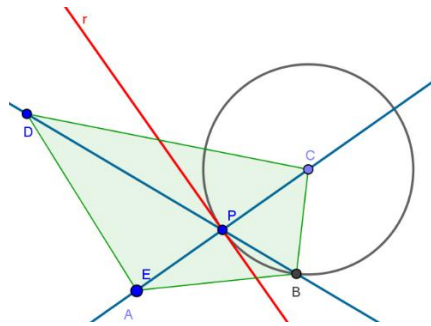


Figura 5. Problema abierto de construcción paso a paso de Baccaglioni-Frank y Mariotti (2010)

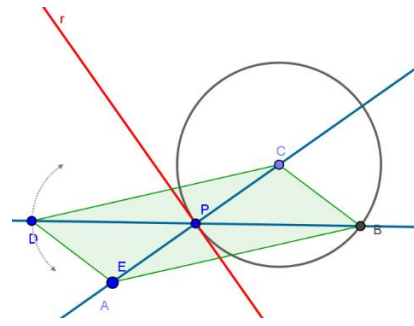


Figura 6. Ejemplo de arrastre mantenido.

Ahora bien, además de realizar el arrastre mantenido induciendo el invariante de la forma de paralelogramo en la figura, el estudiante podría realizar el *arrastre con traza activa* de dicho punto para visualizar el camino que sigue el punto y que favorece el III (Figura 7). En este caso, el estudiante descubre que el punto D parece pertenecer a una circunferencia. Esta propiedad es el invariante observado durante el arrastre (IOD).

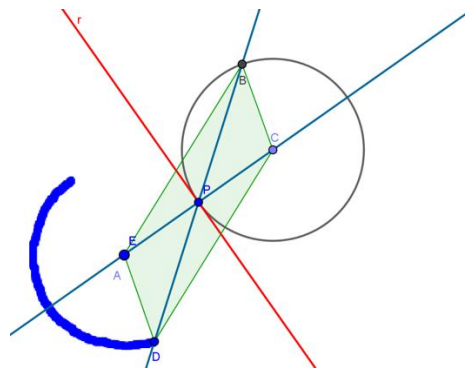


Figura 7. Ejemplo de arrastre con traza activa.

- *Arrastre para ajustar*: Mover un punto base de una figura de manera que se complete una acción o una construcción para darle solución a un problema (Lopez-Real y Leung, 2006). En realidad, para estos autores, más que una modalidad, esta tipología es una estrategia de carácter exploratorio que se usa para resolver problemas geométricos de construcción. Básicamente, esta estrategia consiste en realizar una construcción blanda y arrastrar sus puntos de manera que la construcción cumpla con las condiciones solicitadas.

Para ejemplificar este tipo de arrastre, consideremos el siguiente problema de construcción planteado por Lopez-Real y Leung (2006):

Dibuje cualquier segmento AB. Diseñe una construcción que triseque al segmento AB.

Una posible solución a este problema consiste en construir el segmento AB y hacer dos circunferencias. La primera de ellas con centro en un punto C del segmento y que contenga al punto A. La segunda con centro en el punto D (intersección de la primera circunferencia con el segmento AB) y que contenga al punto C. Luego, se determina el punto de intersección de la segunda circunferencia con el segmento y se nombra como P (Figura 8). Finalmente, se realiza el arrastre del punto C, hasta que P coincida con B (Figura 9). De esta forma, se ha trisecado el segmento.

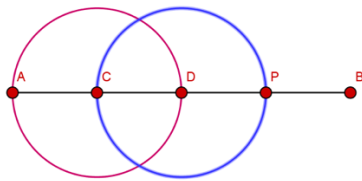


Figura 8. Construcción del problema propuesto por Lopez-Real y Leung (2006).

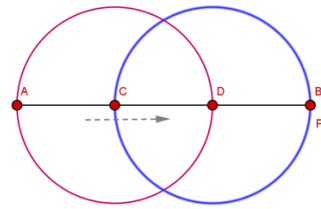


Figura 9. Ejemplo de arrastre para ajustar.

4.2. La Teoría de la Variación

La Teoría de la Variación es una teoría de aprendizaje que explica cómo un aprendiz podría ver, entender o experimentar un fenómeno que se presenta de cierta forma. De acuerdo con esta teoría, un fenómeno posee ciertos aspectos críticos, que el aprendiz debe notar y que debe ser capaz de enfocar de manera simultánea para experimentar dicho fenómeno de una manera particular (Orgill, 2012).

Orgill (2012) realiza una descripción de la Teoría de la Variación, dentro de la cual deja ver lo que significa aprender y el papel que tiene la educación, a la luz de esta teoría. De acuerdo con esta autora, en todo fenómeno se puede reconocer una gran cantidad de información. Sin embargo, nuestras limitaciones para procesar información no nos permiten considerar todos los aspectos de un fenómeno al mismo tiempo. En consecuencia, solo algunos aspectos entran en nuestra “conciencia focal”, mientras que otros se desvanecen en el fondo. En el marco de la teoría de la variación, *aprender* consiste en cambiar la estructura de la conciencia que un alumno tiene respecto a un fenómeno. Es decir, ayudarle al estudiante a discernir un fenómeno de maneras nuevas o más complejas. Un fenómeno se puede experimentar o entender de

múltiples maneras y algunas de estas son más poderosas que otras para lograr un cierto propósito. Por lo tanto, una de las principales metas de la educación es ayudar a los estudiantes a experimentar los fenómenos de maneras poderosas. Ahora bien, dado que el aprendizaje no existe sin un *objeto de aprendizaje*, es importante señalar que, bajo esta teoría, un objeto de aprendizaje es una idea perspicaz, una habilidad o una capacidad específica que se espera que los estudiantes desarrollen (Marton y Peng, citados por Orgill, 2012).

Por otro lado, en todo fenómeno es posible identificar ciertas características críticas específicas, las cuales son aspectos necesarios para que el estudiante produzca un significado y desarrolle entendimientos y capacidades relativas a este (Orgill, 2012). De esta idea se desprenden los conceptos centrales de la Teoría de la Variación que permiten interpretar el aprendizaje y el conocimiento, estos son: el *discernimiento*, la *variación* y la *simultaneidad*. Para entender lo que estos conceptos significan, haremos referencia al trabajo de Leung (2003, 2008) y Leung y Yip-Cheung (2006), en donde se presenta una discusión acerca de los significados de los conceptos relacionados con la Teoría de la Variación en el contexto de los Sistemas de Geometría Dinámica (SGD), en particular, en relación con el uso de la herramienta arrastre incluida en estos sistemas. El objetivo de Leung es evidenciar el potencial que tiene asociar dicha teoría con el uso de esta herramienta en el proceso de descubrimiento del conocimiento matemático.

Leung y Yip-Cheung (2006) plantean que los SGD son un medio potente para concebir tareas que se puedan caracterizar desde el enfoque de la Teoría de la Variación ya que, a través de la construcción inteligente y el arrastre, permiten visualizar de diferentes formas un fenómeno geométrico en acción. Por lo tanto, la variación es una característica importante de los SGD, pues en estos sistemas los conceptos matemáticos pueden tomar formas dinámicas visuales, sujetas a nuestras acciones, que pueden ser o no poderosas.

Ahora bien, como se mencionó líneas atrás, los conceptos centrales de la Teoría de la Variación son: el *discernimiento*, la *variación* y la *simultaneidad*. A su vez, dentro de la variación, se pueden identificar patrones o funciones, las cuales son: el *contraste*, la *generalización*, la *separación* y la *fusión*. Además, Leung (2003, 2008) define dos tipos de simultaneidad: *sincrónica* (diferentes aspectos coexistentes en el espacio) y *diacrónica* (un mismo aspecto

visto en diferentes momentos temporales). La Figura 10 ilustra las relaciones entre estos conceptos, de acuerdo con nuestra interpretación del autor.

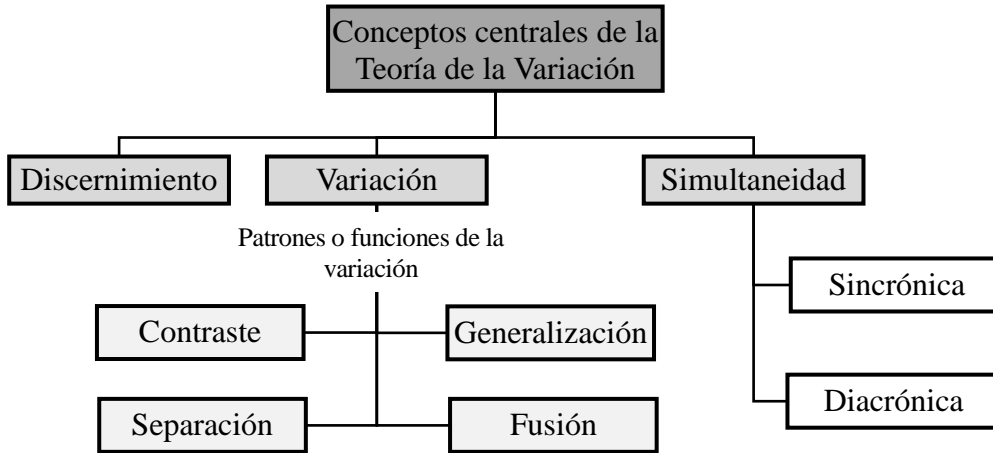


Figura 10. Conceptos de la Teoría de la Variación.

A continuación, se presentarán los significados de cada uno de estos conceptos, en el contexto del uso de la herramienta arrastre en un SGD, a través de algunos ejemplos de problemas geométricos sugeridos por Leung (2003) y otros propuestos por nosotros desde la interpretación de este autor. Adicionalmente, se verá cómo las modalidades de arrastre de Arzarello et al. (2002) se enmarcan dentro de esta teoría, de acuerdo con la propuesta de Leung (2008).

4.2.1. Discernimiento

Para poder ver algo en cierta forma, una persona debe discernir ciertas características de ese algo (Marton, Runesson y Tsui, citados por Leung, 2003). El discernimiento tiene lugar cuando el individuo se concentra en las partes (características) y, temporalmente, las resalta de la totalidad (fondo). Los SGD permiten hacer discernimiento en términos de la existencia de características críticas invariantes bajo una variación continua de ciertos componentes de una configuración.

En el ejemplo presentado por Leung (2003) para comprender este concepto, se estudia un triángulo ABC, construido en un SGD, en el que se miden los ángulos interiores y se calcula la suma de ellos (Figura 11). Luego, el vértice C es arrastrado de manera que el triángulo ABC sufre una acción continua; de esta manera se genera una doble variación: varía la forma del

triángulo y los valores de los ángulos internos, mientras lo que parece invariante es la suma de las medidas de los ángulos internos. Entonces, es evidente que la igualdad $m\angle ABC + m\angle BCA + m\angle CAB = 180^\circ$ se mantiene constante, a pesar de las variaciones. En consecuencia, se obtiene el discernimiento de una característica fundamental de un triángulo cualquiera: la suma de los ángulos interiores de cualquier triángulo es igual a 180° .

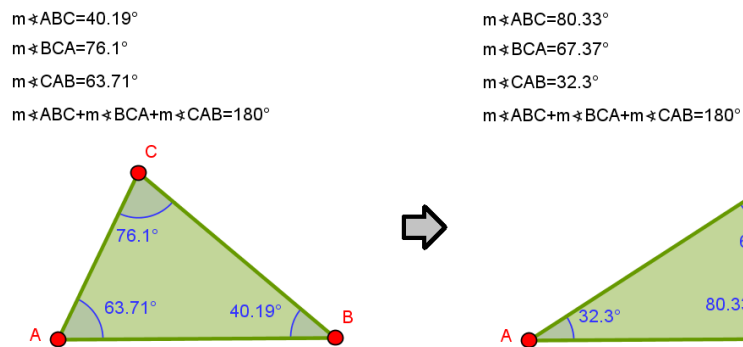


Figura 11. Ejemplo de discernimiento.

4.2.2. Variación

La variación les permite a los estudiantes experimentar las características que son fundamentales para un determinado aprendizaje, así como para el desarrollo de ciertas capacidades. En otras palabras, estas características se deben experimentar como dimensiones de variación (Marton, Runesson y Tsui, citados por Leung, 2003). Una dimensión de variación es un aspecto de un conjunto que puede ser sometido a variar. En los SGD es posible visualizar diferentes dimensiones de variación de una situación geométrica.

Para ilustrar esto, Leung (2003) propone el siguiente ejemplo: dados dos puntos A y B cualesquiera, construir un círculo que pase por A y B. La clave de esta construcción es localizar el centro del círculo. En consecuencia, la primera solución posible es en la que se consideran A y B como extremos de un diámetro de dicho círculo. Por lo tanto, el centro C del círculo corresponde al punto medio entre A y B (Figura 12). De esta forma, cuando varían las posiciones de A y B, varía también la posición de C.

Sin embargo, esta estrategia es una solución particular al problema. Leung plantea que, en lugar de considerar A y B como extremos de un diámetro, estos pueden ser puntos arbitrarios del círculo. Entonces, para localizar el centro del círculo se debe pensar en radios y no en el

diámetro. Por lo tanto, la estrategia alternativa consiste en representar un punto arbitrario C y los segmentos \overline{AC} y \overline{BC} . Luego, medir dichos segmentos y arrastrar C a una posición en la que las longitudes de estos segmentos sea la misma (Figura 13). Al realizar la exploración, se encuentra que la posición de C que cumple esta condición no es única. Es decir, existe más de un círculo que contiene a los puntos A y B. En este caso, el punto C es el aspecto del conjunto que ha sido sometido a variar para explorar el problema; mientras que A y B se han dejado como fijos.

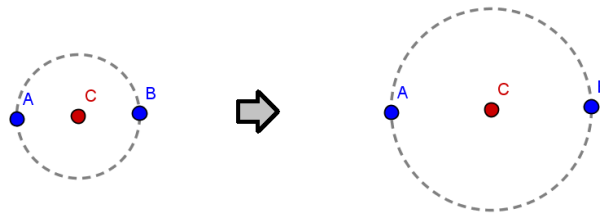


Figura 12. Ejemplo de variación 1.

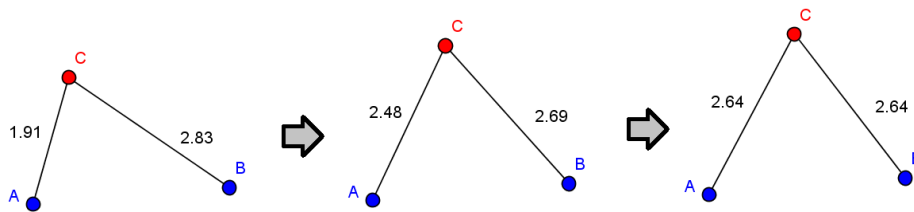


Figura 13. Ejemplo de variación 2.

En esta situación es posible reconocer los diferentes patrones o funciones de la variación:

- *Contraste*. Para experimentar algo, una persona debe experimentar algo más con lo que pueda compararlo (Marton, Runesson y Tsui, citados por Leung, 2003). En el ejemplo que se está desarrollando, las posiciones de C que dan o no lugar al círculo, proporcionan una experiencia de contraste. Siguiendo a Leung (2008), es posible identificar dos tipos de arrastre que se pueden ejecutar para realizar contraste: arrastre errático y arrastre guiado.
 - *Arrastre errático*. El estudiante arrastra el punto C de manera aleatoria, sin un plan predefinido, para buscar posiciones de este en las que los segmentos \overline{AC} y \overline{BC} tengan la misma longitud. De esta manera, él logra contrastar posiciones en las que se cumple la propiedad y aquellas en las que no.

- *Arrastre guiado.* El estudiante arrastra el punto buscando mantener una forma favorable en la configuración. En este caso, aquella en la que las longitudes de los segmentos \overline{AC} y \overline{BC} son iguales. Así contrasta posiciones en las que la igualdad se mantiene y aquellas en las que no lo hace.
- *Separación:* Para experimentar un cierto aspecto de algo, y con el fin de separar este aspecto de otros aspectos, este se debe variar mientras que otros aspectos se mantienen invariables (Marton, Runesson y Tsui, citados por Leung, 2003). En el episodio de arrastre estudiado, las posiciones de A y B se mantienen fijas, mientras que C varía. A pesar de que la invariancia de las posiciones de A y B no es una condición para el problema, si es necesaria para separar el *lugar de validez*¹¹ cuando C varía de una manera específica. De acuerdo con Leung (2008), el arrastre guiado, el arrastre en línea y el arrastre de lugar mudo son modalidades que podrían constituir estrategias de separación y a través de las cuales es posible discernir el lugar de validez de un determinado fenómeno geométrico, lo cual constituye un patrón invariable o propiedad que podría convertirse en una característica crítica en la formación de una conjetura. En particular, Leung señala que este proceso se puede ejecutar a partir del uso de la herramienta *Traza* o, en el caso de GeoGebra, *Rastro*, como se verá a continuación.
 - *Arrastre guiado.* El estudiante activa la opción *Rastro* del punto C y arrastra el punto manteniendo iguales las medidas de los \overline{AC} y \overline{BC} (Figura 14). De esta forma, se logra observar una trayectoria que se aproxima al lugar de validez del problema estudiado. Así, la separación permite centrarse en el punto C, mientras que A y B se mantienen fijos y, a su vez, revela un potencial patrón invariable o propiedad que, en este caso, es la forma lineal que describe el arrastre de C.
 - *Arrastre en línea.* El estudiante detecta que las diferentes posiciones que puede ocupar el punto C están sobre una línea. Luego, empieza mover el punto C a estas posiciones y a marcar las mismas con puntos. Adicionalmente, el alumno puede construir la recta que pasa por dos de estos puntos (Figura 15). En este caso, la separación se puede interpretar

¹¹ Según Leung y Lopez-Real (2002, citados por Leung 2008), en un SGD, el *lugar de validez* es el camino que recorre un punto de una configuración geométrica, al ser arrastrado, de tal forma que se cumpla una condición sobre dicha configuración.

de la misma forma que en el arrastre anterior, entendiendo que el estudiante se concentra en el punto C.

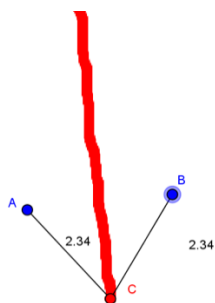


Figura 14. Arrastre guiado para separar.

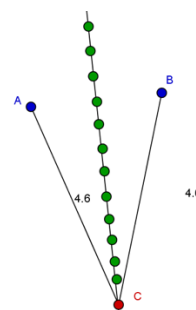


Figura 15. Arrastre en línea para separar.

- *Arrastre de lugar mudo.* El estudiante mueve el punto C para que la figura mantenga una propiedad descubierta. En este caso, dicha propiedad es la que se descubrió en los arrastres de la Figura 14 y la Figura 15, es decir, la linealidad de la trayectoria del punto C, cuando los segmentos \overline{AC} y \overline{BC} tienen la misma longitud.
- *Generalización.* Con el fin de entender completamente lo que es algo, debemos experimentar variando las apariencias de ese algo (Marton, Runesson y Tsui, citados por Leung, 2003). En el ejemplo en cuestión, es posible hallar todos los círculos solución si se arrastra el punto C, buscando mantener iguales las longitudes de los segmentos \overline{AC} y \overline{BC} , con la traza activada (Figura 14). El lugar geométrico obtenido es la mediatriz del \overline{AB} , es decir, todos los puntos de esta recta son centros de los círculos que contienen a A y B. Por lo tanto, en los SGD es posible obtener una visualización de la generalización en la variación. Ahora, de acuerdo con Leung (2008), la generalización en un SGD está relacionada con la construcción de una figura robusta¹², es decir, una figura generalizada con respecto a una condición dada, tal que satisface la condición a través del arrastre. El arrastre vinculado y el arrastre test son modalidades de arrastre que permiten realizar el proceso descrito.
- *Arrastre vinculado.* El estudiante usa las herramientas del software para construir la mediatriz del \overline{AB} . Luego, usa la herramienta *Limita/Libera punto*, para ubicar el punto C sobre la mediatriz construida. De esta forma, es posible arrastrar el punto C sobre la

¹² Una *figura robusta* en un SGD es aquella que conserva las propiedades que la definen aun cuando sus elementos sean arrastrados. Por ejemplo, un cuadrado construido en un SGD es robusto, si al arrastrar cualquiera de sus elementos, se mantiene la congruencia de sus lados y la medida de 90° de sus cuatro ángulos.

mediatriz para verificar la igualdad entre las longitudes de los segmentos \overline{AC} y \overline{BC} (Figura 16).

- *Arrastre test.* El procedimiento realizado en el arrastre vinculado descrito antes constituye, a su vez, un tipo de arrastre test, ya que, al mover el punto semi-arrastrable C, se comprueba que la mediatriz construida mantiene la propiedad deseada (la congruencia de \overline{AC} y \overline{BC}). Por lo tanto, se dice que la figura pasa la prueba. Así, se han observado diferentes apariencias de la construcción (modificando la posición del punto C y las longitudes de \overline{AC} y \overline{BC}), mientras que la condición $AC = BC$ permanece invariante.

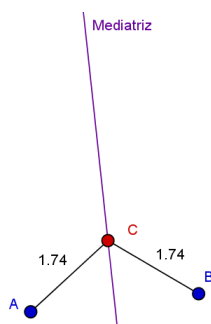


Figura 16. Arrastre vinculado para generalizar.

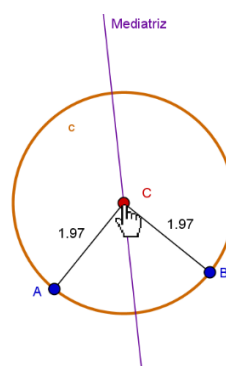


Figura 17. Arrastre para fusionar.

- *Fusión.* Si hay varios aspectos críticos que el estudiante debe tener en cuenta al mismo tiempo, todos ellos deben ser experimentados de manera simultánea (Marton, Runesson y Tsui, citados por Leung, 2003). En el ejemplo, la igualdad entre las longitudes de los segmentos, la mediatriz descubierta mediante el arrastre y el círculo de centro C que pasa por los puntos A y B, son aspectos críticos que pueden manifestarse visualmente y al mismo tiempo de una manera continua. La Figura 17 muestra la fusión, al momento que C es arrastrado a lo largo del lugar de validez.

Leung (2008), señala que la fusión se puede ejecutar a partir de diferentes estrategias de arrastre que permitan variar continuamente diferentes partes de un objeto de exploración en un SGD.

La Tabla 4 resume las definiciones que Leung le ha otorgado a cada uno de los patrones o funciones de variación en los documentos considerados para nuestro trabajo.

Tabla 4. Definiciones de los patrones o funciones de la variación.

Documento Patrón de variación	Leung (2003)	Leung y Yip-Cheung (2006)¹³	Leung (2008)
Contraste	Para experimentar algo, una persona debe experimentar algo más con lo que pueda compararlo.	Mientras que se experimentan OB y no OB, las características de OB podrían ser discernidas.	Contrastar es ver diferencias, comparar entre lo que es y lo que no es, así, es posible anticipar (conjeturar) lo que puede ser y lo que no puede ser. El arrastre errático y el arrastre guiado son dos modalidades de arrastre para contrastar.
Separación	Para experimentar un cierto aspecto de algo, y con el fin de separar este aspecto de otros aspectos, se debe variar mientras que otros aspectos se mantienen invariables.	Cuando una parte constitutiva (una dimensión de variación) de OB varía mientras que otras partes de OB permanecen fijas, se pueden identificar patrones ocultos relacionados con OB.	Separar, durante un episodio de arrastre, consiste en decidir qué se debe enfocar (primer plano) y qué debe ser puesto temporalmente a un lado o mantenerse fijo (fondo), para evidenciar patrones geométricos ocultos o las propiedades invariantes. El arrastre guiado, el arrastre en línea y el arrastre de lugar mudo son estrategias de arrastre para separar.
Generalización	Con el fin de entender completamente lo que es algo, debemos experimentar variando las apariencias de ese algo.	Mientras se experimentan diferentes apariencias de OB, las propiedades invariables (o conceptos) de OB pueden ser determinadas.	La generalización en un SGD se posibilita a través de la construcción de una figura robusta que permite verificar invariantes bajo diferentes apariencias del objeto de exploración. El arrastre vinculado y el arrastre test son modalidades de arrastre para generalizar.
Fusión	Si hay varios aspectos críticos que el estudiante debe tener en cuenta al mismo tiempo, todos ellos deben ser experimentados de manera simultánea.	Al mismo tiempo que se experimenta diferentes características críticas de OB simultáneamente, puede surgir algún "significado" relacionado con OB.	La fusión se trata de experimentar diferentes características críticas de un fenómeno al mismo tiempo. Diferentes partes de un objeto de exploración en un SGD se pueden variar continuamente a través de diferentes estrategias de arrastre.

¹³ Leung y Yip-Cheung (2006) denotan como OB al objeto de estudio o de exploración en el contexto del SGD.

4.2.3. Simultaneidad

De acuerdo con Leung (2008), la simultaneidad es un concepto clave para comprender cómo las funciones de la variación pueden promover el discernimiento y la conciencia. Experimentar variación equivale a experimentar diferentes instancias temporales o espaciales de un fenómeno al mismo tiempo, a esto se le denomina simultaneidad.

Según señala Leung (2003), experimentar variaciones simultáneas es una característica única de los SGD y esto es lo que hace que estos sistemas sean un poderoso medio de adquisición de conocimientos. Variar las diferentes partes de un objeto a través del arrastre, permite tener una conciencia simultánea de diferentes aspectos críticos de una situación geométrica y, por lo tanto, da lugar a un espacio potencial para la observación de la estructura matemática y el significado de diferentes formas cualitativas. Este tipo de simultaneidad es probable que constituya el momento crucial en la formación de conjeturas matemáticas, e incluso en la formulación de la prueba matemática.

Leung (2003, 2008) define dos tipos de simultaneidad:

- *Simultaneidad sincrónica.* Consiste en experimentar diferentes aspectos coexistentes de la misma cosa, al mismo tiempo (Marton, Runesson y Tsui, citados por Leung, 2003). La Figura 16 muestra un ejemplo de simultaneidad sincrónica en un SGD. En esta situación, diferentes características críticas coexisten visualmente en la misma imagen: las longitudes de \overline{AC} y \overline{CB} , la mediatriz del \overline{AB} y el círculo que pasa por A y B. Todas estas características producen una experiencia simultánea de las relaciones entre todas las partes.
- *Simultaneidad diacrónica.* Consiste en experimentar las diferentes instancias que varían al respecto de forma simultánea, es decir, experimentar casos que hemos encontrado en diferentes puntos en el tiempo, al mismo tiempo (Marton, Runesson y Tsui, citados por Leung, 2003). En particular, en el caso del problema de la construcción desarrollado líneas atrás, la simultaneidad diacrónica se manifiesta visualmente en el rastro que deja el arrastre del punto C, cuando las distancias son iguales. Cada ubicación anterior del punto C en dicho rastro es una experiencia pasada y es visualmente coexistente con la posición actual de C.

4.2.4. Discernimiento anidado

Leung (2008) propone una manera de experimentar la exploración con la herramienta arrastre en un SGD, estructurada en funciones de variación que consiste en un anidamiento de tres modos de discernimiento (Figura 18).

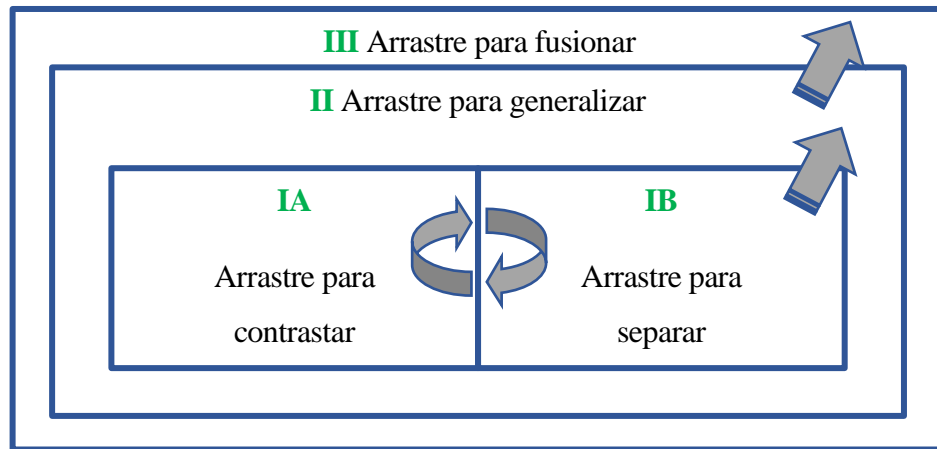


Figura 18. Discernimiento anidado.

De acuerdo con este esquema, Leung (2008) sugiere que cualquier tarea resuelta en un SGD a través del arrastre, puede empezar con el modo de discernimiento I, en el cual se combinan dos patrones de variación. El modo IA es el arrastre para contrastar, que se usa para determinar diferentes dimensiones de variación y para observar cualquier patrón emergente que podría conducir al modo de discernimiento IB. El modo IB es el arrastre para separar, en el que se elige una dimensión para que sea la variante mientras que otras dimensiones se mantienen fijas. Además, la interacción entre IA y IB posibilita la construcción de un lugar de validez para la dimensión de variación elegida y, en consecuencia, la formación de una conjetura preliminar. El tránsito entre estos dos modos, permite el paso natural al modo de discernimiento II (en el que se incrusta el modo I), cuyo propósito es buscar la generalización de lo que fue descubierto en el modo I. Cuando esto se logra, se alcanza el modo de discernimiento III, en el que las diferentes características críticas del objeto se pueden observar simultáneamente a través de diferentes modalidades de arrastre que, posiblemente, se realizan sobre una figura robusta. Leung señala que, a lo largo de estos tres modos de discernimiento, se ejecutan las diferentes modalidades de arrastre correspondientes a cada patrón de variación.

4.2.5. Tareas digitales

Para finalizar este apartado, nos parece oportuno definir algunos conceptos claves para el desarrollo de nuestra propuesta desde los planteamientos de Leung (2011). Como lo señala este autor, una *tarea* en un entorno pedagógico consiste en una propuesta de actividades, dirigida a los estudiantes, con un propósito de aprendizaje. Un *entorno pedagógico* puede estar formado por maestro(s), estudiantes, el espacio físico, las herramientas utilizadas para la enseñanza y el aprendizaje, e incluso, el uso de enfoques pedagógicos en el aula. De acuerdo con esta definición y con nuestro interés de proponer tareas mediante el uso de GeoGebra y Moodle, las tareas que vamos a diseñar constituyen un entorno pedagógico formado por el estudiante, el computador como herramienta, tareas que hacen uso de un SGD y un AVA y, por último, el enfoque teórico elegido para definir la Actividad Demostrativa, en particular, los procesos de conjeturación y argumentación. Desde nuestra interpretación, las tareas digitales son aquellas que se proponen haciendo uso de algún tipo de material digital.

4.3. Actividad demostrativa

Para el estudio de la actividad demostrativa abordaremos de manera general la concepción planteada por el grupo de Aprendizaje y Enseñanza de la Geometría [$\mathcal{A}\cdot\mathcal{G}$] de la Universidad Pedagógica Nacional (Colombia), teniendo en cuenta que nuestro trabajo se adscribe a la línea de investigación Argumentación y Prueba en Geometría de dicho grupo. En este caso, se considera pertinente aclarar qué se entiende por razonamiento, argumentación, conjetura, justificación y otros. Por otro lado, se hace necesario detenernos en el estudio de los argumentos, para ello utilizamos la teoría que realizan Harel y Sowder (1998), ya que, por la naturaleza de la propuesta, nos interesa abordar este proceso desde un punto de vista restringido a la actividad individual del estudiante, al auto convencimiento de quien interactúa con el material digital, a partir de tareas sugeridas.

Los procesos de conjeturación y de justificación, al interior del grupo $\mathcal{A}\cdot\mathcal{G}$, hacen parte de la actividad demostrativa y se encuentra una fuerte relación entre ellos. En palabras de Samper, Molina, Perry y Camargo (2013) “se justifica lo que se conjetura” (p. 17). Aunque el proceso de conjeturación suele surgir antes que el de justificación (Franco y Moreno, 2011), no significa que los procesos se desarrollen por separado.

La conjeturación es un proceso en el que los estudiantes realizan acciones como observar, visualizar, explorar, analizar, generalizar, verificar, entre otras, sobre los objetos geométricos. La finalidad del proceso de conjeturación es que surja un enunciado o conjetura y que esta tenga un carácter general. A pesar de su carácter general solo se puede sospechar un alto grado de certeza, esto significa que se desconoce su nivel de validez hasta que sobre la conjetura se realice una justificación.

El grupo $\mathcal{A}\cdot\mathcal{G}$ entiende que la justificación es un proceso cuya meta es la producción de una argumentación que valide la conjetura formulada, es decir, la sustente como verdadera dentro de algún sistema de conocimiento (Samper y Molina, 2013); normalmente la argumentación que valida la conjetura, dentro del proceso de justificación, usa los axiomas y teoremas producidos con anterioridad, es decir, es una argumentación de carácter deductivo. Es en este proceso de justificación donde las acciones de explicar, probar y demostrar conducen a la búsqueda y organización de ideas que permitan conformar la demostración de la conjetura, es decir, que justifiquen la conjetura encontrada.

De acuerdo con Samper y Molina (2013), no hay actividad demostrativa sin razonamiento y sin argumentación, estamos de acuerdo en que estas actividades están tan fuertemente enlazadas que se hace necesario distinguir qué entendemos por razonamiento y argumentación.

En primer lugar, para el grupo $\mathcal{A}\cdot\mathcal{G}$ el razonamiento o mejor el razonamiento matemático, hace uso de las reglas de las matemáticas, para conectar experiencias y saberes en búsqueda de indagar, obtener nueva información, interpretar la información, explicar los hechos hallados, formular dudas, contradecir, refutar, concluir, etc. En segundo lugar, por argumento se entiende que es un enunciado oral o escrito dirigido a uno mismo o a otra persona (Samper y Molina, 2013). Los argumentos son formulados con el propósito de apoyar una idea y a esto se le llama argumentación. Si lo que se desea es rechazar la idea se realiza un proceso de contraargumentación en el que deben presentar contraargumentos.

Consideramos que los argumentos son producidos durante el desarrollo de los procesos de conjeturación y de justificación, es decir, están presentes durante toda la actividad demostrativa, tal como lo mencionan Franco y Moreno (2011), "...es como si la argumentación fuera el telón

de fondo...” (p. 30). Ahora bien, los argumentos que surgen durante el desarrollo de la actividad demostrativa se presentan de formas diferentes que permiten su clasificación y estudio como se muestra más adelante acuerdo a la propuesta de Harel y Sowder (1998) –ver sección 4.3.2.–.

4.3.1. Conjeturación

Como se mencionó antes, en el apartado 2.2., nuestro interés es favorecer la argumentación, entendida como aquellas justificaciones que conducen al auto convencimiento y la persuasión individual respecto a la validación de una conjetura, haciendo uso del dinamismo y la interactividad de un conjunto de tareas digitales. Esto marca diferencias entre la forma habitual de investigar en el grupo $\mathcal{A} \cdot G$ y nuestros objetivos, veamos:

En primer lugar, en el proceso de conjeturación los estudiantes realizan acciones como observar, visualizar, explorar, analizar, generalizar, verificar, entre otras que favorecen la argumentación desde una perspectiva del autoconvencimiento del estudiante, mediado, claro está, por las tareas digitales propuestas, tal como es nuestro interés. Por otro lado, el proceso de justificación favorece la creación de argumentos deductivos que seguramente serán producto no solo del autoconvencimiento sino también de la discusión con los pares y con el docente, por lo cual el análisis del proceso de justificación desborda el interés de esta investigación.

Una segunda diferencia se evidencia al tener en cuenta la perspectiva sociocultural en la que se enmarca la actividad demostrativa, pues este es el enfoque de referencia del grupo de investigación $\mathcal{A} \cdot G$ (Franco y Moreno, 2011), de tal forma, es necesario mencionar que en el enfoque sociocultural las interacciones entre estudiantes y entre docente-estudiante son favorecidas, por esta razón múltiples investigaciones surgidas en el seno del grupo $\mathcal{A} \cdot G$ benefician las interacciones pues se considera que en ellas los estudiantes pueden explicitar los resultados del proceso de conjeturación.

Se vislumbra la diferencia de intereses con esta investigación, ya que en las investigaciones del grupo $\mathcal{A} \cdot G$ se favorecen las interacciones entre estudiante-estudiante y entre docente-estudiante, para nuestro caso nos interesa estudiar los argumentos surgidos de la interacción estudiante-tareas digitales.

4.3.2. Argumentación

En la vida cotidiana la argumentación es empleada de manera informal y no necesariamente debe conducir a una verdad (Arellano, 2013), la argumentación se aplica a cuestiones importantes para el individuo siendo el lenguaje habitual el medio para expresar y convencer. A pesar de lo anterior es claro, como lo señala Arellano (2013), que este razonamiento informal no es exclusivo de la vida cotidiana ya que es usado con frecuencia por las ciencias naturales y las matemáticas, es más, sucede como lo mencionan Godino y Recio, quienes consideran “a estas prácticas argumentativas informales no deductivas como los primeros estadios de la demostración” (Godino y Recio citados por Arellano, 2013, p.15).

En el desarrollo de este estudio centramos la atención en la argumentación desde un punto de vista restringido a la actividad individual del estudiante. En ese sentido, entendemos la argumentación desde la concepción de Harel y Sowder (citados por Flores, 2007), quienes la definen como aquellas justificaciones que conducen al auto convencimiento y la persuasión individual respecto a la validación de una conjetura.

Tal vez parezca poco común entender la argumentación de la forma limitada como la queremos explorar en esta investigación, sin embargo, no es lejana de las concepciones de argumentación que tienen otros autores, veamos:

- Samper et al. (2013) entienden que un argumento es un enunciado oral o escrito dirigido a uno mismo o a otra persona, producido con el propósito de apoyar una idea.
- Para Duval la argumentación es “más bien un razonamiento ligado al uso del lenguaje natural que obedece a vínculos de pertinencia y tiene como objetivo el convencimiento de los demás o de sí mismo, siendo por tanto muy cercano a las prácticas discursivas espontáneas” (Arellano, 2013, p.12).

Antes se había descrito que el grupo de investigación $\mathcal{A}\bullet\mathcal{G}$ sostiene que los argumentos son formulados con el propósito de apoyar una idea y a esto se le llama argumentación. El grupo también se interesa por el estudio de los argumentos para lo cual se apoya entre otros trabajos en la versión reducida que Boero, Douek, Morselli y Pedemonte (citados por Samper y Molina, 2013, p.19) presentan del modelo de argumentos que Toulmin publicó por primera vez en

1958, obra en la que el autor establece una estructura para los argumentos que es usada por el grupo $\mathcal{E}\cdot\mathcal{G}$ con la intención de clasificarlos en argumentos inductivos, abductivos y deductivos.

El estudio realizado por Toulmin (2007), si bien es bastante completo, no es el único que permite una clasificación de los argumentos, por ejemplo, Harel y Sowder (1998), autores de quienes tomamos la definición de argumento, proponen los esquemas de demostración que son retomados y ampliados en investigaciones (C. Flores et al., 2010; Flores, 2007) en las que los esquemas son utilizados para clasificar los argumentos y determinar qué esquemas de argumentación se usan al resolver actividades en un ambiente de geometría dinámica. De acuerdo con este autor, un esquema de argumentación es “el conjunto de acciones y razonamientos que un individuo pone en juego para justificar o explicar un resultado o para validar una conjetura nacida durante el proceso de resolución de un problema” (Flores, citado por C. Flores et al., 2010, p. 27). Los esquemas de argumentación se pueden clasificar en:

- *Autoritarios*. Los argumentos del estudiante se basan en los argumentos hechos por una autoridad, que puede ser un libro de texto, el profesor o un compañero.
- *Simbólicos*. El estudiante usa el lenguaje y los símbolos matemáticos de una forma poco consistente, sin llegar a conclusiones reales e, inclusive, mencionando conceptos poco claros o inventados.
- *De recuento fáctico*. Se exponen los pasos que se realizaron a manera de explicación o justificación de algún resultado obtenido.
- *Empíricos*. Se apoya en hechos físicos o en un dibujo, los cuales constituyen el argumento por sí mismo y no un apoyo para el argumento.
- *Analíticos*. Sigue una cadena deductiva, que no necesariamente conduce a una conclusión válida. Las proposiciones usadas en este tipo de esquema se pueden ajustar a una estructura condicional.

5. METODOLOGÍA

En este capítulo mencionamos las diferentes consideraciones metodológicas que tuvimos en cuenta para el desarrollo del trabajo de grado. En primer lugar, indicamos la perspectiva investigativa que se corresponde al trabajo desarrollado. En segundo lugar, describimos cómo realizamos la recolección de la información, a continuación, relatamos el contexto educativo en donde fueron implementadas las tareas diseñadas y recolectados los datos. En cuarto lugar, presentamos el diseño de la tarea 1, como ejemplo de la secuencia de tareas digitales propuesta, los demás diseños de las tareas y un análisis descriptivo de cada una de ellas pueden encontrarse en el Anexo 1. Finalmente, se mencionamos las herramientas teóricas con las que se realizó el análisis de los datos recolectados, con miras a trazar resultados y conclusiones del estudio de acuerdo a los objetivos del mismo.

5.1. Perspectiva investigativa

Las actividades fueron aplicadas en sesiones de clase con cerca de 35 estudiantes de grado séptimo, en sesiones de clase de hora y cincuenta minutos, hombres y mujeres cuyas edades oscilan entre los 12 y 16 años y, aunque contábamos con la plataforma Moodle para almacenar tanto las modificaciones realizadas a los applets por acción de los estudiantes como las respuestas a cada pregunta, la experiencia obtenida con las pruebas piloto realizadas a un grupo de estudiantes de similares características, además de permitirnos mejorar las tareas, mostró que era necesario, para nuestra labor investigativa, realizar un seguimiento continuo y detallado durante la interacción estudiante-tarea digital y de los procesos que tuvieron lugar durante dicha interacción, por tal razón decidimos centrar nuestra atención en la actuación de un grupo de pocos individuos, es por esto que reportamos el trabajo realizado por tres estudiantes al interactuar individualmente con las tareas digitales diseñadas en GeoGebra y dispuestas en una plataforma Moodle.

Según se infiere de lo descrito en el párrafo anterior, nuestra investigación es un estudio de casos (Gutiérrez, 1991) analizado desde una perspectiva cualitativa, puesto que tratamos de indagar cómo las tareas digitales pueden ser utilizadas para favorecer la argumentación

apoyándonos en diferentes elementos que funcionan como herramientas didácticas o teóricas tales como los SGD y la teoría de la variación.

Para la recolección de los datos fueron elegidos un estudiante hombre y dos mujeres, un estudiante de cada género fue elegido por tener alto rendimiento en la asignatura de matemáticas y la estudiante restante tenía un rendimiento promedio. Sin embargo, sus experiencias eran distintas. Por ejemplo, el chico había estudiado grado sexto en la misma institución en donde se aplicaron las tareas, las dos chicas venían de otras instituciones educativas, una de ellas hacía grado séptimo por segunda vez y aspiraba a promoción anticipada.

5.2. Recolección de la información

Las clases en las que se recolectó la información fueron realizadas en el aula de informática del colegio. Para la aplicación y recolección de la información se dispuso, por cada uno de los tres estudiantes analizados, un computador portátil con acceso a internet, además se instaló en cada uno el software Camtasia¹⁴ que fue empleado para grabar en video las interacciones, sucedidas en pantalla del computador, entre el estudiante y la tarea digital. Con este programa se registró además el audio de las conversaciones que sostuvieron el estudiante con el docente acompañante y un video adicional que capturó, con ayuda de la cámara frontal, lo ocurrido frente al computador mientras el estudiante desarrollaba cada tarea. El resto de estudiantes de la clase trabajó de manera individual o por parejas en la solución de las mismas tareas utilizando los computadores portátiles del aula y sus registros fueron guardados en la plataforma Moodle.

Sobre las interacciones entre estudiantes y docente acompañante es importante mencionar que aunque inicialmente esta interacción no estaba planeada, las pruebas piloto revelaron que era necesaria, pues en ocasiones fue necesario brindar asesoría sobre el uso del SGD y demás aspectos técnicos de la tarea y en otras, fue necesaria la interacción cuando las ideas de los estudiantes no resultaban claras, también cuando los estudiantes no verbalizaban ideas o estrategias que podrían resultar de importancia para el análisis.

¹⁴ El software y una descripción de este pueden ser encontradas en <https://www.techsmith.com/camtasia.html>

En todo caso la intervención de los docentes se realizó con la intención de apoyar la recolección de los datos y no como lo sería la interacción de un docente de aula habitual quien por ejemplo, intentaría guiar a los estudiantes para permitirles hallar ‘las respuestas correctas’. En algunas secciones del análisis se verá la interacción de los estudiantes con el docente o la docente, esto obedece a que en la práctica, los dos autores de este proyecto estábamos dispuestos a interactuar según lo requiriera la situación.

Por otro lado, y no menos importante, las tareas digitales fueron dispuestas en la plataforma Moodle del colegio y provista con el Módulo de GeoGebra para Moodle [MGM]. Estas tareas fueron diseñadas con la intención de recolectar datos para luego ser analizados, por tanto coinciden con lo que Medina, Manrique y Sua (2017) llaman *Actividades de Seguimiento*.

Disponer de las tareas en línea favoreció la aplicación de las tareas y su posterior análisis. En primer lugar, permitió ejecutar los applets en computadores que no tenían el software GeoGebra instalado, situación que resulta relevante cuando la instalación de programas se encuentra restringida, como sucede en los colegios públicos. Por otro lado, los cambios en la configuración y las respuestas que realizaron los estudiantes quedaron almacenadas en la plataforma, en línea y fueron descargadas para su revisión.

5.3. Contexto educativo

Las tareas digitales desarrolladas fueron aplicadas en Bogotá con estudiantes de un curso de grado séptimo, en una institución educativa distrital de la localidad de Bosa donde labora uno de los autores de esta investigación.

La experiencia de trabajar en un colegio de esta localidad permite afirmar que la movilidad de estudiantes de una institución educativa distrital a otra es bastante frecuente. En el curso en el que se hizo la recolección de datos fueron pocos los alumnos que estudiaron los grados quinto, sexto y hacen el séptimo en la misma institución; una de las razones, como se mencionó antes, es la movilidad estudiantil, otra, es que allí llegan estudiantes de otras ciudades a continuar su bachillerato. Atendiendo a lo antes mencionado, en clase se realizaron algunas preguntas a los estudiantes con la finalidad de identificar el nivel de apropiación de los conocimientos geométricos que, se supone, deberían conocer o por lo menos haber estudiado con anterioridad.

El diagnóstico mostró que en muchos casos los estudiantes hacían referencia a los objetos geométricos haciendo uso de imágenes mentales que no coincidían con la definición. Por ejemplo, algunos afirmaron que lo observado en la Figura 19 no es un triángulo o dudaron que lo sea pues no coincide con los “otros triángulos” que han visto. Se encontraron estudiantes que usaban indistintamente la palabra cuadrado y rectángulo para referirse a uno u otro. La mayoría de los estudiantes desconoció la palabra segmento y, además, desconocían la notación de los elementos geométricos. Luego, en diálogo verbal con ellos, algunos estudiantes reconocieron haber abordado el estudio de la geometría de manera poco profunda, mientras que el resto de ellos señaló no haber estudiado geometría con anterioridad.

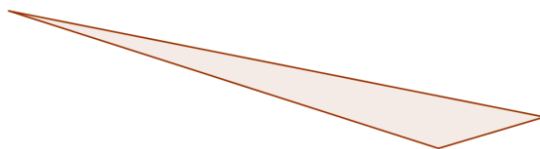


Figura 19. Objeto que según estudiantes no es un triángulo

Durante el primer trimestre de clases, se abordó con el grupo el estudio de objetos geométricos, revisando definiciones y notación de objetos como segmento, semirrecta, puntos colineales, circunferencia, cuerda de una circunferencia, ángulos, etc., solicitando que hicieran ejemplos y contraejemplos. También se estudiaron unas pocas proposiciones de la forma si-entonces.

Para la recolección de los datos fueron elegidos un estudiante hombre y dos mujeres, un estudiante de cada género fue elegido por tener alto rendimiento en la asignatura de matemáticas y la estudiante restante tenía un rendimiento promedio. Sin embargo, sus experiencias eran distintas. Por ejemplo, el chico había estudiado grado sexto en la misma institución en donde se aplicaron las tareas, las dos chicas venían de otras instituciones educativas, una de ellas hacía grado séptimo por segunda vez y aspiraba a promoción anticipada.

5.4. Diseño de la secuencia de tareas

Para el diseño de las tareas digitales se tuvo en cuenta que los estudiantes habían tenido poco acercamiento al programa GeoGebra. Por lo cual pensamos que era necesario escribir las instrucciones de las actividades de tal manera que fueran comprensibles para alguien que, como

en el caso de nuestros estudiantes, hubiera tenido poco contacto con un SGD y, aunque una escritura clara de las instrucciones era importante para el diseño, nos preocupó que por la poca experiencia resultara complicado para los estudiantes abordar un problema en el que se requiriera por ejemplo: realizar distintos tipos de arrastre que no conocían, utilizar herramientas para realizar construcciones, medir distancias o ángulos, elegir entre varios objetos geométricos en cual o cuales centrar la atención, variar algunos aspectos mientras otros aspectos permanecen invariantes, conjeturar sobre los fenómenos geométricos estudiados, entre otros.

Conscientes de lo anterior, decidimos dividir las tareas por etapas, esto significa que no solicitaríamos a los estudiantes la solución de problemas abiertos en los que ellos, como resultado a una pregunta abierta, proponen una conjetura surgida de la exploración realizada sobre una figura que debían construir siguiendo una secuencia de pasos establecida, como es práctica habitual en algunas investigaciones (ver Baccaglioni-Frank y Mariotti, 2010; Arzarello et al., 2002; Olivero, 2002; Samper, Perry, Camargo, Molina, y Echeverry, 2010; Samper y Molina, 2013).

En lugar de diseñar tareas con un problema abierto, diseñamos tareas donde cada una estaba compuesta por una serie de etapas en las que, para centrar la atención y las acciones del estudiante, se preparó un enunciado que bien podría ser una pregunta, una instrucción o ambas y una construcción con la que él podía interactuar mediante arrastre de los puntos que la conformaban. En cada etapa, el arrastre de los puntos de la construcción fue bloqueado o permitido atendiendo a qué parte de la configuración se quería resaltar de forma que el estudiante por medio de la interacción con el applet lograra superar cada una de las etapas hasta completar la tarea.

Este diseño nos permitió dirigir a los estudiantes por un camino que al recorrerlo no solo les aportaba para la solución de la tarea, también les permitía ganar destreza en el manejo de SGD. Por ejemplo, conocieron distintos tipos de arrastre, utilizaron distintas herramientas, hicieron algunas construcciones, etc.

Con el diseño de cada tarea perseguimos que el estudiante, luego de realizarla, modificara o reafirmara los argumentos que debían surgir a partir de los hechos geométricos explorados

etapa tras etapa de la tarea. Cada etapa fue diseñada pensando en favorecer (i) las funciones de la variación: *Contraste, Separación, Generalización o Fusión* –ver sección 4.2– y (ii) algunos de los tipos de arrastres mencionados en la sección 4.1.2 de este documento. El diseño se proyectó para que los estudiantes desarrollaran modalidades de arrastre y funciones de la variación básicas en las etapas iniciales y que progresivamente fueran avanzando hacia arrastres y funciones de la variación más avanzadas y de esta forma llevar a los estudiantes a experimentar los hechos geométricos de maneras nuevas y poderosas.

Con las ideas anteriores en mente y nuestro deseo por diseñar tareas que promovieran la argumentación y el descubrimiento de lugares geométricos relacionados con medidas de ángulos, longitudes o formas, tomamos hechos geométricos ampliamente conocidos por la comunidad matemática, trabajados habitualmente como problemas abiertos en cursos de geometría plana, y los adaptamos pensando en que su desarrollo pudiera ajustarse al diseño por etapas, hicimos la programación de ellos y aplicamos varias pruebas piloto.

La experiencia que tuvimos luego de aplicar pruebas piloto nos permitió reconsiderar algunos aspectos del diseño, por ejemplo: (i) modificamos el lenguaje empleado en las instrucciones, que inicialmente fue muy disciplinar y técnico, por uno más cercano al lenguaje habitual de los estudiantes, (ii) vimos necesario realizar el acompañamiento como docentes durante el desarrollo de las tareas, pues nos dimos cuenta que a pesar de los intentos por escribir las instrucciones con el lenguaje más sencillo siempre se presentaban cuestionamientos sobre el uso del SGD. (iii) modificamos la barra de herramientas que tendrían a disposición los estudiantes de acuerdo a las necesidades de cada una de las tareas y creación de la herramienta *Mostrar Huella* descrita en la sección 5.3.1. (iv) incluimos en el diseño un control que permitió a los estudiantes la navegación entre etapas ya superadas, pues en los diseños iniciales solo se permitió al estudiante abordar la etapa 1 y tras ella la 2, luego la 3 y así sucesivamente, sin permitir la navegación hacia atrás.

Cabe señalar, como se mencionó en el párrafo anterior, que el diseño de la secuencia involucró la personalización de la barra de herramientas de GeoGebra, eliminamos de la barra herramientas que no aportaban al desarrollo de la tarea (por ejemplo, las que permiten inclusión de texto o imágenes, creación de simetrías, polígonos, etc.) o aquellas que representaban la

solución de alguna tarea, como por ejemplo la construcción de la mediatriz en la tarea 3. Adicional a estas herramientas, diseñamos una herramienta que denominamos *Mostrar Huella*, la cual se incluyó en algunas etapas de las tareas. En lo que sigue se presenta una descripción de esta herramienta y de cada una de las tareas digitales creadas.

5.4.1. La herramienta *Mostrar Huella*

Dado que la secuencia de tareas digitales diseñada está enfocada al descubrimiento de lugares geométricos que cumplen determinadas condiciones relacionadas con medidas de ángulos, longitudes o formas, resultó importante para nosotros aprovechar al máximo las herramientas que ofrece GeoGebra para visualizar dichos lugares. En particular, este software ofrece la opción o herramienta *Rastro* que permite trazar el recorrido que realiza un punto cuando se arrastra. Durante el desarrollo del trabajo advertimos que, aunque esta herramienta tiene grandes potencialidades para visualizar lugares geométricos, también tiene algunas falencias.

Para empezar, en las pruebas piloto notamos que al usar esta herramienta los estudiantes, por su poca experticia con SGD, tienden a adivinar el camino que debe seguir el punto al ser arrastrado, prestando progresivamente menos atención a mantener las condiciones deseadas. Es decir, les es difícil seguir de manera simultánea una o varias condiciones y fijarse en la forma que deja el rastro del punto que es arrastrado. Ahora bien, suponiendo que un estudiante logre arrastrar un punto cumpliendo unas condiciones determinadas y con el *Rastro* activo, el recorrido trazado se borra al arrastrar la pantalla, hacer zoom, avanzar entre etapas o guardar en la plataforma Moodle, es decir, en todos estos casos no queda registro del camino seguido por el estudiante al arrastrar el punto. Adicionalmente, este recorrido no se puede seleccionar y no posibilita la ubicación de puntos u otras figuras sobre él.

Interesados por resolver las falencias descritas, usamos las herramientas de GeoGebra para crear una nueva herramienta que respondiera a las necesidades de las tareas: la herramienta *Mostrar Huella*. Esta herramienta permite visualizar el recorrido que realiza un punto, pero, a diferencia de la herramienta *Rastro*, dicho recorrido está formado por otros puntos que corresponden a posiciones que ha ocupado el punto arrastrado previamente.

Por ejemplo, consideremos la situación de la tarea 2 en la que el estudiante debía encontrar las diferentes posiciones del vértice B del ángulo $\sphericalangle ABC$ en las que se mantenía igual la medida del ángulo. Si el estudiante elige una medida de 40° y realiza el arrastre del vértice B manteniendo dicha medida, luego puede activar la opción *Mostrar Huella* para observar el camino que recorrió el punto conservando la condición (Figura 20.a.). Además, el estudiante podría construir una circunferencia a partir de algunos de estos puntos para verificar que al arrastrar el punto B en algunas partes de esta circunferencia, se mantiene su medida (Figura 20.b.).

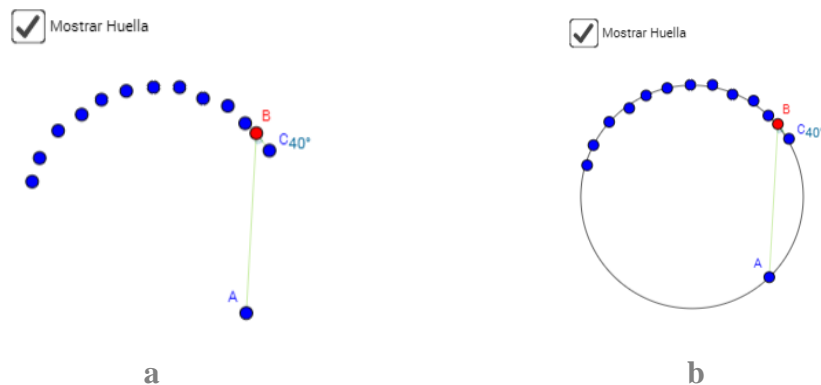


Figura 20. La herramienta *Mostrar Huella*.

Lo descrito demuestra que esta herramienta permite resolver las falencias señaladas antes, pues posibilita que el estudiante realice el arrastre del punto manteniendo la condición y sin confundirse con su *Huella*, pues puede visualizarla después de hacer el arrastre. En un nivel mayor de experticia, los alumnos pueden realizar el arrastre con la herramienta activada para observar el recorrido al mismo tiempo que lo realizan. La herramienta también permite que los puntos que representan el recorrido sean usados para realizar otras construcciones sobre ellos. Así mismo, la herramienta mantiene la configuración creada por el alumno entre etapas y no se borra al realizar arrastres o hacer zoom.

5.4.2. Diseño tarea 1. El triángulo rectángulo

Esta tarea está compuesta por siete etapas, con esta se pretendía que el estudiante lograra identificar la relación condicional *SI en un triángulo ABC, el ángulo en el vértice B es recto, entonces los puntos A, B y C están contenidos en una circunferencia de diámetro AC* o una equivalente a esta.

En la primera etapa se mostró en pantalla un triángulo ABC – ver Figura 21 – con ángulo en B recto. Se optó por mostrar también el punto medio del \overline{AC} pues el estudiante podría crear un significado de este punto en realización con la solución de la tarea. En la construcción el único punto móvil era B, por lo tanto, el discente podía cambiar la configuración de la construcción arrastrando este punto. En la construcción se indicaba también la medida del ángulo B; esta configuración fue la base para el diseño de otras etapas, por tanto, la llamaremos configuración básica. Al mismo tiempo que se mostraba en pantalla la configuración básica se presentaba al estudiante el siguiente cuestionamiento:

Anticipa. 1. ¿Crees que el punto B se puede ubicar en otro lugar, de tal forma que el ángulo siga midiendo 90° ?

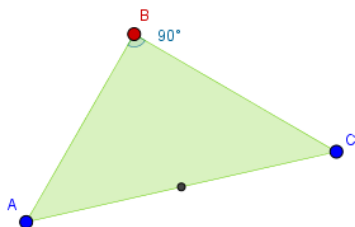


Figura 21. Configuración básica etapa 1. Tarea 1.

La intención en esta etapa era llamar la atención del estudiante sobre la medida del ángulo B y que él, de manera intuitiva o apoyado en el SGD, contestara la pregunta afirmativa o negativamente.

En la segunda etapa la configuración de la construcción se presentó al estudiante igual a como la dejó luego de realizar la primera etapa. La instrucción que acompañó esta etapa fue:

Verifica. 2. Haz clic en el punto B y muévelo para buscar otra posición en la que el ángulo mida 90° . ¿Solo hay una posición que cumpla esta condición? Explica cómo llegaste a tu respuesta.

En esta etapa buscábamos que el estudiante a partir de la exploración de la configuración, mediante el arrastre del punto B, validara o refutara la respuesta que dio en la primera etapa. Sobre los arrastres realizados esperábamos que se encontraran inicialmente entre las modalidades de arrastre errático o para ajustar.

De igual forma se buscó que el estudiante no detuviera la exploración tras hallar un lugar donde la medida del ángulo fuera 90° , por el contrario, desde la pregunta invitamos al estudiante, a modo de reto, a que encontrara más lugares en los que la condición se cumpliera. Detrás de la

solicitud de pedir al estudiante encontrar otros lugares teníamos la intención que él contrastara esos lugares en los que se cumple la condición con lugares en los que no, es decir, esta etapa favorecía la función de variación contraste.

En la tercera etapa, el estudiante además de encontrar la configuración básica, tal como la dejó luego de los arrastres realizados en la etapa previa, encontró unos puntos auxiliares que podían ser arrastrados (Figura 22.a.). El enunciado para esta etapa incluyó una instrucción y una pregunta:

Explora. 3. Se han creado algunos puntos auxiliares. Muévelos a diferentes posiciones para que el ángulo marcado sea de 90° . ¿Qué figura se puede formar con todos los puntos cuando el ángulo que marcan es de 90° ? Explica tu respuesta.

Con la realización de esta etapa esperamos que el estudiante arrastrara los puntos auxiliares como se le indicó en la instrucción logrando una configuración similar a la que puede ser observada en la Figura 22.b. La solución misma a esta etapa se configuraba como una modalidad de arrastre en línea, pero para alcanzarla el estudiante debía realizar arrastres para ajustar. Al igual que en la etapa anterior buscábamos que el estudiante hiciera contraste entre las posiciones de los puntos en los que se cumple la condición y en las que no, es decir, favorecíamos la función de variación contraste. Como solución a esta etapa el discente debía cambiar la posición de los puntos, uno por uno, hacia un lugar (semicircunferencia) en el que se favoreciera la condición, esperábamos que diera cuenta de este hecho en la respuesta que le permitía avanzar a la cuarta etapa, siendo así, al esperar que el estudiante identificara este lugar favorecimos la función de variación separación.

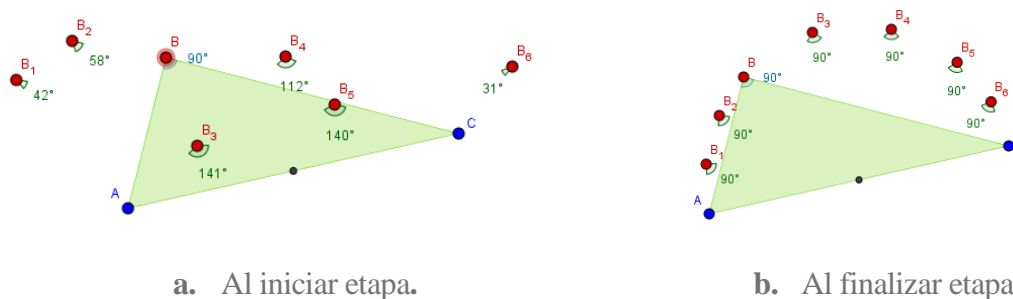


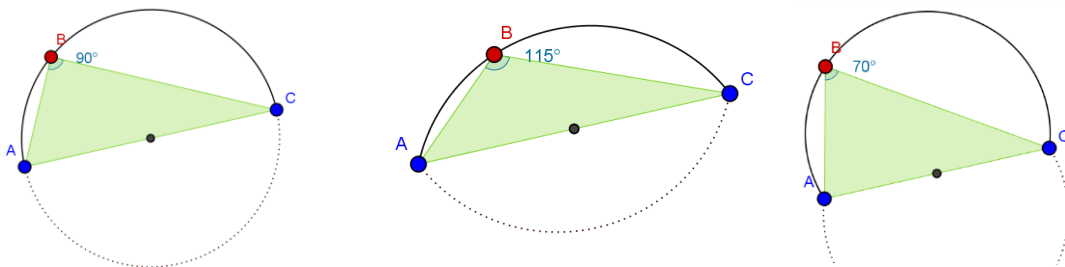
Figura 22. Configuración etapa 3. Tarea 1.

En la cuarta etapa mostramos, además de la configuración básica, dos arcos de circunferencia (ver Figura 23.) El primero de ellos, marcado en línea negra continua, es el arco determinado por los puntos A , B y C y, el segundo, marcado en línea punteada para resaltar la dependencia del primero, es el simétrico del primer arco respecto a la recta AC . El enunciado para esta etapa fue:

Explora. 4. Mueve el punto B a diferentes lugares y observa qué pasa con la medida del ángulo. ¿Qué condición debe cumplir la curva para que el ángulo en B mida 90° ?

Para el diseño de esta etapa pensamos en dejar fijos algunos aspectos de la configuración. Tal como se mencionó antes, se mantuvieron fijos en la configuración los puntos A y C del triángulo ABC y el punto medio del segmento AC mientras que otros aspectos en la configuración eran susceptibles de variación, en este caso, el estudiante moviendo el punto B variaba no solo la posición del punto, variaba también los arcos y con ello la forma de la figura formada por ellos. También esperábamos que el discente al arrastrar a B lo llevara por lugares en los que no se cumpliera la condición, Figura 23 b-c, y otros en los que, si se cumpliera, ver Figura 23.a. Otro propósito que perseguíamos para esta etapa, es que el estudiante al arrastrar al punto B a una posición en la que se cumpliera la condición sobre la medida del ángulo B , se percatara que esto sucede cuando los arcos son semicircunferencias y por tanto determinan una circunferencia.

De acuerdo con lo descrito, esperábamos que surgieran modalidades de arrastre errático, para ajustar y posiblemente arrastre guiado; en cuanto a las funciones de la variación que favorecimos con esta etapa están contraste y separación, aunque era posible la aparición de generalización.



a.

b.

c.

Figura 23. Lugares a los que mover el punto B etapa 4. Tarea 1.

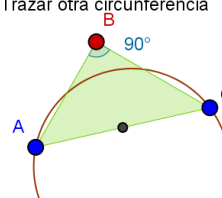
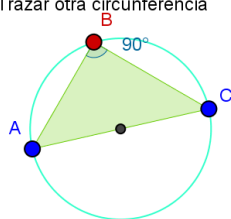
En la quinta etapa de esta primera tarea, además de la configuración básica, se incluyeron dos controles de selección, al marcar el primero se trazaba la circunferencia con diámetro AC y, al marcar la segunda opción, se trazaba otra circunferencia, es decir, una que no tuviera por diámetro al segmento AC . Figura 24.a. y Figura 24.b. respectivamente. El enunciado para esta etapa contenía la siguiente instrucción: *Generaliza. 5. Se presentan dos opciones para trazar diferentes circunferencias. Mueve el punto B sobre cada circunferencia trazada y observa qué pasa con la medida del ángulo. Explica tu respuesta.*

Trazar circunferencia con diámetro AC

Trazar circunferencia con diámetro AC

Trazar otra circunferencia

Trazar otra circunferencia



a.

b.

Figura 24. Configuración etapa 5. Tarea 1.

Con la instrucción esperábamos que el estudiante al realizar lo solicitado identificara que al arrastrar a B , por sobre una circunferencia que no tuviera al segmento AC por diámetro, la medida del ángulo era diferente a 90° , mientras que al trazar la circunferencia con diámetro AC y arrastrar a B por sobre la circunferencia, la medida del ángulo se mantenía en 90° , es decir, esperábamos que el estudiante validara que el lugar debía ser una circunferencia aunque en esta etapa enfatizamos en que debía tener diámetro AC . Esperábamos también que usando la configuración básica y trazando la circunferencia de diámetro AC , el estudiante arrastrando a B por sobre la circunferencia pudiera observar diferentes apariencias en la que se cumple la condición solicitada sobre la medida del ángulo B .

De acuerdo con lo anterior, se esperaban modalidades de arrastre para ajustar, vinculado y guiado; en cuanto a las funciones de la variación se esperaban contraste, separación y

generalización; por otro lado, para los esquemas de argumentación se pretendía que surgieran empíricos o analíticos.

En la sexta etapa se presentó al estudiante la configuración básica y una serie de controles de selección que representaban seis opciones de conclusión (Figura 25). La instrucción para esta etapa fue:

Concluye. 6. De acuerdo con lo que observaste, ¿cuál de las opciones sería la conclusión del problema? Deja seleccionada UNA, la que más te parezca. Apóyate en la construcción para verificar si tu selección es apropiada.

El estudiante por medio de los controles de selección elegía la conclusión que a su parecer se ajustara más a lo observado, resaltando la forma si-entonces. Las opciones eran:

1. SI el segmento AC es diámetro de una circunferencia y B es otro punto de la circunferencia, ENTONCES, el triángulo ABC tiene un ángulo recto en el vértice B.
2. SI una circunferencia contiene a los puntos A y C y se traza un triángulo ABC, ENTONCES, B pertenece a la circunferencia.
3. SI en un triángulo ABC, el ángulo en el vértice B es recto, ENTONCES los puntos A, B y C están contenidos en una circunferencia de diámetro AC.
4. SI el segmento AC es el diámetro de una circunferencia y se traza el triángulo ABC, ENTONCES el punto B pertenece a la circunferencia.
5. SI en una circunferencia que contiene a los puntos A, B y C se traza un triángulo ABC, ENTONCES, el segmento AC es diámetro de la circunferencia.
6. SI en una circunferencia que contiene a los puntos A, B y C se traza un triángulo ABC, ENTONCES, el triángulo ABC tiene un ángulo recto en el vértice B

Elige una de las opciones

Opción 1

Opción 2

Opción 3

Opción 4

Opción 5

Opción 6

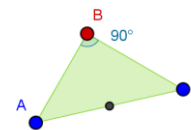
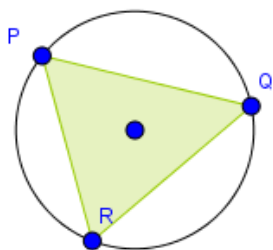


Figura 25. Configuración etapa 6. Tarea 1.



En la etapa siete, ya no se presentó la configuración básica. En lugar de ello se mostró una circunferencia, su centro y el triángulo PQR con vértices en la circunferencia (Figura 26). Todos los puntos podían ser arrastrados y el enunciado presentado en esta etapa incluyó una instrucción y una pregunta:

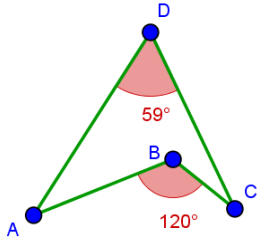
Figura 26. Configuración etapa 7. Tarea 1.

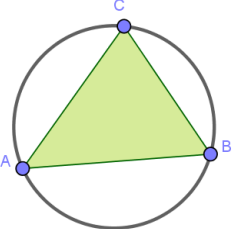
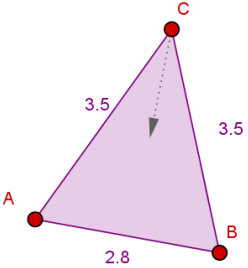
Aplica. 7. Mueve los puntos P , Q y R para que el triángulo representado tenga un ángulo de 90° . ¿Por qué crees que esa debe ser la ubicación de los puntos? Explica.

Esperábamos que en esta etapa el estudiante, evocando lo acontecido en las anteriores etapas, arrastrara dos de los puntos de la circunferencia hasta que estos determinaran un segmento que pasara por el centro de la circunferencia, es decir, determinaran un diámetro; lo anterior debía coincidir con una modalidad de arrastre para ajustar.

5.5. Herramientas teóricas

En este apartado presentamos las categorías que orientarán el análisis del trabajo realizado por los estudiantes al resolver las tareas propuestas y que se derivan de los conceptos descritos en el marco teórico. En primer lugar (Tabla 5), se presentan las categorías relativas a las modalidades de arrastre; para esto, se toman como base las modalidades de arrastre definidas por Arzarello et al. (2002), sobre las cuales se realizan algunas adaptaciones o se agregan otras modalidades, atendiendo a los trabajos de otros autores. En segundo lugar (Tabla 6), se presentan las modalidades relativas a las funciones de la variación, las cuales resultan de la interpretación del trabajo de Leung (2003, 2008), quien define dichas funciones en el contexto de los software de geometría dinámica. Por último (Tabla 7), se presentan las categorías relativas a los esquemas de argumentación, las cuales se definieron a partir del trabajo de Harel y Sowder (1998).

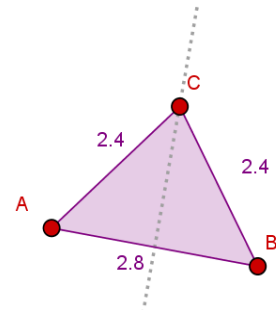
Tabla 5. Categorías relativas a las modalidades de arrastre						
Categoría	Definición	Intención	Indicadores	Ejemplos	Código	
Arrastre errático	Mover los puntos base de una construcción de manera aleatoria, sin un plan predefinido, para descubrir configuraciones interesantes o regularidades en las figuras.	Explorar la situación para descubrir regularidades o propiedades.	Arrastrar un punto o una figura de manera aleatoria.	<p>(1) <i>Dados dos ángulos $\sphericalangle ABC$ y $\sphericalangle ADC$, determinar las posibles posiciones que pueden tener A, B, C y D, de manera que se cumpla que $m \sphericalangle ABC = 2 \cdot m \sphericalangle ADC$.</i></p> <p>El estudiante puede mover los puntos A, B, C y D, de manera aleatoria, para explorar la situación, en búsqueda de regularidades. En este caso se dice que está haciendo arrastre errático.</p>		MAE

Arrastre limitado	Mover un punto “semi-arrastrable”, es decir, un punto que se encuentra enlazado a un objeto. Dicho punto solo se puede mover sobre el objeto al que pertenece.		Arrastrar un punto sobre una figura que lo contiene.	<p>(2) <i>Dado un triángulo ABC y una circunferencia que contiene a los puntos A, B y C, modificar la posición de los vértices para que el triángulo ABC sea rectángulo.</i></p> <p>Cuando el estudiante mueve los puntos A, B y C sobre la circunferencia, para explorar la situación en búsqueda de regularidades, se dice que está haciendo arrastre limitado.</p>		MAL
Arrastre guiado	Mover un punto de una figura para darle una forma particular o mantener una medida. ¹⁵		Arrastrar el punto manteniendo la configuración entre los objetos geométricos representados en pantalla (forma) o la medida deseada.	<p>(3) <i>Dado un triángulo ABC, determinar las posibles posiciones que puede tener el punto C para que el triángulo sea isósceles.</i></p> <p>El estudiante puede mover el punto lo largo de una trayectoria, manteniendo iguales las longitudes los segmentos \overline{AC} y \overline{BC}, para obtener el triángulo isósceles. En caso, se realiza un arrastre guiado las longitudes de dos de los lados del triángulo.</p>		<p>C a de este por</p> <p>MAG</p>
Arrastre mantenido ¹⁶	Mover un punto para que la figura mantenga una propiedad, no necesariamente a lo largo de un camino preconcebido.		Arrastrar un punto manteniendo una propiedad que no corresponde al camino que sigue el punto.	<p>(4) <i>Construir una circunferencia que contenga a dos puntos A y B dados.</i></p> <p>El estudiante construye una circunferencia con centro en un punto arbitrario C y que contenga al punto A. Luego, empieza a arrastrar el punto C a lo largo de una trayectoria, manteniendo la intersección de la circunferencia con el punto B. El arrastre es mantenido porque el estudiante busca que se conserve la intersección, la cual es una propiedad que no corresponde al camino que sigue el punto C.</p>		MAM

¹⁵ Esta definición toma como base lo planteado por Leung (2008), quién señala que el arrastre guiado puede tener como objetivo darle una forma a una figura o mantener una medida en ella.

¹⁶ Baccaglioni-Frank y Mariotti (2010) proponen esta modalidad de arrastre como el modo en el que se arrastra un punto de una figura, no necesariamente a lo largo de un camino preconcebido, con la intención específica del usuario de mantener una propiedad particular. Nosotros realizamos una adaptación de esta propuesta, entendiendo que existen propiedades que no necesariamente están relacionadas con el punto que se está arrastrando; cuando se busca mantener este tipo de propiedades, hablamos de arrastre mantenido.

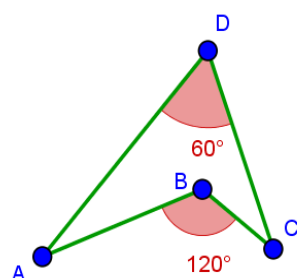
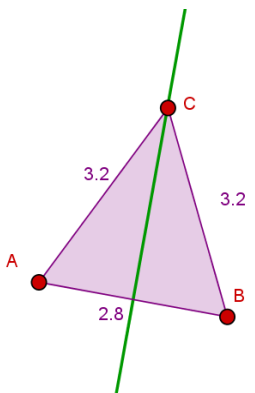
Arrastre del lugar mudo	Mover un punto base para que la figura mantenga una propiedad descubierta. El punto que se mueve sigue un camino, incluso si el estudiante no se da cuenta de esto. El lugar no es visible para el estudiante, que no siempre se da cuenta de que está realizando el arrastre a lo largo de un lugar.	Identificar el camino que debe seguir el punto para que se cumpla una propiedad descubierta.	Arrastrar un punto, sin la opción <i>rastro</i> activada, manteniendo una propiedad descubierta relacionada con este.	(3) El estudiante identifica que el camino que debe seguir el punto se aproxima a una línea y, en consecuencia, realiza el arrastre buscando seguir una trayectoria lineal. Aunque el lugar que describe el punto no es visible, el estudiante puede evidenciar su forma. Por lo tanto, este es un arrastre de lugar mudo.	MALM
Arrastre en línea	Mover un punto e ir marcando con otros puntos las posiciones de dicho punto que favorecen una propiedad descubierta.		Arrastrar un punto manteniendo una propiedad descubierta relacionada con este y ubicar puntos auxiliares en los casos donde esta se satisface.	(3) El estudiante arrastra el punto C, buscando mantener la congruencia entre los lados \overline{AC} y \overline{BC} . Al mismo tiempo, va marcando con puntos las posiciones de C que favorecen la congruencia. Así, realiza el arrastre en línea, lo cual permite visualizar una aproximación del camino que debe seguir el punto para cumplir con la propiedad.	MAEL



Arrastre con rastro activado ¹⁷	Mover un punto de una figura, con la opción <i>rastro</i> activada, de manera que sea posible visualizar el camino que ha recorrido el punto.	Arrastrar un punto, con la opción <i>rastro</i> activada, manteniendo una propiedad descubierta relacionada con este.	(3) El estudiante activa la opción rastro del punto C y, luego, lo arrastra conservando la congruencia entre los lados \overline{AC} y \overline{BC} . De esta forma, se realiza el arrastre con rastro activado.		MARA
Arrastre para ajustar ¹⁸	Mover un punto para lograr que una construcción cumpla	Arrastrar un punto hasta una posición	(1) El estudiante mueve el punto D hasta una posición que favorezca la propiedad deseada ($m\angle ABC = 2 \cdot m\angle ADC$). Así, el arrastre para ajustar permite que la figura cumpla una propiedad, aunque esta figura no sea	MAPA	

¹⁷ Esta modalidad se tomó de la propuesta de Baccaglini-Frank & Mariotti (2010). Cambiamos el término *traza* por *rastro*, para hacer referencia a la herramienta de GeoGebra.

¹⁸ Esta modalidad la definimos a partir de la estrategia arrastre para ajustar (drag-to-fit) planteada por Lopez-Real y Leung (2006). De acuerdo con estos autores, algunos problemas de construcción en un SGD se pueden resolver a partir de este tipo de estrategia. Si bien los autores no la conciben como una modalidad de arrastre, nosotros la reinterpretemos para definirla como tal.

	con una propiedad deseada.		en la que una propiedad se cumpla.	robusta.		
						
Arrastre vinculado	Mover un punto sobre una figura. ¹⁹	Verificar si la forma descubierta para el camino que recorre el punto es la correcta.	Construir una figura que parece representar la forma del camino que sigue el punto y, luego, arrastrar el punto sobre la figura. El punto puede o no estar enlazado a la figura.	(3) El estudiante construye la mediatriz del segmento \overline{AB} porque considera que, para obtener un triángulo isósceles, el punto C debe pertenecer a la dicha mediatriz, de acuerdo con las exploraciones que ha realizado antes. Luego, realiza el arrastre vinculado del punto C sobre esta recta, lo cual lo puede hacer de manera aproximada o enlazándolo a esta. Así, verifica su conjetura.		MAV
Arrastre test	Mover puntos arrastrables o semi-arrastrables para comprobar si la figura mantiene las propiedades iniciales.		Realizar una construcción del objeto o propiedad que se percibe y arrastrar los	(2) El estudiante plantea el siguiente procedimiento para construir el triángulo rectángulo de manera robusta: Primero, construir una circunferencia de diámetro AB. Luego, ubicar otro punto C sobre esta circunferencia. Por último, construir el triángulo ABC. Mediante el arrastre test, él verifica que el triángulo cumpla con las propiedades deseadas.	MAT	

¹⁹ Realizamos una adaptación de la propuesta de Arzarello et al. (2002), ampliando la definición de arrastre vinculado. En nuestro caso, consiste en arrastrar un punto sobre una figura, de manera que el punto puede o no enlazarse a dicha figura.

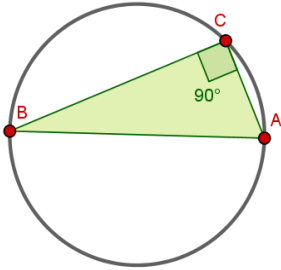
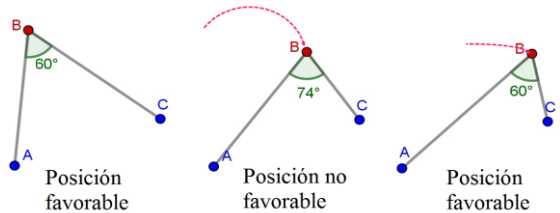
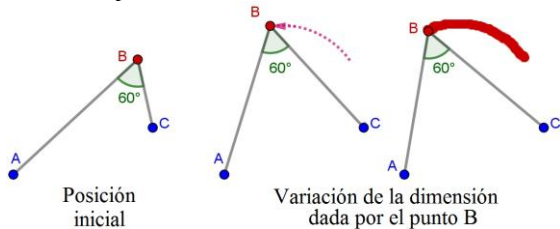
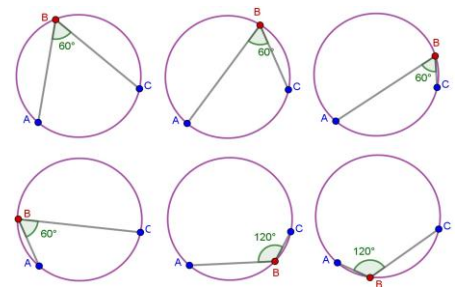
	Si es así, entonces se considera que la figura pasa la prueba. Sino, esto indica que la figura no fue construida según las características iniciales que el estudiante quería que tuviera.		puntos de los que depende esta figura para comprobar si cumple con las propiedades deseadas en distintas instancias.	
--	--	--	--	---

Tabla 6. Categorías relativas a las funciones de la variación

Categoría	Definición	Indicadores	Ejemplo	Código
Contraste	Experimentar la variación en una configuración con el fin de comparar los casos en los que se cumple una condición y aquellos en los que no.	<ul style="list-style-type: none"> • Variar la posición de un elemento de una configuración para encontrar posiciones en las que una condición se cumple y compararlas con las posiciones en las que no. • Variar la posición de un elemento de una configuración, dándole una forma o una medida particular a la configuración, para buscar casos particulares que favorecen que una condición se cumpla y casos que no. 	<p>Consideremos la siguiente situación:</p> <p><i>El ángulo ABC tiene una medida de 60°. ¿Crees que el vértice B se puede ubicar en otras posiciones de modo que se mantenga la medida del ángulo?</i></p> <p>El estudiante arrastra el vértice B a diferentes posiciones, buscando obtener la medida de 60°. Al hacer esto, el alumno tiene la posibilidad de comparar las posiciones de B que favorecen la condición y aquellas que no la favorecen, lo cual corresponde a una experiencia de contraste.</p> 	FVC

Separación	<p>Experimentar una dimensión de variación²⁰, mientras otras se mantienen fijas, con el fin de identificar patrones o propiedades invariantes.</p>	<ul style="list-style-type: none"> • Variar la posición de un elemento de una configuración manteniendo una forma o medida en ella, mientras los demás elementos de esta se mantienen fijos. • Variar la posición un elemento de una configuración con la opción rastro activada o marcando posiciones que cumplan con una condición. • Variar la posición un elemento hacia una posición en la que se cumpla una condición. 	<p>El estudiante arrastra el punto B, pero manteniendo la medida de 60° a lo largo del movimiento, de modo que experimenta la dimensión de variación determinada por este punto, mientras las otras permanecen fijas. Así, el alumno se encuentra dentro de la función de separación. En GeoGebra esto se puede realizar con o sin el rastro activado.</p> 	FVS
Generalización	<p>Experimentar variando las apariencias de una configuración, con el fin de verificar patrones o propiedades invariantes.</p>	<ul style="list-style-type: none"> • Variar la posición de un elemento de la configuración para observar diferentes apariencias de ella y, así, verificar qué propiedades se cumplen a través del arrastre. • Construir una configuración que aparentemente cumpla con las condiciones que se buscan y variar la posición de un elemento de la configuración para verificar que cumple con las condiciones deseadas a través del arrastre. • Construir un objeto geométrico y variar la posición de un elemento sobre este para verificar que, al hacerlo, se mantiene una propiedad. 	<p>El estudiante construye una circunferencia que aparentemente corresponde a la trayectoria que debe seguir el punto B para mantener la medida del ángulo en 60°. Entonces, él varía la posición de B sobre dicha circunferencia y verifica que en el arco \widehat{AC} se mantiene la medida deseada, pero que esto mismo no ocurre en el arco \widehat{CA}.</p> 	FVG

²⁰ Una *dimensión de variación* es un aspecto de un conjunto que puede ser sometido a variar. En una figura construida en un SGD, los puntos que se pueden arrastrar para modificar la figura son diferentes dimensiones de variación.

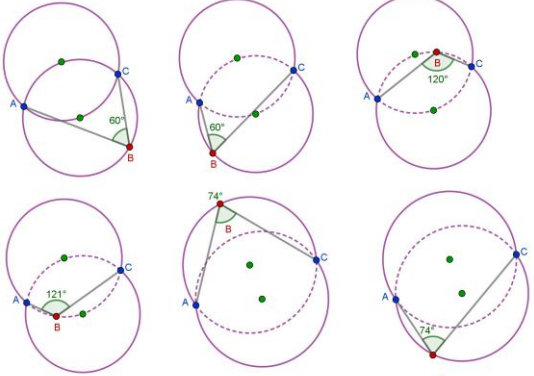
Fusión	<p>Experimentar diferentes características críticas de una configuración al mismo tiempo, con el fin de construir un significado²¹ relacionado con esta.</p>	<ul style="list-style-type: none"> • Variar la posición de uno o varios elementos de una configuración para explorar cómo cambian diferentes características de la misma. • Variar la posición de un elemento de una configuración atendiendo a varias características que se puedan modificar en ella. 	<p>En un nivel de exploración mucho más avanzado, el estudiante construye dos circunferencias y varía la posición del punto B sobre ellas o varía la posición de los puntos A y C para experimentar las diferentes dimensiones de variación que tiene la situación planteada y elaborar conclusiones generales. El alumno puede establecer que los ángulos que subtenden el mismo arco, son congruentes.</p> 	FVF
--------	---	---	--	-----

Tabla 7. Categorías relativas a los esquemas de argumentación

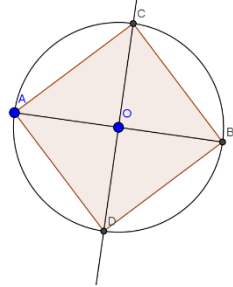
Categoría	Definición	Indicadores ²²	Ejemplo ²³	Código
Autoritarios	Los argumentos del estudiante se basan en los argumentos hechos por una autoridad.	<ul style="list-style-type: none"> • Basar el argumento en lo que aparece en un libro de texto, lo que dice el profesor u otro compañero. 	<p>(1) Ubicar un punto que esté a la misma distancia de dos puntos dados A y B. ¿Cuántos puntos diferentes se pueden ubicar que cumplan esta condición?</p> <p>Respuesta: “infinitos puntos porque el profesor dijo que entre dos puntos A y B hay infinitos puntos”.</p>	EAA

²¹ Según Orgill (2012), para que en la conciencia del aprendiz aparezca un determinado *significado* relacionado con un fenómeno, es necesario que él se fije en las características críticas de dicho fenómeno. Desde nuestra interpretación del trabajo de Leung (2003, 2008), las características críticas de un fenómeno pueden ser los aspectos de una configuración geométrica que se pueden experimentar como dimensiones de variación.

²² En este caso, los indicadores responden a qué usa el estudiante como garante del argumento, de acuerdo con lo descrito por Toulmin (2007), y a los planteamientos de Flores (2007) respecto a estos esquemas.

²³ Los ejemplos 2 al 5 se tomaron del trabajo de Flores (2007) quien, además, señala que las prácticas argumentativas de un individuo pueden mostrar una combinación de estos esquemas, tal y como se muestra en estos ejemplos.

			Aunque la respuesta no es una justificación adecuada para la situación, el alumno basa su respuesta en algo que mencionó el docente.	
Simbólicos	Los argumentos del estudiante se basan en el lenguaje y los símbolos matemáticos de una forma poco consistente.	<ul style="list-style-type: none"> • Construir el argumento sin llegar realmente a las conclusiones a las que se quiere llegar. • Mencionar conceptos poco claros o inventados como rectángulo equilátero o trapecio regular. 	<p>(2) <i>En un círculo cualquiera traza una cuerda. ¿Qué característica común tienen las mediatrices de las cuerdas de un círculo? Explica tu respuesta.</i></p> <p>Respuesta: “Las perpendiculares mediatrices de las cuerdas de un círculo pasan por el centro, lo vimos en pantalla”</p> <p>En la respuesta se combina un esquema empírico con uno simbólico, este último cuando se dice “las perpendiculares mediatrices”. Con decir mediatrices ya se está implicando la perpendicularidad.</p>	EAS
De recuento fáctico	Los argumentos del estudiante son una exposición de los pasos que realizó, a manera de explicación o justificación de algún resultado obtenido.	<ul style="list-style-type: none"> • Exponer una serie de pasos a manera de algoritmo. • Mencionar en la respuesta un recuento de lo realizado o repetir hechos evidentes de una situación a manera de explicación. 	<p>(3) <i>Construye un triángulo y une los puntos medios de sus lados. ¿Cómo son los triángulos que se forman? Explica tu respuesta.</i></p> <p>Respuesta: “Construir un triángulo cualquiera y unir sus puntos medios de sus lados. De ahí se forman triángulos congruentes, porque al comparar triángulo con triángulo se toman como referencia los segmentos paralelos y que al mover un vértice de un triángulo los ángulos son correspondientes e iguales con respecto a la referencia de que hay dos triángulos iguales (del mayor sale uno pequeño)”.</p> <p>Se trata de un esquema fáctico, combinado con uno empírico. Quien responde hace un recuento de lo que hizo con su construcción.</p> <p>(4) <i>Considera un trapecio y sus dos diagonales. Por el punto medio de una de las diagonales se traza una recta paralela a los lados paralelos del trapecio. ¿En dónde intersecará esta recta a la otra diagonal y a los lados no paralelos? ¿Por qué?</i></p> <p>Respuesta: “La interseca en el punto medio, tanto a la otra diagonal como a los lados no paralelos. Porque es paralela y pasa por el punto medio”.</p> <p>Su explicación consiste en repetir parte del enunciado del problema.</p>	EAR
Empíricos	Los argumentos del estudiante se basan en hechos físicos o en un dibujo.	<ul style="list-style-type: none"> • Hacer referencia al dibujo o el hecho físico que constituye el argumento por sí mismo y no un apoyo para la argumentación. • Validar la conjetura apelando al dibujo o a los hechos físicos. 	<p>(2) <i>En un círculo cualquiera traza una cuerda. ¿Qué característica común tienen las mediatrices de las cuerdas de un círculo? Explica tu respuesta.</i></p> <p>Respuesta: “Las perpendiculares mediatrices de las cuerdas de un círculo pasan por el centro, lo vimos en pantalla”.</p> <p>En la repuesta de (3) también se presenta un esquema de argumentación empírico ya</p>	EAE

			que con la función de arrastre comprobó el paralelismo de los lados de algunos triángulos. Quien responde midió ángulos correspondientes y comprobó que la igualdad de las medidas se conservaba con el arrastre.		
Analíticos	Los argumentos del estudiante siguen una cadena deductiva, que no necesariamente conduce a una conclusión válida.	<ul style="list-style-type: none"> Utilizar deducciones lógicas con el fin de validar las conjeturas (las proposiciones en este tipo de esquema se pueden escribir de la forma <i>si - entonces</i>). 	<p>(2) Respuesta: “Mediatriz es el lugar geométrico de puntos que equidistan de los extremos del segmento. Si desde el centro se trazan radios a los extremos de la cuerda, como son iguales, el centro equidista de tales extremos, por tanto, está sobre la mediatriz”.</p> <p>(5) <i>Construye un cuadrado y justifica tu construcción.</i></p> <p>Respuesta: “El segmento CD es mediatriz de AB, porque todos los puntos equidistan de A y B. (Sic.) El esquema utilizado es analítico, podríamos parafrasearlo del siguiente modo: Si los puntos equidistan de A y B, entonces el segmento CD es mediatriz de AB. Sin embargo, la argumentación tiene poco que ver con la justificación de la construcción. Tal vez podría ser sólo el principio de ésta”.</p>		EAD

6. ANÁLISIS

En este capítulo se presenta el análisis realizado sobre las acciones y respuestas de los estudiantes al resolver las tareas propuestas. Para tal efecto, se presenta una narración de lo que hizo el alumno en la tarea, acompañada de algunos de los diálogos que ocurrieron a lo largo del proceso de resolución y las imágenes que muestran sus actuaciones en el software. A lo largo del análisis, se identifican las modalidades de arrastre, las funciones de la variación y los esquemas de argumentación presentes, atendiendo a las categorías planteadas en la metodología, a través de una terna estructurada así: [modalidad de arrastre, función de variación, esquema de argumentación]; en los casos en los que no se presenta alguno de estos elementos, hemos ubicado un cero (0). En este apartado hemos incluido solo el análisis de la primera tarea resuelta por Luis; los análisis de las tareas restantes para Luis y de todas las tareas para Nicol y Sara se encuentran en el Anexo 2, al final del trabajo. Los nombres de los estudiantes han sido modificados para proteger las identidades de los menores de edad.

6.1. Análisis del trabajo de Luis en la tarea 1: el triángulo rectángulo

En el siguiente análisis veremos que Luis durante las exploraciones de las diferentes etapas realizó, además de arrastres erráticos y para ajustar, algunos arrastres guiados y vinculados. Los arrastres realizados por el estudiante se correspondieron con las cuatro funciones de variación, aunque principalmente con la de contraste que estuvo presente en las cuatro primeras etapas. Los argumentos presentados se correspondieron en su mayoría con esquemas de argumentación empíricos, unos pocos de recuento factico y otros tantos analíticos. Los hallazgos realizados por Luis durante el desarrollo de la tarea le permitieron responder acertadamente las preguntas realizadas e identificar relaciones de las que se dará cuenta en el análisis. A pesar de haber identificado correctamente las relaciones y de responder acertadamente durante toda la tarea, mientras realizaba la última etapa, encontramos que Luis tuvo dificultad para reconocer que un triángulo inscrito en una semicircunferencia seguía siendo un triángulo rectángulo cuando el vértice del ángulo recto se acercaba a alguno de sus otros vértices.

El estudiante leyó en voz alta la instrucción: *Anticipa. 1. ¿crees que el punto B se puede ubicar en otro lugar de tal forma que el ángulo siga midiendo 90°?*

Luego procedió a mover el punto B, como fue posible realizar algunos movimientos de arrastre sobre B, intentó lo mismo con el punto C y se percató rápidamente de que no era posible así que volvió a arrastrar a B por diferentes lugares. Usando el scroll mouse hizo alejamiento y acercamiento de la vista gráfica (zoom in y zoom out), al final movió la pantalla para visualizar mejor el triángulo como se ve en la Figura 27. Hemos considerado este primer arrastre dentro de la modalidad de arrastre errático pues se realizó de forma aleatoria, sin un plan predefinido. Adicionalmente pensamos que la variación realizada sobre la configuración le permitió a Luis comparar los casos en los que el punto era susceptible de arrastre y casos en los que no, por lo tanto, se enmarca en la función de variación contraste [MAE, FVC, 0].

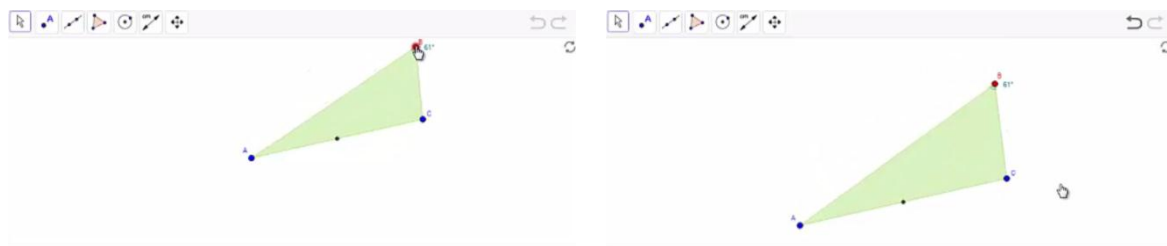


Figura 27. Arrastre de pantalla realizado por Luis.

Durante los movimientos el estudiante arrastró a B siempre por lugares en los que la medida del ángulo era menor de 90° , por lo que presumimos que llegó a pensar en la imposibilidad de encontrar otro lugar para B en el que se cumpliera la condición, evidencia de ello se encuentra en las siguientes líneas de transcripción. Consideramos que este arrastre realizado por Luis encaja en la modalidad de arrastre para ajustar, pues él arrastró con la intención de encontrar una posición en la que se cumpla una propiedad, en este caso que la medida del ángulo sea 90° .

1	Luis	Profe... ¿así era como estaba el triángulo?
2	Profesor 2	Dime.
3	Luis	Sí, así era como estaba el triángulo.
4	Profesor 1	Y, ¿qué pasa?
5	Luis.	No, no se puede... de otra forma no se puede [refiriéndose a que B no se puede ubicar en otro lugar de tal forma que el ángulo siga siendo de 90°].
6	Profesor 1	Y, ¿cómo sabes que así era como estaba el triángulo?... ¿se parecía?
7	Luis	Sí.

El estudiante recibió la sugerencia de mover el punto por otros lugares (arriba, abajo izquierda y derecha), él arrastró a B de izquierda a derecha y 'bajó' a B al otro semiplano determinado por la recta AC, el arrastre lo llevó a encontrar otro lugar en el que el ángulo se mantuvo con

una medida de 90° [MAPA, FVC, 0]. En este caso consideramos que Luis hizo cambios en la configuración representada en pantalla arrastrando el punto B con la intención de encontrar posiciones en la que se cumpliera que la medida del ángulo es 90° , lo cual lo llevó a experimentar la variación de la configuración comparando los casos en los que se cumple una condición y aquellos en los que no.

Durante el arrastre realizado, él mencionó “Ahí va aumentando” [haciendo referencia a que el arrastre del punto B, como se muestra en la Figura 28, causó que la medida del ángulo aumente] [MAPA, FVS, EAE]. Consideramos esto puesto que Luis varió la apariencia de la configuración, mediante el arrastre continuado del punto B buscando la medida de 90° , lo que lo llevó a identificar un patrón. En esta misma afirmación hecha por Luis, detectamos un esquema de argumentación empírico pues menciona “ahí va aumentando” basando su afirmación en la configuración que tenía en GeoGebra, la cual él modificó mediante el arrastre de B, identificando que la medida del ángulo aumentaba conforme se acercaba al segmento AC.



Figura 28. Arrastre que permite al estudiante relacionar el movimiento ascendente de B con un aumento en la medida del ángulo ABC.

El estudiante volvió a leer la instrucción y se disponía a responder cuando preguntó al profesor si debía responder usando la palabra “creo”, a lo que el profesor regresó la pregunta respondiéndole “¿crees?” El estudiante tras reflexionar y señalar la nueva ubicación de B, posición de B en la que el ángulo sigue siendo de 90° , dice: “¿podemos decir que eso es una afirmación! ¿No?... Algo así” y responde por escrito: “Es una afirmación que el punto B se puede ubicar en otro lugar de tal forma que siga siendo un ángulo recto” [sic] [MAPA, FVC, EAE]. Pensamos que la afirmación hecha por Luis se corresponde con un esquema de argumentación empírico ya que haciendo uso del arrastre para ajustar comprobó que existe otro lugar al que se puede arrastrar B de tal forma que siga teniendo un ángulo recto. De igual

manera pensamos que el arrastre realizado por Luis le permitió comparar los casos en los que se cumple la condición deseada con aquellos en los que no.

Luego Luis dio clic en un lugar que no le permitió avanzar a la siguiente etapa, en lugar de ello oprimió el botón encargado de reiniciar el applet. Fue necesario indicarle cómo debía proceder para ingresar las respuestas y desplazarse por el applet. Tan pronto estuvo lista la tarea para que Luis reiniciara su desarrollo, él tomó a B y lo arrastró de tal manera que sin vacilar halló una posición en la que se cumple la condición buscada. Lo singular en este arrastre, aun cuando se enmarca en arrastre para ajustar y en la función de variación de contraste, es que el camino que siguió con el punto B describió la mediatriz del segmento AC. Vale aclarar que Luis al momento en que desarrolló esta tarea no conocía este lugar geométrico. Sospechamos que el arrastre que Luis hizo le permitió verificar la relación que identificó antes, es decir, le permitió verificar que a medida que el punto B se acerca al segmento AC la medida del ángulo aumenta y de ser ciertas nuestras sospechas, lo hecho por Luis se corresponde con la función de la variación generalización, [MAPA, FVG, EAE].

Antes de ingresar nuevamente la respuesta a la primera etapa de la Tarea 1, él arrastró el punto B con mayor libertad, encontrando varios lugares en los que B satisfacía la condición [MAPA, FVC, EAE]. Finalmente, Luis ingresó la misma respuesta y avanzó a la etapa 2. Como se mencionó antes, el arrastre hecho por Luis coincide con la modalidad de arrastre para ajustar y con la función de variación contraste puesto que la intención que tuvo al arrastrar el punto B fue hallar algunas posiciones en las que se cumpliera que la medida del ángulo fuese 90° y las comparó con otras posiciones en las que no.

En la segunda etapa, Luis volvió al leer la instrucción en voz alta: *Verifica. 2. Haz clic en el punto B y muévelo para buscar otra posición en la que el ángulo mida 90°* . Como él ya había realizado una exploración que le permitió anticipar la respuesta, de inmediato buscó la aceptación, se dirigió al profesor y le dijo “Profe... huy profe... [Pausa larga]... mire es que acá dice... [Leyó en voz alta la instrucción y afirmó...] hay muchas posiciones, yo ya miré” Esta afirmación de Luis corresponde con un esquema de argumentación de recuento factico pues al escribir “yo ya mire” evocó las veces que arrastró a B encontrando otras posiciones en las que se cumple la propiedad “el ángulo mide 90° ” [MAPA, FVC, EAR].

Al estudiante se le solicitó que escribiera ‘eso’ [haciendo referencia a lo que había encontrado]. Luis se mostró indeciso sobre lo que debía hacer por lo que además preguntó “cómo escribo... es que...”. Tras una pausa el docente debió intervenir y preguntó ¿qué hiciste con el punto? A lo que el estudiante respondió de manera no verbal, él tomó el mouse y arrastró a B a lugares donde previamente había encontrado que se cumplía la condición. En este caso, el arrastre realizado por Luis varió parte de la configuración mientras otra parte permaneció invariante y esto logró evidenciar que en más de una posición de B el ángulo media 90° [MAPA, FVS, 0].

En diálogo con el docente, el estudiante también utilizó sus dedos para señalar distintas partes de la pantalla donde previamente conocía que el punto B podía ser arrastrado y la medida del ángulo cumplía la condición deseada. El estudiante fue animado a escribir sus hallazgos utilizando sus palabras, para lo cual él menciona “hay como seis”. El profesor le recuerda que la pregunta es ¿solo hay una posición que cumpla esta condición? A lo que él estudiante responde de manera verbal que no y escribió:

“encuentro más de una posición en la que el ángulo mide 90° ” [sic] [MAPA, FVG, EAR]. Consideramos que la afirmación realizada por Luis se corresponde con un esquema de argumentación de recuento fáctico puesto que antes de expresarla, en diálogo con el docente, hizo un recuento de lo realizado señalando hechos evidentes de la situación a manera de explicación. Adicionalmente, el arrastre realizado para ajustar el punto B en posiciones en las que se cumplió la condición le permitió a Luis verificar que en efecto, existen varias posiciones de B en la que la medida del ángulo es 90° , lo cual corresponde con la función de variación generalización.

Luis avanzó a la siguiente etapa y leyó en voz alta: *Explora. 3. Se han creado algunos puntos auxiliares. Muévelos a diferentes posiciones para que el ángulo marcado sea de 90° . ¿Qué figura se puede formar con todos los puntos cuando el ángulo que marcan es de 90° ?*

El estudiante al parecer no comprendió la instrucción, por lo que se dirigió a la docente quien se encargó de repetir la instrucción “se han creado algunos puntos”, a lo que el estudiante asintió. El docente continuó diciendo, muévelos a diferentes posiciones para que el ángulo marcado sea de 90° y continuó: todos los puntos están indicando un ángulo, tienes que moverlos para que

cada uno marque ese ángulo de 90° . Finalmente, el estudiante pareció comprender la indicación y asiente de nuevo.

El estudiante tomó uno de los puntos auxiliares y lo arrastró sin dilación al otro semiplano determinado por la recta AC, buscando una posición similar a la observada en la Figura 28, posición en la que él conocía se cumplía la condición para la medida del ángulo. Luego procedió a arrastrar los demás puntos auxiliares haciendo movimientos rápidos y ágiles a distintas partes de la pantalla. Consideramos que la cantidad y ubicación de los puntos auxiliares al iniciar la etapa influyó en la estrategia que Luis desarrolló y siguió con la finalidad de completar la etapa. Distinguimos dos momentos en la estrategia elegida y que dependieron de sus exploraciones y hallazgos previos.

El primero, que coincidió con la modalidad de arrastre errático, sucedió cuando él arrastraba el punto auxiliar por lugares en los que sus exploraciones previas no lo llevaron a encontrar un lugar en que se cumpliera la condición. En este caso él arrastraba a B de manera desordenada y si bien el arrastre era ágil, también era en todas las direcciones, intentando hallar un valor para la medida del ángulo suficientemente cercano a los 90° ; esta modalidad de arrastre fue bastante empleada en cercanías a los extremos del segmento pues son lugares en los que es difícil obtener la medida deseada. El segundo momento en su estrategia que se corresponde con la modalidad de arrastre para ajustar, sucedió cuando la medida era bastante cercana a los 90° o cuando Luis arrastraba el punto auxiliar por lugares próximos a los que en exploraciones previas había hallado la posición en la que el ángulo medía 90° . En estos casos los movimientos no eran en todas las direcciones, pensamos que él evocó sus exploraciones anteriores para decidir la dirección que debía seguir con el arrastre y conseguir la medida de 90° .

De acuerdo con la intención de Luis durante el arrastre de los puntos auxiliares, además de identificar las modalidades de arrastre errático y para ajustar, podemos identificar la función de la variación contraste pues es claro que el arrastre le llevó a experimentar la variación en una configuración con el fin de comparar los casos en los que se cumple una condición y aquellos en los que no. [MAE/MAPA, FVC, 0].

Al finalizar el arrastre de los puntos auxiliares Luis obtuvo la configuración vista en la Figura 29.a. Luego él procedió a leer de nuevo la instrucción y por algún motivo realizó cambios sobre su configuración, obteniendo la que se observa en la Figura 29.b. de inmediato llamó al docente y en comunicación con él afirmó “acá se ve como un círculo”. El docente le menciona que de estar seguro de la respuesta puede proceder a escribirla [MAPA, FVS, EAE]. En primera instancia, el arrastre realizado por Luis al mover el punto auxiliar de un lugar a otro, ajustando la medida de 90° lo ubica en la modalidad de arrastre para ajustar, la función de variación separación se explica ya que Luis varió una dimensión de la configuración mientras otras se mantuvieron fijas, en este caso varió uno de los puntos de la configuración mientras que mantuvo fija la condición que la medida de los ángulos marcados fuera de 90° lo que le permitió identificar y afirmar “acá se ve como un círculo”, afirmación que es un esquema de argumentación empírico pues se basó en la configuración en pantalla y que esta parece un círculo.

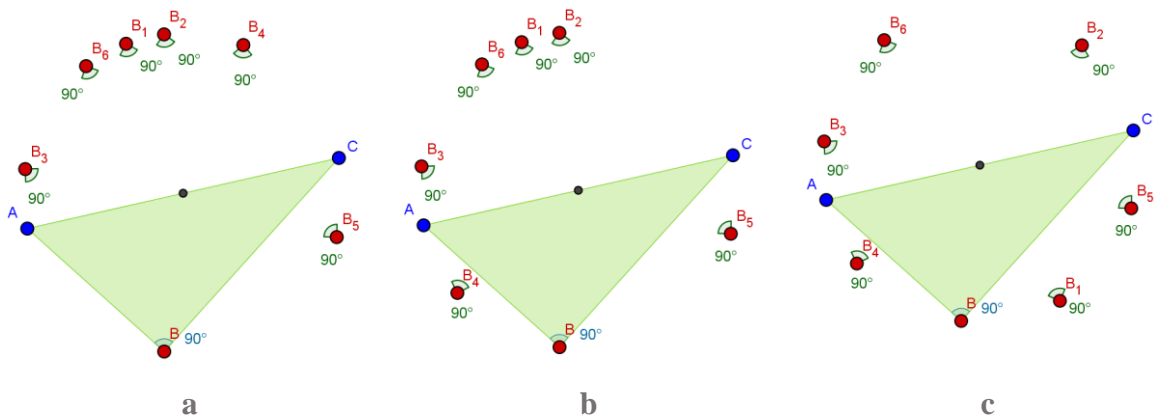


Figura 29. Configuración obtenida por Luis en distintos momentos etapa explora de la tarea 1.

Antes de intentar dar respuesta por escrito, Luis nuevamente realizó cambios sobre la configuración arrastrando los puntos de manera más decidida y precisa en términos de conseguir la medida de 90° con la menor cantidad de movimientos –obteniendo la Figura 29.c-, y afirma “sí, eso forma como un círculo... si hay más puntos se forma un círculo” a lo que el docente le respondió “si existieran más puntos...” y lo instó a escribir señalando que todas esas ideas debían reportarse. Luis finalmente escribió: “Se forma un círculo” [sic]. La afirmación realizada por Luis puede describirse como: *Si hay más [infinitos] puntos [que formen un ángulo de 90°], entonces se determina un círculo [circunferencia]*. Esto nos lleva a ubicar lo escrito

por Luis como un esquema de argumentación analítico acompañado de la modalidad de arrastre para ajustar hecha para verificar que se forma una circunferencia por lo que se corresponde con función de variación generalización. [MAPA, FVG, EAD].

En la etapa siguiente, Luis hizo la lectura en voz alta: *Explora. 4. Mueve el punto B a diferentes lugares y observa qué pasa con la medida del ángulo. ¿Qué condición debe cumplir la curva para que el ángulo en B mida 90° ?*

Luis realizó un arrastre sobre B descubriendo la forma que se puede observar en la Figura 30.a. [MAE], la cual rápidamente fue convertida mediante arrastre del punto B en la configuración vista en la Figura 30.b. [MAPA]. El estudiante luego de una pausa larga, leyó de nuevo las instrucciones y decidió explorar de nuevo arrastrando el punto B, en esta ocasión la configuración es la que se puede observar en la Figura 30.c. En la realización de estos tipos de arrastre el estudiante observó los casos cuando el ángulo media 90° y cuando no, lo cual enmarca la exploración en la función de la variación contraste. [MAE/MAPA, FVC, 0]. En diálogo con uno de los profesores, el estudiante se mencionó que al mover el punto B la figura se vuelve un ocho pero cuando mide 90° la figura se parece a una circunferencia [MAE/MAPA, FVC, EAE]. La docente le preguntó si siempre ocurría esto, a lo que Luis responde que no, la docente le sugirió revisar.

El estudiante realizó de nuevo arrastre sobre el punto B, buscando otra posición en la que el ángulo medido fuera de 90° y al parecer se convenció, pues así lo manifestó, que siempre que el ángulo sea de 90° la curva será una circunferencia. En diálogo con el docente el estudiante reconoció varias formas, por ejemplo lo que él llama un ocho o un ovalo pero también dice “En ese ejemplo, para que mida 90° tiene que ser una circunferencia” finalmente a la pregunta *¿Qué condición debe cumplir la curva para que el ángulo en B mida 90° ?* respondió: “que sea una circunferencia”. Esta afirmación de Luis se basó en la forma de la curva que observó en los casos que se presentaron cuando el ángulo medía 90° y cuando no tenía esta medida. Es decir, a partir de los arrastres y la Función de Contraste. Por lo tanto consideramos que se estableció un esquema de argumentación empírico [MAE/MAPA, FVC, EAE].

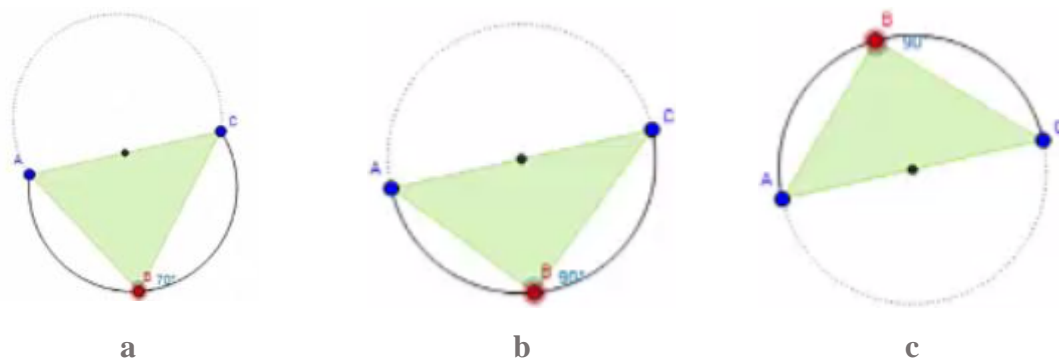


Figura 30. Configuración obtenida por Luis en distintos momentos durante el desarrollo etapa explora de la tarea 1.

En la etapa **Generaliza. 5**. Nuevamente el estudiante leyó en voz alta las instrucciones:

- *Trazar circunferencia con diámetro AC.*
- *Trazar otra circunferencia.*

Se presentan dos opciones para trazar diferentes circunferencias. Mueve el punto B sobre cada circunferencia trazada y observa qué pasa con la medida del ángulo.

El estudiante antes de intentar arrastrar algún elemento de la configuración activó varias veces las opciones para trazar circunferencias [presumimos que pensaba en cuál opción elegir para iniciar la exploración], finalmente se decidió por la opción *Trazar otra circunferencia* y arrastró el punto B hasta hacerlo coincidir con la circunferencia trazada, luego del arrastre para ajustar, Luis realizó el arrastre de B por toda la circunferencia al tiempo que mantuvo la configuración entre los objetos geométricos representados en pantalla. Consideramos que él exploró la situación intentado identificar alguna regularidad relacionada con la medida del ángulo y lo que le permitió identificar tal regularidad fue variar la posición de B mientras mantuvo fijo el resto de la configuración, esto ubica lo hecho por Luis en la modalidad de arrastre guiado y permite reconocer en su quehacer la función de variación separación [MAPA/MAG, FVS, 0].

Ahora bien, la medida del ángulo no era lo único en lo que Luis pudo fijarse, de hecho, por las respuestas entregadas en etapas anteriores, él tenía en mente que la condición que debe cumplir una curva para encontrar un ángulo de 90° es que sea una circunferencia, así que no es descabellado pensar que él esperaba ese resultado y que durante el arrastre se encontró con uno diferente, más porque una vez finalizado el arrastre de B por sobre la circunferencia que no

tenía diámetro AC se notó extrañado. Si es de esta manera, el arrastre que hizo Luis tendría la intención, no de identificar nuevas relaciones sino, de verificar la relación antes encontrada, es decir, que si mueve el punto B sobre una circunferencia obtiene ángulos de 90° . Esta suposición nos lleva a pensar que el quehacer de Luis se corresponde con la función de la variación generalización en busca de verificar y que el arrastre se correspondió con la modalidad de arrastre vinculado. [MAV, FVG, 0].

Luego, durante el desarrollo de la tarea, Luis seleccionó la opción *Trazar circunferencia con diámetro AC* y dirigió el punto B arrastrándolo hasta ubicarlo sobre la circunferencia de diámetro AC, no realizó más arrastres como se esperaría, es decir, no arrastró a B por sobre la circunferencia lo que hace sospechar que no vio necesaria esta interacción. Procedió a contestar la pregunta de la siguiente manera: “que al trazar la circunferencia con diámetro AC puede formar un ángulo de 90° pero al...” [sic]. La respuesta de Luis nos permitió evidenciar, además de la modalidad de arrastre para ajustar, la presencia de la función de la variación separación pues al variar la ubicación de B él logró identificar un patrón del que dejó evidencia en su afirmación, misma que se corresponde con un esquema de argumentación empírico [MAPA, FVS, EAE]. Antes de continuar escribiendo su respuesta, Luis arrastró el punto B sobre la circunferencia de diámetro AC, se dirigió a la docente y mencionó “en la circunferencia AC encontramos ángulos de 90° y pues acercándose a los 90° ... y acá, acá si hay muchos... diferentes medidas [señalando *Trazar otra circunferencia*]”. Luego continuó escribiendo su respuesta: “que al trazar la circunferencia con diámetro AC puede formar un ángulo de 90° pero al trazar la otra circunferencia se pueden trazar ángulos entre los 60° y 70° y ángulos entre los 100° y los 170° ” [MAG/MAV, FVG, EAE].

La afirmación realizada por Luis se corresponde a un esquema de argumentación empírico pues está basada en la configuración y los cambios realizados sobre esta, es decir, sobre los arrastres que justamente, como se mencionó antes, encajan en una modalidad de arrastre vinculado, lo que propició la aparición de la función de variación de generalización pues le permitió verificar las regularidades antes identificadas.

De la interacción con la docente nos queda la duda de por qué Luis se refiere a que en la circunferencia de diámetro AC encontramos ángulos de 90° y acercándose a los 90° , esta

última parte no es lo esperado pues si el punto B se arrastra sobre la circunferencia de diámetro AC el ángulo ABC debe medir 90° , atribuimos esta respuesta al zoom de la pantalla elegido por el estudiante ya que le dificultó apreciar con exactitud cuando el punto B se encontraba cerca o sobre la circunferencia, siendo así, el arrastrar a B por lugares cercanos a la circunferencia, la medida del ángulo en efecto es cercana a los 90° más no 90° exacto.

El estudiante continuó con el applet, en la etapa *Concluye. 6. De acuerdo con lo que observaste. ¿Cuál de las opciones sería la conclusión del problema? Deja seleccionada UNA, la que más te parezca. Apóyate en la construcción para verificar si tu selección es apropiada.*

El estudiante marca la primera opción que dice: *Si el segmento AC es diámetro de una circunferencia y B es otro punto de la circunferencia, ENTONCES, el triángulo ABC tiene un ángulo recto en el vértice B.*



Figura 31. Construcción hecha por el estudiante Luis durante la etapa Concluye de la tarea 1.

El estudiante cuestionó a la docente sobre si podía construir las circunferencias y se le dio respuesta positiva (ver Figura 31). Luis en sus intentos por usar la herramienta circunferencia centro punto, de manera inadvertida eliminó el punto medio del segmento AC, por lo que sus intentos siguientes dependieron del cálculo aproximado a este punto, aunque vale aclarar que estaba disponible la herramienta *Punto Medio o Centro*. De manera desafortunada, Luis da clic en el icono de reiniciar applet.

Una vez se acondicionó el applet para que el estudiante continuara con el desarrollo de la tarea, él utilizó la herramienta *Circunferencia Centro Punto*, trazando la circunferencia con centro el punto medio de AC que pasa por B (Figura 31). Lo que luego hizo Luis fue seleccionar y revisar cada una de las opciones de conclusión disponibles, para ello no realizó ninguna

construcción ni arrastre adicional. Finalmente seleccionó la opción 1 y avanzó en el applet a la parte final. Desafortunadamente como Luis, luego de construir la circunferencia no realizó arrastres como se esperaba, por ejemplo arrastre test, entonces no podemos asociar la construcción hecha con alguna modalidad o función de la variación, sin embargo, podemos decir que la opción de conclusión elegida por él refleja las exploraciones y afirmaciones que realizó en anteriores momentos, también pensamos que Luis no realizó arrastres o varió la construcción que hizo pues ya tenía en mente, con claridad, la relación que debía darse para obtener el resultado deseado.

Luis pasó a la siguiente etapa e hizo, como es costumbre en él, lectura en voz alta de la instrucción. *Aplica. 7. Mueve los puntos P, Q y R para que el triángulo representado tenga un ángulo de 90° . ¿Por qué crees que esa debe ser la ubicación de los puntos? Explica.*

Luis realizó arrastre de los puntos sobre la circunferencia, obteniendo la configuración que se puede apreciar en la Figura 32. Al ver la configuración obtenida por Luis, el profesor en diálogo con el estudiante dijo: “yo veo que esto [el triángulo] pasa por aquí [señalando el segmento RQ] ¿por qué? [...] ¿Por qué pasa por esos 3 puntos? [punto R, punto medio del segmento RQ y Q] [pausa] ¿esa configuración es casual?” Luis contestó, “no, casual no, o sea, porque en los ejercicios anteriores pues así estaba, como un diámetro de la circunferencia”.

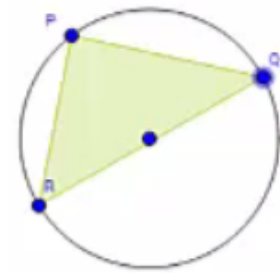


Figura 32. Configuración elegida por Luis en la etapa aplica de la tarea 1.

Para lograr la configuración de la Figura 32, Luis realizó un arrastre vinculado a la circunferencia buscando que la construcción cumpliera con la propiedad solicitada, siendo así, lo hecho por el estudiante se enmarcó en las modalidades de arrastre vinculado y para ajustar. Por otro lado, sabemos que el estudiante había experimentado previamente que al trazar la circunferencia cuyo diámetro coincide con uno de los lados de un triángulo, se puede formar un ángulo de 90° , así que en este caso Luis no intentó verificar la relación, suponemos que él se enfrentó con un problema que le obligó a experimentar de manera simultánea aspectos críticos, de donde surgieron dudas que le permitirían construir un significado para el problema.

Finalmente, la afirmación realizada por Luis se corresponde con un esquema de argumentación de recuento fáctico combinado con uno empírico [MAPA/MAV, FVF, EAR/EAE].

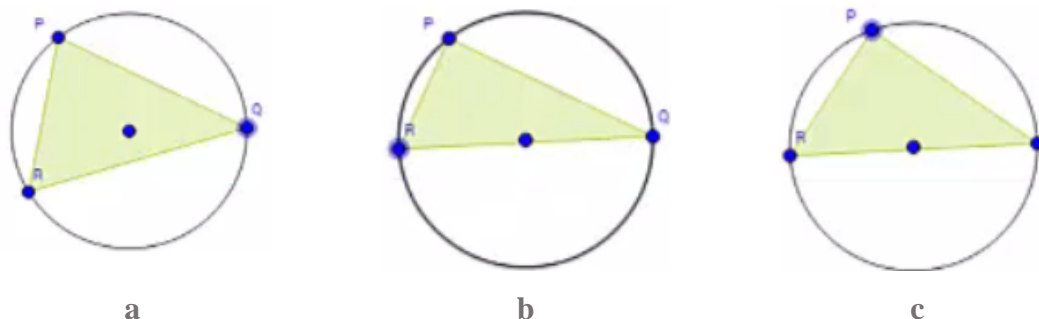


Figura 33. Configuraciones obtenidas en distintos momentos etapa aplica de la tarea 1.

Luego del diálogo con Luis, el docente arrastró el punto Q como se muestra en la Figura 33.a. y le preguntó sobre si se formaba o no un ángulo de 90° , a lo que él respondió “No, ahí no”. Luego el docente arrastró el punto R a otro lugar, como se muestra en la Figura 33.b. y Luis responde “no, ahí tampoco” a lo que el docente le recuerda que es diámetro como él había dicho, el estudiante asiente y responde arrastrando el punto P y diciendo “tendría que mover este [el punto P] como por acá” ver la Figura 33.c.

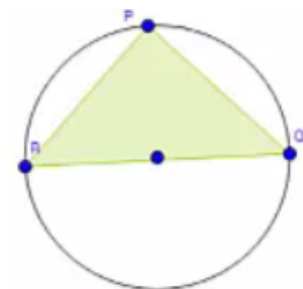


Figura 34. Configuración elegida por Luis durante la etapa aplica de la tarea 1.

El estudiante cuestionó al docente sobre la posibilidad de medir el ángulo, a lo que el docente le respondió que no, que debe aplicar lo entendido. Luis inicia la redacción de su respuesta y escribe “porque los puntos R y Q forman un diámetro de la circunferencia” [sic]. Pasados unos momentos, el estudiante decide completar su respuesta como se muestra a continuación:

“porque los puntos R y Q forman un diámetro de la circunferencia y el punto P se cuadra de tal forma que”[sic]... sin completar aún la respuesta, el estudiante realizó un cambio en la configuración (Figura 34).

Al estudiante le fue preguntado ¿tiene que ser así? Refiriéndose a si es la única posición de los puntos en la que se forma un ángulo recto. Él respondió que hay más formas en las se obtiene

un ángulo de 90° , por lo que el docente le pidió señalar más formas. Él, con el apuntador del mouse, señaló las posiciones para el punto P que pueden observarse en la Figura 35.

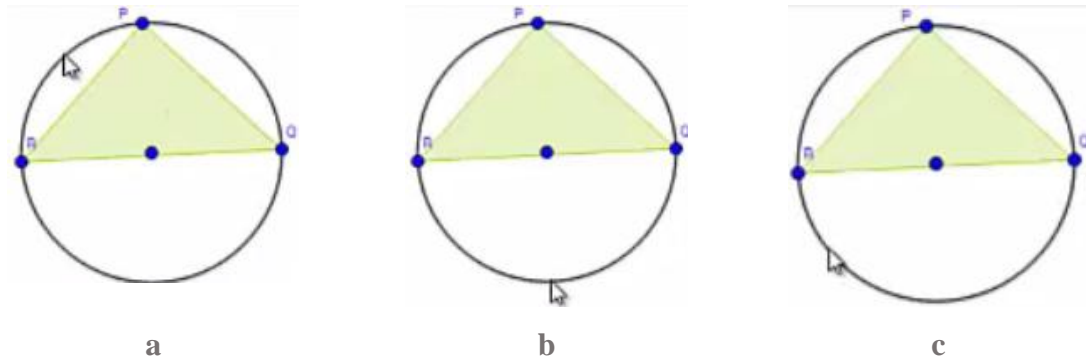


Figura 35. Configuraciones obtenidas en distintos momentos etapa aplica de la tarea 1. En las que Luis con el apuntador del mouse señala que se forma un ángulo de 90° .

El estudiante, con el apuntador del mouse, señaló siempre lugares sobre la circunferencia, así que presumimos que logró asociar que el punto P debe encontrarse en la circunferencia, o por lo menos no señaló una posición que nos hiciera pensar lo contrario.

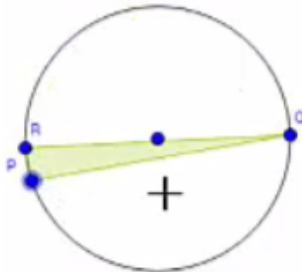


Figura 36. Configuración propuesta por el profesor en la etapa 7 de la tarea 1.

El docente consideró importante enfrentar al estudiante con una situación algo extraña, por tal motivo se le cuestionó sobre lo que ocurriría si P se encuentra en la posición señalada en la Figura 36. Él respondió que allí no se tenía un ángulo de 90° . Siendo así, Luis terminó de redactar su respuesta y concluyó de la siguiente manera: “porque los puntos R y Q forman un diámetro de la circunferencia y el punto P esta en la circunferencia (en algunas ocasiones forman angulos de 90°)” [sic].

Luis para lograr esta afirmación se apoyó en la configuración, evocando lugares y formas que asoció con formar un ángulo de 90° , entonces consideramos que esta afirmación corresponde a un esquema empírico al igual que de recuerdo fáctico. Ahora, la afirmación escrita por Luis se puede escribir de la manera: si los puntos R y Q determinan un diámetro de una circunferencia y P está en [la misma] circunferencia, entonces se forman ángulos de 90° lo cual lo enmarca en un esquema analítico.

Pensamos que para llegar a esta afirmación Luis también debió experimentar aspectos críticos como identificar la necesidad de tener tres puntos sobre una circunferencia, dos de ellos que formen un diámetro, y que el otro punto se mueva sobre la circunferencia. A pesar que él no logró identificar que el tercer punto podría ser cualquiera sobre la circunferencia distinto a los extremos del diámetro nos hace pensar que se presentó la función de la variación fusión. Con respecto al arrastre, él llevó los puntos R y Q de tal forma que el segmento RQ fuera diámetro, así que sobre estos puntos se realizó una modalidad de arrastre para ajustar mientras que el arrastre sobre P encaja en las modalidades de arrastre guiado pues el punto P fue ubicado en diferentes lugares guiado por la forma del triángulo obtenido. Separamos entonces la clasificación según dos momentos, el primero determinado por los arrastres para ajustar el diámetro y lo que con ello consiguió: [MAPA, FVF, EAR/EAE], mientras que el segundo momento lo determinó el arrastre del punto P, consiguiendo con este arrastre el esquema de argumentación analítico [MAV/MAG, FVF, EAD].

7. ANÁLISIS DE RESULTADOS

En este capítulo se interpretan los resultados obtenidos en el análisis que se presentó en el capítulo 6 respecto a la resolución por parte de los alumnos de las tareas propuestas. Para realizar esta interpretación recurriremos a representaciones gráficas que nos permitirán evaluar de manera cualitativa la evolución de las acciones los alumnos, en función de las categorías de análisis propuestas, así como analizar las relaciones entre estas categorías. De esta forma, contrastaremos los resultados obtenidos en las tareas con las proyecciones esperadas al diseñarlas y compararemos el desempeño de los alumnos en cada una de ellas. Las representaciones gráficas también servirán para contrastar si las relaciones reportadas entre las categorías de análisis se presentaron en el quehacer de los estudiantes durante el desarrollo de las tareas, esto es: (i) las relaciones entre funciones de la variación y modalidades de arrastre reportadas por Leung (2008), (ii) las relaciones entre modalidades de arrastre y procesos ascendentes y descendentes (Arzarello et al., 2002). A partir de este análisis de resultados esperamos poder determinar qué características de las tareas digitales diseñadas favorecen el desarrollo de la argumentación y, de esta forma, dar respuesta en el capítulo siguiente a los objetivos planteados al iniciar este trabajo.

7.1. Análisis por estudiante

En este apartado veremos cómo evolucionaron las acciones de los estudiantes en términos de las modalidades de arrastre ejecutadas, las funciones de variación evidenciadas y los esquemas de argumentación desarrollados. Dado que las tareas diseñadas estaban planteadas de modo que se esperaba favorecer algunas modalidades de arrastre o funciones de la variación, el análisis se realizará en comparación con esta proyección (ver sección 5.3.). Ahora, en sintonía con Arzarello et al. (2002) y Leung (2008), se reconoce que se puede evidenciar una jerarquía entre las modalidades de arrastre o entre las funciones de la variación, al respecto queremos señalar que nuestro interés no está centrado en medir hasta qué punto las acciones de los alumnos se corresponden con una determinada jerarquía, pues las tareas no se diseñaron para promoverla al no ser problemas abiertos como los descritos por estos autores. No obstante, hemos definido una posible escala entre estos elementos atendiendo a los planteamientos de los autores mencionados y a los de otros autores como complemento (Arzarello et al., 2002a; Baccaglioni-

Frank & Mariotti, 2010; H. Flores, 2007; Harel & Sowder, 1998; Leung, 2003, 2008; Lopez-Real & Leung, 2006). Esta escala se presenta en la Figura 37. A través de estas escalas se organizan las diferentes modalidades, funciones o esquemas, desde niveles básicos a unos más elaborados.

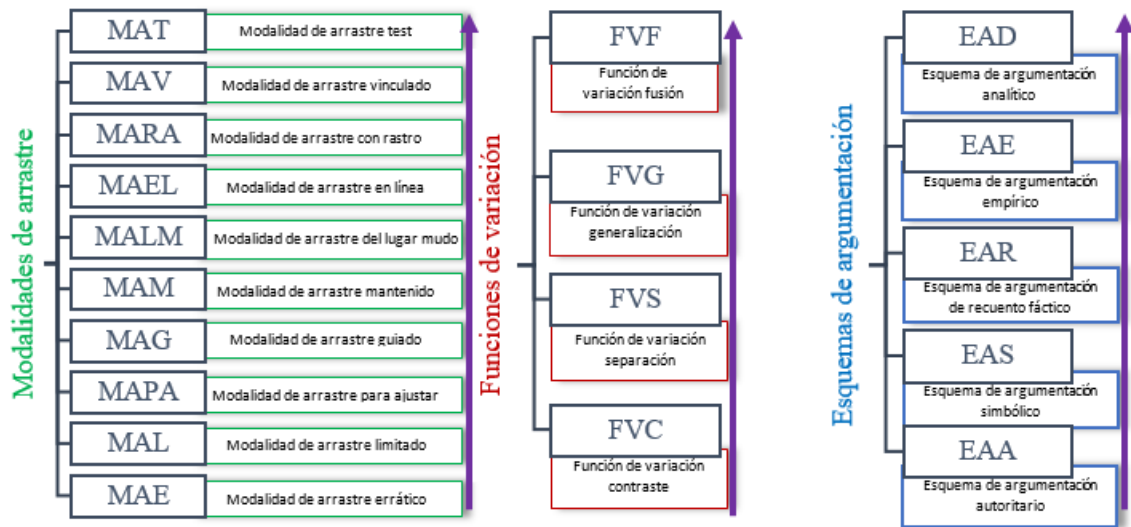


Figura 37. Escalas para las categorías de análisis definidas.

Análisis de los resultados de Nicol. La Figura 38 muestra la evolución de las modalidades de arrastre ejecutadas por Nicol en el desarrollo de las tareas en comparación con la proyección realizada en el diseño²⁴. Cada intervalo del eje horizontal corresponde a una etapa de la tarea. De manera análoga, se presentará de manera gráfica la evolución de las funciones de variación y los esquemas de argumentación evidenciados en el trabajo de Nicol y los demás estudiantes.

Como se observa en las proyecciones, las tareas fueron diseñadas para que los estudiantes empezaran a desarrollar modalidades de arrastre y funciones de variación básicas y, gradualmente, fueran avanzando hacia tipologías más elaboradas de estas categorías en cada etapa. Luego de alcanzar niveles superiores y de acuerdo a la proyección del diseño de las tareas cuyas etapas finales eran de aplicación o conclusión, se esperaba que los alumnos

²⁴ Vale la pena señalar que al diseñar las tareas se anticipó qué modalidades de arrastres y funciones de variación se podrían presentar en cada etapa, pero no se estableció el tipo de argumentos que se desarrollarían ya que consideramos que esto es algo que depende en gran medida de los alumnos y no es fácil de inducir a través de las tareas. Por esta razón, en las gráficas se observa la proyección para las modalidades de arrastre y las funciones de variación que se esperaban en cada momento.

alternaran entre diferentes niveles de modalidades de arrastre y funciones en la resolución de la tarea. En particular, en el trabajo de Nicol se observa que la estudiante logró alcanzar niveles superiores en las modalidades de arrastre en las tareas 1, 2 y 4 (ver Figura 38) y que, específicamente en las dos primeras tareas, la estudiante tuvo una evolución en los tipos de arrastre usados. Sin embargo, como se reportó en el análisis, la alumna tuvo un desempeño bajo, especialmente en las tareas 3, 4 y 5, lo cual se refleja en la poca correspondencia de sus acciones con lo proyectado respecto al arrastre.

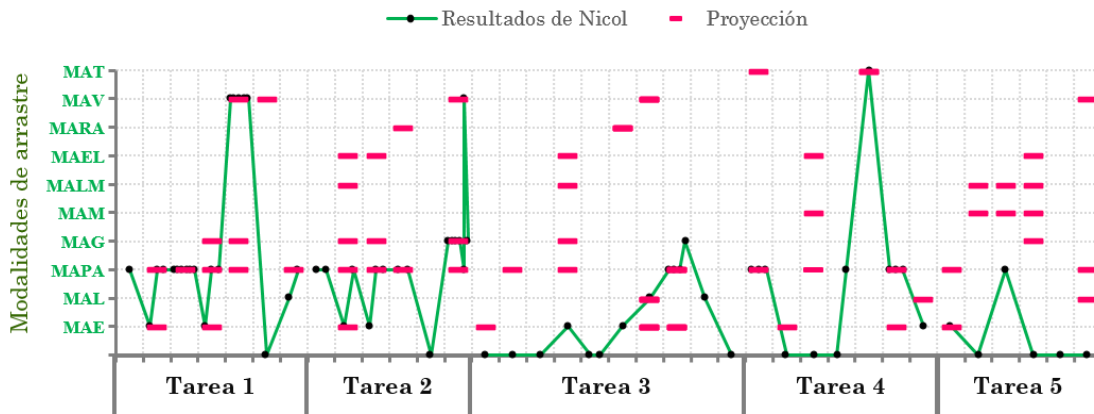


Figura 38. Modalidades de arrastre ejecutadas por Nicol en las cinco tareas.

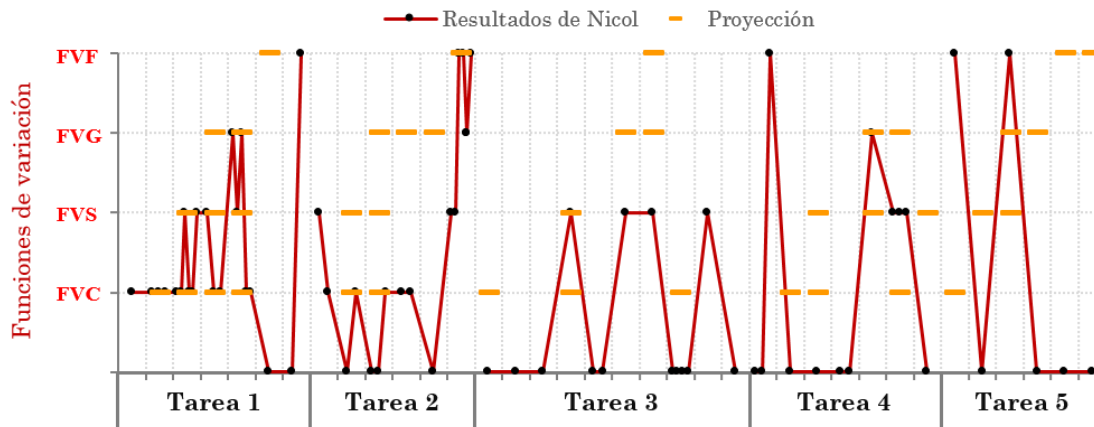


Figura 39. Funciones de variación evidenciadas en el trabajo de Nicol en las cinco tareas.

Adicionalmente, se observa que Nicol pudo ejecutar modalidades de arrastre de primer nivel como errático, limitado, para ajustar (en mayor medida) y guiado (en menor medida) y de nivel superior como el arrastre vinculado y el arrastre test (estos dos últimos en un número reducido de ocasiones), pero no realizó arrastres mantenidos, de lugar mudo, en línea o con rastro

activado, que requieren de una experticia para mantener una propiedad a lo largo del arrastre. Consideramos que esto es evidencia de la dificultad que conlleva el arrastrar un punto manteniendo más de una propiedad durante el movimiento, dificultad que fue mencionada por Leung, Chan, & Lopez-real (2000) al documentar el diálogo entre estudiantes y docentes al resolver un problema abierto en un SGD. De hecho, se observa que Nicol, a lo largo del trabajo, usa en su mayoría arrastres para ajustar como estrategia para abordar las tareas, lo cuál no le permite evidenciar del todo las relaciones y propiedades inmersas en las tareas y que dependían del descubrimiento de lugares geométricos, a través de otros tipos de arrastre más sofisticados. Esto mismo se podría analizar a la luz de lo planteado por Arzarello et al. (2002), recordemos que estos autores mencionan que las modalidades de arrastre se pueden clasificar en dos tipologías: ascendentes y descendentes (ver sección 4.1.2.). En lo desarrollado por Nicol vemos que ella pasa de las primeras modalidades ascendentes (arrastre errático, guiado o limitado) a las últimas descendentes (arrastre test), dejando un vacío en aquellas modalidades que demuestran una transición entre las dos tipologías (arrastre de lugar mudo, en línea o con rastro activado). Desde nuestra perspectiva, esto puede ser una causa del bajo éxito de la estudiante en algunas de las tareas.

En relación con las funciones de variación (ver Figura 39), en la primera tarea Nicol realizó un progreso casi igual al esperado, que solo difirió con la proyección en la fusión que se presentó una etapa después. En la segunda tarea, esta estudiante realizó contraste y fusión de acuerdo con lo anticipado, pero no desarrolló la separación y la generalización cuando se esperaba, lo cual corresponde con la dificultad para hacer los arrastres relacionados con el lugar geométrico que se mencionó antes. En las tres últimas tareas, vemos que el desempeño de la alumna fue totalmente diferente a lo que se planeó. Aunque al ver la gráfica correspondiente podríamos afirmar que las acciones de Nicol se alternaron entre la separación y la fusión, en este caso esta interpretación no resulta muy completa. Una revisión en detalle del análisis del trabajo de esta alumna en estas tareas revela que la separación tuvo lugar cuando ella ejecutó arrastres erráticos o limitados en la exploración de la situación, mientras que la fusión se desarrolló cuando la situación misma demandaba que la estudiante se fijara en varias variables de la configuración al mismo tiempo, como ocurría en la tarea 5, donde desde la construcción inicial se proporcionaba

la figura del cuadrilátero con sus mediatrices. En consecuencia, se podría decir que Nicol evidenció un trabajo dentro de estas funciones, pero en un nivel bajo influenciado por la ejecución de arrastres básicos.

En esta misma línea, y retomando uno de los aspectos del trabajo desarrollado por Leung (2008), analicemos cómo se relacionan las modalidades de arrastre y las funciones de variación en el proceso del trabajo de Nicol. La Figura 40 muestra las relaciones que se presentaron entre estas categorías y la frecuencia con la cual se repitieron dichas relaciones.

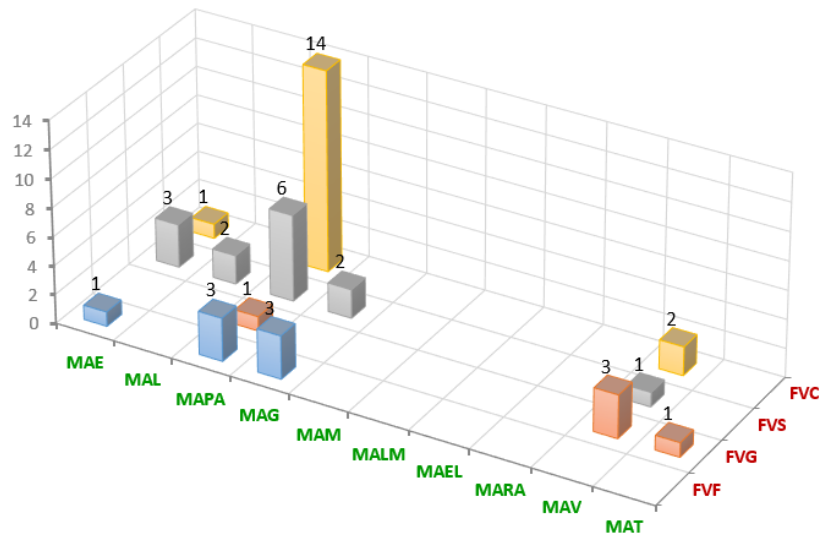


Figura 40. Relación entre las modalidades de arrastre y las funciones de variación en el proceso de Nicol en las cinco tareas.

La gráfica muestra que las acciones de esta alumna se desarrollaron en las cuatro funciones de variación, pero no en todas las modalidades de arrastre. Como se reportó antes, la mayoría de los arrastres de Nicol se enmarcaron en la modalidad de arrastre para ajustar y dentro de una función de contraste, lo cual resulta natural dado que las tareas promovían desde su génesis el descubrimiento de posiciones que favorecieran una propiedad y su comparación con aquellas que no. Sin embargo, en el caso de esta estudiante es notoria la reducida cantidad de acciones en otros tipos de arrastres y funciones. En relación con lo propuesto por Leung (2008), vemos que efectivamente la modalidad de arrastre errático se corresponde en su mayoría con el contraste y que el arrastre vinculado y el arrastre test, aunque se presentaron en las primeras funciones de variación, fueron muy significativos en la función de generalización. Esta última

consideración se basa en la especificidad de lo obtenido por Nicol cuando desarrolló las combinaciones [MAV, FVG] y [MAT, FVG], ya que en esos casos la estudiante logró verificar conjeturas como lo describe Leung (2008). Por ejemplo, en el caso de la tarea 1 – etapa 5, Nicol realizó un arrastre vinculado para verificar que, si el vértice del ángulo se ubicaba sobre cualquier lugar de una circunferencia determinada, entonces su medida era de 60° ; mientras que, al ubicarlo sobre cualquier lugar de otra circunferencia, obtenía una medida de 90° , realizando así una generalización. Por su parte, en la tarea 4 – etapa 5, Nicol usó el arrastre test para construir la figura que aparentemente formaban los centros de las circunferencias que contenían a los dos puntos dados, nuevamente desarrollando una generalización. Por esta razón consideramos

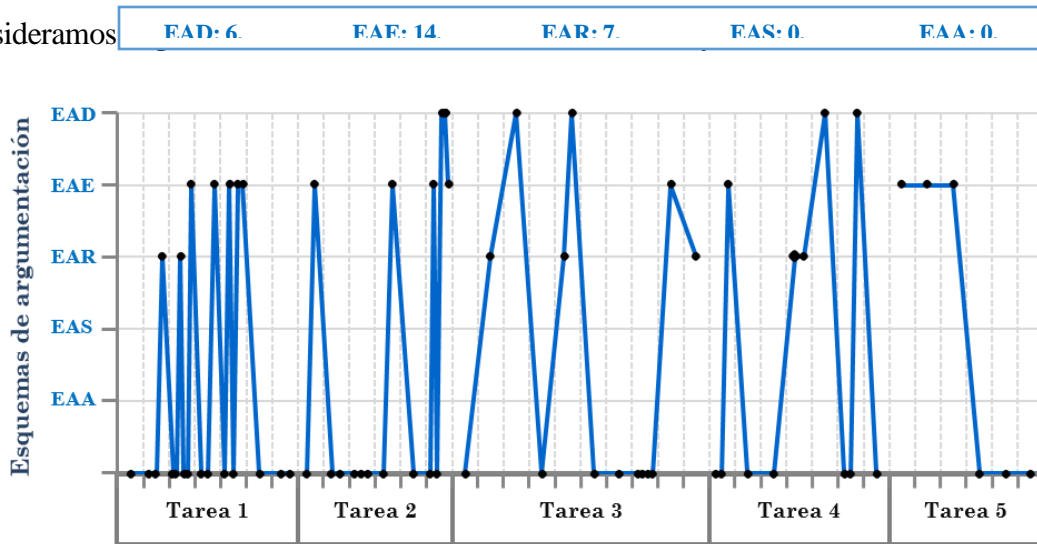


Figura 41. Esquemas de argumentación desarrollados por Nicol en las cinco tareas.

Consideremos ahora los esquemas de argumentación desarrollados por Nicol (ver Figura 41). En este caso, observamos que la mayoría de argumentos desarrollados por la alumna corresponden a esquemas de argumentación empíricos (EAE) y, en segundo lugar, de recuento fáctico (EAR). En el caso de los esquemas empíricos, estos tuvieron como garante en su mayoría, a la apariencia de la figura obtenida en la pantalla. Mientras que, para los argumentos de recuento fáctico, la alumna mencionaba las acciones que había ejecutado en el software para justificar sus ideas. En tercer lugar, se encuentran los esquemas de argumentación analíticos (EAD). Recordemos que este tipo de esquemas responden a una estructura deductiva de la forma si-entonces. En el caso de Nicol, cuando ella logró establecer argumentos de este tipo, solo en dos de los casos lo hizo de manera autónoma, en otros dos casos los argumentos tenían

la estructura, pero no eran correctos y en el caso restante, el argumento se construyó bajo la guía del docente. Con esto queremos evidenciar la dificultad que implica desarrollar este tipo de argumentos.

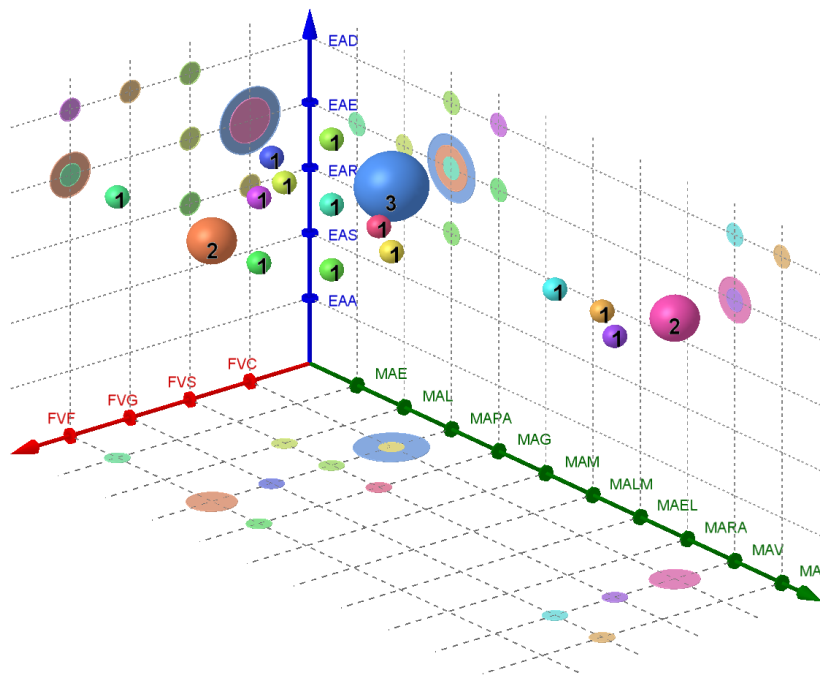


Figura 42. Relación entre las modalidades de arrastre, las funciones de variación y los esquemas de argumentación en el proceso de Nicol en las cinco tareas.

Por otro lado, aunque en la literatura estudiada para el presente trabajo solo encontramos asociaciones entre las modalidades de arrastre y las funciones de variación como la que propone Leung (2008), resulta importante estudiar las relaciones que se presentan entre las tres categorías para nuestro trabajo, ya que nos interesa evidenciar las características de las tareas digitales que promueven la argumentación. Para el trabajo desarrollado por Nicol, estas relaciones se observan en la Figura 42. En esta gráfica se observan únicamente los casos en los que se presentaron tres elementos (modalidad de arrastre, función de variación y esquema de argumentación) al mismo tiempo. A partir de esta representación podemos ver que las triadas que más se repitieron en el trabajo de Nicol fueron [MAPA, FVC, EAE], [MAPA, FVF, EAE] y [MAV, FVC, EAE]. Esto se relaciona con lo descrito líneas atrás respecto a que el trabajo de esta alumna se centró en las modalidades y funciones inferiores y superiores y que mostró ausencia de modalidades o funciones intermedias. Podría decirse que para Nicol era difícil

desarrollar la etapa de transición de estas categorías. Por su parte, los esquemas se concentran más en los niveles superiores, al ser de carácter empírico en su mayoría.

En la gráfica, también podemos empezar a identificar zonas en las que se encuentran apiladas las triadas y otras en las que estas no se presentan, por ejemplo (i) la zona determinada por los esquemas de argumentación autoritarios y simbólicos permanece desprovista de triadas. (ii) La zona de modalidad de arrastre para ajustar, en relación a todas las funciones de la variación se encuentra relacionada con alguno de los esquemas de argumentación. Este análisis será recursivo en el trabajo de los demás estudiantes, y será útil para establecer algunas diferencias.

Por otro lado, en el caso de esta alumna, y aunque no pareciera tener relación con nuestros intereses investigativos, consideramos importante mencionar que, debido a otras situaciones, la estudiante no se encontraba bien anímicamente cuando desarrolló las últimas tres tareas y que, desde nuestra perspectiva, esto impactó negativamente en su desempeño. En ese sentido, concluimos que aparte de hacer un buen diseño para las tareas, es necesario tener en cuenta otros aspectos relacionados con el contexto de los alumnos para interpretar su trabajo en clase.

Análisis de los resultados de Luis. Al igual que con la estudiante Nicol, en lo que sigue se presenta el análisis del quehacer del estudiante Luis durante las 5 tareas, haciendo referencia a modalidades de arrastre (Figura 43), funciones de la variación (Figura 44) y esquemas de argumentación producidos (Figura 46). Algo para señalar del comportamiento de este estudiante es que durante el desarrollo de las tareas mostró especial interés por hacer saber a los docentes sus hallazgos, esta motivación lo llevó a efectuar trabajo adicional como el mostrado al finalizar la Tarea 2, en la que dedicó un espacio para realizar la construcción del problema estudiado durante la primera tarea.

Del trabajo desarrollado por Luis podemos mencionar que, en términos generales las modalidades de arrastres proyectadas se cumplieron, aunque es necesario aclarar que algunos de estos arrastres sucedieron una etapa antes o después de lo proyectado (Figura 43). Como se puede observar en esta figura, Luis tuvo una evolución rápida en la ejecución de las distintas modalidades de arrastre, ejecutó modalidades de arrastre test o vinculado durante el desarrollo de todas las tareas exceptuando la Tarea 3. Luis, antes de realizar arrastres vinculados o tipo

test, ejecutó otras modalidades de arrastre por ejemplo: mantenido, de lugar mudo, en línea o arrastre con rastro activado. Solo en las Tareas 1 y 3 pasó de arrastres erráticos, para ajustar, o guiados, a una de estas modalidades avanzadas de arrastre. De acuerdo a las evidencias, nos es posible caracterizar a Luis como un estudiante que efectuó diversidad de modalidades de arrastres durante su interacción con las tareas lo que le permitió, por ejemplo, ser más recursivo en la creación de estrategias para validar o refutar conjeturas.

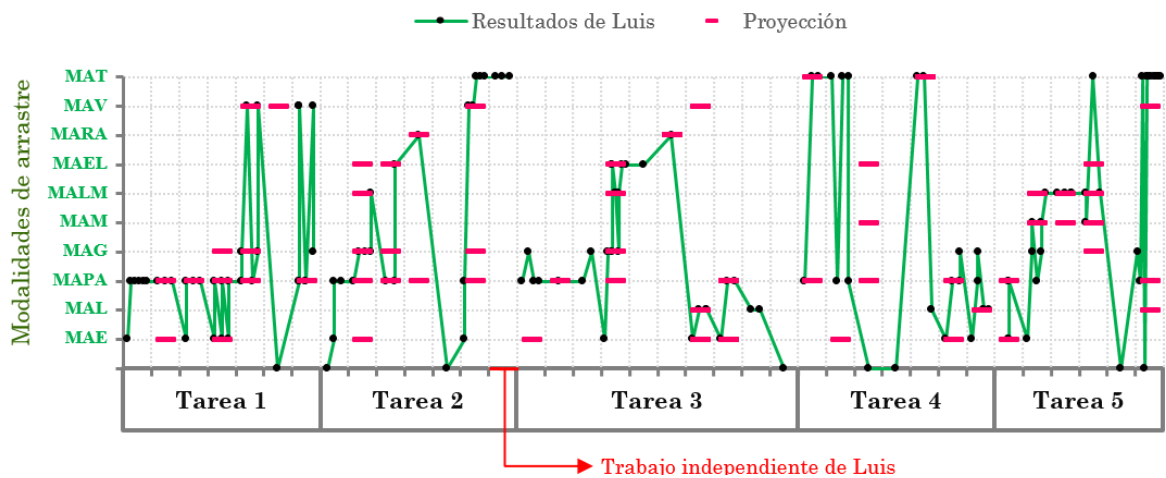


Figura 43. Modalidades de arrastre ejecutadas por Luis en las cinco tareas.

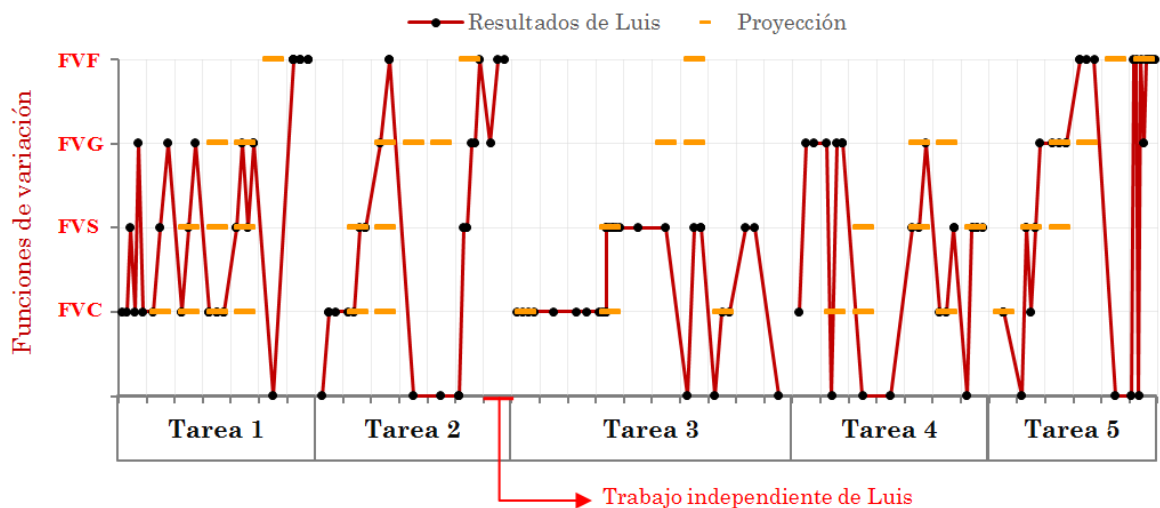


Figura 44. Funciones de variación evidenciadas en el trabajo de Luis en las cinco tareas.

En cuando a las funciones de la variación realizadas por Luis y aquellas proyectadas en el diseño de las tareas (Figura 44), al compararlas encontramos que estas coinciden o fueron reportadas una etapa antes o después de lo proyectado, a excepción de lo ocurrido durante el

desarrollo de la Tarea 3, en la que Luis no logró efectuar las modalidades de arrastre que se correspondieran con las funciones de la variación generalización y fusión como era lo esperado. Es necesario reportar que aunque el estudiante alcanzó en la tercera etapa de la tarea 2 la función de la variación fusión, esta situación respondió más a los hallazgos de Luis para la primera tarea que a las exploraciones hechas hasta ese momento, exploraciones que incluso reforzaron los hallazgos de la primera tarea, en la que la respuesta estaba relacionada con la figura de una circunferencia. De manera desafortunada, Luis no se percató de la forma de ‘dos circunferencias unidas’ hasta la última etapa (Figura 44). Pensamos que este hecho se relaciona con la ausencia de funciones de la variación generalización de las etapas cuarta y quinta de esta segunda tarea.

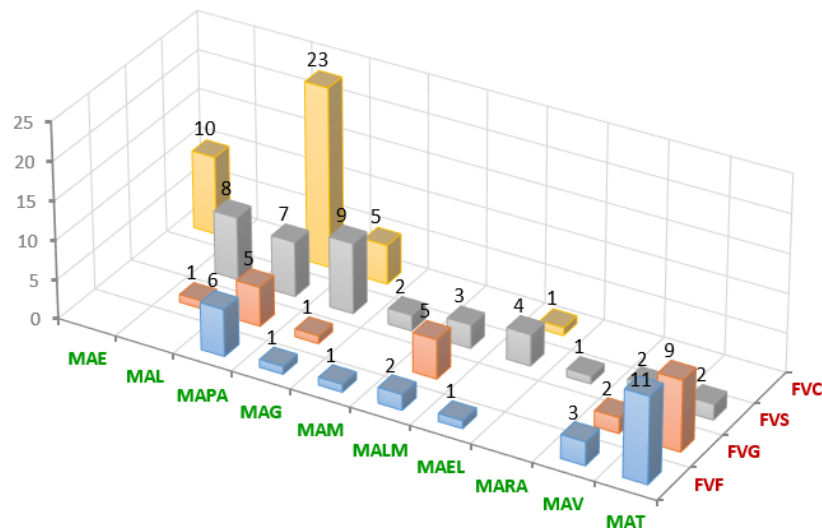


Figura 45. Relación entre las modalidades de arrastre y las funciones de variación en el proceso de Luis en las cinco tareas.

Continuando con el análisis de las modalidades de arrastre y las funciones de la variación, en la Figura 45 se muestran las relaciones entre estas categorías que surgieron durante el proceso de desarrollo de Luis para las cinco tareas propuestas junto a la frecuencia de aparición de cada relación. Al respecto, se evidencia la relación y alta frecuencia entre la función de variación contraste y las modalidades de arrastre errático, para ajustar y guiado, dejando casi en ceros la frecuencia para las demás relaciones que involucran la función contraste. Las relaciones entre la función de variación separación con las modalidades de arrastre guiado, limitado y para ajustar son las que mayor frecuencia presentan, mientras que la separación y modalidades de arrastre

como mantenido, de lugar mudo, en línea, rastro activo, vinculado y test se presentan pero con menor frecuencia. Las relaciones entre las funciones de la variación generalización y fusión que fueron evidenciadas en el trabajo de Luis fueron menos frecuentes que las de separación y contraste y, las dos parecen relacionarse, en mayor frecuencia con las modalidades de arrastre para ajustar, de lugar mudo, vinculado y test. Algunas de las relaciones, halladas en el trabajo de Luis, entre funciones de variación y modalidades de arrastre habían sido reportadas también por Leung (2008), por ejemplo: [MAE, FVC], [MAG, FVC], [MAG, FVS], [MAL, FVS], [MAV, FVG], [MAT, FVG], [MAV, FVG] y [MAT, FVG].

Considerando ahora los esquemas de argumentación desarrollados por Luis (Figura 46), el trabajo desarrollado por este estudiante, al igual que con la estudiante Nicol, nos permite afirmar que la mayoría de argumentos desarrollados por él corresponden a esquemas de argumentación empíricos, seguidos por los de recuento fáctico y en tercer lugar los analíticos. Si bien Luis produjo esquemas de argumentación simbólicos y de autoridad, estos fueron casos aislados. Aunque existe una similitud en los trabajos de Nicol y de Luis en cuanto a los esquemas de argumentación más frecuentes, el trabajo de él se diferencia pues la cantidad de argumentos producidos y verbalizados desborda ampliamente los producidos por los otros dos estudiantes

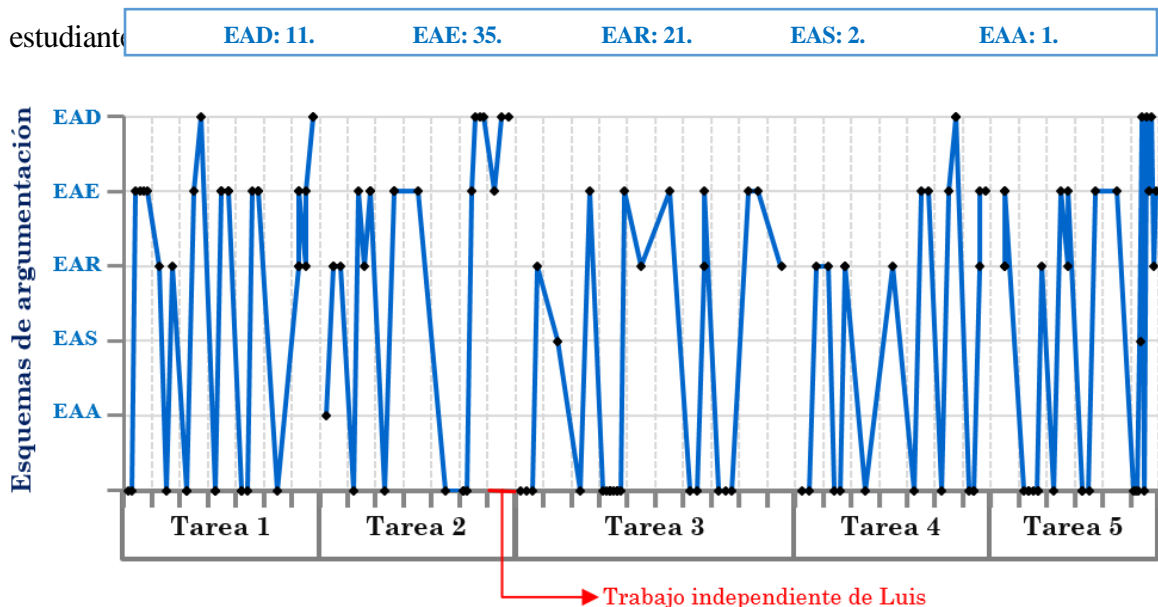


Figura 46. Esquemas de argumentación desarrollados por Luis en las cinco tareas.

En la Figura 47 se reportan las triadas que fueron evidenciadas en el quehacer de Luis, allí se observa que las triadas [MAPA, FVC, EAE], [MAT, FVF, EAD] fueron las más reportadas, cada una con una frecuencia de aparición de seis, seguidas por [MAPA, FVC, EAR] y [MAL, FVS, EAE] con cinco apariciones. La figura permite evidenciar zonas de mayor concentración de las triadas, zonas donde se encuentran relaciones esporádicas y zonas desprovistas de relaciones o donde hay relaciones de muy baja frecuencia, por ejemplo:

- i. En la zona de los esquemas de argumentación de autoridad y simbólicos solo aparece una triada,
- ii. En la zona FVC con modalidades de arrastre mantenido, de lugar mudo, en línea, con rastro activado, vinculado y test se encuentra desprovista de esquemas de argumentación,
- iii. La zona de modalidad de arrastre para ajustar y guiado, en relación a todas las funciones de la variación se encuentran relacionadas con alguno de los esquemas de argumentación,
- iv. La zona aledaña a las coordenadas [MAT, FVF, EAD] se encuentra poblada, aunque con menor frecuencia. Lo mismo sucede con la zona cercana a [MAPA, FVC, EAE].

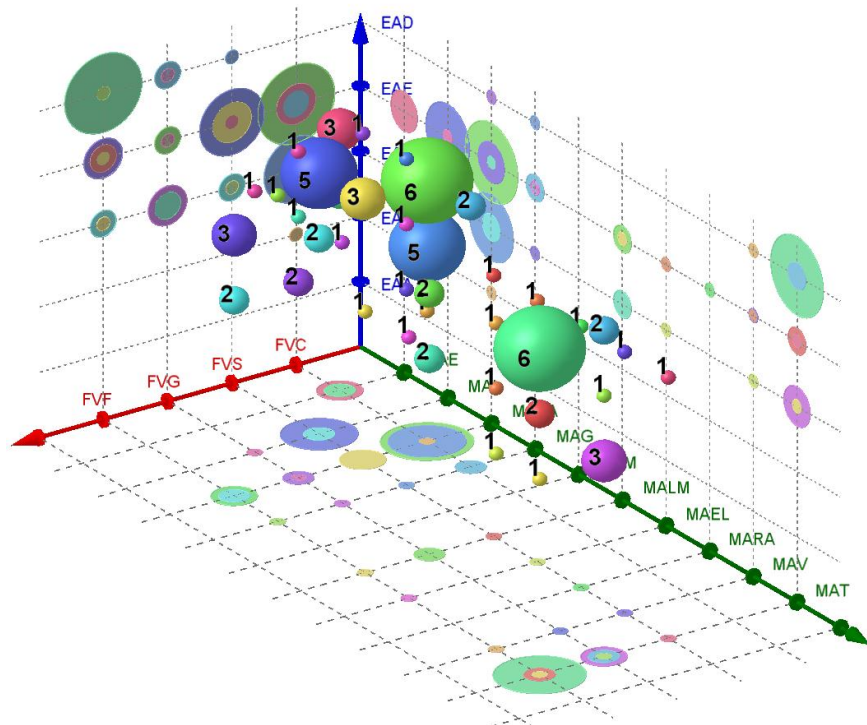


Figura 47. Relación entre las modalidades de arrastre, las funciones de variación y los esquemas de argumentación en el proceso de Luis en las cinco tareas.

Análisis de los resultados de Sara. La Figura 48 muestra las modalidades de arrastre ejecutadas por Sara durante el desarrollo de las tareas en comparación con la proyección del diseño de las tareas. En el trabajo de la estudiante se logra identificar que Sara llegó a niveles superiores en las modalidades de arrastres en las tareas 2 y 4 y que, desde la primera tarea y de manera constante utilizó arrastres de primer nivel como errático, limitado, para ajustar (en mayor medida) y guiado (segunda mayor medida) acompañados de otros que nos permiten afirmar una evolución en la ejecución de arrastres como mantenido, de lugar mudo, en línea, y con rastro activo hasta llegar, como se mencionó, a arrastres de nivel superior como vinculado (en una ocasión) y test (en tres ocasiones). Sin embargo, a pesar de que Sara ejecutó modalidades de arrastre de todo tipo, es evidente que durante el desarrollo de las tareas la estudiante no realizó la cantidad de arrastres proyectada. En algunas ocasiones, los arrastres que permiten pasar de un primer nivel a un nivel superior fueron ejecutados en etapas previas y en menor cantidad, en otras ocasiones sencillamente no los ejecutó como fue el caso del arrastre de lugar mudo en la tarea 2 y los arrastres en línea y de lugar mudo de la tarea 3. Respecto a aquellas modalidades de arrastre que permiten una transición entre los arrastres de primer nivel y los de nivel superior es necesario reconocer que el uso de la herramienta *Mostrar Huella* propició esa transición con éxito en las tareas 2 y 4 permitiendo a la estudiante descubrir y describir correctamente el lugar geométrico y, que en la tarea 3, el arrastre con rastro activado fue el que propició ese descubrimiento.

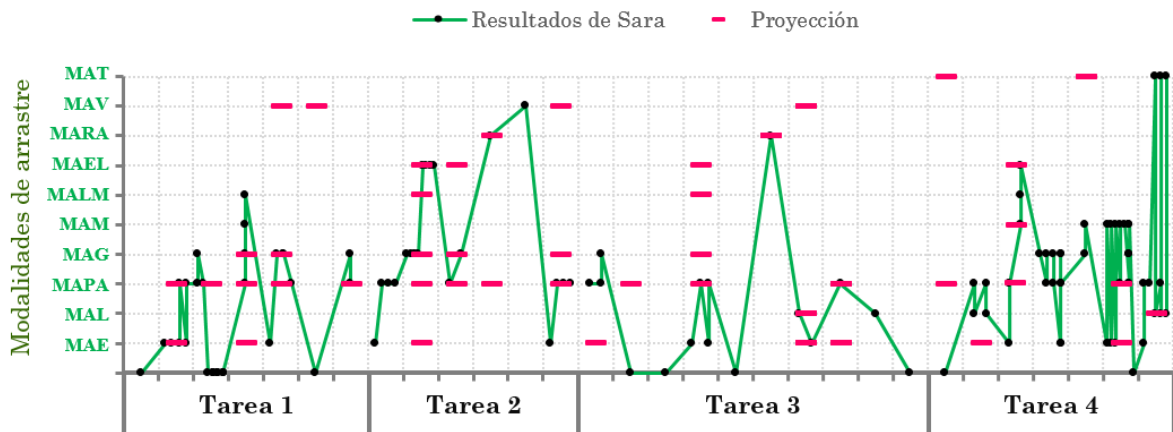


Figura 48. Modalidades de arrastre ejecutadas por Sara en las cuatro primeras tareas.

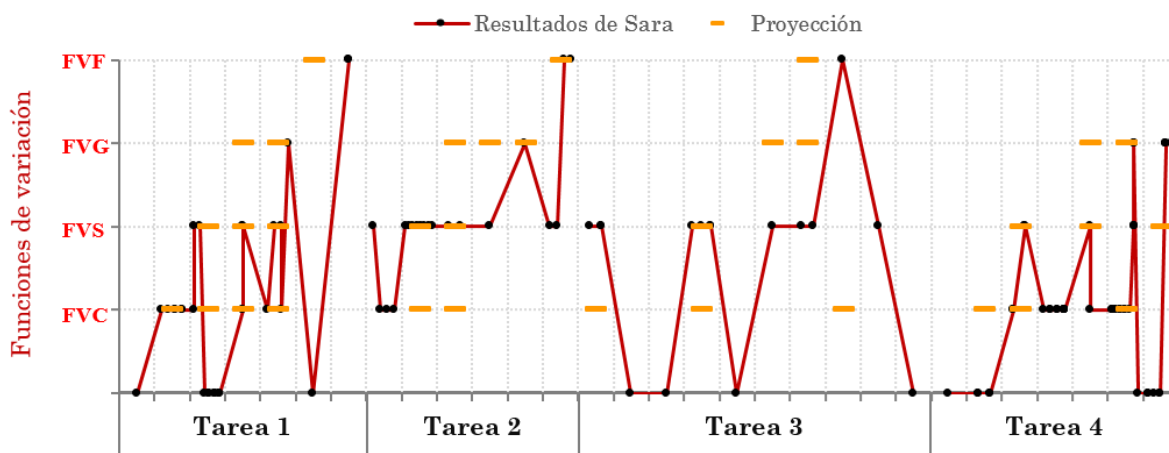


Figura 49. Funciones de variación evidenciadas en el trabajo de Sara en las cuatro primeras tareas.

En relación con las funciones de variación (ver Figura 49), en la primera tarea, Sara realizó un progreso casi igual al esperado, salvo que en la proyección se esperaba la ejecución de la función generalización en la cuarta etapa y la estudiante solo se evidenció una etapa después, similar situación se presentó con la fusión que se presentó hasta la última etapa siendo esperada en la antepenúltima. En la segunda tarea, esta estudiante realizó separación de acuerdo con lo anticipado y desarrolló contraste antes de lo proyectado pero no desarrolló la generalización cuando se esperaba pues el uso de la herramienta *Mostrar Huella* no fue decisivo y la estudiante debió esperar hasta ejecutar la modalidad de arrastre con rastro activado para alcanzar el nivel de generalización esperado. En la tercera tarea, la estudiante no presentó contraste, ella desde el inicio de la etapa realizó la función de la variación separación, tampoco ejecutó generalización pero sí llegó sobre el final de la tarea a ejecutar la función de la variación fusión (una etapa luego de lo esperado) y sin estar acompañada de modalidad de arrastre vinculado o test. Durante la cuarta actividad, el desempeño de Sara fue similar a lo proyectado, aclarando que en algunas ocasiones la función de la variación reportada se esperaba fuera desarrollada una etapa antes o después de lo ocurrido.

A continuación analizamos cómo se relacionan las modalidades de arrastre y las funciones de variación en el proceso del trabajo de Sara. Las relaciones que se presentaron entre estas

categorías y la frecuencia con la cual se repitieron dichas relaciones puede ser observada en la Figura 50.

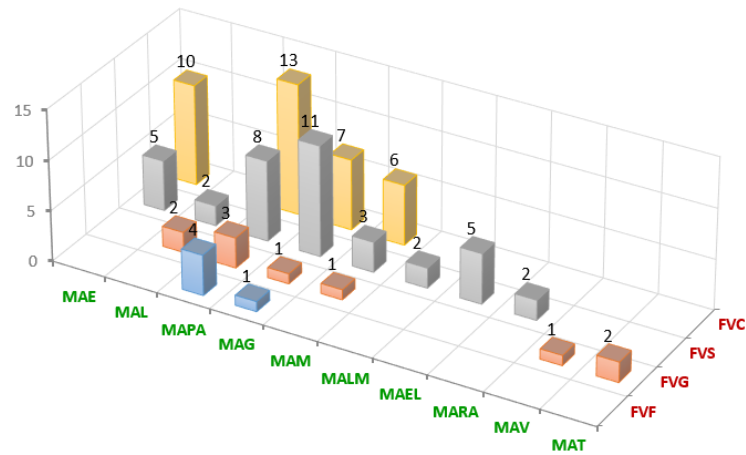


Figura 50. Relación entre las modalidades de arrastre y las funciones de variación en el proceso de Sara en las cinco tareas.

La gráfica muestra que las acciones de Sara se desarrollaron en las cuatro funciones de variación, pero no en todas las modalidades de arrastre. Como se reportó antes en los trabajos de Luis y de Nicol, la mayoría de los arrastres realizados por Sara se enmarcaron en la modalidad de arrastre para ajustar acompañada por una función de contraste, resultado apenas natural ya que todas las tareas promovían el descubrimiento de posiciones que favorecieran una propiedad y su comparación con aquellas que no. Sin embargo, en el caso de esta estudiante es notorio que la función de variación fusión esté acompañada por arrastres para ajustar y guiados tal como lo reporta Leung (2008), quien señaló que la fusión se puede ejecutar con diferentes modalidades de arrastre siempre que permitan variar continuamente las partes de la configuración. Se logra observar también que las modalidades de arrastre errático, para ajustar y guiado se corresponden en su mayoría con la función contraste y que el arrastre guiado se presenta frecuentemente acompañado por la función de separación. Los arrastres vinculados y test, solo se presentaron junto a la función de generalización como lo describe Leung (2008).

EAD: 7.	EAF: 23.	EAR: 10.	EAS: 4.	FAA: 0.
---------	----------	----------	---------	---------

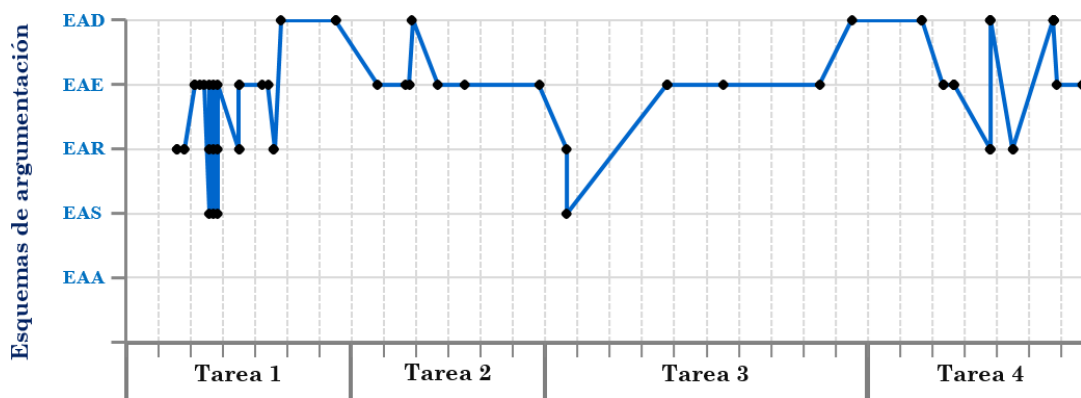


Figura 51. Esquemas de argumentación desarrollados por Sara en las cuatro primeras tareas.

Consideremos ahora los esquemas de argumentación desarrollados por Sara (ver Figura 51). Observamos que la cantidad de esquemas de argumentación producidos por la estudiante corresponden, en su mayoría a esquemas de argumentación empíricos (EAE) y, en segundo lugar, de recuento fáctico (EAR) y en tercer lugar los analíticos (EAD) lo cual coincide con lo reportado en los casos de los estudiantes Nicol y Luis. Recordemos que este tipo de esquemas responden a una estructura deductiva de la forma si-entonces y, en el caso de Sara, cuando ella logró establecer argumentos de este tipo lo hizo de manera autónoma en las primeras etapas de la primera tarea, luego los argumentos analíticos producidos finalizando la primera tarea y durante la segunda surgieron en diálogo con la docente, siendo este último un argumento erróneo. El argumento que surgió al finalizar la tercera tarea lo expresó de manera incompleta pero aun así en la afirmación hecha por Sara es posible observar los elementos que corresponden a la estructura condicional si-entonces similar al primero de los reportados en la tarea 4, lo restantes responden a las respuestas producidas por la estudiante al hallar los centros de las circunferencias construidas y el último al expresar a la docente las condiciones que debe cumplir la recta que contiene los centros de las circunferencias que equidistan de dos puntos, en ambos se manifestaron dificultades para expresar las afirmaciones evidenciando nuevamente la dificultad que implica desarrollar este tipo de argumentos.

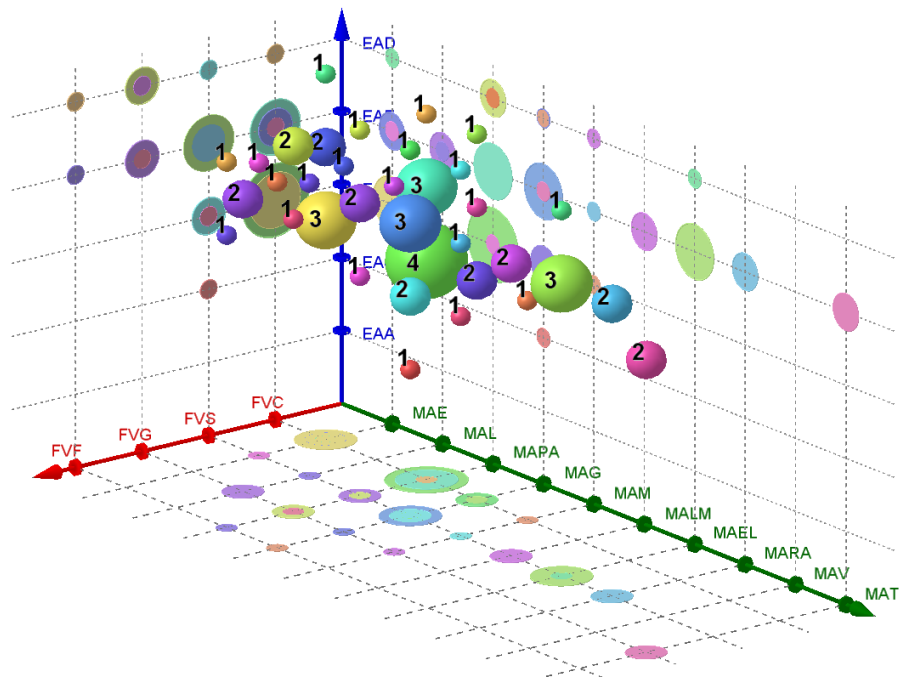


Figura 52. Relación entre las modalidades de arrastre, las funciones de variación y los esquemas de argumentación en el proceso de Sara en las cinco tareas.

En la Figura 52 se reportan las triadas que fueron evidenciadas en trabajo realizado por Sara, allí se observa que la triadas [MAPA, FVC, EAR] fue la más reportada apareciendo cuatro veces, seguidas por las triadas [MAE, FVC, EAR], [MAPA, FVC, EAE], [MALM, FVS, EAE] y [MAG, FVS, EAE] con tres apariciones. La figura permite evidenciar zonas de mayor concentración de las triadas, zonas donde se encuentran relaciones esporádicas y zonas desprovistas de relaciones o donde hay relaciones de muy baja frecuencia, por ejemplo:

- i. En la zona de los esquemas de argumentación de autoridad y simbólicos solo aparece una triada, al igual que lo reportado en el trabajo de Luis.
- ii. En la zona FVC con modalidades de arrastre mantenido, de lugar mudo, en línea, con rastro activado, vinculado y test se encuentra casi desprovista de esquemas de argumentación,
- iii. La zona de modalidad de arrastre para ajustar y guiado, en relación a todas las funciones de la variación se encuentran relacionadas con alguno de los esquemas de argumentación,

- iv. Las zonas cercanas a las coordenadas [MAPA, FVC, EAR] y [MAPA, FVC, EAE] se encuentran pobladas.

Respecto del trabajo de los tres estudiantes, establecimos algunas características recurrentes y otras que diferencian el trabajo de cada alumno. Respecto a lo reportado en (i), es una característica común, ya que la zona mencionada se encuentra libre de triadas o a lo más se presenta una. (ii) es una característica común para Luis y Sara, diferente para Nicol quien presentó dos triadas [MAV, FVC, EAE]. (iii) de nuevo, lo reportado es común para Luis y Sara pero diferencia el trabajo de Nicol, pues ella no cuenta con triadas en toda la franja de la modalidad de arrastre guiado. Finalmente en (iv) se diferencia el trabajo realizado por Luis del realizado por Nicol y Sara, en el caso de Luis, se encontraron dos zonas pobladas, una correspondiente a la triada [MAT, FVF, EAD] y sus cercanías lo que nos permite afirmar que realizó modalidades de arrastre, funciones de la variación y esquemas de argumentación de nivel superior y, la triada [MAPA, FVC, EAE] y sus cercanías que nos indica que Luis realizó varias modalidades de arrastre y funciones de la variación de nivel inicial. En los casos de Nicol y Sara, la zona poblada es cercana a la triada [MAPA, FVC, EAE] y ambas estudiantes carecen de zona poblada correspondiente a modalidades y funciones de nivel superior.

8. CONCLUSIONES

Presentamos en este capítulo las conclusiones que se derivan del trabajo realizado. Estas conclusiones se relacionan con los estudiantes que participaron del estudio, las tareas diseñadas y los objetivos planteados. Al finalizar, se propondrán algunas posibles proyecciones que se derivan de la presente propuesta y que permitirían complementar, contrastar o ampliar lo aquí discutido en futuras investigaciones.

8.1. Conclusiones relativas a los estudiantes

Dado, que en el capítulo anterior presentamos un análisis intra, es decir, con énfasis en los resultados obtenidos para cada estudiante, nos parece importante presentar ahora algunas conclusiones acerca de las relaciones y comparaciones entre los alumnos que participaron de la investigación. En los resultados analizados observamos que, en general, los estudiantes pudieron desarrollar más modalidades de arrastre inferiores o superiores, pero pocas intermedias²⁵. Consideramos que estas modalidades corresponden a una zona de transición que no fue sencilla de recorrer para los estudiantes, más aún si se tiene en cuenta que esta experiencia fue de los primeros trabajos con un SGD para ellos, por lo cual consideramos que estas modalidades de arrastre intermedias, aunque fueron pocas, resultaron vitales para que los estudiantes reconocieran lugares geométricos, lo cual era en parte la solución de las tareas. En el caso de Nicol, no se presentaron estas modalidades; en el caso de Luis, se presentaron en menor frecuencia si se comparan con las demás modalidades de arrastre; y en el caso de Sara, fueron pocas las modalidades intermedias al igual que las superiores. Reconocemos que, en los casos en los que se usaron, estas modalidades fueron trascendentales para el descubrimiento de propiedades y, por ende, el acercamiento a conjeturas y argumentos.

Por otro lado, en lo relacionado con las funciones de variación, si nos fijamos en la escala definida para estas funciones (1. Contraste; 2. Separación; 3. Generalización; 4. Fusión), podemos concluir que entre los tres alumnos se presentó con mayor frecuencia el contraste; en segundo lugar, se encuentra la separación; en tercer lugar, la generalización y, por último, la

²⁵ Como se describió en el capítulo 7, las modalidades consideradas como inferiores fueron el arrastre errático, en línea, para ajustar y guiado; las modalidades intermedias fueron el arrastre mantenido, de lugar mudo, en línea y con rastro activado; y las modalidades superiores fueron el arrastre vinculado y el arrastre test.

fusión. Consideramos que esto concuerda con la relación ascendente entre estas tres funciones propuesta por Leung (2008). Es decir, a mayor complejidad en la función, se evidencia una menor frecuencia en su ejecución.

Por último, observamos que la tendencia en la aparición de las modalidades de arrastre se comportó igual para los tres alumnos. El tipo de esquemas al que más recurrieron los estudiantes para justificar sus respuestas fueron empíricos (EAE), en segundo lugar, se posicionaron los esquemas de argumentación de recuento fáctico (EAR) y, en tercer lugar, los esquemas de argumentación analíticos (EAD). Para los esquemas de argumentación simbólicos y autoritarios encontramos unos pocos casos aislados. Esta tendencia, igual para los tres estudiantes, resulta ser interesante, más si tenemos en cuenta que los tres alumnos manifestaron actitudes diferentes a la hora de comunicar sus ideas. Luis estaba constantemente interesado en compartir sus hallazgos, Sara lo hizo en menor cantidad, mientras que Nicol muy pocas veces tenía la intención de dar a conocer sus ideas.

8.2. Conclusiones relativas a las tareas diseñadas

La teoría de variación indica que uno de los objetivos de la educación consiste en ayudar a los alumnos a experimentar fenómenos de manera poderosa (Orgill, 2012). Atendiendo a este planteamiento, el diseño de las tareas buscaba promover el acercamiento a fenómenos geométricos de manera poderosa por parte de los alumnos. En los resultados obtenidos observamos que este objetivo se cumplió en el caso de Luis, quien ejecutó variedad de arrastres enmarcados en todas las funciones de variación y con una alta frecuencia, lo cual derivó en la producción de múltiples argumentos, muchos de ellos muy acertados; además, el proceso de resolución de Luis le llevó a descubrir relaciones presentes en las tareas estudiadas y que no habíamos contemplado como posibles respuestas. Esto mismo ocurrió en menor medida en el caso de Sara, a quien la variedad de arrastres la condujo a argumentos correctos o parcialmente correctos en muchos casos, y muy pocas veces en el caso de Nicol.

Retomando lo relacionado con las tareas, concluimos que, como se observó en el capítulo 6, estas lograron promover variedad de argumentos, los cuales se basan en la ejecución de diferentes modalidades de arrastre y el desarrollo de diferentes funciones de variación. Cuando hubo ausencia de dichas modalidades y funciones, disminuyó la cantidad de argumentos

desarrollados por los alumnos, así como su validez e importancia dentro de la resolución de la tarea, esto fue lo que le ocurrió a Nicol, de quien reportamos un desempeño por debajo de lo esperado y que atribuimos a la dificultad que tuvo la estudiante para ejecutar los arrastres intermedios proyectados en el diseño de las tareas. Así mismo, si bien las tareas se planearon para el desarrollo de la argumentación individual, vimos que esta se potenció cuando se interactuaba con otra persona, en este caso el docente. En la intervención de los profesores se vieron potenciados los argumentos que producían los alumnos, aunque su participación fue básicamente para cuestionarlos e intentar aclarar sus respuestas para efectos del estudio realizado. Por tal motivo, destacamos que el papel del profesor sigue siendo importante, aunque se propongan tareas digitales como las señaladas en este trabajo. Este mismo papel podría cumplirlo otro estudiante, al trabajar en grupo.

Otro de los aspectos a destacar de las tareas está relacionado con la herramienta desarrollada en este trabajo: *Mostrar huella*. En el trabajo realizado por Sara y Luis, el uso de esta herramienta fue importante para lograr visualizar el lugar geométrico que cumplía una condición. De hecho, el uso de la herramienta posibilitaba realizar los arrastres de nivel intermedio que, como hemos discutido, evidenciaron mayor dificultad para los alumnos. Adicionalmente, en el caso de Luis y Sara, la herramienta les permitió construir un lugar geométrico a partir de los puntos que conformaban la trayectoria resultante. Es necesario destacar que esto es algo que no permite desarrollar la opción *Mostrar Rastro* que trae el programa GeoGebra por defecto y que, incluso, el lugar geométrico que provee esta opción se puede borrar fácilmente. Por estas razones, concluimos que la herramienta resultó ser de gran ayuda para cumplir los objetivos de las tareas. Incluso pensamos que esta herramienta puede mejorarse, por ejemplo, introduciendo variación de color en los puntos para identificar los más próximos al lugar que cumple una propiedad o los más recientes, característica que resultaría favorable tanto al estudiante que interactúe con el SGD como al docente que revise el trabajo. También creemos que la herramienta requiere de mayor tiempo de trabajo para que los alumnos se apropien de ella y la apliquen con mayor eficacia en otras tareas de este tipo.

En lo que respecta a la plataforma Moodle, encontramos en ella una potente herramienta de gestión y recolección de información para el desarrollo de la presente investigación, al

permitirnos compartir las tareas con los alumnos a través de Internet y al posibilitar el almacenamiento de sus respuestas y de los cambios efectuados sobre los objetos de la tarea a través del archivo de GeoGebra que resultaba del trabajo de cada uno. En consecuencia, concluimos que el uso integrado de estas dos herramientas constituye un instrumento de gran utilidad para el desarrollo y evaluación de tareas digitales y para la realización de diferentes investigaciones en las que se implementen SGD.

Por último, en relación con las preguntas de opción múltiple que se incluyeron en algunas etapas para que los alumnos eligieran la conclusión que más se aproximaba a sus exploraciones o descubrimientos, notamos que estas no siempre dan cuenta del proceso real desarrollado por el alumno. En algunos casos, los estudiantes dedicaron tiempo a analizar cuál era la opción que mejor describía las propiedades y relaciones encontradas, mientras que, en otros, los alumnos seleccionaron alguna opción al azar sin considerar lo que habían hecho previamente en la tarea. En consecuencia, consideramos que las preguntas abiertas son una opción más acertada para trabajar con los estudiantes este tipo de tareas donde se pretende promover y estudiar sus esquemas de argumentación. Recordemos que, como se vio en el planteamiento del problema, muchas de las tareas digitales que existen en las propuestas actuales de las editoriales colombianas y el Ministerio de Educación Nacional, tienen como base la estructura de pregunta con respuesta de selección múltiple.

8.3. Conclusiones relativas a los objetivos planteados

Al iniciar este trabajo se contemplaron cuatro objetivos específicos relacionados con (1) el desarrollo de una revisión bibliográfica para fundamentar el diseño y la evaluación de tareas que promovieran la elaboración de conjeturas y la argumentación, (2) el diseño de dichas tareas digitales con GeoGebra, (3) la implementación de las tareas mencionadas con un grupo de estudiantes de grado séptimo y (4) la descripción de las características de las tareas digitales de geometría que promueven los procesos mencionados.

En cuanto al primer objetivo, hemos concluido que las modalidades de arrastre propuestas por Arzarello et al.(2002), las funciones de variación adaptadas a la Educación Matemática por Leung (2003, 2008) y Leung y Yip-Cheung (2006) y los esquemas de argumentación retomados por Flores (2007) del trabajo de Harel y Sowder (1998), resultaron ser una

combinación útil para el desarrollo y análisis de las tareas pues, como se señaló líneas atrás, se observó que la relación entre las modalidades y las funciones, con base en la cual se diseñaron las tareas, potenció la elaboración de variedad de argumentos en los alumnos. En relación con los objetivos dos y tres, concluimos que el software GeoGebra permitió diseñar tareas, que no correspondían a los problemas abiertos planteados por estos autores, pero que promovieron la variedad de modalidades de arrastre propuesta por ellos y, por ende, que desarrollaran las funciones de variación en los estudiantes seleccionados, dando cabida a la elaboración de los diferentes tipos de argumentos que, muchas veces, se identificaban en las respuestas que ellos ingresaban en el software y quedaban registradas en Moodle.

Para finalizar este apartado, y en relación con el cuarto objetivo, mencionaremos algunas características de las tareas digitales de geometría propuestas que fueron claves para promover la elaboración de conjeturas y argumentos. En primer lugar, estas tareas deben darles la posibilidad a los estudiantes de experimentar la variación para descubrir variantes e invariantes y, en consecuencia, tener acceso a los fenómenos geométricos involucrados que los aproximen a los conceptos o propiedades sobre los que se espera que aprendan, lo cual se puede lograr a través de diversas modalidades de arrastre. En segundo lugar, las tareas deben proveer algún grado de retroalimentación al que se debe dirigir la atención de los estudiantes y que les dé respuestas sobre la validez de lo que están conjeturando o argumentando. Particularmente, este segundo aspecto lo vimos potenciado en nuestras tareas cuando los alumnos debían lograr que una figura cumpliera unas ciertas condiciones para avanzar a la siguiente etapa (como en la tarea 3 – etapa 8). Así mismo, las tareas deben permitir el desarrollo de respuestas de tipo abierto, en las que los alumnos puedan expresar sus argumentos, ya que vimos que este tipo de preguntas permiten dar cuenta real de los procesos desarrollados por los estudiantes a diferencia de las de selección múltiple. Y, por último, que el alumno tenga la posibilidad de revisar y corregir sus respuestas en etapas previas, pues esto facilita que establezca relaciones entre las diferentes etapas de las tareas o que cuestione constantemente sus respuestas.

8.4. Proyecciones investigativas

De las conclusiones de este trabajo también se desprenden algunas preguntas o asuntos de interés que se pueden abordar en futuros trabajos. Por ejemplo, dado que estas tareas se

aplicaron para estudiantes trabajando de manera individual, se plantea la posibilidad de analizar el resultado de aplicarlas para alumnos que trabajen en grupo. En tal caso, ¿mejorarían los arrastres ejecutados, las funciones evidenciadas y los esquemas de argumentación producidos?

Adicionalmente, surge la idea de desarrollar un trabajo distinto en el que previamente los alumnos se entrenen en el uso de las diferentes modalidades de arrastre o, específicamente, en el de la herramienta *Mostrar huella*. Esto requeriría un mayor tiempo, pero podría analizarse posteriormente qué efectos se tienen al resolver tareas cómo las propuestas.

En relación con la herramienta *Mostrar huella* desarrollada, dado que el arrastre no siempre arrojará el lugar deseado al depender de las habilidades de los estudiantes al ejecutarlo, el uso de colores debería ser una opción para mejorar esta herramienta de manera que los puntos tengan (i) tonalidades variadas de acuerdo con la proximidad que tengan con el lugar geométrico que se busca o (ii) un color que resalte los puntos más próximos al punto que es arrastrado con la finalidad de distinguir fácilmente los arrastres recientes de los más antiguos.

Finalmente, luego de analizar los resultados obtenidos consideramos que las tareas diseñadas pueden mejorarse en su programación para lograr que solo se pueda avanzar si la respuesta es correcta y, en caso de que no sea así, se retroalimente con mayor frecuencia lo hecho por el estudiante, de forma tal que sea posible darle orientaciones más certeras para avanzar en el proceso. Esto fue algo en lo que se intentó avanzar en nuestra propuesta. Sin embargo, esta retroalimentación no es fácil y demanda considerar todas las posibles respuestas.

9. REFERENCIAS BIBLIOGRÁFICAS

- Álvarez-Niño, L. C. y Arias-Ortiz, C. (2014). Los ambientes virtuales de aprendizaje (AVA) como facilitadores del proceso de enseñanza y aprendizaje de la geometría analítica en la educación media. *Revista de educación y desarrollo*, 30, 63–70.
- Arellano, C. (2013). *La argumentación de alumnos de bachillerato al resolver problemas matemáticos*. Universidad Autónoma de Querétaro.
- Arzarello, F., Olivero, F., Paola, D. y Robutti, O. (2002). A cognitive analysis of dragging practises in Cabri environments. *Zentralblatt für Didaktik der Mathematik*, 34(3), 66–72. <https://doi.org/10.1007/BF02655708>
- Baccaglioni-Frank, A. y Mariotti, M. A. (2010). Generating conjectures in dynamic geometry: The maintaining dragging model. *International Journal of Computers for Mathematical Learning*, 15(3), 225–253. <https://doi.org/10.1007/s10758-010-9169-3>
- Flores, C., Gómez, A. y Flores, H. (2010). Esquemas de argumentación en actividades de Geometría Dinámica. *Acta Scientiae*, 12(2), 22–42.
- Flores, H. (2007). Esquemas de argumentación en profesores de matemáticas del bachillerato. *Educación Matemática*, 19(1), 63–98.
- Franco, B. y Moreno, G. (2011). *La argumentación como núcleo de la actividad demostrativa*. Universidad Pedagógica Nacional.
- García, M. D. M. (2011). *Evolución de actitudes y competencias matemáticas en estudiantes de secundaria al introducir geometría en el aula*. Universidad de Almería.
- González, M. (2009). A propósito del libro de texto escolar en la sociedad de la información. *Revista Educación y Pedagogía*, 21, 125–138.
- Gutiérrez, A. (1991). La investigación en Didáctica de las Matemáticas. En A. Gutiérrez (Ed.), *Area de conocimiento Didáctica de la Matemática* (pp. 149–195). Madrid: Síntesis.
- Harel, G. y Sowder, L. (1998). Students' proof schemes: Results from exploratory studies. *CBMS Research in Collegiate Mathematics Education*. III.
- Hattermann, M. (2010). The drag-mode in three dimensional dynamic geometry environments – Two studies. En *CERME 6–WORKING GROUP 5* (pp. 786–795).
- Leung, A. (2003). Dynamic Geometry and the Theory of Variation. *Proceeding of the 27th Conference of the International Group for the Psychology of Mathematics Education*, 3, 197–204.
- Leung, A. (2008). Dragging in a dynamic geometry environment through the lens of variation.

- International Journal of Computers for Mathematical Learning*, 13(2), 135–157.
<https://doi.org/10.1007/s10758-008-9130-x>
- Leung, A. (2011). An epistemic model of task design in dynamic geometry environment. *ZDM - International Journal on Mathematics Education*, 43(3), 325–336.
<https://doi.org/10.1007/s11858-011-0329-2>
- Leung, A., Baccaglioni-Frank, A. y Mariotti, M. A. (2013). Discernment of invariants in dynamic geometry environments. *Educational Studies in Mathematics*, 84(3), 439–460.
<https://doi.org/10.1007/s10649-013-9492-4>
- Leung, A., Chan, Y. y Lopez-real, F. (2000). *Instrumental Genesis in Dynamic Geometry Environments*. Hong Kong.
- Leung, A. y Yip-Cheung, C. (2006). Exploring Necessary and Sufficient Conditions in Dynamic Geometry Environments. *The International Journal for Technology in Mathematics Education*, 13(1), 37–43.
- Lopez-Real, F. y Leung, A. (2006). Dragging as a conceptual tool in dynamic geometry environments. *International Journal of Mathematical Education in Science and Technology*, 37(6), 665–679. <https://doi.org/10.1080/00207390600712539>
- Mariotti, M. A. (2006). Proof and proving in Mathematics Education. En A. Gutiérrez y P. Boero (Eds.), *Handbook of Research on the Psychology of Mathematics Education* (pp. 173–204). Rotterdam: Sense Publishers.
- Medina, I., Manrique, V. y Sua, C. (2017). Módulo de GeoGebra para Moodle: Herramienta para docentes y docentes investigadores. Curso llevado a cabo en el 23 encuentro de geometría y sus aplicaciones, Bogotá - Colombia: Universidad Pedagógica Nacional.
- Ministerio de Educación Nacional. (2006). Estándares Básicos de Competencias en Matemáticas. *Estándares Básicos de Competencias en Lengua, Matemáticas, Ciencias y Cuidadas*, 46–95.
- Olivero, F. (2002). *The Proving Process within a Dynamic Geometry Environment*. University of Bristol.
- Orgill, M. (2012). Variation theory. En *Encyclopedia of the Sciences of Learning* (pp. 2608–2611). Springer.
- Osorio, M. (2012). Unidad 3: Formas de entender la tecnología en un proceso enseñanza-aprendizaje: Formación presencial mediada por la tecnología, formación combinada y formación virtual. En *Asesoría para el uso de las TIC en la formación*. Bogotá: SENA.
- Romero, J. L. (2011). El libro de texto digital en la enseñanza. *Revista digital innovación y experiencias educativas*, 43, 1–9.

- Samper, C. y Molina, O. (2013). *Geometría plana: un espacio de aprendizaje* (1a ed.). Bogotá: Universidad Pedagógica Nacional.
- Samper, C., Molina, O., Perry, P. y Camargo, L. (2013). *Geometría plana: un espacio de aprendizaje*. Bogotá: Universidad Pedagógica Nacional.
- Samper, C., Perry, P., Camargo, L., Molina, O., y Echeverry, A. (2010). Geometría dinámica: Su contribución a la comprensión de condicionales de la forma si-entonces. *Educación Matemática*, 22(3), 119–142.
- Scheuer, O., Loll, F., Pinkwart, N. y McLaren, B. M. (2010). Computer-supported argumentation: A review of the state of the art. *International Journal of Computer-Supported Collaborative Learning*, 5(1), 43–102. <https://doi.org/10.1007/s11412-009-9080-x>
- Toulmin, S. (2007). *Los usos de la argumentación*. *Journal of Chemical Information and Modeling* (Vol. 53). <https://doi.org/10.1017/CBO9781107415324.004>

10. ANEXOS

10.1. Anexo 1. Continuación sección diseño de la secuencia de tareas

10.1.1. Tarea 2. Ángulo con medida constante

Con el desarrollo de esta tarea se pretendía que un estudiante que superara las seis etapas que la componen identificara la implicación *SI en un $\angle ABC$ se mueve el punto B manteniendo la medida del ángulo, entonces el punto B va formando una circunferencia.*

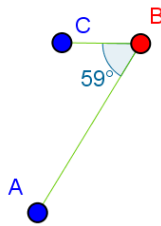


Figura 53. Configuración básica etapa 1. Tarea 2.

En la primera tarea describimos lo que llamamos una configuración básica, para la segunda etapa también tuvimos una, en este caso se trató de los puntos A , B y C , los segmentos AB y CB y la medida del ángulo ABC entre 0° y 180° . Una vez más, el único punto móvil era B , y el arrastre de B era la única manera en que el estudiante podría cambiar la configuración. Al mismo tiempo que se mostró en pantalla la configuración básica (ver

Figura 53) se presentó al estudiante la siguiente instrucción:

Anticipa. 1. Mueve el punto B y elige una medida para el ángulo B . Escribe la medida que elegiste en la caja verde. ¿Crees que el punto B se puede mover a otro lugar, manteniendo la misma medida que elegiste? ¿Podrías decir en cuántas posiciones se puede ubicar el punto B ?

Tal como en la tarea 1, la intención que teníamos para esta etapa inicial de la tarea 2 era llamar la atención del estudiante sobre la medida del ángulo B y que de manera intuitiva se aventurara a señalar si el punto B podía ser ubicado en otro lugar de forma que se mantuviera la medida elegida por él. Claro que el estudiante podía apoyarse en el SGD para crear una conjetura que le permitiera contestar la pregunta hecha.

En la segunda etapa de esta tarea la configuración de la construcción se presentó al estudiante como la dejó luego de realizar la primera etapa. Adicionalmente aparece, como se puede apreciar en la Figura 54, la herramienta *Mostrar Huella*. La instrucción que acompañó a esta etapa fue:

Verifica. 2. Mueve el punto B tratando de mantener la medida de elegida. Luego de mover el punto B, por distintas partes manteniendo la medida del ángulo, habilita la opción Mostrar Huella. ¿Qué figura se forma con la huella del punto B?

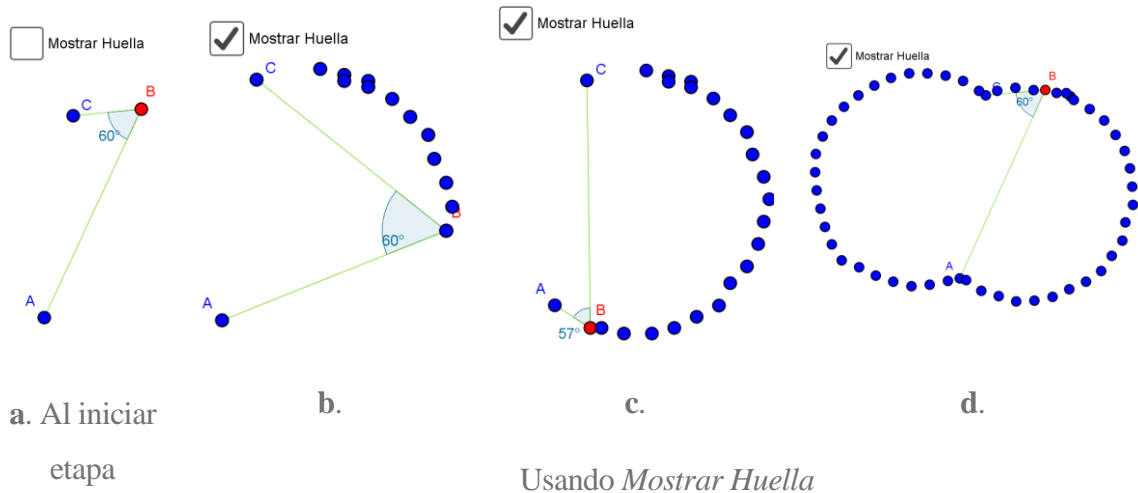


Figura 54. Movimiento del punto B manteniendo un ángulo de 60° registrado por la herramienta *Mostrar Huella*. Etapa 2. Tarea 2.

En esta etapa buscábamos que el estudiante arrastrara el punto B por diferentes lugares intentando mantener la medida que él eligió para el ángulo B, así con ese movimiento de arrastre encontraría lugares en los que se diera la condición y otros en los que no. También, con el desarrollo de esta etapa, se buscaba que el estudiante lograra identificar y seguir la ruta que debía seguir el punto, siempre enfocando su atención en la medida del ángulo y no en el rastro que dejaba el punto, aunque el estudiante era libre de decidir si arrastraba a B con la opción *Mostrar Huella* habilitada o no.

Otro resultado esperado del desarrollo de esta etapa era confrontar al estudiante con la respuesta que había dejado al finalizar la primera etapa, pues en ella debió afirmar si creía o no que existieran más puntos en los que la medida del ángulo se mantuviera. Es esperado que el estudiante, al realizar el arrastre encontrará varios puntos que cumplan la condición, además él, usando la herramienta *Mostrar Huella*, sin quererlo irá marcando posiciones que esperamos le permitan conjeturar sobre el camino que debe seguir el punto.

Acorde a lo indicado en párrafos anteriores, esperábamos encontrar en primer lugar las modalidades de arrastre: errático, para ajustar, guiado, de lugar mudo y en línea y, por otro lado, en cuanto a las las funciones de la variación esperábamos encontrar contraste y separación.

En la tercera etapa el estudiante, además de encontrar la configuración básica, tal como la dejó luego de los arrastres realizados en la etapa previa, encuentra cierta cantidad n de puntos auxiliares dispuestos con la medida del ángulo AB_nC que formaban y que podían ser arrastrados (Figura 55.a.). El enunciado para esta etapa incluyó una instrucción y dos preguntas:

Explora. 3. Se han creado algunos puntos auxiliares. Muévelos a diferentes lugares para que el ángulo que marquen tenga la medida elegida. ¿Qué figura se puede formar con los puntos? ¿Es la misma figura que esperabas?

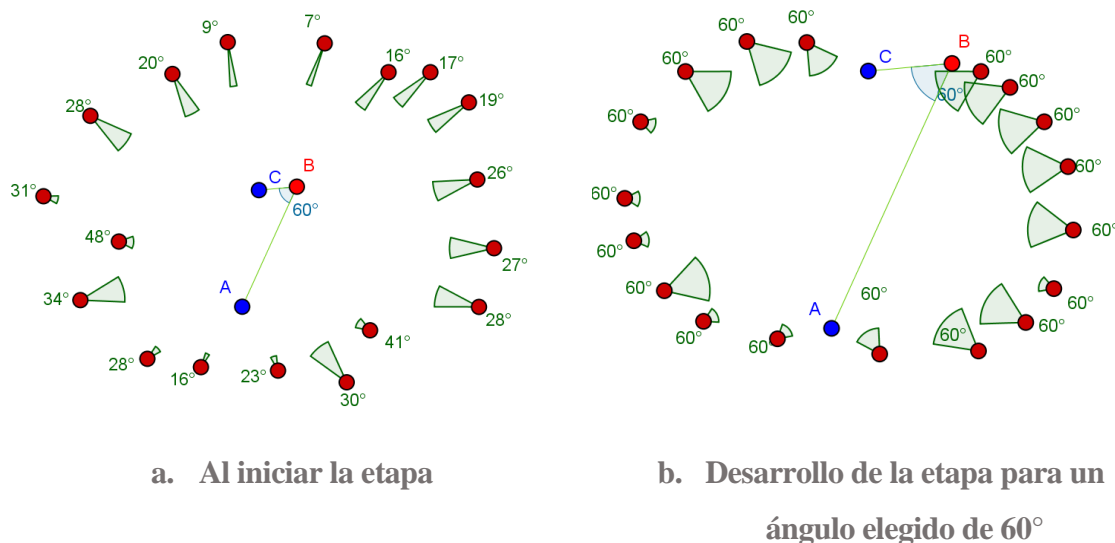


Figura 55. Configuración etapa 3. Tarea 2.

Con la realización de esta etapa esperábamos que el estudiante:

- Arrastrara los puntos auxiliares logrando una configuración similar a la que puede ser observada en la Figura 55.b. en la que se eligió un ángulo de 60° .

- Contrastara posiciones para los puntos en los que se cumplía la condición con otras posiciones en las que no.
- Arrastrara los puntos, uno a uno, hacia un lugar (arcos de circunferencia) en donde se favorece la condición, identificando que la forma no corresponde a una circunferencia.
- Respondiera a la pregunta mencionando una forma diferente a semicircunferencia o a una circunferencia.

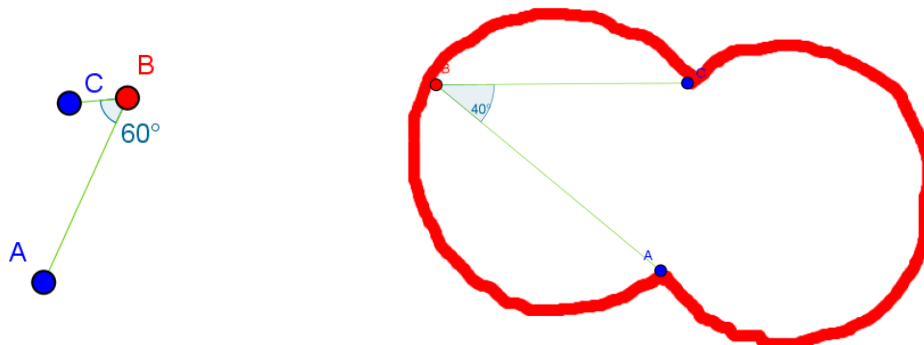
Según lo anterior, esperábamos que el estudiante efectuará modalidades de arrastre para ajustar,

Para la cuarta etapa se mostró solo la configuración básica (Figura 26). El enunciado para esta etapa fue:

Generaliza. 4. Elige una nueva medida para el ángulo del punto B. Escribe la medida en la caja verde. Haz clic derecho sobre el punto B y activa la opción Rastro. Luego, mueve el punto B tratando de mantener la medida elegida. ¿Qué figura se forma con el rastro que va dejando el punto?

El estudiante debía, en primer lugar, elegir una nueva medida para el ángulo, en este caso elegimos una de 40° (Figura 56), luego debió activar la opción rastro y arrastrar al punto B intentando mantener la medida. Con el desarrollo de esta etapa pretendíamos que el estudiante, además de lograr lo deseado en la etapa anterior, lograra validar que los puntos que favorecían la condición para la medida elegida no se encontraban en solo una circunferencia, que en realidad eran dos arcos que comparten la misma cuerda.

Se esperaba encontrar en el trabajo del estudiante modalidades de arrastre para ajustar y con rastro activado, adicionalmente la función de variación generalización.



a. Al iniciar la etapa

b. Desarrollo de la etapa para un ángulo elegido de 40°

Figura 56. Configuración etapa 4. Tarea 2.

Para la quinta etapa se presentó al estudiante la configuración básica y una serie de controles de selección que representaban cinco opciones de conclusión. La instrucción para esta etapa fue: *Concluye. 5. De acuerdo con lo que observaste, ¿cuál de las opciones sería la conclusión del problema? Deja seleccionada UNA, la que más te parezca. Apóyate en la construcción para verificar si tu selección es apropiada.*

El estudiante por medio de los controles de selección podía elegir la conclusión que a su parecer se ajustara más a lo observado, a continuación se mencionan las opciones.

1. Si A, B y C son puntos de una circunferencia ENTONCES todos los ángulos que forman estos puntos tienen la misma medida.
2. Si en un $\angle ABC$ se mueve el punto B manteniendo la medida del ángulo, ENTONCES el punto B va formando un arco de circunferencia.
3. Si AC es una cuerda de circunferencia ENTONCES todos los puntos B que están sobre la circunferencia, en el arco que empieza en A y termina en C, forman ángulos $\angle ABC$ de la misma medida.
4. Si en un $\angle ABC$ se mueve el punto B manteniendo la medida del ángulo, ENTONCES el punto B va formando una circunferencia.
5. Si A y C son puntos de una circunferencia ENTONCES todos los puntos B que están sobre la circunferencia forman ángulos $\angle ABC$ de la misma medida.

Esperábamos que en esta etapa el estudiante efectuara modalidades de arrastre de manera libre, pero con la idea de verificar que el camino que debe seguir el punto B es, como algunos estudiantes lo llamaron en las pruebas piloto, dos circunferencias unidas.

Para la etapa seis no presentamos la configuración básica. En lugar de ello se mostró la configuración que se puede ver en la Figura 57, en ella se observan los $\angle PFQ$, $\angle PGQ$, $\angle PHQ$ y $\angle PIQ$ sin mostrar las medidas y a la derecha de estos, los controles que en este caso permitían trazar las circunferencias a y b y modificar sus radios. El enunciado presentado en esta etapa incluyó una instrucción y una pregunta: **Construye. 6.** *Mueve los puntos para lograr que los cuatro ángulos tengan la misma medida. Pista: Muestra las circunferencias y cambia sus radios. ¿Por qué crees que esa debe ser la ubicación de los puntos? Explica tu respuesta.*

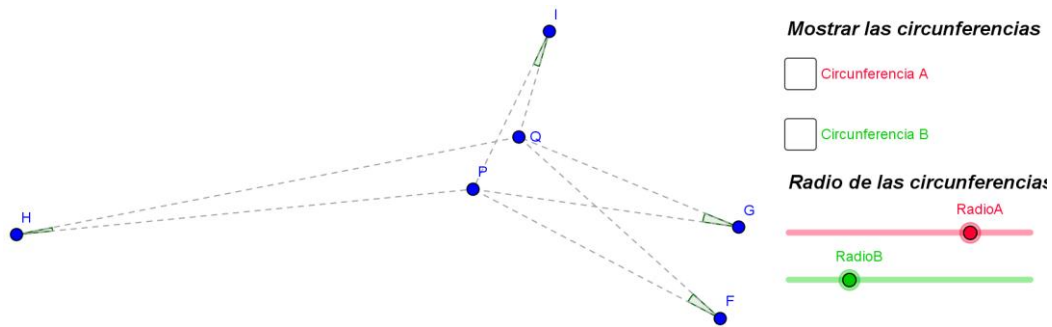


Figura 57. Configuración inicial etapa 6. Tarea 2.

Esperábamos que el estudiante evocara las construcciones e imágenes de las etapas anteriores, y que de manera consciente trazara las circunferencias e igualara sus radios para luego arrastrar sobre cada una un par de vértices de los ángulos. Todo para garantizar así que la medida de los ángulos era la misma.

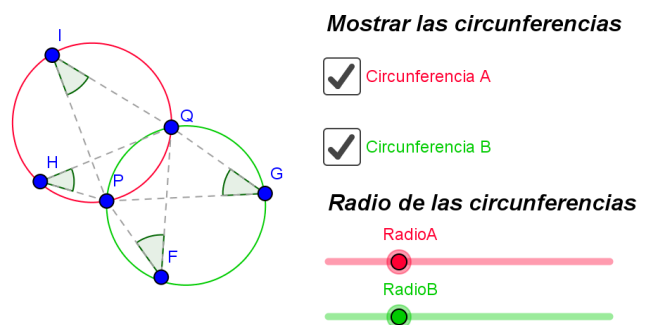


Figura 58. Posible respuesta etapa 6. Tarea 2.

En esta etapa esperábamos que el discente realizara modalidades de arrastre para ajustar, guiado y vinculado y, en lo referente a funciones de la variación lo esperado era fusión.

10.1.2. Tarea 3. Equidistancia

Con esta tarea titulada *equidistancia* pretendíamos que el estudiante que superara las diez etapas lograra la identificar las características que definen la mediatriz de un segmento.


 Para las primeras seis etapas se presentó al estudiante la configuración básica mostrada en la Figura 59. Compuesta por los puntos A y B a los que se les inhabilitó la selección para que no pudieran ser movidos por el estudiante.

Figura 59. Configuración básica etapa 1. Tarea 3.

En la primera etapa se mostró la configuración básica y simultáneamente se presentó al estudiante la siguiente instrucción:

Construye. 1. Usa las herramientas de GeoGebra para ubicar un punto que esté a la misma distancia de los puntos A y B, respectivamente. Explica cómo ubicaste el punto.

El objetivo que perseguíamos con esta primera etapa era que el estudiante hiciera uso de las herramientas de GeoGebra para ubicar un punto que estuviera a igual distancia a los puntos A y B. Para cumplir con la tarea el estudiante podía hacer uso de herramientas como *Medio o Centro, Perpendicular, Ángulo, Distancia o Longitud*, mientras que otras como las herramientas *Mediatriz* y las del menú *circunferencias* fueron ocultas.

Se esperaba que el estudiante realizara modalidades de arrastre errático y para ajustar al tiempo que se presentaba una función de la variación contraste. En esta primera etapa, como no era explícito en la instrucción, el estudiante podía elegir si comprobar o no si el punto creado cumplía con la condición solicitada, sin embargo, en la segunda etapa le solicitamos indirectamente que lo comprobara. Para la segunda etapa, se presentó la configuración básica y el punto o puntos que el estudiante había creado durante el desarrollo de la primera etapa y, como se mencionó antes, por medio de una pregunta, se le solicitó que comprobara si el punto construido cumplía con la condición. El cuestionamiento presentado fue el siguiente:

Explora. 2. ¿Cómo podrías comprobar que el punto que ubicaste está a la misma distancia de A y de B usando las herramientas de GeoGebra?

La intención que perseguíamos es que el estudiante comprobara, por ejemplo usando la herramienta *distancia o longitud*, la condición y, en caso que no se cumpliera, que corrigiera arrastrando al punto hasta un lugar donde se cumpliera, es decir, se pretendía que el estudiante contrastara lugares en los que se cumple la condición solicitada con lugares en los que no y en ese quehacer se pretendía que realizara arrastres para ajustar acompañado de la función de variación contraste.

Para la etapa tres, la configuración que fue mostrada nuevamente fue la básica junto a lo construido por el estudiante durante las etapas primera y segunda. La instrucción para esta etapa fue:

Anticipa. 3. *¿Crees que puedes encontrar más puntos que estén a la misma distancia de A y de B? Sí__ No__ ¿o el punto que encontraste es el único? Explica tu respuesta.*

Con esta pregunta invitamos al estudiante para que conjeturara, para su respuesta el estudiante podía proceder desde lo intuitivo, sin embargo, él podía apoyar su respuesta en las exploraciones hechas hasta el momento o hacer nuevas.

En la cuarta etapa la configuración (Figura 60) consistió en la básica a la que le fueron agregados el punto C y las distancias de C a A y de C a B. En este caso se dispuso de la herramienta *Mostrar Huella*, así se indicó en las instrucciones:

Verifica. 4. *Mueve el punto rojo tratando que la distancia hasta A y hasta B sea la misma. Al finalizar el movimiento, Habilita la opción Mostrar Huella. ¿Qué figura se puede formar con todos los puntos azules cuando la distancia es la misma? Explica tu respuesta.*

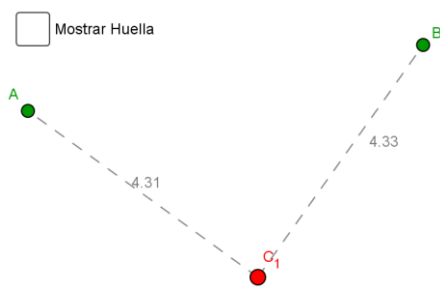


Figura 60. Configuración etapa 4. Tarea 3.

Como se puede inferir de la instrucción, pretendíamos que el estudiante identificara que el lugar geométrico que siguen los puntos que equidistan de otros dos puntos es una recta. Para esta etapa se mantuvieron fijos los puntos A y B mientras que el punto C variaba y con este las distancias. Al solicitar al estudiante que moviera a C por distintos lugares manteniendo la igualdad de distancias pretendíamos que validara o

refutara la conjetura elaborada en la etapa previa. Las modalidades de arrastre esperadas eran: para ajustar, guiado, de lugar mudo, en línea y, las funciones de variación contraste y separación.

En la quinta etapa se mantuvo la configuración que dejó el estudiante luego de desarrollar la cuarta etapa (Figura 61.a.), la instrucción que acompañó esta fue:

Construye. 5. Con las herramientas de Geogebra, construye la figura que supones se forma con todos los puntos azules, ¿Cómo la construiste?

La intención era que el estudiante usara las herramientas para construir el objeto geométrico que él pensaba se formaba, o podía formarse, con los puntos azules, es decir, los que registraban el camino por donde fue arrastrado C . Esperábamos encontrar que el estudiante dibujara un segmento o una recta usando para ello los puntos mostrados al habilitar la opción *Mostrar Huella*, Figura 61 a-c.

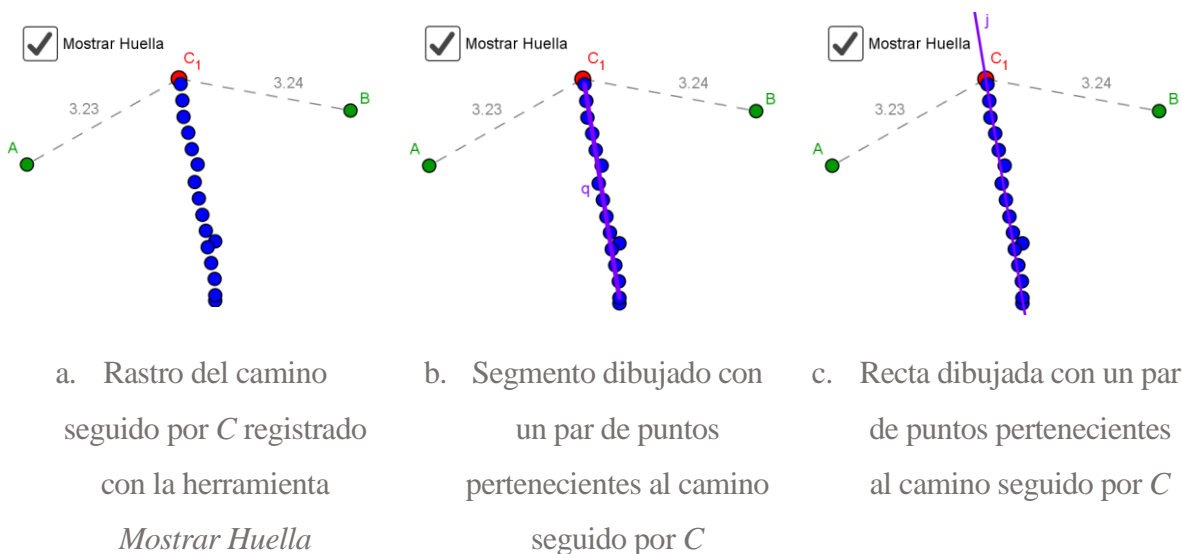


Figura 61. Configuración etapa 5. Tarea 3.

En la sexta etapa la configuración (Figura 60) fue la misma empleada en la etapa cuatro, es decir, la básica a la que le fueron agregados el punto C y las distancias de C a A y de C a B . La instrucción en este caso fue:

Concluye. 6. Haz clic derecho sobre el punto Rojo y activa la opción Rastro. Luego, mueve el punto rojo tratando que la distancia hasta A y hasta B sea la misma. Escribe una conclusión.

La intención era que el estudiante verificara que el lugar buscado era una recta, haciendo uso de arrastre con rastro activado y la función de variación generalización.

La séptima etapa presentó una configuración distinta (ver Figura 62), en este caso se mostró un segmento PQ , la recta mediatriz del segmento, y las distancias de los extremos del segmento a un punto ubicado en la mediatriz. Se presentó además lo siguiente:

Información. 7. Los puntos que están a la misma distancia de dos puntos dados P y Q , se encuentran sobre una recta denominada mediatriz del segmento PQ . En pantalla encuentras construida la mediatriz del segmento PQ . Mueve los puntos y observa lo que sucede.

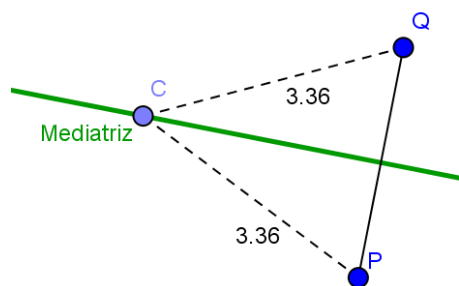


Figura 62. Configuración etapa 7. Tarea 3.

Mostrar la definición de la mediatriz se constituyó como un intento por formalizar los hallazgos que hasta el momento habían realizado los estudiantes sobre la mediatriz como lugar geométrico que equidista de los extremos de un segmento, formalización que consideramos necesaria antes de cambiar de perspectiva para el estudio de este objeto geométrico.

Esperábamos que el estudiante validara lo hallado hasta el momento durante sus exploraciones en etapas anteriores, en esta ocasión realizando modalidades de arrastre: errático, limitado y vinculado, por otro lado, se esperaba la aparición de funciones de la variación generalización y fusión.

En la etapa ocho presentamos una configuración interactiva, en la que el texto cambiaba según se cumplieran condiciones sobre la recta y el segmento, la configuración inicial se muestra en la Figura 63, en ella el segmento HI y la recta no se intersecan, la recta no forma un ángulo recto con el segmento y la recta no contiene al punto medio del segmento. Para esta etapa, el único punto que no podía ser arrastrado es el punto medio del segmento HI . La indicación que dimos para la etapa fue: *Explora. 8. Mueve los puntos para lograr que la recta cumpla las*

condiciones mostradas a la izquierda. Observa lo que sucede cuando todas las condiciones se cumplen.

La recta...

Interseca al segmento AB.....NO

Forma un ángulo recto con el segmento.....NO

Contiene al punto medio del segmento.....NO

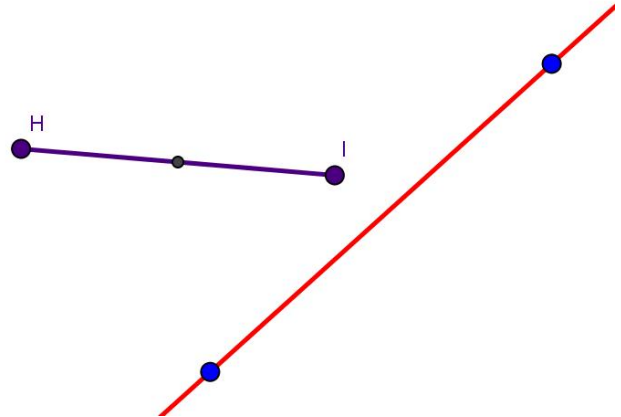


Figura 63. Configuración inicial etapa 8. Tarea 3.

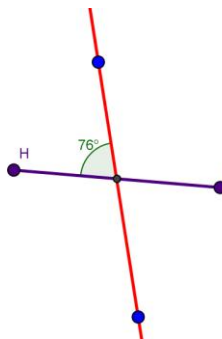
A medida que el estudiante, mediante el arrastre de los puntos, lograba alguna de las condiciones recibía una retroalimentación visual, un ejemplo de ello se puede observar en la Figura 64.a. en donde hemos procurado se cumplan dos de las condiciones.

La recta...

Interseca al segmento AB.....SI

Forma un ángulo recto con el segmento.....NO

Contiene al punto medio del segmento.....SI



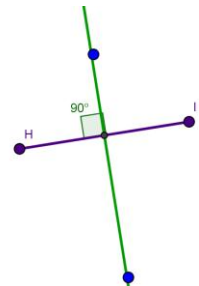
a. Retroalimentación luego de cumplir dos condiciones

La recta...

Interseca al segmento AB.....SI

Forma un ángulo recto con el segmento.....SI

Contiene al punto medio del segmento.....SI



b. Retroalimentación luego de cumplir las tres condiciones

Figura 64. Configuración etapa 8. Tarea 3.

La única manera que el estudiante tenía para avanzar a la siguiente etapa era lograr se cumplieran las tres condiciones (Figura 64.b.) una vez más, la retroalimentación visual se

presentó, por ejemplo: cambio de color del texto de azul a verde, cambio en la mediatriz que antes era de color rojo y en la expresión del emoji.

Las modalidades de arrastre esperadas para esta etapa eran: errático y para ajustar acompañados de la función de variación contraste.

La configuración para la etapa nueve (Figura 65), incluyó todos los elementos excepto los textos. Se añadió un punto S sobre la recta y las medidas de S a H y de S a I . Simultáneamente se mostró la siguiente instrucción:

Explora. 9. ¡Excelente! Lograste que la recta cumpla las condiciones. Ahora aparece en la recta un punto especial S , muévelo ¿Qué sucede con la distancia del punto S a los extremos del segmento HI ?

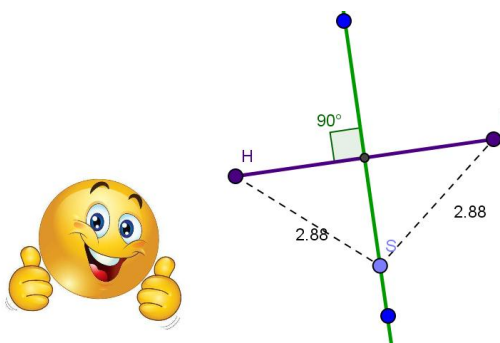


Figura 65. Configuración etapa 9. Tarea 3.

La intención con esta etapa era que el estudiante identificara las características que debía cumplir una recta para que fuera la mediatriz de un segmento. Pensamos conveniente esta última pues integró dos perspectivas de estudio para la mediatriz de un segmento, por un lado la mediatriz como lugar determinado por los puntos que equidistan de los extremos de un segmento y por

otro las características que una recta debe cumplir para ser mediatriz de un segmento.

Se esperaba que el estudiante, durante la realización de esta etapa, arrastrara punto S de manera que se correspondiera con la modalidad de arrastre limitado acompañado de la función de variación separación. Para la etapa diez de esta tarea, se continuó con la configuración dejada por el estudiante al finalizar la etapa nueve. Se presentó la siguiente instrucción:

Concluye. 10. ¿Qué condiciones debe cumplir la recta para que los puntos sobre ella se encuentren a la misma distancia de los extremos del segmento?

Esperábamos que el estudiante evocara las condiciones que debió garantizar en la etapa ocho, e hiciera registro de ellas en su respuesta.

10.1.3. Tarea 4. Circunferencia por dos puntos

Pretendíamos que el estudiante que desarrollara las siete etapas que componen esta tarea identificara que *los centros de las circunferencias que contienen a los extremos de un segmento se encuentran en la mediatriz de dicho segmento*. Las exploraciones para esta tarea iniciaron mostrando al estudiante una configuración básica, que en esta cuarta tarea incluyó tan solo los puntos A y B que podían ser arrastrados.

La primera etapa de la cuarta tarea mostró al estudiante la configuración básica (Figura 66.a.) y de manera simultánea fue mostrado en pantalla la siguiente instrucción: *Construye. 1. Usa las herramientas de GeoGebra para construir una circunferencia que contenga a los puntos A y B . Revisa el menú de circunferencias y busca una de las herramientas que te sirva. Explica cómo la construiste.*

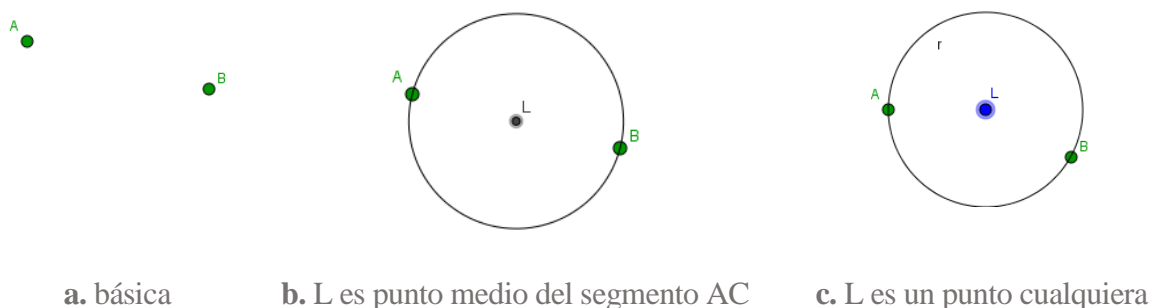


Figura 66. Configuraciones etapa 4. Tarea 4.

Creímos conveniente no iniciar con una etapa Anticipa pues en este caso, la pregunta para el estudiante hubiese sido algo como *¿Crees que es posible construir una circunferencia que contenga a los puntos A y B ?* Pregunta que pensamos resultaría poco retadora para los estudiantes pues podrían relacionar, por ejemplo, los puntos A y B como los extremos de un diámetro. Por esta razón decidimos iniciar con un reto de construcción, para este caso como se evidencia en el enunciado, el reto para el discente consistió en trazar una circunferencia que pasara por los dos puntos. Para ello los estudiantes eran libres de explorar las diferentes herramientas que tiene GeoGebra para la construcción de circunferencias.

La elección de permitir al estudiante abordar la solución de la tarea desde distintas perspectivas, tantas como herramientas tiene GeoGebra, hace que esperáramos exploraciones que

favorecieran distintos tipos de arrastre y distintas funciones de la variación, sin embargo, algunas soluciones que esperábamos aparecieran son: que el estudiante halle el punto medio del segmento AC y luego utilice la herramienta *Circunferencia (centro punto)*, como la encontrada en la Figura 66.b; otra opción de respuesta que esperamos es que el estudiante utilizando la misma herramienta, como centro ubique un punto que parezca ser el punto medio del segmento y que pase por A , luego arrastre el centro hasta hacer coincidir la circunferencia con los puntos A y B (Figura 66.c.). En ambas opciones, se esperaba un arrastre de tipo test para verificar la construcción y en la segunda opción se esperaba un arrastre para ajustar acompañados, en este caso de la función de variación contraste.

En la segunda etapa se mostró al estudiante la configuración básica junto a lo que él construyó en la etapa anterior. Simultáneamente se mostró el siguiente cuestionamiento:

Anticipa. 2. ¿Crees que es posible construir otras circunferencias diferentes que contengan a los puntos A y B ? Si_No_. Explica tu respuesta.

En esta etapa, esperamos que el estudiante exprese una respuesta a la pregunta hecha, esta respuesta se constituye en una conjetura y por tanto él estaría utilizando los conocimientos previos o el dinamismo del SGD como medio de justificación.

Durante el paso de la segunda a la tercera etapa a la configuración dejada por el estudiante le fue agregada una circunferencia con centro en F y que pasa por el punto A –la circunferencia no pasa por el punto B –, se agregó también la herramienta *Mostrar Huella*, la configuración puede ser vista en la figura Figura 67.a. La instrucción para esta etapa fue:

*Verifica. 3. El punto rojo es el centro de la circunferencia que contiene al punto A . Mueve el punto rojo tratando de que la circunferencia contenga al punto B . Al finalizar el movimiento activa la opción *Mostrar huella*. ¿Qué figura se puede formar con los puntos azules cuando la circunferencia contiene a los puntos A y B ?*

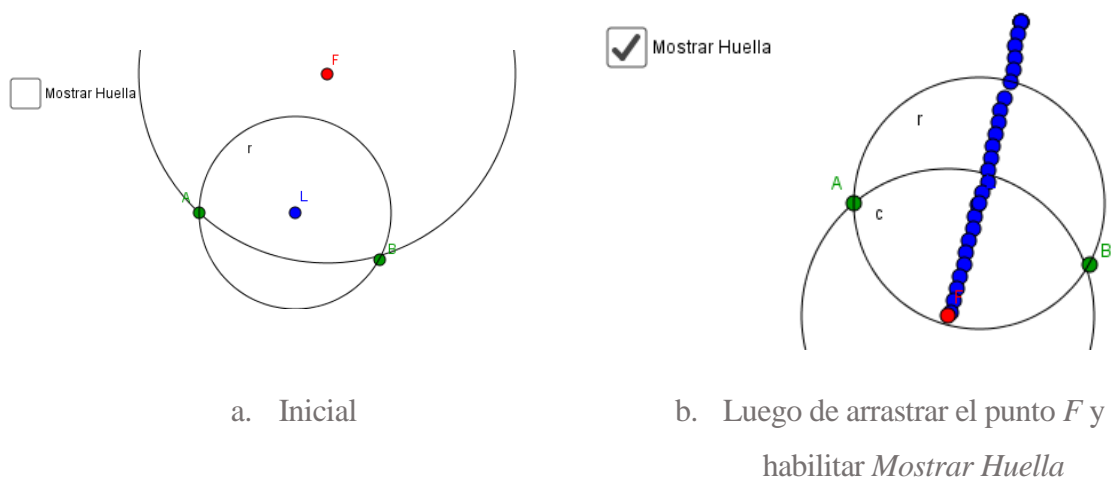


Figura 67. Configuración etapa 3. Tarea 4.

Tras seguir las indicaciones, esperábamos que el estudiante identificara y mencionara en su respuesta que el camino que sigue el punto F , centro de la circunferencia, cuando la circunferencia pasa por los puntos A y B se corresponde con una recta. Lo anterior se ejemplificó en la figura Figura 67.b. Acorde a lo esperado, las modalidades de arrastres que debían surgir era: errático, para ajustar, mantenido, en línea, adicionalmente las funciones de variación contraste y separación.

En la cuarta etapa de esta tarea, tan solo se mostró la configuración básica, es decir, los puntos A y B . La instrucción para esta etapa fue:

Explora. 4. Representa algunas circunferencias que pasen por A y B y encuentra sus centros. Explica cómo lo hiciste.

El estudiante debía crear varias circunferencias y hallar sus centros. Ya en la segunda etapa de esta tarea había explorado algunas herramientas para trazar circunferencias sin embargo, esperábamos que explorara con la herramienta *Circunferencia por tres puntos*, pues esta le permitía elegir los puntos A , B y otro para luego preocuparse por hallar los centros, para ello podía usar la herramienta *Medio o Centro*. Otra estrategia que el estudiante podía utilizar consistía en elegir la herramienta *Circunferencia Centro Punto* seleccionando como centro cualquier punto y que la circunferencia pasara por ejemplo por A , para luego arrastrar el centro hasta hacer coincidir la circunferencia con el punto B . En esta etapa, las modalidades de arrastre y funciones de variación que surgieran dependían de la estrategia del estudiante.

El enunciado para la quinta etapa decía: **Generaliza. 5.** *¿Qué tienen en común los centros de las circunferencias que contienen a los puntos A y B? Utiliza herramientas de GeoGebra para verificar tu respuesta.*

En cuanto a la configuración, esta se presentó tal como el estudiante la dejó luego de finalizar la cuarta etapa. Si bien, las etapas cuatro y cinco de esta tarea podrían verse representadas durante el desarrollo de la tercera, llevando incluso al establecimiento de la misma conjetura, consideramos que la experiencia del estudiante variaba de acuerdo a si él era quien debía realizar y verificar sus construcciones, favoreciendo así otros tipos de arrastre y seguramente otras funciones de la variación, sin embargo, consideramos que al terminar esta etapa, el discente debía haber realizado un trabajo que le hubiera permitido experimentar la modalidad de arrastre test y las funciones de la variación separación y generalización.

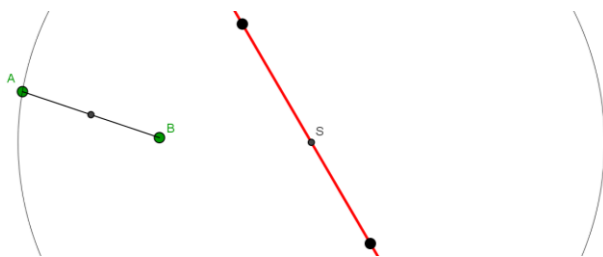
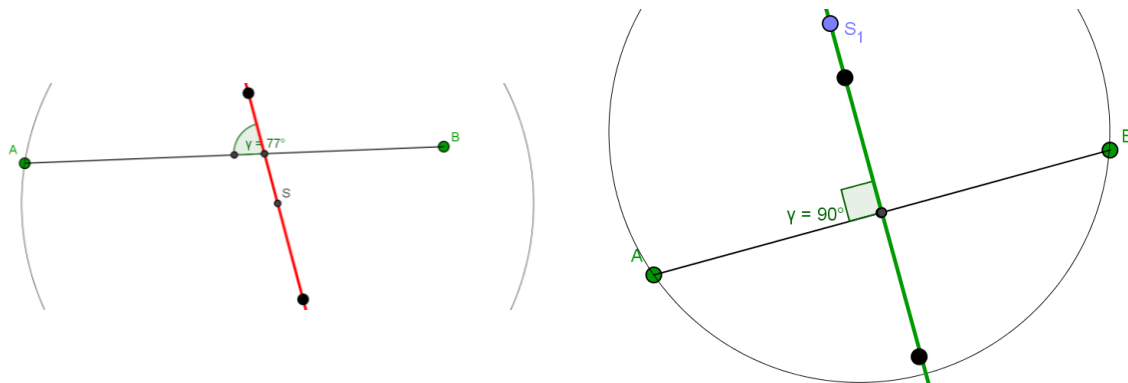


Figura 68. Configuración etapa 6. Tarea 4.

Para la etapa sexta se eligió complementar la configuración básica presentando al estudiante otros objetos geométricos, estos fueron: segmento AB , punto medio del segmento AB , recta que pasa por dos puntos cuya posición puede ser cambiada por el estudiante, S un punto en la recta que no podía seleccionarse, y una circunferencia con centro en S y que pasa por el punto A . Esta configuración se puede observar en la Figura 68. Al igual que en otras tareas, se incluyó en esta etapa una serie de retroalimentaciones visuales. Por ejemplo, se mostró la medida del ángulo que forman el segmento y la recta al intersectarse (Figura 69.a.) También se cambió de color la recta, esta pasó de rojo a verde cuando coincidía con la mediatriz del segmento AB (Figura 69.b.) El enunciado para esta etapa fue:

Concluye. 6. *Mueve los puntos negros para lograr que la circunferencia con centro S contenga a los puntos A y B . Escribe una conclusión.*



a. Retroalimentación: medida del ángulo que forman el segmento y la recta

b. Retroalimentación: cambio en el color de la recta

Figura 69. Retroalimentaciones de la configuración etapa 6. Tarea 4.

Es necesario mencionar que en la caja de texto dispuesta para que el estudiante realizara la escritura de la conclusión se dejó indicado de la forma *Si... Entonces...* por lo que esperábamos una respuesta en forma de implicación. En cuanto a las modalidades de arrastre se esperaban que surgieran, erráticos, para ajustar y, las funciones de la variación contraste y generalización.

Para la etapa siete de la tarea se dejó la misma configuración, solo que al llegar a esta etapa, el estudiante debió ubicar la recta como mediatriz del segmento, momento en el cual el punto S original se ocultó y aparece en la recta mediatriz el punto S₁, que podía ser desplazado por sobre la recta cuando esta coincidía con la mediatriz del segmento. La indicación para esta etapa fue:

Concluye. 7. Mueve el punto S sobre la recta. ¿Qué sucede con la circunferencia y los puntos A y B? Escribe una conclusión.

Nuevamente, esperábamos que el estudiante escribiera una conclusión utilizando la forma *Si... Entonces...* Aclarando que, la configuración podía ser cambiada y en algún momento del arrastre el estudiante podía encontrarse con una recta de color rojo, lo cual indicaba que no coincidía con la mediatriz del segmento y por tanto no podía desplazar al punto S₁ sobre la mediatriz. La modalidad de arrastre esperada era limitada y función de variación separación.

10.1.4. Tarea 5. Cuadrilátero

En esta tarea final esperábamos que los estudiantes pudieran aplicar lo que hubiesen entendido de las tareas anteriores. A través de esta tarea, compuesta por seis etapas, esperábamos que ellos identificaran la conjetura Si las mediatrices del cuadrilátero se intersecan en un solo punto, entonces los vértices del cuadrilátero están en una circunferencia, o la recíproca a esta implicación.

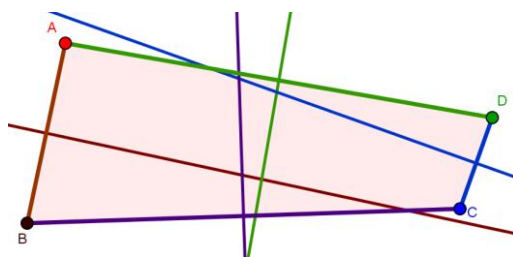


Figura 70. Básica etapa 1. Tarea 5. exploraciones.

La configuración básica para esta tarea consistió en mostrar el cuadrilátero $ABCD$ y las mediatrices de sus lados, estas últimas se correspondían en color al segmento del cual eran mediatriz (Figura 70). En esta configuración, los vértices del cuadrilátero podían ser cambiados por el estudiante durante sus exploraciones.

En la primera etapa, del tipo anticipa, decidimos preguntar al estudiante si recordaba qué es una mediatriz de un segmento, pues este concepto será necesario para el desarrollo satisfactorio de esta tarea. El enunciado completo para esta etapa era:

Anticipa. 1. Antes de iniciar, ¿recuerdas qué es la mediatriz de un segmento? Si recuerdas, observa las mediatrices de los lados del cuadrilátero $ABCD$. ¿Crees que es posible transformar el cuadrilátero para que sus mediatrices se intersequen en un solo punto? Si_ No_. Explica tu respuesta.

La intención, como en las demás etapas de este tipo, era que el estudiante, bien sea desde la intuición o realizando exploraciones, conjeturara sobre la posibilidad o imposibilidad de cumplir con la condición solicitada. La experiencia durante las pruebas piloto realizadas nos mostró que los estudiantes, ante un enunciado de este tipo, respondían ejecutando distintos tipos de arrastre sobre los puntos con la finalidad de modificar la construcción para que cumpliera con lo deseado. Ellos continuaban realizando arrastres hasta cumplir con la condición, lo cual nos hizo pensar que desde el principio intuían la posibilidad de cambiar la

configuración y efectuaban cambios en esta hasta verificar y lograr una explicar lo solicitado en el enunciado.

En esta etapa, esperábamos pues, que los estudiantes arrastraran los vértices del cuadrilátero hasta encontrar como mínimo un lugar en el que se cumpliera que las mediatrices se intersecaran, y que escribieran algo acerca de su exploración. También se esperaba detectar, en el quehacer del estudiante, arrastres erráticos y para ajustar y la función de variación contraste. Para la segunda etapa, también del tipo anticipa, mostramos al estudiante la configuración básica tal como él la dejó luego de sus exploraciones en la etapa anterior. Para esta etapa el enunciado fue:

Anticipa. 2. ¿Crees que es posible mover los vértices del cuadrilátero manteniendo la intersección de las mediatrices en un solo punto? Explica tu respuesta.

Ahora, solicitábamos al estudiante pensar en la posibilidad de mover los vértices manteniendo la condición solicitada sobre la intersección de las mediatrices, por lo cual, esperábamos que generara una conjetura al respecto mencionando que el camino que debía seguir es una circunferencia, para lo cual podía hacer uso de su intuición o del SGD. La configuración para esta etapa y la anterior permitían la aparición de distintos tipos de arrastre, así también de varias funciones de la variación de acuerdo al trabajo de exploración realizado por el estudiante, sin embargo, al finalizar esta segunda etapa se esperaba que el estudiante haya realizado las modalidades de arrastre y funciones de variación mencionadas para la etapa anterior junto con las modalidades de arrastre mantenido, de lugar mudo y la función de variación separación.

Sabíamos que arrastrar los vértices de un cuadrilátero manteniendo concurrentes las mediatrices es una tarea más dispendiosa, dependiente en gran parte de la destreza de quien maneja el SGD, que verificar la existencia de un lugar donde esto ocurre y, por tanto era más fácil para un estudiante establecer como afirmativa la conjetura en la primera etapa que hacer lo mismo con la segunda. Por lo tanto consideramos, luego de esta segunda etapa incluir una tercera de verificación. El enunciado para la tercera etapa fue:

Verifica. 3. Mueve los vértices del cuadrilátero manteniendo la intersección de las mediatrices en un solo punto. ¿Verificaste tu respuesta anterior? SI __ No __ ¿Por qué?

Esperábamos entonces que el estudiante que hubiera respondido en la etapa previa que no es posible mover los vértices del cuadrilátero manteniendo la intersección de las mediatrices en un solo punto, en esta oportunidad viera en el enunciado una nueva invitación a emprender la tarea. En caso positivo o negativo, esperábamos también una explicación sobre si verificó o no la respuesta dada en la segunda etapa, es decir, la verificación sobre la conjetura.

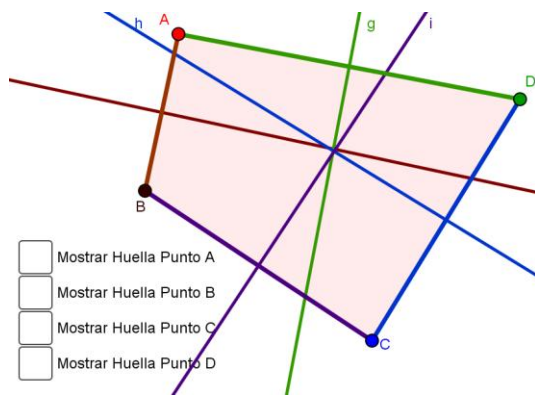


Figura 71. Mostrar Huella, etapa 4. Tarea 5.

Para la etapa cuatro no se varió la configuración, salvo que fue habilitada la herramienta *Mostrar Huella* para cada uno de los vértices del cuadrilátero (Figura 71). Como la herramienta, en etapas anteriores, fue bien recibida y empleada por los estudiantes quienes se acostumbraron a su manejo, habilitando y deshabilitando según su comodidad, decidimos en esta etapa no hacer referencia a su uso en el enunciado, que para la

etapa fue: *Verifica. 4. Intenta mover solo uno de los vértices manteniendo la intersección de las mediatrices en un solo punto. ¿Crees que hay alguna propiedad que se deba cumplir para que las mediatrices se intersequen en un solo punto? Explica.*

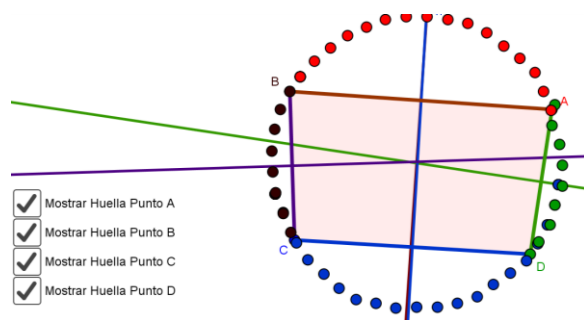


Figura 72. Uso de *Mostrar Huella*, etapa 4. Tarea 5.

verificar o, en caso de no haberlo hecho antes, descubrir el camino por el que debían desplazar los puntos para mantener la condición deseada sobre las mediatrices y así generar una conjetura. Un ejemplo de la exploración se puede apreciar en la Figura 72. Acorde con lo anterior las funciones de la variación que se esperaban, a este punto de la tarea, eran:

Con el desarrollo de esta tarea esperábamos que los estudiantes movieran uno a uno los vértices, manteniendo la intersección de las mediatrices en un solo punto, mientras que habilitaban y deshabilitaban la herramienta *Mostrar Huella* a placer. De tal forma que la exploración hecha les permitiera

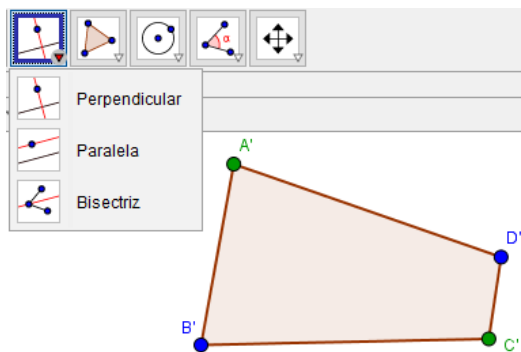
mantenido, guiado, de lugar mudo, en línea, adicionalmente se esperaba la función de variación generalización.

La configuración para la quinta etapa se mostró igual a como la dejó el estudiante luego de desarrollar la etapa cuatro. El enunciado para esta etapa fue:

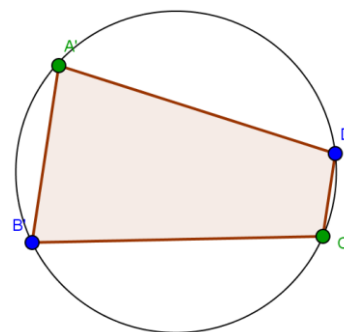
Concluye. 5. ¿Qué condiciones debe cumplir un cuadrilátero para que sus mediatrices se intersequen en un solo punto?

En esta etapa esperábamos que los estudiantes mencionaran que los vértices debían estar sobre una misma circunferencia para que las mediatrices se intersequen en el mismo punto. En este momento de la tarea, esperábamos que los estudiantes hubiesen experimentado diferentes características críticas y con la respuesta a la pregunta planteada, iniciaran la construcción de un significado para las exploraciones realizadas, siendo así, se deseaba que en esta etapa apareciera la función de variación fusión.

Con el ánimo que los estudiantes aplicaran el resultado de sus exploraciones en etapas previas, diseñamos esta sexta etapa en la que se mostró un cuadrilátero $ABCD$ donde podían seleccionar y arrastrar cualquiera de los vértices, se eliminó del menú de herramientas la que crea la mediatriz de un segmento como se muestra en la (Figura 73.a.) La instrucción dada para esta etapa fue: *Aplica. 6. Transforma el siguiente cuadrilátero para que sus mediatrices se intersequen en un solo punto. Justifica tu respuesta.*



a. Configuración inicial



b. Ejemplo de respuesta esperada

Figura 73. Configuración etapa 6. Tarea 5.

Lo esperado para esta etapa era que el estudiante usara las herramientas de GeoGebra para trazar una circunferencia y luego arrastrara los vértices del cuadrilátero a la circunferencia, usando como justificación que si los vértices del cuadrilátero se encuentran sobre una circunferencia entonces las mediatrices se intersecan en un solo punto.

Para finalizar esta actividad, se esperaba que el estudiante luego de construir la circunferencia, realizara arrastres sobre los vértices hasta ubicarlos sobre la circunferencia, estos arrastres podían coincidir con varias modalidades de arrastre, por ejemplo: para ajustar, vinculado o limitado. Mientras que la función de la variación esperada era fusión.

10.2. Anexo 2. Continuación sección análisis

En lo que sigue, se presenta cada una de las transcripciones y análisis del trabajo de los tres estudiantes, completando así el análisis del capítulo 6 del presente trabajo.

10.3. Análisis del trabajo de Nicol

10.3.1. Tarea 1. El triángulo rectángulo

En esta tarea veremos cómo Nicol realizó diferentes tipos de arrastres como erráticos, para ajustar, vinculados o limitados con el objetivo de explorar las diferentes etapas de la tarea. La estudiante se encontraba principalmente en la función de contraste, porque a lo largo de la tarea se centró en comparar las posiciones que favorecen la propiedad estudiada. Los argumentos que desarrolló corresponden en su mayoría a empíricos, basados en lo que observaba en la construcción. Aunque ella estableció conclusiones acertadas en cada etapa, el final, veremos que le costó relacionar estas conclusiones parciales para desarrollar una general y aplicarla en la resolución de un problema geométrico como el de la etapa final.

Nicol inició la primera etapa de la tarea: *Anticipa. 1. ¿Crees que el punto B se puede ubicar en otro lugar, de tal forma que el ángulo siga midiendo 90° ?*

Para empezar, ella seleccionó el punto B y lo arrastró a otro lugar en el cual el ángulo B tenía la misma amplitud de 90° (Figura 74). Consideramos que este arrastre realizado por Nicol corresponde a la modalidad de arrastre para ajustar, porque lo que ella hizo fue mover el punto a una posición que favorece una propiedad; en este caso, dicha propiedad corresponde a la medida del ángulo. Adicionalmente, entendemos que este arrastre obedece a la función de variación de contraste, dado que la alumna estaba buscando posiciones en las que se cumple una condición y las diferenciaba de aquellas en las que no [MAPA, FVC, 0].



Figura 74. Arrastre realizado por Nicol en la primera etapa de la Tarea 1.

Luego, ella escribió una respuesta incompleta a la pregunta: “creería que (s)²⁶” [sic] y pasó a la etapa 2.

Verifica. 2. Haz clic en el punto B y muévelo para buscar otra posición en la que el ángulo mida 90°. ¿Solo hay una posición que cumpla esta condición? Explica cómo llegaste a tu respuesta.

Para abordar esta etapa, Nicol empezó a mover el punto B por muchas partes de la pantalla, como se observa en la Figura 75 (a-c). Este arrastre que realizó la estudiante es de carácter aleatorio; solo lo hacía para buscar algún lugar en el que existiera la medida que necesitaba, por lo que consideramos que este es un arrastre errático. Además, este movimiento continúa perteneciendo a la función de contraste, dado que se comparan los casos favorables y no favorables [MAE, FVC, 0].

Luego, al encontrar un sector de la pantalla en el que la medida parece acercarse a 90°, ella movió el punto con un poco de mayor precisión para ajustar la configuración a esta medida, como se observa en la Figura 75 (d-e). De esta forma, buscaba la posición favorable y la diferenciaba de aquellas que no favorecen la condición. En ese sentido, estas acciones se identifican con la modalidad de arrastre para ajustar y la función de variación de contraste [MAPA, FVC, 0].

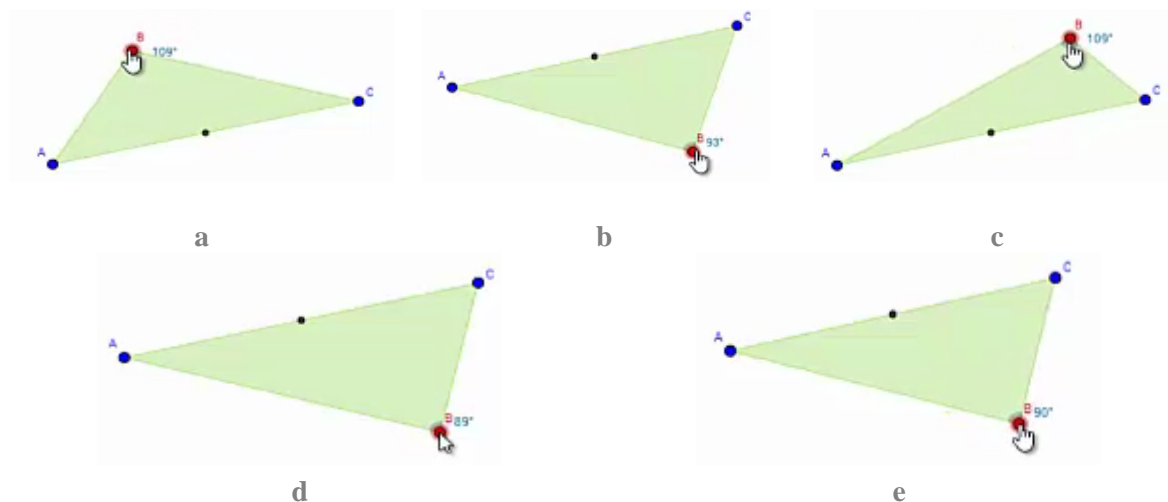


Figura 75. Arrastre realizado por Nicol en la segunda etapa de la Tarea 1, buscando la medida de 90°.

²⁶ Hemos complementado las palabras que escribió la estudiante con algunas letras entre paréntesis.

A continuación, Nicol escribió la siguiente respuesta para la pregunta 2: “pueden haber más de un ángulo ya que (s)i miramo(s) lo(s) diferente(s) ángulos y (s)u movimiento encontramos ma(s)” [sic]. Esta afirmación que escribió la estudiante se basa en la exploración que ella realizó previamente a través de los arrastres para ajustar y el contraste. Dado que la estudiante explica que a través del movimiento es posible encontrar más ángulos con esta medida, consideramos que afirmación corresponde a un esquema de argumentación de recuento fáctico [MAPA, FVC, EAR]. Luego, ella avanzó a la etapa 3.

Explora. 3. Se han creado algunos puntos auxiliares. Muévelos a diferentes posiciones para que el ángulo marcado sea de 90° . ¿Qué figura se puede formar con todos los puntos cuando el ángulo que marcan es de 90° ? Explica tu respuesta.

Uno de los profesores se acerca a Nicol y tienen el siguiente diálogo. En el acompañamiento de la profesora, parece que la estudiante empieza a realizar una lectura un poco más detenida de las instrucciones y las preguntas.

1	Profesor 2	Listo. Esta es la tercera, lee la pregunta y entiende la pregunta.
2	Nicol	[Parece leer la pregunta] Toca mover el puntico y mirar en cuál da 90.
3	Profesor 2	Mueve todos los puntos de tal manera que midan 90.

Nicol movió el punto B para que marcara un ángulo de 90° (Figura 76). Nuevamente, el arrastre que realizó la estudiante, le permitió ajustar la configuración a la medida que ella buscaba, por esta razón, es un ejemplo de la modalidad de arrastre para ajustar que se enmarca en la función de variación de contraste [MAPA, FVC, 0].

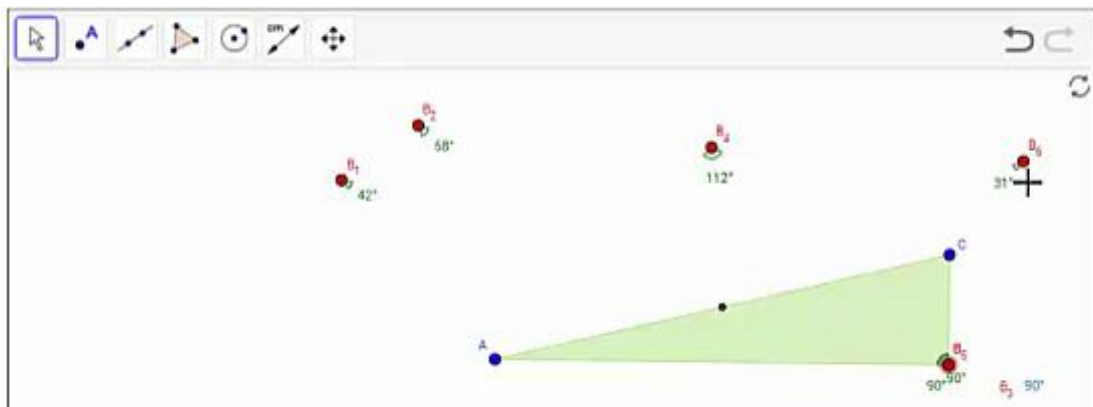


Figura 76. Arrastre del punto B, realizado por Nicol en la tercera etapa de la Tarea 1.

Continuando con el proceso, Nicol parecía no entender la instrucción. Ella creía que era suficiente con ubicar el punto B, de manera que el ángulo determinado por este punto midiera 90° , pero no veía necesario mover el resto de los puntos. Al dialogar con la profesora, ella empieza a entender un poco mejor el enunciado.

4	Profesor 2	Mueve los puntos buscando que midan 90.
5	Nicol	Hay uno.
6	Profesor 2	Todos tienen que medir 90.
7	Nicol	¿Todos?
8	Profesor 2	Tienes que mover cada uno.

En ese momento, Nicol empezó a mover los demás puntos para buscar la medida de 90° en cada uno de los ángulos que determinan. Sin embargo, lo que estaba haciendo era mover todos los puntos a una misma posición o a posiciones cercanas (Figura 77).

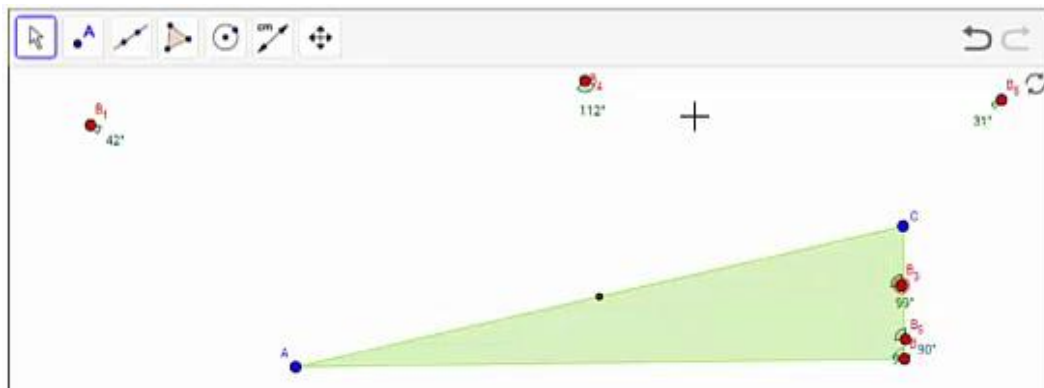


Figura 77. Arrastre de los puntos auxiliares en posiciones cercanas al punto B, realizado por Nicol en la tercera etapa de la Tarea 1.

La estudiante continuó realizando arrastres para lograr que los ángulos determinados por los puntos tuvieran la medida de 90° , por esta razón estos continúan siendo arrastres para ajustar. Ella aún no estaba interesada en buscar una propiedad o relación entre dichos puntos; por lo tanto, se mantuvo en la función de contraste [MAPA, FVC, 0].

Nuevamente, al hablar con la profesora, ella empezó a replantear sus estrategias.

9	Nicol	¡Todos quedan en el mismo punto!
10	Profesor 2	¿Tú crees?
11	Nicol	Sí porque es que...
12	Profesor 2	¿Estás segura? ¿Por qué no exploras en otro lado?
13	Nicol	Porque hacia allá me da más y hacia allá me da menos y hacia allá me da menos [indica con las manos diferentes direcciones a las que ha movido el punto].

14	Profesor 2	Yo te aconsejaría que exploraras en otro lado. Tú te estás yendo solo hacia un lado. ¿Por qué no revisas del otro lado del triángulo? No sé, revisa.
----	------------	--

En este diálogo se observa que la estudiante afirma que todos los puntos que favorecen la medida de 90° están ubicados en la misma posición [9]; para justificar esta afirmación, ella explica algunos arrastres que ha realizado [13], en los cuales ha detectado que la medida del ángulo aumenta o disminuye en ciertas direcciones, por lo cual ella cree que solo ahí da 90° . Como la estudiante hace referencia a los pasos que ha ejecutado para justificar su afirmación, clasificamos esta aseveración como un esquema de argumentación de recuento fáctico. Por otro lado, dado que la estudiante está centrándose en caracterizar los puntos que favorecen la medida para identificar patrones invariantes, creemos que ella se encuentra en la función de variación de separación [MAPA, FVS, EAR].

Posteriormente, Nicol tomó uno de los puntos auxiliares y lo empezó a mover a otros lugares de la pantalla. Se observó que intentó moverlo muy cerca del vértice A del triángulo, ya que allí se acercaba la medida a 90° (Figura 78). De esta forma, de nuevo la estudiante vuelve a ejecutar un arrastre para ajustar que se enmarca dentro de la función de variación de contraste [MAPA, FVC, 0].

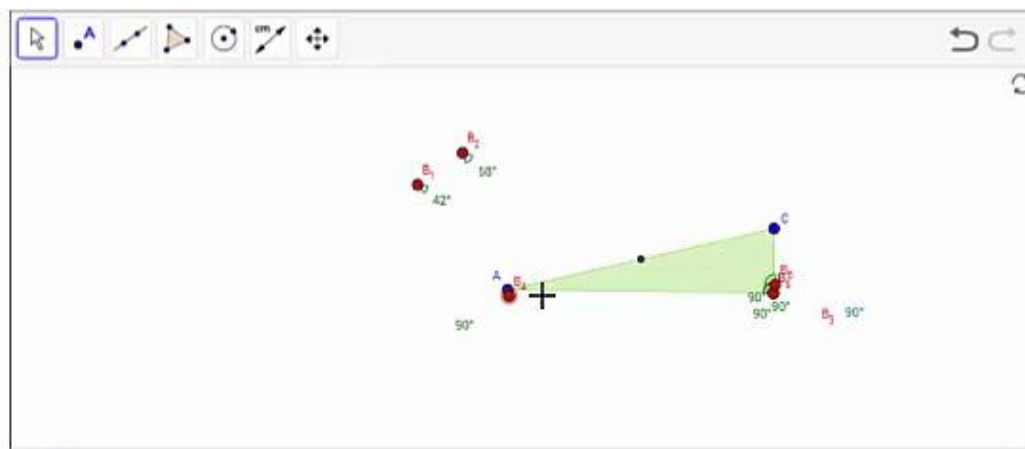


Figura 78. Arrastre de los puntos auxiliares en posiciones cercanas al punto A, realizado por Nicol en la tercera etapa de la Tarea 1.

Durante un intervalo de tiempo, Nicol estuvo moviendo los puntos en el interior del triángulo y sobre sus lados, de manera que no encontraba posiciones en las que las medidas fueran de 90° . Luego, arrastró un punto fuera del triángulo y observó que la medida disminuía, así que siguió

el movimiento hasta que obtuvo el ángulo de 90° . Esto logró hacerlo con tres puntos (Figura 79).

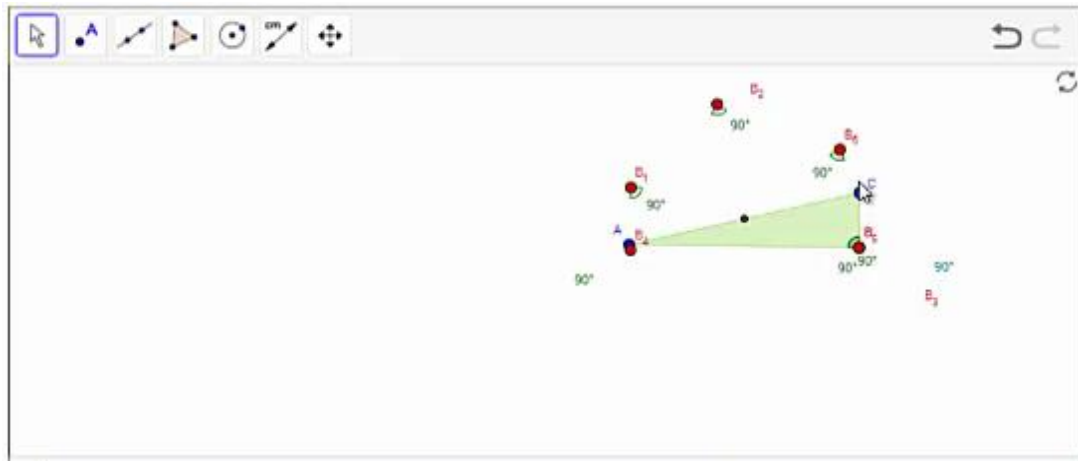


Figura 79. Primera configuración obtenida por Nicol en la tercera etapa de la Tarea 1.

Posteriormente, ella decidió tomar uno de los puntos que había ubicado sobre el vértice B y lo movió a otra posición en donde marcaba 90° (Figura 80). En estos arrastres, la estudiante continuó ajustando puntos para que cumplieran con la medida deseada. Cabe señalar que, aunque la figura ya parecía indicar una relación entre estos puntos, la estudiante no se fijaba en esta relación, por lo cual continuaba en una función de contraste y no pasaba a la separación [MAPA, FVC, 0].

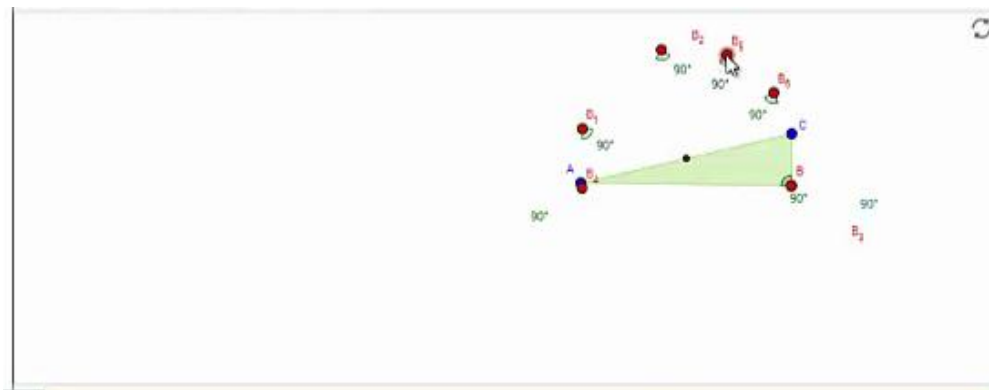


Figura 80. Configuración final obtenida por Nicol en la tercera etapa de la Tarea 1.

En este momento, la estudiante se dirigió a uno de los profesores.

15	Nicol	Profesora, ¡ya!
16	Profesor 2	Muy bien.
17	Nicol	¿En serio?

18	Profesor 2	Listo. Entonces, ahora tienes que responder la pregunta que te están haciendo. Tú ya seguiste la instrucción.
19	Nicol	Sí.
20	Profesor 2	Ahora responde la pregunta, ¿qué dice la pregunta?
21	Nicol	¿Qué figura se puede formar con todos los puntos cuando el ángulo que marcan es de 90° ?
22	Profesor 2	¿Qué figuras ves ahí en esos puntos? ¿Qué parece que forma?
23	Nicol	Un triángulo.
24	Profesor 2	¿Cuál triángulo?
25	Nicol	Es como un círculo. No, es un semicírculo.
26	Profesor 2	Escribe tu respuesta.

Nicol escribió su respuesta a la pregunta: “la figura formada es un semicírculo conformado por diversos ángulos de 90° ” [sic]. Esta conclusión de la estudiante se basó en la apariencia de la configuración, obtenida a partir de los arrastres para ajustar, por lo cual corresponde a un esquema de argumentación empírico. Así mismo, reconocemos que en el desarrollo de la respuesta se evidencia la búsqueda de patrones invariantes, lo cual corresponde a la función de separación [MAPA, FVS, EAE]. Luego, la alumna avanzó a la siguiente etapa.

Explora. 4. Mueve el punto B a diferentes lugares y observa qué pasa con la medida del ángulo. ¿Qué condición debe cumplir la curva para que el ángulo en B mida 90° ?

Para iniciar esta etapa, Nicol empezó a mover el punto B a diferentes posiciones (Figura 81). Nuevamente, la estudiante inició la etapa explorando la situación mediante una modalidad de arrastre errático, de manera que parecía encontrarse dentro de la función de separación, al variar una dimensión mientras las otras permanecían fijas, en búsqueda de regularidades [MAE, FVS, O]. En este momento, volvió a tener un diálogo con la profesora.

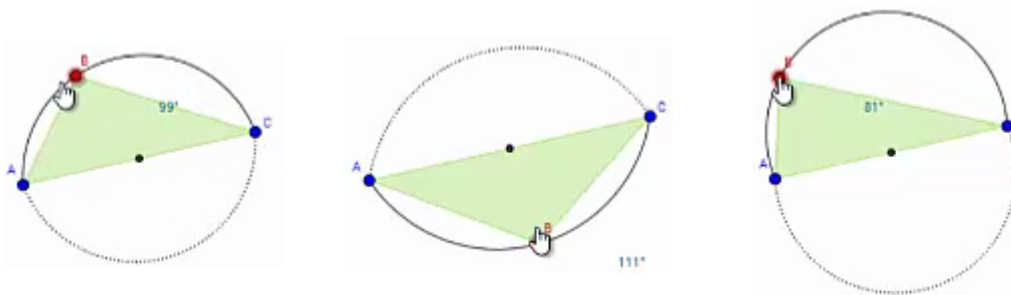


Figura 81. Arrastre realizado por Nicol al iniciar la cuarta etapa de la Tarea 1.

27	Profesor 2	Bueno, ¿qué pasó? Vamos en la 4. ¿Ya leíste?
28	Nicol	Sí. Mueve el punto B a diferentes lugares y observa qué pasa con la medida del ángulo. Pues, se extiende.

29	Profesor 2	Ok, ¿si lo mueves?
30	Nicol	Sí.
31	Profesor 2	Muévelo a otro lugar. ¿A qué te refieres con eso de que se extiende?
32	Nicol	O sea, cambia la forma del ángulo.
33	Profesor 2	¿La forma del ángulo?
34	Nicol	Eh, del del...
35	Profesor 2	¿De qué? ¿A qué te refieres? ¿Qué cambia la forma?
36	Nicol	[Parece estar pensando]
37	Profesor 2	Señálame a qué te estás refiriendo. ¿Qué es lo que está cambiando de forma?
38	Nicol	O sea, si muevo esta parte (ubica el cursor sobre el punto), se va a extender esto [se refería a los arcos \widehat{AC} y \widehat{CA}].
39	Profesor 2	Ok. La línea que está en negro y la línea que está punteada, ¿a eso te estás refiriendo?
40	Nicol	Ajá.
41	Profesor 2	Ok. Lo que te están diciendo es que lo muevas y mires qué condición debe cumplir la curva... ¿de cuál curva nos estarán hablando?
42	Nicol	De esta [señala la figura formada por los arcos \widehat{AC} y \widehat{CA}].
43	Profesor 2	De esa, ¿no? ¿Qué condición debe cumplir la curva para que el ángulo mida 90? Entonces, ahora busca en dónde mide 90.

Nicol arrastró el punto hasta una posición en la que el ángulo midiera 90° (Figura 82). Este arrastre se basa en el ajuste de la configuración a una medida, enmarcado en la función de contraste. La estudiante aún no se fijaba en la propiedad particular de la figura como tal [MAPA, FVC, 0]. Luego, continuó el diálogo con la profesora.

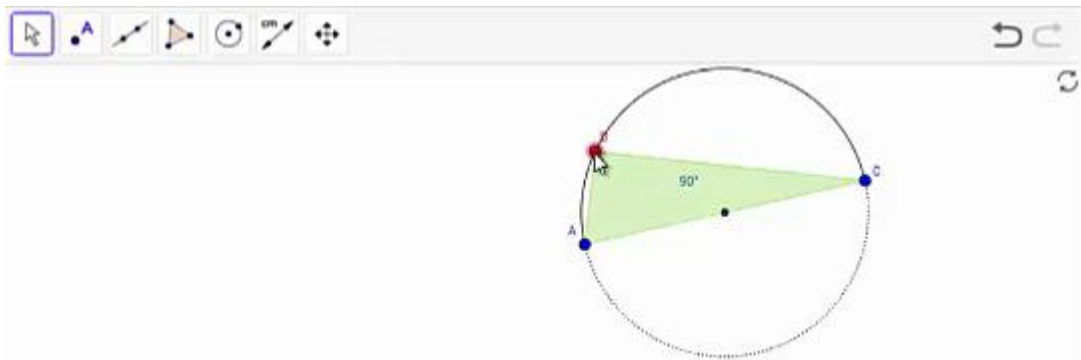


Figura 82. Arrastre final realizado por Nicol en la cuarta etapa de la Tarea 1.

44	Profesor 2	¿Y qué observas en la curva? ¿Qué condición debería cumplir?
45	Nicol	Ser perfecta. ¿No?
46	Profesor 2	Escribe lo que estás diciendo. Tú ya viste que pasa algo cuando es de 90 y cuando no es de 90 no pasa. Trata de explicarlo ahí con tus palabras.
47	Nicol	Cuando mide 90, el ángulo es perfecto y cuando no mide...
48	Profesor 2	¿El ángulo?
49	Nicol	Eh, el círculo... es perfecto. Cuando se pasa al ángulo de 90, el círculo se...

50	Profesor 2	¿Se qué?
51	Nicol	Se distorsiona.
52	Profesor 2	Escribe eso...Escríbelo con tus palabras.
53	Nicol	¿Seguro?

Parece que, en el diálogo con la profesora, Nicol va refinando sus respuestas a través de las preguntas que esta le hace. Luego de este diálogo, ella pensó durante unos minutos y escribió la siguiente respuesta: “para que la circunferencia sea perfecta debe cumplir al tener un ángulo de 90 cuando el ángulo de la circunferencia mide más o menos la circunferencia es disperfecta” [sic]. Esta conclusión de la estudiante se basó en la forma que observó en los casos que se presentaron cuando el ángulo medía 90° y cuando no tenía esta medida. Es decir, a partir de los arrastres para ajustar y la función de contraste, ella estableció un esquema de argumentación empírico [MAPA, FVC, EAE]. Es importante destacar que la alumna expresó su respuesta a partir de un lenguaje poco formal. Entendemos que por “circunferencia perfecta” se refiere a que la figura forma una circunferencia y que por “circunferencia disperfecta” señala que las dos curvas no forman una circunferencia. Luego, avanzó a la etapa 5.

Generaliza. 5. Se presentan dos opciones para trazar diferentes circunferencias. Mueve el punto B sobre cada circunferencia trazada y observa qué pasa con la medida del ángulo. Explica tu respuesta.

Nicol inició esta etapa moviendo el punto B y activando las dos opciones de circunferencia que se proporcionan en la tarea (Figura 83). Al dialogar con la profesora, ella empezó a explorar un poco más la situación.

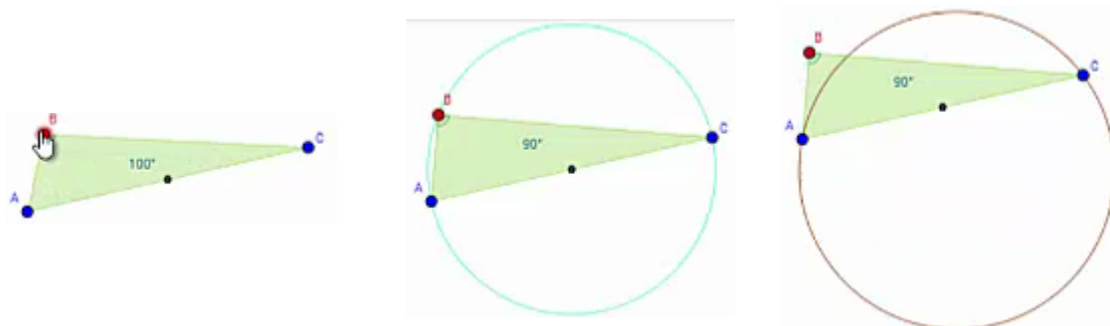


Figura 83. Primera exploración de Nicol en la quinta etapa de la Tarea 1.

54	Profesor 2	Se presentan dos opciones para trazar diferentes circunferencias. ¿Ya las exploraste? ¿Ya miraste qué pasa con cada una?
----	------------	--

55	Nicol	Una, queda el ángulo por dentro y el otro, queda por fuera.
56	Profesor 2	Ok.
57	Nicol	Si ponemos esta, el ángulo queda por fuera (<i>activó la segunda circunferencia</i>).
58	Profesor 2	Dice: mueve el punto B sobre cada circunferencia. ¿Ya hiciste eso?
59	Nicol	Ajá.
60	Profesor 2	¿El punto ya lo moviste? ¿Y si lo pones ahí qué pasa?

Ahora, Nicol arrastró el punto al interior de la circunferencia, el profesor le indicó que debía ser “sobre” (Figura 84).

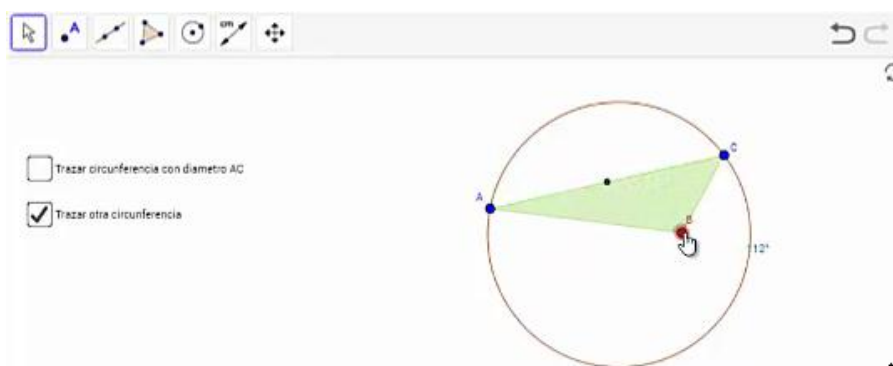


Figura 84. Arrastre realizado por Nicol en la quinta etapa de la Tarea 1.

61	Profesor 2	Sobre, ahí no lo estás poniendo sobre, ¿qué es para ti “sobre”?
62	Nicol	Eh... [arrastró el punto sobre la circunferencia]
63	Profesor 2	Ahí está sobre.

Luego, ella arrastró el punto realizando un recorrido sobre la circunferencia (Figura 85). Cabe señalar que el punto no estaba atado, por lo que este movimiento era aproximado y no siempre daba una medida exacta en el ángulo. Este arrastre se realizó sobre una figura y le permitió verificar que sobre esta circunferencia la medida del ángulo siempre era aproximadamente 60° . Por esta razón, el movimiento corresponde a la modalidad de arrastre vinculado. Es importante señalar que la estudiante pudo ejecutar este tipo de arrastre a partir de las orientaciones de la profesora. Además, dado que este arrastre se realiza para verificar un patrón, corresponde a la función de generalización [MAV, FVG, 0].

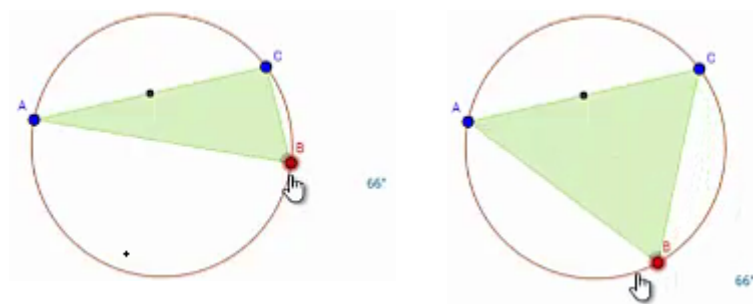


Figura 85. Arrastre sobre la segunda circunferencia realizado por Nicol en la quinta etapa de la Tarea 1.

Luego, Nicol continuó hablando con la docente.

64	Profesor 2	¿Qué pasa con ese ángulo cuando está sobre esa circunferencia?
65	Nicol	Que se queda sobre 60.
66	Profesor 2	¿Y en la otra circunferencia? Explora la otra circunferencia.

Consideramos que la afirmación de la alumna, en la que señala que la medida del ángulo sobre esta circunferencia es de 60° [65], constituye un esquema de argumentación empírico, ya que se basó en los hechos encontrados o en la configuración. Para lograr llegar a esta afirmación, la estudiante realizó un arrastre vinculado. Adicionalmente, dado que la estudiante hizo este arrastre para poder responder la pregunta del profesor [64], entendemos que este se enmarca dentro de la función de variación de separación, pues a través de este arrastre la estudiante se centra en una dimensión de variación, mientras otras permanecen fijas, en búsqueda de un patrón invariante; en este caso, ese patrón es la medida [MAV, FVS, EAE].

A continuación, Nicol activó la primera circunferencia y puso el punto sobre esta. Luego, empezó a arrastrarlo, realizando un recorrido aproximado sobre la circunferencia (Figura 86). Igual que en el caso anterior, algunas veces la medida no era exactamente 90° , dado que el punto no estaba vinculado a la curva. Nuevamente, la estudiante realizó un arrastre vinculado, ahora sobre la otra circunferencia, sin que el punto estuviera enlazado. Este arrastre le permitió verificar que sobre esta circunferencia la medida del ángulo es igual a 90° , es decir, se encontraba en la función de generalización [MAV, FVG, 0].

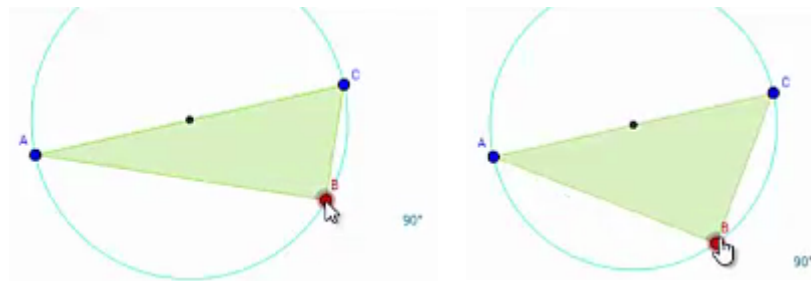


Figura 86. Arrastre sobre la primera circunferencia realizado por Nicol en la quinta etapa de la Tarea 1.

Así, continuó el diálogo con la docente:

67	Profesor 2	¿Cuál es la diferencia entre una circunferencia y la otra?
68	Nicol	Que en una circunferencia podemos ver que no da para un ángulo de 90 y en la otra, por donde pasamos, si da los 90 grados.
69	Profesor 2	Ahora tienes que escribir.

Al igual que en la conversación anterior, la estudiante construyó una afirmación [68] basada en hechos encontrados o en la configuración. Es decir, esto corresponde a un esquema de argumentación empírico. Se observa que esta afirmación se basa en el arrastre vinculado ejecutado previamente. Además, en esta afirmación, la estudiante está contrastando posiciones que favorecen la medida buscada, en este caso, esas posiciones están relacionadas con las circunferencias, por lo que se enmarca en la función de variación de contraste, aunque esta función es inducida por el planteamiento de la tarea [MAV, FVC, EAE].

Para terminar esta etapa, Nicol escribió la respuesta a la pregunta, así: “cuando observamos las diferentes circunferencias podemos observar que en una de ellas el ángulo es disperfecto y en el otro los ángulos son exactos” [sic]. Esta respuesta se basa en los hechos encontrados en los arrastres vinculados ejecutados antes, por lo tanto, constituye un esquema de argumentación empírico [MAV, FVC, EAE]. No obstante, es importante hacer énfasis en que este argumento ignora las características de las circunferencias. Es decir, la estudiante no menciona nada respecto a la ubicación de los diámetros de cada circunferencia en relación con los puntos A y C. Luego, la alumna avanzó a la etapa 6 (Figura 87).

Concluye. 6. De acuerdo con lo que observaste, ¿cuál de las opciones sería la conclusión del problema? Deja seleccionada UNA, la que más te parezca. Apóyate en la construcción para verificar si tu selección es apropiada.

En esta parte Nicol realizó una lectura muy rápida y seleccionó la primera opción. No hizo exploraciones sobre la construcción, por lo que creemos que pudo haber respondido al azar. No logramos asociar esta acción en relación a las categorías que hemos definido porque no es claro en qué se basó la alumna para dar esta respuesta.

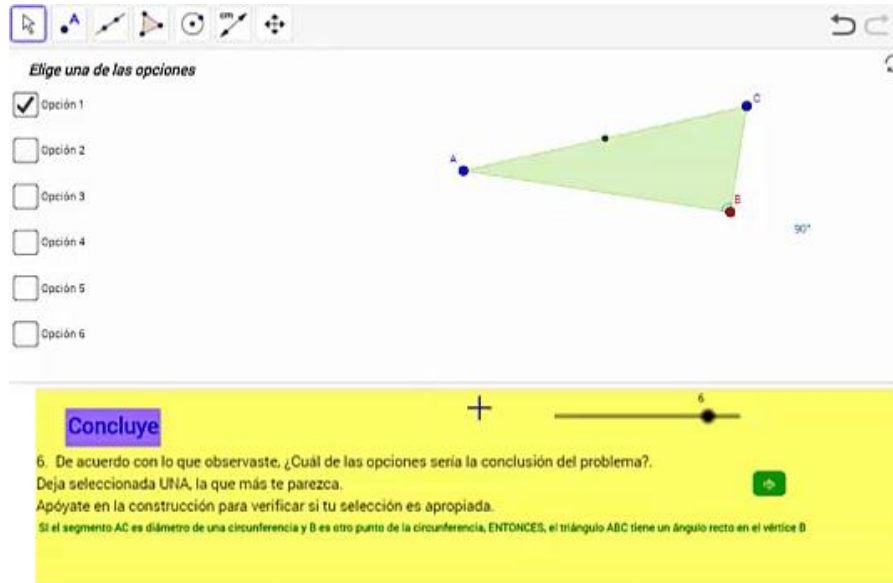


Figura 87. Respuesta de Nicol en la sexta etapa de la Tarea 1.

Aplica. 7. Mueve los puntos P, Q y R para que el triángulo representado tenga un ángulo de 90°. ¿Por qué crees que esa debe ser la ubicación de los puntos? Explica.

Nicol comenzó este último apartado, moviendo el punto R sobre la circunferencia. Luego, movió los puntos P y Q sobre la circunferencia, formando un triángulo como el de la Figura 88.

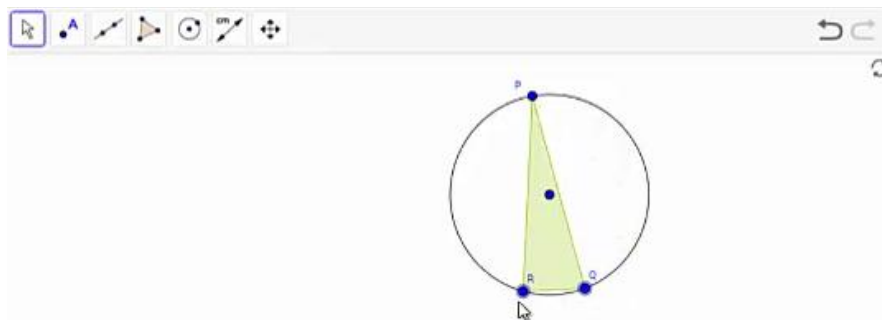


Figura 88. Respuesta de Nicol en la séptima etapa de la Tarea 1.

Finalmente, ella escribe la siguiente respuesta: “El punto P Q R forman un ángulo de 90 cuando lo ubicamo(s) de diversas formas para crear diferente(s) vi(s)tas de el” [sic].

En estas últimas acciones de Nicol se observa que ella realizó arrastres limitados de los puntos P, Q y R, dado que estos puntos pertenecían a la circunferencia, es decir, estos arrastres estaban inducidos por la actividad misma [MAL, 0, 0]. Aparentemente la forma del triángulo que configuró la alumna parece indicar que R es un ángulo recto. Sin embargo, vemos que el segmento PQ no contiene al centro de la circunferencia, lo que nos hace creer que Nicol realizó este arrastre guiándose por la forma aproximada que le quería dar a la configuración más que por la idea de que uno de los lados del triángulo debía coincidir con un diámetro de la circunferencia. El arrastre realizado por ella corresponde a un arrastre para ajustar y, dado que ella está considerando varias dimensiones de la configuración, creemos que se encontraba en la función de fusión. Ahora bien, como la respuesta no nos brinda claridad sobre el argumento que plantea la alumna para convencerse de que esta debe ser la configuración adecuada, no identificamos un esquema en la misma [MAPA, FVF, 0].

10.3.2. Tarea 2. Ángulo con medida constante

En esta tarea se observará que Nicol realizó principalmente arrastres para ajustar y algunos arrastres guiados. Veremos que a la estudiante le costaba usar la herramienta *Mostrar Huella*, aunque, a partir de un uso un poco limitado de ella logró identificar una regularidad. En la última parte se mostrará cómo con el apoyo del docente, la estudiante desarrolló argumentos analíticos. Cabe señalar que estos argumentos se encontraban aún muy centrados en lo que se observa en el programa.

Nicol inició la actividad leyendo el enunciado de la primera etapa: *Anticipa. 1. Mueve el punto B y elige una medida para el ángulo B. Escribe la medida que elegiste en la caja verde. ¿Crees que el punto B se puede mover a otro lugar, manteniendo la misma medida que elegiste? ¿Podrías decir en cuántas posiciones se puede ubicar el punto B?*

A continuación, ella empezó a arrastrar el punto B, hasta que consiguió una medida de 90° , esta fue la medida que registró en la caja (Figura 89). Dado que este arrastre se realiza para darle una medida a la configuración, pero sin mantener esta medida a lo largo del movimiento, corresponde a un arrastre para ajustar. Así mismo, como se modifica una dimensión de variación en búsqueda de la medida requerida, mientras las demás permanecen fijas, catalogamos esta acción dentro de la función de separación [MAPA, FVS, 0].

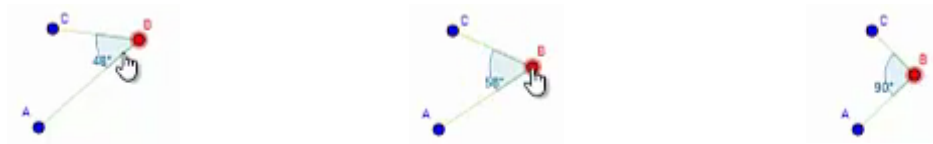


Figura 89. Primer arrastre de Nicol en la primera etapa de la Tarea 2.

Luego, Nicol empezó a mover el punto B a diferentes posiciones, buscando una medida de 90° (Figura 90). De esta manera, la estudiante continuaba realizando arrastres para ajustar, pero esta vez contrastando las posiciones que le favorecían la medida que había elegido con aquellas que no le favorecían. Así, en la respuesta a la pregunta *¿Crees que el punto B se puede mover a otro lugar, manteniendo la misma medida que elegiste?*, Nicol seleccionó la opción *Sí*. Para terminar esta etapa, ella escribió la siguiente respuesta a la pregunta final: “podemos ubicar mas de 4 angulos de 90° ” [sic]. Esta respuesta se basa en los resultados que observó la estudiante en los arrastre realizados, por lo que corresponde a un esquema de argumentación empírico [MAPA, FVC, EAE].




Figura 90. Arrastre de Nicol, buscando la medida de 90° , en la primera etapa de la Tarea 2.

Posteriormente, Nicol avanzó a la segunda etapa: *Verifica. 2. Mueve el punto B tratando de mantener la medida de 90° ²⁷. Luego de mover el punto B por distintas partes manteniendo la medida del ángulo, habilita la opción Mostrar Huella. ¿Qué figura se forma con la huella del punto B?*

La estudiante activó la opción *Mostrar Huella*, lo cual le permitió visualizar el recorrido que ella había realizado con el punto, previamente (Figura 91). Sin embargo, parecía que ella no entendía que primero debía mover el punto manteniendo la medida de 90° y, luego, debía activar la opción *Mostrar Huella*. De esta forma, lo que esta herramienta le proporcionaba no le

²⁷ Esta medida depende de la medida ingresada por el alumno en la primera etapa. En este caso, como Nicol eligió volver a trabajar con 90° , esta es la medida que aparece en la segunda etapa de la tarea.

daba ninguna información sobre el camino que debía recorrer el punto para mantener dicha medida en el ángulo.


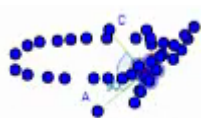


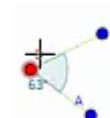
Figura 91. Primer uso de la herramienta *Mostrar Huella* por parte de Nicol.

En este momento, la estudiante tuvo el siguiente diálogo con uno de los profesores:

70	Nicol	El mío es de 90.
71	Profesor 1	¿Vas a trabajar con ángulo de 90°?
72	Nicol	Sí.
73	Profesor 1	¿Igual que ayer, que el pasado?
74	Nicol	Sí. Pero no entiendo.
75	Profesor 1	¿Qué pasa?
76	Nicol	Es que dice que le dé en la opción [activa la herramienta <i>Mostrar Huella</i>] y vea (Figura 92.a.)
77	Profesor 1	¿Qué pasa?
78	Nicol	¿Ahí qué?
79	Profesor 1	Por eso, voy a ocultarla [desactiva la opción <i>Mostrar Huella</i>]. Arrastra el punto, de tal forma que mantenga la medida de 90.
80	Nicol	[Empieza a arrastrar el punto B, pero sin mantener la medida, simplemente a otro lugar (Figura 92.b.)
81	Profesor 1	Concéntrate en que mantenga la medida. Ahí no tiene 90.
82	Nicol	[Continúa arrastrando el punto, pero sin mantener la medida]
83	Profesor 1	Arrástralo de tal forma que siempre mida 90. Pues intentando que...



a



b

Figura 92. Arrastre realizado por Nicol en la etapa 2 de la Tarea 2, al conversar con uno de los profesores.

Nicol no comprendió que debía realizar el arrastre guiado manteniendo dicha medida del ángulo, ella solo realizaba arrastres para ajustar la medida del ángulo a 90°, en diferentes lugares de la pantalla. Durante un lapso de tiempo, se observó que ella arrastró el punto por diferentes lugares, de manera aleatoria (Figura 93.a. y Figura 93.b.) [MAE, 0, 0], y, luego, volvió a un lugar donde la medida era 90° [MAPA, FVC, 0]. Por último, volvió a activar la opción *Mostrar Huella* (Figura 93.c.).

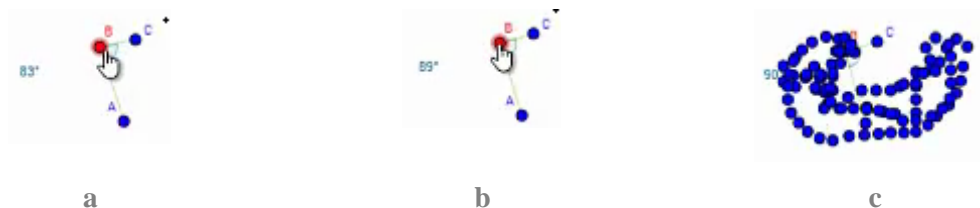
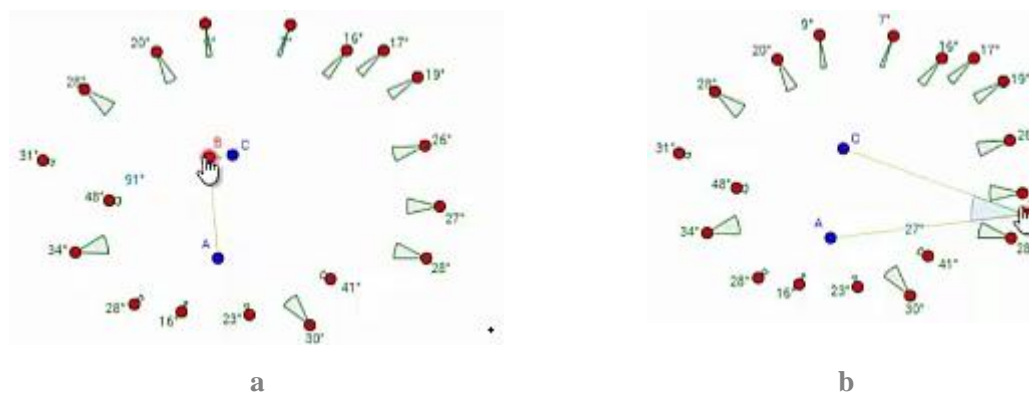


Figura 93. Exploración final de Nicol en la etapa 2 de la Tarea 2.

Para terminar esta etapa, Nicol escribió la siguiente respuesta: “Encontramos diversas formas a través de un ángulo de 90” [sic]. Esta respuesta no da claridad de las formas que observó la alumna, por esta razón, no identificamos algún esquema de argumentación en ella. Luego, la estudiante avanzó a la etapa 3.

Explora. 3. Se han creado algunos puntos auxiliares. Muévelos a diferentes lugares para que el ángulo que marquen sea de 90° ²⁸. ¿Qué figura se puede formar con los puntos? ¿Es la misma figura que esperabas?

Parece que la estudiante leyó la indicación mentalmente y, luego, movió el punto B por diferentes lugares, de manera aleatoria, (Figura 94.a.) [MAE, 0, 0], algunas veces sobre los puntos auxiliares (Figura 94. b-c.) [MAPA, 0, 0]. Se observó también que intentó mover el punto para lograr ajustar a la medida de 90° (Figura 94.d.) [MAPA, FVC, 0]. Esto lo realizó durante algunos segundos, aparentemente no había entendido la instrucción.



²⁸ Al igual que en la etapa anterior, esta medida se modificaba de acuerdo con la medida ingresada por la alumna en la etapa inicial de la tarea.

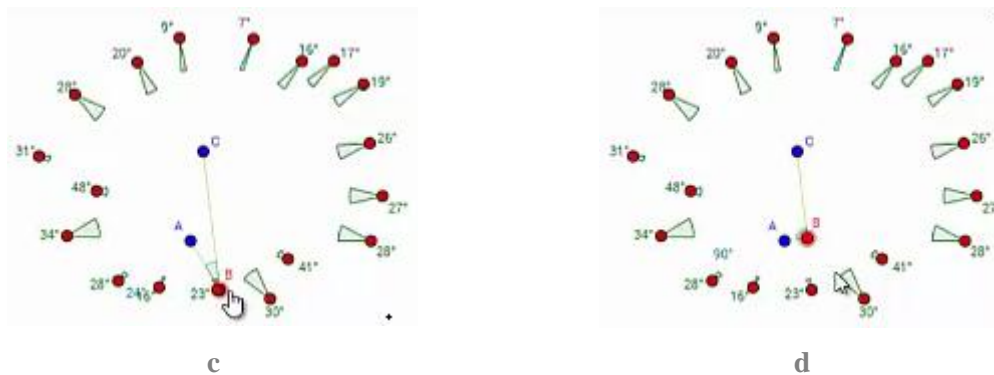


Figura 94. Exploración de Nicol en la etapa 3 de la Tarea 2.

Entonces, ella escribió la siguiente respuesta: “formamos un triangulo” [sic] y avanzó a la siguiente etapa. No se tiene claro porqué ella registró esta respuesta.

Generaliza. 4. Elige una nueva medida para el ángulo del punto B. Escribe la medida en la caja verde. Haz clic derecho sobre el punto B y activa la opción Rastro. Luego, mueve el punto B tratando de mantener la medida de __. ¿Qué figura se forma con el rastro que va dejando el punto?

Nicol eligió la medida de 60° y la registró en la caja verde. Luego, ella empezó a arrastrar el punto B, buscando posiciones en las que este punto favoreciera la medida elegida. De esta forma, encontró 4 posiciones en las que el ángulo tenía dicha medida (Figura 95). Por lo tanto, estos fueron arrastres para ajustar la configuración a la medida de 60° , que se obtuvieron contrastando posiciones del punto que favorecían y no favorecían esta medida [MAPA, FVC, 0].

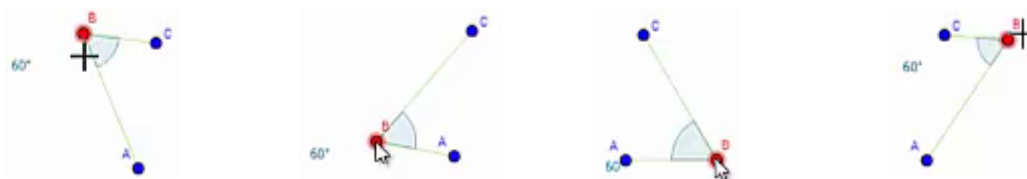


Figura 95. Arrastre realizado por Nicol para obtener la medida de 60° en la etapa 4 de la Tarea 2.

Luego, Nicol escribió como respuesta que la figura que se forma con los puntos, al mantener la medida, es *un cuadrado* [sic]. Suponemos que ella consideró que las 4 posiciones que encontró en los arrastres para ajustar son los vértices de un cuadrilátero. Por lo tanto, su conclusión se basa en los hechos particulares que observó previamente a través de una función de contraste.

Es decir, corresponde a un esquema de argumentación empírico [MAPA, FVC, EAE]. Así, avanzó a la siguiente etapa.

Concluye. 5. De acuerdo con lo que observaste, ¿Cuál de las opciones sería la conclusión del problema? Deja seleccionada UNA, la que más te parezca. Apóyate en la construcción para verificar si tu selección es apropiada.

En esta etapa, Nicol leyó el enunciado y seleccionó las opciones 2, 1, 5 y 4. Se observó que leyó cada una de estas opciones y luego arrastró un poco el punto B. Sin embargo, parece que no hace un análisis de la situación. Por lo cual, dejó como respuesta la opción 4 y avanzó a la etapa 6 (Figura 96).

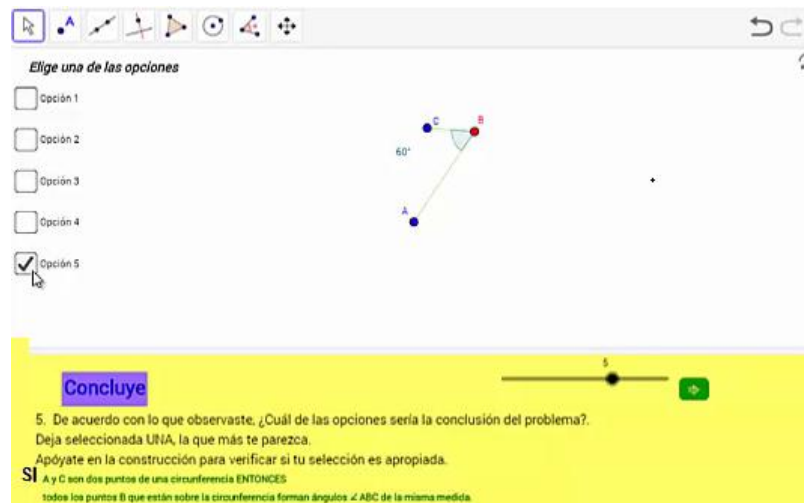


Figura 96. Respuesta de Nicol en la etapa 5 de la Tarea 2.

Construye. 6. Mueve los puntos para lograr que los cuatro ángulos tengan la misma medida. Pista: Muestra las circunferencias y cambia sus radios. ¿Por qué crees que esa debe ser la ubicación de los puntos? Explica tu respuesta.

Nicol empezó a explorar esta etapa de la tarea, mostrando y ocultando las circunferencias y cambiando sus radios, como se observa en la Figura 97 (a-b). También, arrastró los puntos F, G, H e I, como aparece en la Figura 97 (c-d). Sin embargo, parecía que no tenía ninguna estrategia al realizar estas acciones.

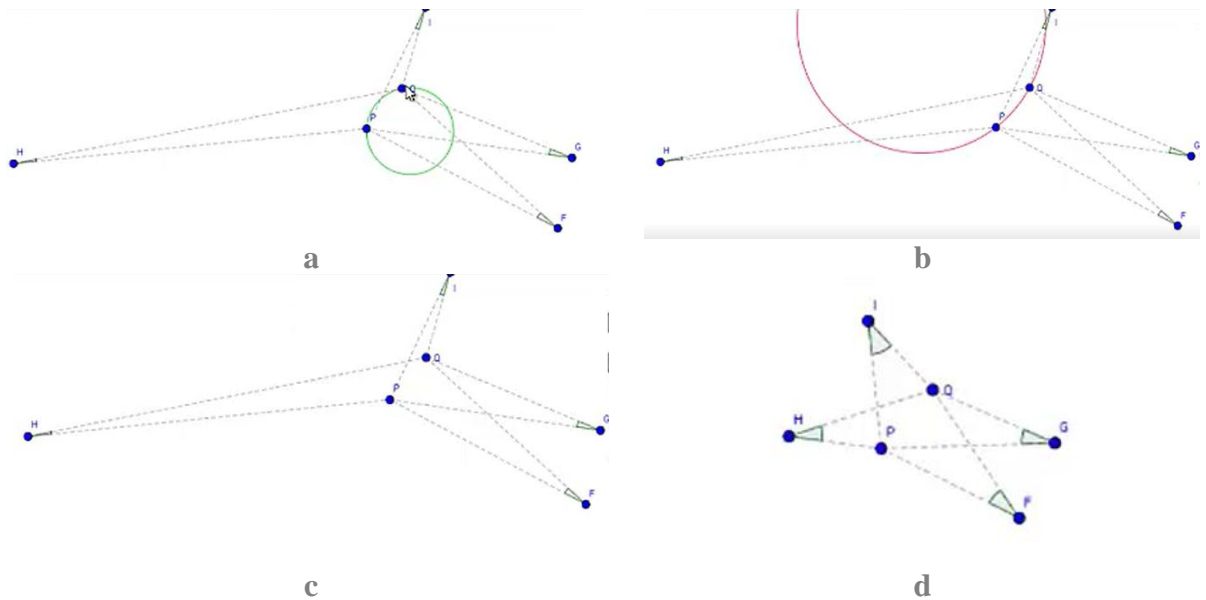


Figura 97. Arrastres de Nicol en la etapa 6 de la tarea 2.

En este momento, ella habló con uno de los profesores.

84	Nicol	Ya me confundí.
85	Profesor 2	Bueno, ¿tú ya acabaste?
86	Nicol	Ya, a conciencia.
87	Profesor 2	Pero, entonces, yo no sé qué contestaste en los otros puntos. Déjame ver una cosa. [La profesora se devuelve a las preguntas anteriores en el applet y nota que la estudiante no hizo los arrastres anteriores]. ¿Segura? ¿Hiciste este ejercicio? [Se refiere al arrastre con la herramienta <i>Mostrar Huella</i> de la etapa 2]. ¿Qué medida elegiste?
88	Nicol	90.
89	Profesor 2	90. Aquí la idea era... Es que tus compañeros están explorando esta parte, por eso lo digo... Buscar el ángulo de 90. ¿Hiciste lo que te dijo el profesor con esta tecla?
90	Nicol	No.
91	Profesor 2	Bueno, vamos a intentar hacer el ejercicio.

La profesora le sugirió a la estudiante que moviera el punto B, tratando de mantener la medida de 90° , pero pulsando la tecla SHIFT y realizando el movimiento con las flechas. Al hacer esto, es posible realizar un arrastre más preciso del punto, conservando la medida.

92	Profesor 2	Intenta hacer esto que te estoy comentando. ¿Listo? Y cuando hayas recorrido un buen camino manteniendo la medida le das <i>Mostrar Huella</i> a ver qué se te formó.
93	Nicol	Yo ya sé que se formó.
94	Profesor 2	¿Ya sabes? ¿Segura?
95	Nicol	Sí.

La estudiante realizó el recorrido con la estrategia de arrastre sugerida, manteniendo medidas de 90° o cercanas a esta (Figura 98). Así, Nicol realizó un arrastre guiado, manteniendo la medida de 90° . En este caso, la estudiante es consciente de que debe buscar una regularidad a través de dicho arrastre; por esta razón, consideramos que ella pasa de la función de variación de contraste a la de separación [MAG, FVS, 0].

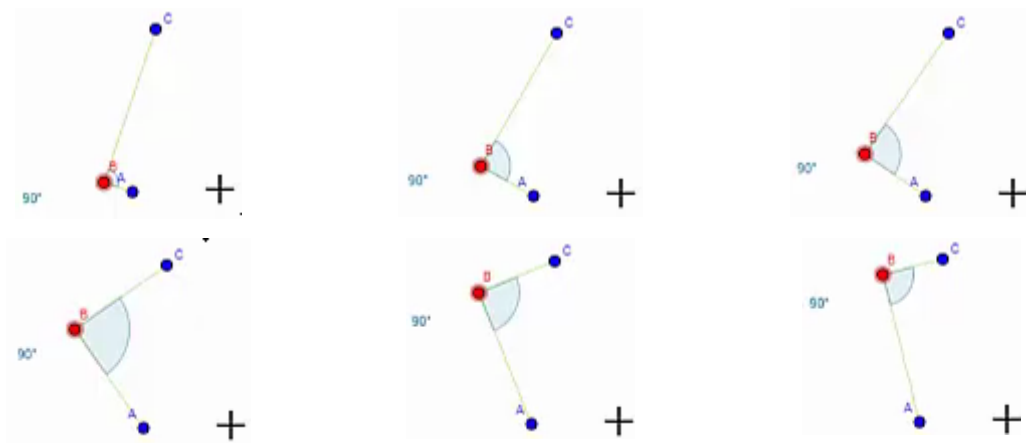


Figura 98. Arrastre realizado por Nicol, manteniendo la medida de 90° , en la etapa 2 de la Tarea 2.

Luego, Nicol activó la opción *Mostrar Huella* (Figura 99) y, aunque esta no tenía aún la forma adecuada, la estudiante cambió sus respuestas de las etapas 2, 3 y 4, indicando que la forma de la figura era una circunferencia.

Verifica. 2. Respuesta: “una circunferencia” [sic].

Explora. 3. Respuesta: “una circunferencia” [sic].

Generaliza. 4. Respuesta: “una circunferencia” [sic].

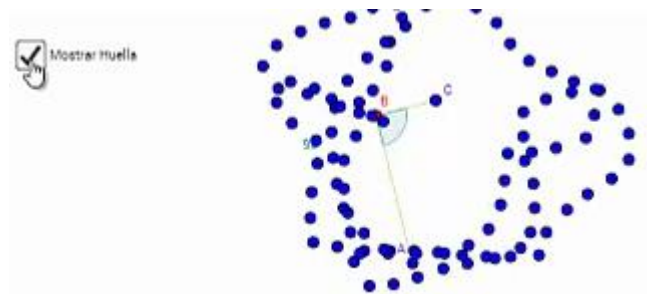


Figura 99. Huella dejada por el punto B, luego de que Nicol realizó el arrastre manteniendo la medida de 90° , en la etapa 2 de la Tarea 2.

En este punto, podemos suponer varias cosas. Puede ser que Nicol se haya fijado solo en los últimos puntos del recorrido, los cuales se resaltan con amarillo en la Figura 100, o que al ver este término (circunferencia) en la etapa del *Concluye*, la haya dado algunas ideas sobre la respuesta que debía dar. En el primer caso, diríamos que su respuesta se basa en un esquema de argumentación empírico, que resultó del arrastre guiado realizado [MAG, FVS, EAE]. En el segundo, no existiría un argumento como tal; en su lugar, la estudiante estaría adivinando la respuesta.

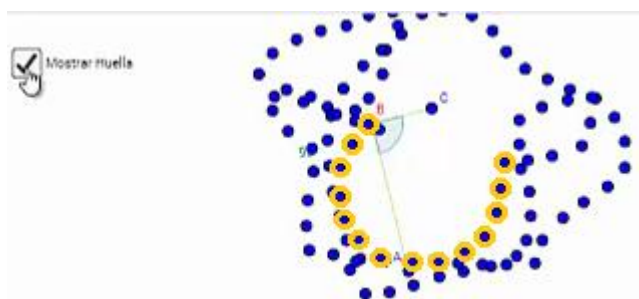


Figura 100. Circunferencia en la huella dejada por el punto B, luego de que Nicol realizó el arrastre en la etapa 2 de la Tarea 2.

Luego, en la etapa 5, la estudiante realizó un arrastre del punto B manteniendo la medida de 90° , pero no modificó su elección de la opción 4. De esta forma, regresó a la etapa 6. En este momento tuvo una conversación con otro de los profesores.

96	Profesor 1	¿Cómo harías? Ahí te dicen “muestra las circunferencias”, muéstralas.
97	Nicol	[Activa las dos circunferencias]
98	Profesor 1	Y, a ver, ¿qué más dice? Cambia los radios. ¿Tendrías que cambiarlos para algo?
99	Nicol	Para mirar si las circunferencias... Para ver si los puntos si quedan en las circunferencias.
100	Profesor 1	¿Y no será que los puntos toca moverlos a un lugar?

101	Nicol	¿Para que queden dentro de la circunferencia?
102	Profesor 1	Sí, pero, ¿cómo?
103	Nicol	Ah.
104	Profesor 1	¿Esas circunferencias son cualquier circunferencia? ¿O tienes que ajustarlas para que funcione de alguna forma particular? A ver, el objetivo es el siguiente...
105	Nicol	Meter todos los punticos dentro de la circunferencia.
106	Profesor 1	Que los ángulos tengan la misma medida, ahí lo dice.
107	Nicol	Ah.
108	Profesor 1	Usa lo que... Pues, los anteriores ejercicios para lograr eso.
109	Nicol	[Parece pensativa]
110	Profesor 1	¿Ya estás pensando cómo poder conseguirlo?
111	Nicol	Claro.

A partir de esta conversación, Nicol decidió activar la circunferencia A y ubicar los puntos H e I sobre ella (Figura 101). Es decir, arrastró estos dos puntos sobre esta figura para ajustar la configuración y que cumpliera con una condición que ella buscaba. De esta forma, la estudiante estaba ejecutando un arrastre para ajustar y contrastando las posiciones que le favorecerían dicha condición de aquellas que no [MAPA, FVC, 0].

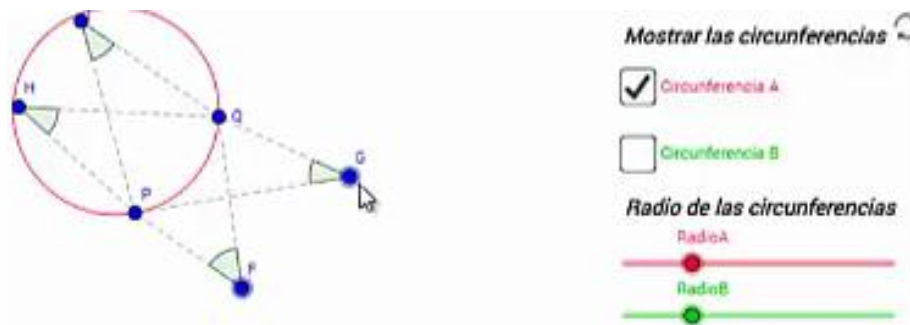


Figura 101. Primera exploración de Nicol en la etapa 6 de la Tarea 2.

A continuación, vuelve a conversar con el profesor.

112	Profesor 1	¿Cómo sabes que tienen la misma medida? ¿Visualmente? [Refiriéndose a los ángulos representados]
113	Nicol	Sí.
114	Profesor 1	Listo. Responde.
115	Nicol	¿Qué respondo?
116	Profesor 1	A ver, ¿por qué crees que esa debe ser la ubicación de los puntos?
117	Nicol	Porque cada uno tiene la misma medida.
118	Profesor 1	¿Por qué?
119	Nicol	Porque cada uno tiene la misma medida.
120	Profesor 1	Dale. No sé, ¿tú estás segura?

121	Nicol	No sé.
122	Profesor 1	Si quieres podrías mirar antes qué hiciste para para poder confirmar las cosas.

En este momento, Nicol volvió a revisar sus respuestas en las etapas anteriores por sugerencia del profesor. Entonces, volvió a la etapa 6, activó las dos circunferencias y ubicó los puntos sobre ellas (Figura 102).

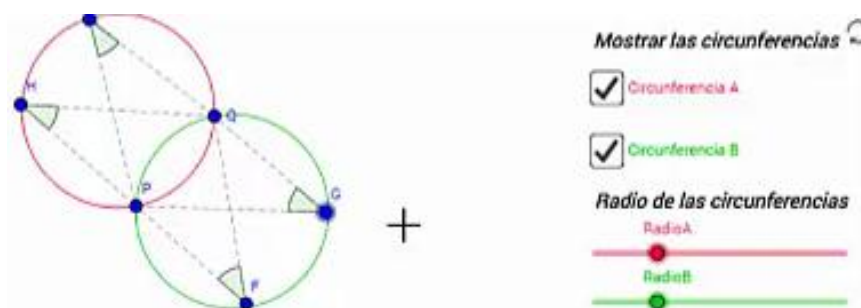


Figura 102. Respuesta final de Nicol en la etapa 6 de la Tarea 2.

Nuevamente, vuelve a dialogar con el profesor. Ella lo llama para mostrarle su respuesta.

123	Profesor 1	¿Y cómo supiste?
124	Nicol	Porque decía que mostrara las dos circunferencias.
125	Profesor 1	Sí.
126	Nicol	Y al mostrar las dos sirve, la intersección son los dos triángulos. [creemos que se refiere a los triángulos HQF y GPI que se observan en la Figura 102].
127	Profesor 1	Pero tu pusiste que midieran lo mismo los radios de las circunferencias.
128	Nicol	Sí.
129	Profesor 1	¿Por? ¿Alguna cuestión en particular?
130	Nicol	Para que los ángulos fueran iguales.

En este diálogo se observa que la estudiante se fijaba en los triángulos [126] que se formaron al ubicar los puntos sobre las circunferencias. Creemos que estos triángulos dan la impresión de ser iguales y que, de esta forma, es posible concluir que los ángulos que se están analizando sean iguales. Por esta razón, consideramos que el arrastre que hace la estudiante es un arrastre guiado para darle una forma particular a la figura; además, la estudiante se está fijando en varias dimensiones de variación al mismo tiempo (cada uno de los vértices de los ángulos), lo cual puede considerarse dentro de la función de variación de fusión [MAG, FVF, 0].

Luego de esto, la estudiante escribió la siguiente respuesta a la pregunta: “al poner lo dos radios de las circunferencias en la misma medida podemos ver que los angulos toman la misma medida y crea un punto de intercepcion” [sic]. Aunque esta conclusión no esté del todo

completa, observamos en ella unas condiciones que se deben cumplir para que los ángulos sean iguales. Por lo tanto, reconocemos en ella un esquema de argumentación analítico basado en el arrastre guiado y la función de variación de fusión, señalada antes [MAG, FVF, EAD]. La conclusión de la alumna se podría redactar como: *Si los radios de las circunferencias tienen la misma medida, entonces los ángulos tienen la misma medida y se intersecan.*

De esta forma, Nicol acabó la actividad. Luego de esto, tuvo el siguiente diálogo con el profesor:

131	Profesor 1	O sea que si los radios son diferentes...
132	Nicol	No se encuentra un punto de intersección y tampoco se sacan los ángulos exactos.
133	Profesor 1	¿Exactos es qué? ¿Iguales?
134	Nicol	Sí, que todos los ángulos midan igual.
135	Profesor 1	Ok, o sea, si las circunferencias tienen el mismo radio, si son iguales, entonces si se encuentran...
136	Nicol	Dan las medidas iguales.
137	Profesor 1	¿Cuáles medidas?
138	Nicol	Ay, todos los ángulos son iguales.
139	Profesor 1	¿Cómo están formados esos ángulos? ¿De cualquier forma? Ven, devuelve la pantalla. [Vuelven a mirar la configuración final en la etapa 6 (Figura 102)]. ¿Cuáles son los ángulos? Por ejemplo, nómbralos.
140	Nicol	¿H, F, Q?
141	Profesor 1	¿H?

Nicol parece confundida por un momento, entonces revisa nuevamente la construcción y afirma que los ángulos que tienen la misma medida son los H, F, G e I. Luego el profesor le pregunta:

142	Profesor 1	¿Y si yo lo muevo? Por ejemplo, para acá [El profesor arrastra el punto G sobre la circunferencia verde (Figura 103.a.)]
143	Nicol	Sigue teniendo la misma medida.
144	Profesor 1	¿Y por acá? [El profesor arrastra el punto fuera de la circunferencia verde (Figura 103.b.)]
145	Nicol	No.
146	Profesor 1	O sea, si lo saco.
147	Nicol	Tiene menos medida.
148	Profesor 1	¿Menos? La medida es menor.
149	Nicol	Sí.
150	Profesor 1	¿Y si lo pongo acá? [El profesor arrastra el punto dentro de la circunferencia verde (Figura 103.c.)]
151	Nicol	Es más.

152	Profesor 1	Es mayor. ¿Y por acá? Ahí. [El profesor arrastra el punto sobre la circunferencia verde, pero en un lugar muy cercano a la intersección de las circunferencias (Figura 103.d.)]
153	Nicol	Es menor la medida.
154	Profesor 1	¿Pero no decías que tenía que estar en la circunferencia?
155	Nicol	Ay, profe.

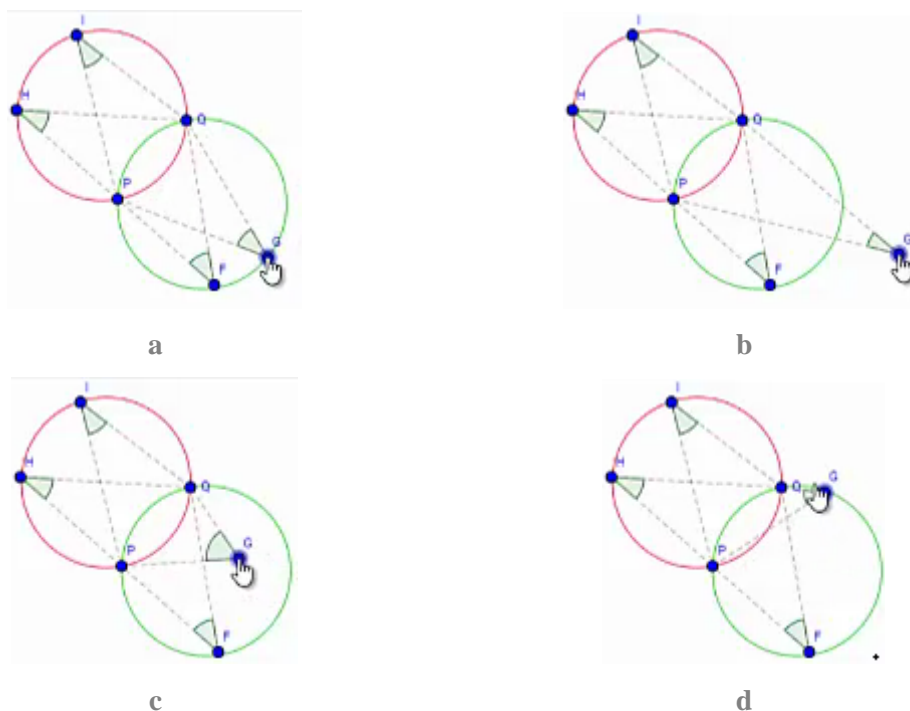


Figura 103. Arrastres realizados por uno de los profesores al dialogar con Nicol.

En este diálogo se observa que el docente es quien realiza una serie de arrastres para que la estudiante elabore ciertos argumentos. Reconocemos las siguientes interacciones:

- Cuando el docente realiza el arrastre vinculado sobre la circunferencia (Figura 103.a.), Nicol concluye que, si el punto se mueve sobre la circunferencia, la medida del ángulo se mantiene igual a la de los demás.
- Cuando el docente realiza el arrastre para ajustar la posición del punto fuera de la circunferencia (Figura 103.b.), Nicol concluye que, si el punto está fuera de la circunferencia, la medida del ángulo es menor a la de los demás.
- Y, cuando el docente realiza el arrastre para ajustar la posición del punto dentro de la circunferencia (Figura 103.c.), Nicol concluye que, si el punto está dentro de la circunferencia, la medida del ángulo es mayor a la de los demás.

En todas estas afirmaciones se observa que la estudiante está ejecutando esquemas de argumentación analíticos, ya que sus conclusiones tienen una estructura condicional (si-entonces). Además, estas afirmaciones tienen origen en la variación de la apariencia de una configuración, en ese sentido, creemos que la estudiante logró llegar a una función de variación de generalización a través de los arrastres para ajustar y vinculados ejecutados [MAPA/MAV, FVG, EAD]. Cabe señalar que, dado que en la presentación gráfica no estaban disponibles las medidas, Nicol no podía acudir a esta evidencia empírica para desarrollar su argumento.

Nicol parecía confundida respecto a que la medida en este punto fuera la misma en la ubicación que se ve en la Figura 103.d. Luego, modificó su respuesta y afirmó que, en cualquier lugar de la circunferencia, la medida del ángulo sería la misma. No obstante, al finalizar, ella manifestó que quería mantener la ubicación de los puntos como se observaba en la Figura 102, para que se formaran los dos triángulos. Por esta razón, consideramos que ella seguía buscando la forma de estos dos triángulos isósceles para justificar visualmente la congruencia de los ángulos [MAG, FVF, EAE].

10.3.3. Tarea 3. Equidistancia

En el desarrollo de esta tarea se verán especialmente las dificultades que tenía Nicol para realizar construcciones con el programa GeoGebra. En las actividades anteriores, resultaba más sencillo abordar la tarea porque se partía de una construcción dada, pero, en esta, el origen de la tarea se basa en una construcción que debe realizar el alumno. Adicionalmente, se observará que la alumna tuvo más facilidades para realizar arrastres para ajustar (aquellos que requieren buscar darle una medida o forma particular a la configuración) que para realizar arrastres guiados (aquellos en los que se debe mantener la propiedad a lo largo del arrastre) y, en consecuencia, se perdía el uso de la Herramienta *Mostrar Huella*. Al finalizar, veremos que la alumna logró establecer una conclusión parcial, basada en los arrastres para ajustar realizados en una configuración dada en la etapa 8.

Nicol inició la primera etapa de la tarea: *Construye. 1. Usa las herramientas de GeoGebra para ubicar un punto que esté a la misma distancia de los puntos A y B, respectivamente. Explica cómo ubicaste el punto.*

Se observa que la estudiante no efectuó ningún procedimiento sobre la vista gráfica para ubicar el punto que se le solicitaba en la instrucción. Luego, escribió la siguiente respuesta: “Utilizando las herramientas encontramos un ángulo de 90 grados” [sic] (Figura 104). Por lo observado, creemos que ella no estaba concentrada en realizar la tarea. En consecuencia, esta acción no se puede analizar a la luz de las categorías de análisis.

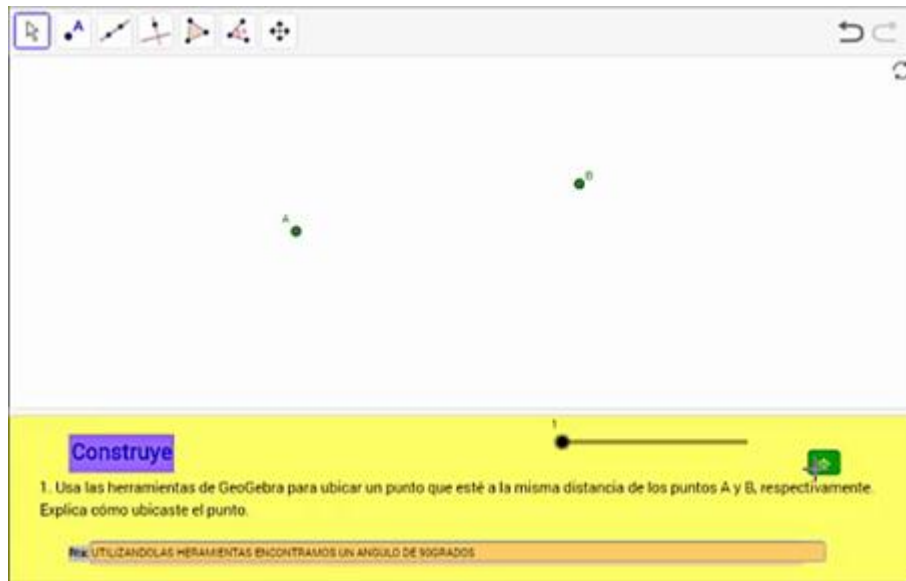


Figura 104. Respuesta de Nicol en la primera etapa de la tarea 3.

A continuación, ella avanzó a la segunda etapa: *Explora. 2. ¿Cómo podrías comprobar que el punto que ubicaste está a la misma distancia de A y de B usando las herramientas de GeoGebra?*

En este momento, Nicol seleccionó la herramienta segmento del menú de GeoGebra y trazó el segmento con extremos en los puntos A y B (Figura 105.a.). Luego, siguió usando la misma herramienta para ubicar un punto sobre el segmento AB; lo que hizo la alumna fue representar un segmento sobre AB tal que uno de sus extremos era un punto que nombró como T (Figura 105.b.). Creemos que ella quería ubicar el punto que se solicitaba en el punto 1, pero no sabía qué otras herramientas usar.



a

b

Figura 105. Construcción realizada por Nicol en la segunda etapa de la Tarea 3.

Al hacer esto, la estudiante regresó a la primera etapa de la tarea y modificó su respuesta; esta vez escribió: “Utilizando un segmento encontramos un punto en común que es T unidos por un segmento” [sic]. Luego, volvió a la etapa 2 y escribió la siguiente respuesta: “utilizando un segmento” [sic]. Así, avanzó a la etapa tres. Hasta este momento, la alumna no ha ejecutado arrastres y, por lo tanto, no ha experimentado la variación. Su respuesta, aunque no responde a lo solicitado, corresponde a un argumento de recuento fáctico pues se basa en los pasos que ella realizó en el software [0, 0, EAR].

Anticipa. 3. ¿Crees que puedes encontrar más puntos que estén a la misma distancia de A y de B? ¿o el punto que encontraste es el único? Explica tu respuesta.

Nicol no efectuó ningún procedimiento sobre la construcción, en las casillas seleccionó la opción *Si* y contestó lo siguiente: “porque esta ubicado en un segmento y en un segmento encontramos diversos puntos” [sic] (Figura 106). Nuevamente, la estudiante no hace uso de las modalidades de arrastre y, en consecuencia, no experimenta la variación. Sin embargo, su respuesta puede entenderse como un argumento analítico que, en este caso, no conduce a una conclusión válida. Dado que la estudiante entiende que, dado un segmento, es posible encontrar infinitos puntos en él, entonces considera que es posible encontrar más puntos que cumplan la condición [0, 0, EAD]. De esta forma, la alumna pasó a la siguiente etapa.

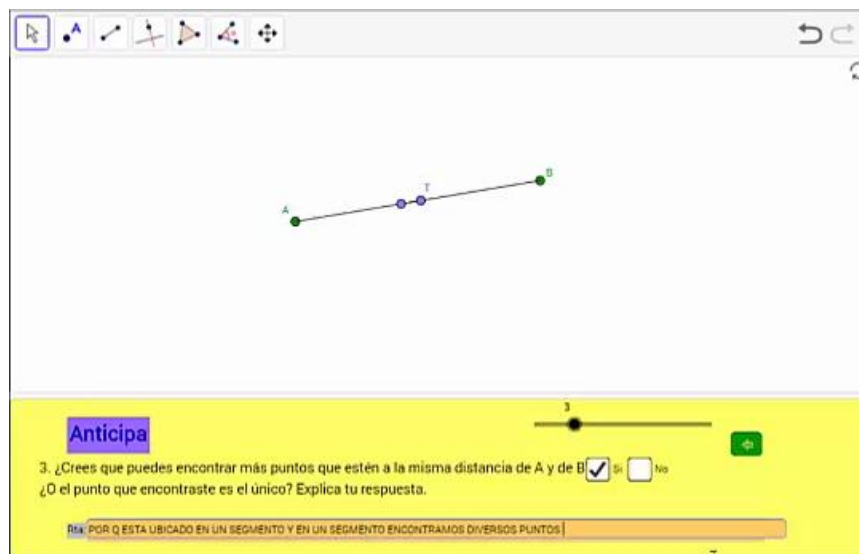


Figura 106. Respuesta de Nicol en la etapa 3 de la tarea 3.

Verifica. 4. Mueve el punto rojo tratando que la distancia hasta A y hasta B sea la misma. Al finalizar el movimiento, Habilita la opción Mostrar Huella. ¿Qué figura se puede formar con todos los puntos azules cuando la distancia es la misma? Explica tu respuesta.

La estudiante leyó por un momento la instrucción. Luego, realizó el arrastre del punto C, al parecer usando las flechas del teclado porque primero lo hizo de arriba hacia abajo, en línea recta, como se observa en la Figura 107 (a-c). Luego, hizo el arrastre de izquierda a derecha, como aparece en la Figura 107 (d-f). Todo esto, mientras el cursor permanecía estático en la pantalla y sin seguir la instrucción de mantener las medidas iguales. A continuación, la estudiante activó la opción *Mostrar Huella* (Figura 108), pero está no le daba ninguna información, puesto que no había hecho lo que se le pedía en la instrucción.

Como vemos, estos arrastres no parecen tener de fondo una estrategia para cumplir con las condiciones solicitadas, por lo tanto, creemos que se trata de un arrastre errático. Ahora bien, dado que ella estaba modificando una dimensión de la configuración, mientras las otras permanecían estáticas, consideramos que se encuentra en la función de separación, aunque no tuvo éxito al no seguir las indicaciones [MAE, FVS, 0].

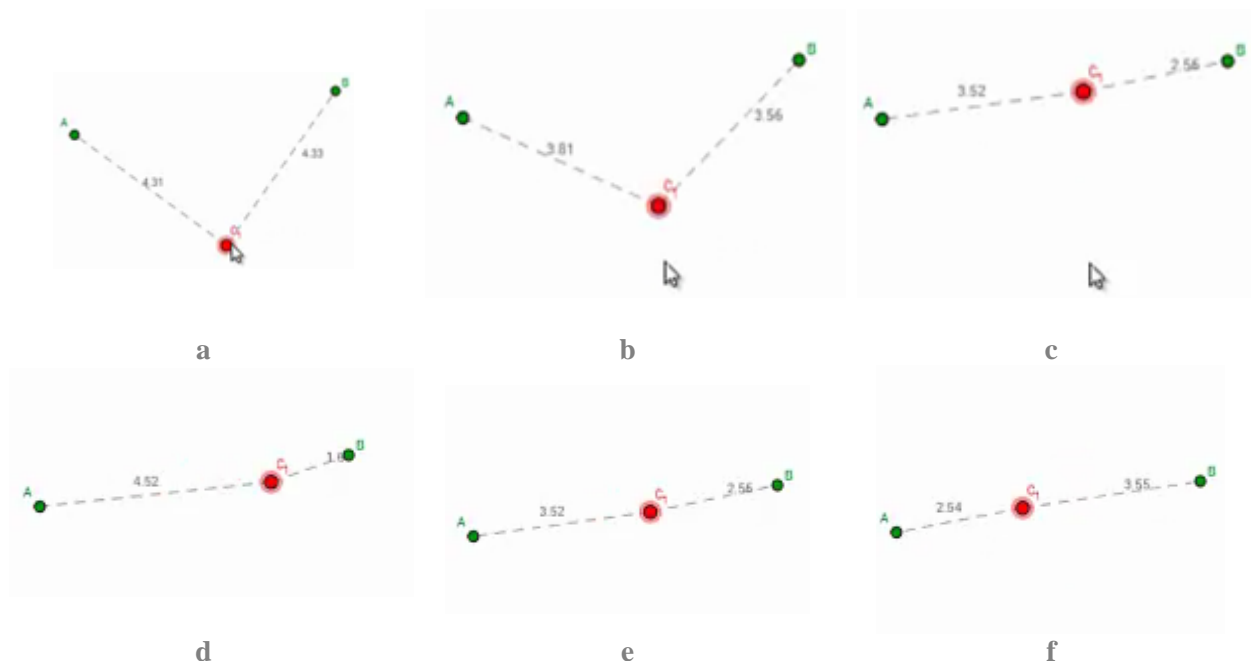


Figura 107. Arrastres ejecutados por Nicol en la cuarta etapa de la Tarea 3.

Luego de unos segundos, la estudiante escribió como respuesta: “Un segmento” [sic]. Sin embargo, esta respuesta parece no tener fundamento en lo que ella observaba, por lo que no podemos estudiarla con base en las categorías. Posteriormente, Nicol avanzó a la siguiente etapa.

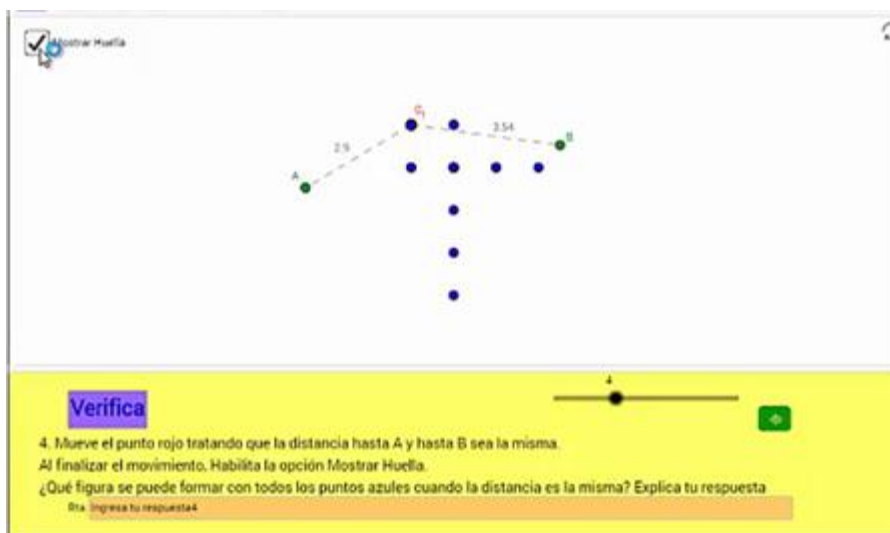


Figura 108. Herramienta *Mostrar Huella* en la cuarta etapa de la Tarea 3.

Construye. 5. Con las herramientas de Geogebra, construye la figura que supones se forma con todos los puntos azules, ¿Cómo la construiste?

Parece que Nicol no entendió la instrucción, consideramos que esto se debe a que no siguió las instrucciones del paso anterior, entonces lo que ella hace es arrastrar el punto C y volver a activar la opción *Mostrar Huella*. Luego, ella decide volver a la etapa anterior y cambiar su respuesta por: “un triángulo” [sic] (Figura 109). No tenemos claridad respecto a qué la llevo a responder esto, por lo cual no analizamos esta respuesta con base en las categorías.

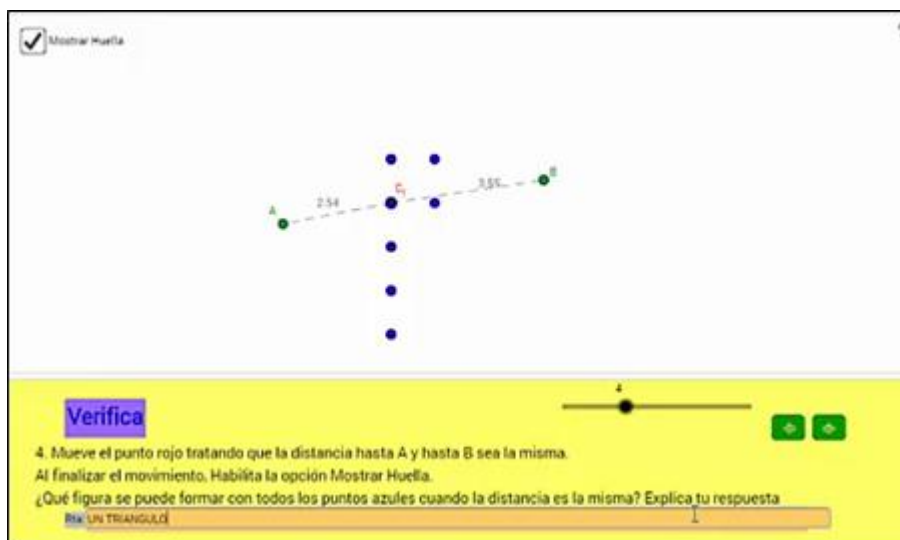


Figura 109. Cambio de respuesta de Nicol en la etapa 4 de la Tarea 3.

En este momento Nicol, por error, reinició el applet. Con lo cual, todas sus respuestas se borraron. Antes de volver a la etapa 5, ella registró rápidamente las siguientes respuestas:

Construye. 1. Respuesta: “LOS UBIQUÉ MEDIANTE UN SEGMENTO” [sic].

Explora. 2. Respuesta: “PORQUE A TRAVÉS DEL SEGMENTO PODEMOS COMPROBAR QUE AHÍ MÁS UN PUNTO” [sic].

Anticipa. 3. Respuesta: Seleccionó la opción Sí y escribió: “SI PORQUE AL ENCONTRAR MAS PUNTOS EN UN SEGMENTO” [sic]. Luego, cambió su respuesta por la opción No y escribió: “PORQUE SI MIRAMOS DE UNA PARTE TIENEN QUE TENER LA MISMA MEDIDA Y AL SER UN SEGMENTO Y SE PARTEN EN UN PUNTO CADA MEDIDA VA CA(M)BIANDO CON LA SIMULTANEA APARICIÓN DE DIVERSOS PUNTOS” [sic].

Verifica. 4. Nicol realizó un arrastre del punto, sin mantener las medidas iguales, alrededor de los dos puntos dados y activó la herramienta *Huella* (Figura 110). Posteriormente, escribió: “LA FIGURA QUE VEMOS FORMADA ES UNA CIRCUNFERENCIA” [sic].

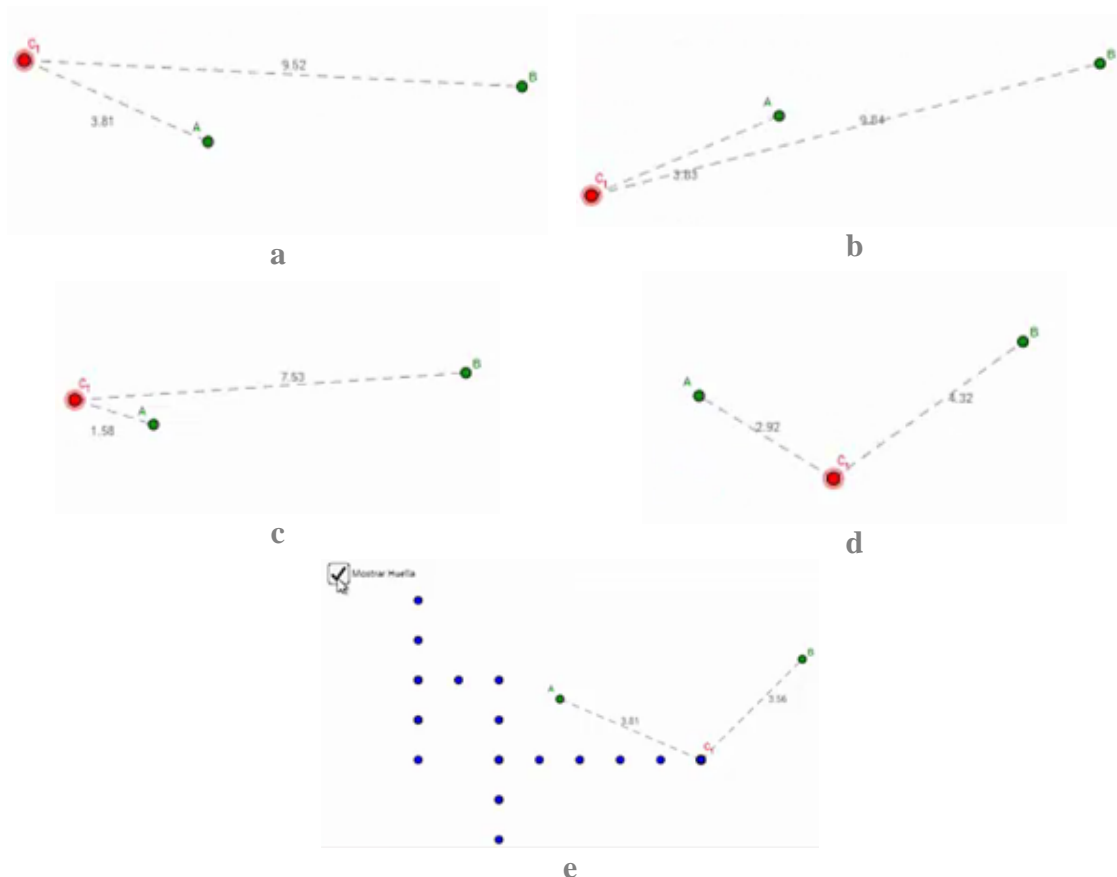


Figura 110. Segunda exploración de Nicol en la etapa 4 de la tarea 3.

En estas respuestas notamos que Nicol mantiene sus argumentos en sus respuestas. En la respuesta de la etapa 1, el esquema de argumentación sigue siendo de recuento fáctico, puesto que explica cómo obtuvo el punto [0, 0, EAR]. En la respuesta de la etapa dos, parece que la alumna sigue creyendo que puede ubicar más puntos que cumplan la condición, dado que en un segmento hay infinitos puntos. Este argumento parece ser de carácter analítico, aunque está mal aplicado [0, 0, EAD]. Sin embargo, las respuestas de las etapas 3 y 4 no parecen ser lo suficientemente claras como para desarrollar su análisis.

Ahora, Nicol avanzó, de nuevo, a la etapa 5. Ella volvió a explorar los menús de herramientas y, al parecer, no encontró nada. Luego, respondió lo siguiente: “LA CONSTRUCCIÓN DE UNA CIRCUNFERENCIA SE REFIERE LA FORMACIÓN DE DIVERSOS PUNTOS

FORMANDO UNA CIRCUNFERENCIA CON DIVERSAS HERRAMIENTAS” [sic]. Notamos que la estudiante seguía respondiendo si tener un fundamento en lo gráfico y sin ejecutar las ordenes de los enunciados. Sus respuestas parecen relacionarse con las conclusiones encontradas en las tareas previas, en las que el desarrollo de la tarea conducía a descubrir algunas relaciones del ángulo con una circunferencia. Luego, la estudiante pasó a la etapa 6.

Concluye. 6. Haz clic derecho sobre el punto Rojo y activa la opción Rastro. Luego, mueve el punto rojo tratando que la distancia hasta A y hasta B sea la misma. Escribe una conclusión.

Nicol empezó esta etapa seleccionando el punto rojo y arrastrándolo de manera horizontal y vertical. No obstante, esto lo hacía sin conservar la igualdad entre las distancias del punto rojo hasta los puntos A y B y sin activar la opción *Rastro*. Así que, este arrastre se puede interpretar como errático y la variación se enmarcaría en la función de separación, al concentrarse en una sola dimensión de variación [MAE, FVS, 0]. Sin realizar algún procedimiento exitoso, ella registró la siguiente respuesta: “En conclusión cada que movemos el punto rojo para encontrar todos los puntos podemos encontrar una circunferencia” [sic] (Figura 111). Por el proceso desarrollado, sigue siendo difícil categorizar la respuesta de la alumna ya que, adicionalmente, no hay evidencias gráficas que permitan asociar el proceso con una circunferencia. Así, avanzó a la etapa siete.

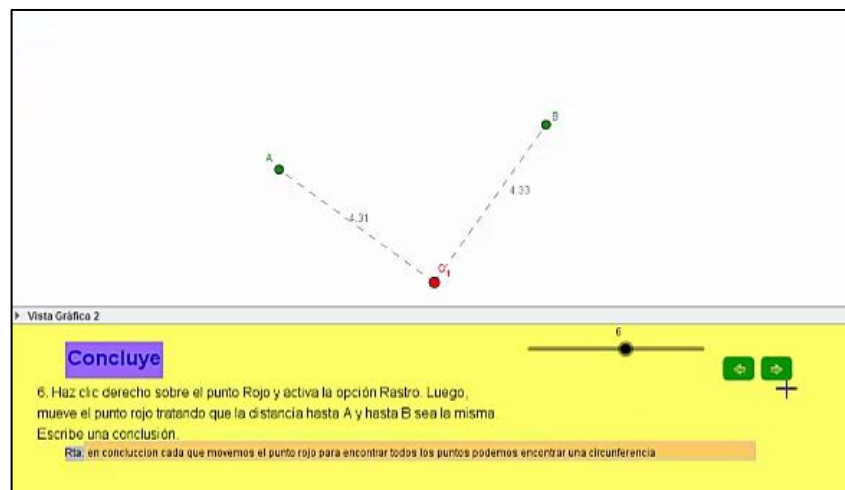


Figura 111. Respuesta de Nicol en la etapa 6 de la tarea 3.

Información. 7. Los puntos que están a la misma distancia de dos puntos dados P y Q , se encuentran sobre una recta denominada mediatriz del segmento PQ . En pantalla encuentras construida la mediatriz del segmento PQ . Mueve los puntos y observa lo que sucede.

Nicol siguió la instrucción dada en el enunciado y movió el punto C sobre la recta mediatriz (Figura 112), lo cual corresponde a un arrastre de carácter limitado, ya que se realiza sobre un lugar geométrico al que pertenece el punto. Así mismo, la alumna estaba en la función de separación, ya que variaba una dimensión de la configuración mientras las otras permanecían fijas [MAL, FVS, 0]. Sin embargo, luego escribió una respuesta que no se le solicitaba, ya que allí solo debía escribir su nombre para continuar. Por esta razón, creemos que es evidente que ella no estaba realizando una correcta lectura de las preguntas. La respuesta que escribió fue: “sucede que cuando disminuimos las medidas o las aumentamos toman la medida de un segmento” [sic] (Figura 113). Nuevamente, resulta incomprensible qué motivó a la alumna a registrar esta respuesta. Luego, Nicol avanzó a la etapa 8.



Figura 112. Exploración de Nicol en la etapa 7 de la tarea 3.

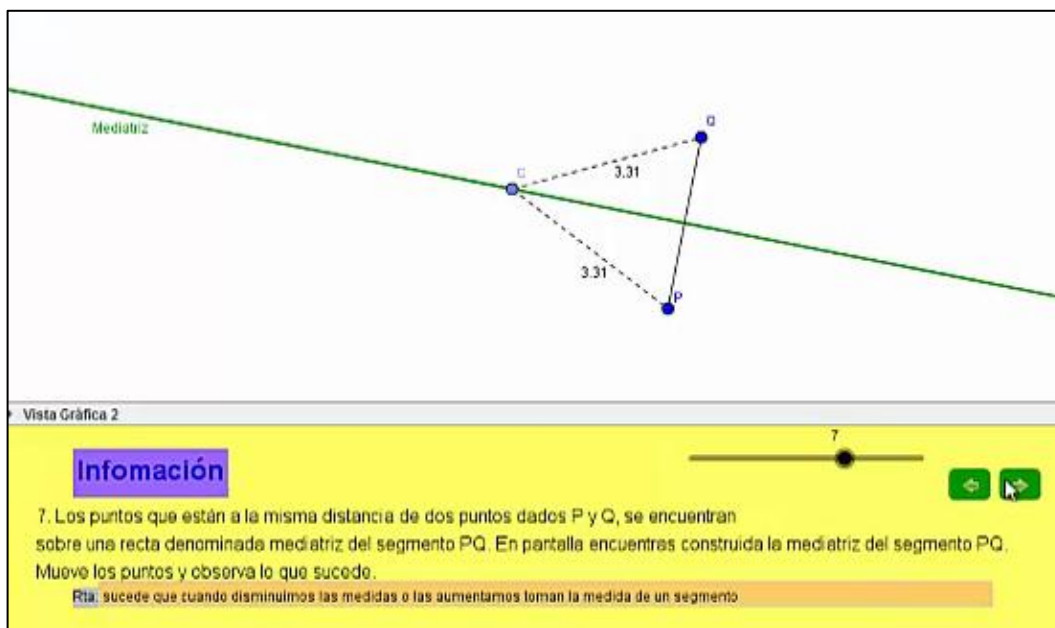


Figura 113. Respuesta de Nicol en la etapa 7 de la tarea 3.

Explora. 8. Mueve los puntos para lograr que la recta cumpla las condiciones mostradas a la izquierda. Observa lo que sucede cuando todas las condiciones se cumplen.

Nicol empezó a explorar la situación moviendo el punto I, de manera que el segmento se intersecara con la recta (Figura 114.b.), lo cual corresponde a un arrastre para ajustar, dado que se busca que el segmento cumpla la condición de intersecarse con la recta [MAPA, 0, 0]. Luego, siguió arrastrando este punto, para que la recta y el segmento se intersecaran en el punto medio de este último (Figura 114.c.), lo cual corresponde también a un arrastre para ajustar [MAPA, 0, 0]. A continuación, ella movió los puntos B y A para obtener un ángulo recto formado por el segmento y la recta (Figura 114.d.), realizando un nuevo arrastre para ajustar [MAPA, 0, 0]. Sin embargo, al realizar esta última acción, se perdió la intersección por el punto medio del segmento: por esta razón, Nicol arrastró la recta hasta obtener esta última condición (Figura 114.e.). Este último arrastre lo realizó manteniendo la medida del ángulo recto, a lo largo del movimiento, por lo que se trata de un arrastre guiado [MAG, 0, 0]. Luego, ella avanzó a la siguiente etapa.

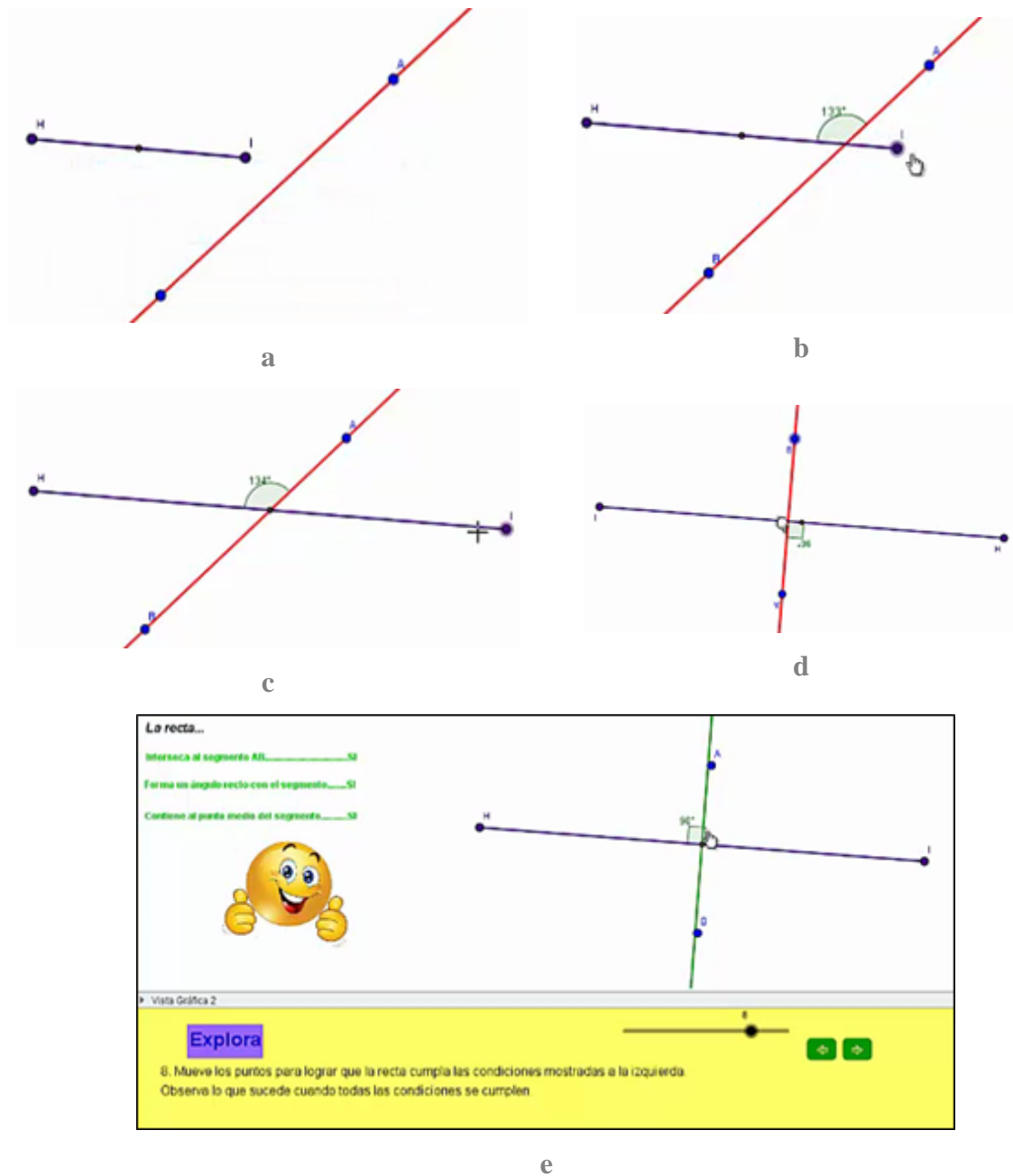


Figura 114. Arrastres realizados por Nicol en la etapa 8 de la tarea 3.

Explora. 9. ¡Excelente! Lograste que la recta cumpla las condiciones. Ahora aparece en la recta un punto especial S, muévelo ¿Qué sucede con la distancia del punto S a los extremos del segmento HI?

Nicol empezó a arrastrar el punto S sobre la recta verde (Figura 115).

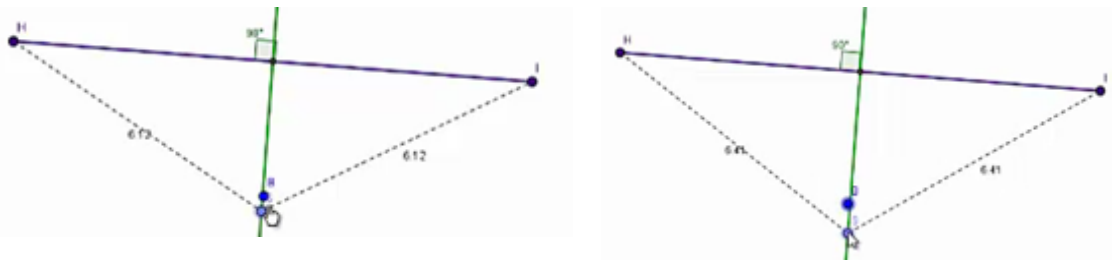


Figura 115. Arrastres realizados por Nicol en la etapa 9 de la tarea 3.

En este momento, uno de los docentes se acercó y tuvieron una conversación.

156	Nicol	No pasa nada, aumentan las medidas.
157	Profesor 2	¿Aumentan cómo? ¿No hay nada? ¿No hay nada que tú veas ahí que sea curioso?
158	Nicol	No.
159	Profesor 2	En estas dos medidas. [Se refiere a las medidas indicadas en los segmentos punteados].
160	Nicol	[Arrastra nuevamente el punto S sobre la recta] No, no pasa nada.
161	Profesor 2	¿Qué sucede con la distancia del punto S a los extremos? ¿Qué sucede con la distancia del punto S acá y del punto S acá? [Señala los puntos H e I]
162	Nicol	Nada.
163	Profesor 2	¿Cómo así que nada?
164	Nicol	Yo no veo que pase nada. Es en serio, vea, el puntico estaba ahí cuando lo inicié (Figura 116.a.).
165	Profesor 2	Sí.
166	Nicol	Y cuando lo subimos hacia allá... (Figura 116.b.)
167	Profesor 2	¿Qué pasa con las medidas? Si subes, ¿qué pasa?
168	Nicol	Ay, sí... ¿Disminuyen?
169	Profesor 2	¿Pero qué relación hay entre esas medidas?
170	Nicol	¿Que ambas son paralelas?
171	Profesor 2	¿Paralelas?
172	Nicol	No, no.
173	Profesor 2	¿Distancias paralelas?
174	Nicol	Ay, profé, pero es que no... [Piensa por un momento]. Son iguales, las distancias son iguales.

En esta conversación se observa que Nicol realizó un arrastre limitado del punto S sobre la recta (Figura 116) y que, en primera instancia, observó que al mover este punto las medidas de las distancias aumentan o disminuyen. En este caso la estudiante describió lo que estaba observando en el movimiento, por lo que consideramos que se trata de un esquema de argumentación empírico, aunque bastante inducido por las preguntas del profesor. Además, Nicol se encontraba variando una dimensión, mientras que otras permanecían invariantes y en

búsqueda de patrones, por lo que la función que enmarca estas acciones es la separación [MAL, FVS, EAE].

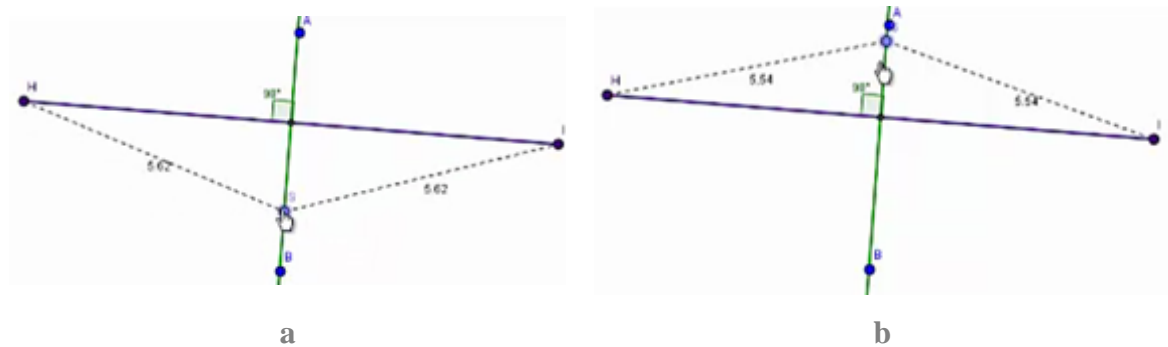


Figura 116. Arrastres realizados por Nicol durante la conversación con la docente en la etapa 9 de la tarea 3.

Luego de esta conversación, Nicol escribió la siguiente respuesta: “LAS DISTANCIAS SON IGUALES” [sic] y pasó a la última etapa.

Concluye. 10. ¿Qué condiciones debe cumplir la recta para que los puntos sobre ella se encuentren a la misma distancia de los extremos del segmento?

Sin realizar ninguna exploración en la construcción, Nicol escribió la siguiente respuesta: “DEBEN CUMPLIR CON UNA MISMA MEDIDA” [sic]. En este momento, uno de los profesores se acercó y, al ver la respuesta, empezó a realizar más preguntas a la estudiante.

175	Profesor 1	A ver, ¿qué condiciones debe cumplir la recta?
176	Nicol	[Señala la respuesta]
177	Profesor 1	¿Y ya? Una recta no tiene medida. Una recta es infinita.
178	Nicol	Ay, profe.
179	Profesor 1	A ver, mira bien la pregunta. ¿Qué condiciones debe cumplir la recta? Señala la recta.
180	Nicol	Es esta, ¿no? [Señala el segmento HI] (Figura 117). No ese es un...
181	Profesor 1	Segmento.
182	Nicol	Eso, esta es una recta [señala la recta AB].
[El profesor se aleja un momento]		
183	Profesor 1	Mira, en primer lugar, ¿qué fue lo que cuadraste? Es que mira la pregunta.
184	Nicol	La medida.
185	Profesor 1	Tú estás mostrando ahí, ¿qué me estabas señalando?
186	Nicol	El ángulo.
187	Profesor 1	O sea que el ángulo es relevante.
188	Nicol	¿Qué es eso?
189	Profesor 1	Es importante. ¿Qué más es importante?
190	Nicol	La medida entre las dos.

191	Profesor 1	¿Qué más es importante? ¿Cómo consigues la medida?
192	Nicol	Que sea... ay, ¿cómo es que se dice? Eh.
193	Profesor 1	Entonces, devuélvete. [El profesor se devuelve a la etapa 8 de la actividad].

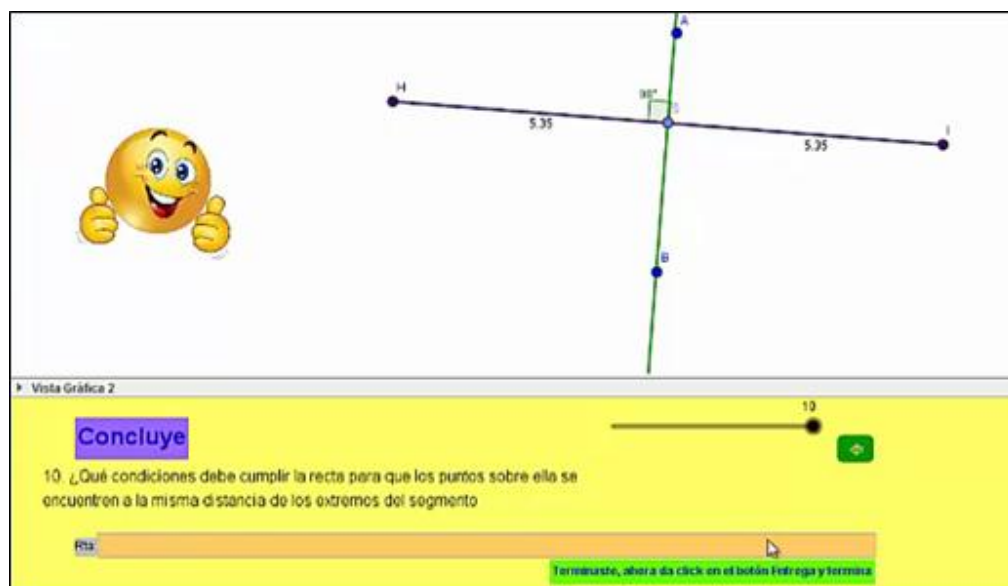


Figura 117. Configuración que obtuvo Nicol en la etapa 10 de la tarea 3.

194	Profesor 1	[El profesor modifica la configuración] ¿Qué es lo que falta ahí? (Figura 118.a.)
195	Nicol	Que tengan un ángulo en común, ¿no?
196	Profesor 1	¿Y ya? Porque sí tienen. Mira. [Señala el ángulo determinado por la recta y el segmento].
197	Nicol	Ah, ya.
198	Profesor 1	Mira.
199	Nicol	Ay, no puedo creer que me esté quedando grande, profe.
200	Profesor 1	Pues te falta algo. ¿Qué te falta?
201	Nicol	¿Qué compartan un punto?
202	Profesor 1	¿Sí?
203	Nicol	Ay, profe.

La estudiante exploró la construcción hasta obtener las tres condiciones, nuevamente. Finalmente, vuelve a la etapa 10 y escribe la siguiente respuesta: “DEBE TENER UN LADO EN COMUN UN ANGULO Y LA MISMA MEDIDA” [sic] (Figura 118.b.). Observamos que Nicol realizó de una manera muy apropiada los arrastres requeridos en esta última etapa de la tarea, pero tiene dificultades para concluir lo que esperábamos. La respuesta final corresponde a un esquema de argumentación de recuento factico, puesto que la alumna solo describió algunas

de las condiciones que debía cumplir la recta, pero de manera incompleta [0, 0, EAR]. De esta forma, Nicol terminó su ejecución de esta tarea.

La recta...

Interseca al segmento HI.....SI

Forma un ángulo recto con el segmento.....NO

Cortina al punto medio del segmento.....NO

Vista Gráfica 2

Explora

8. Mueve los puntos para lograr que la recta cumpla las condiciones mostradas a la izquierda. Observa lo que sucede cuando todas las condiciones se cumplen.

a

Vista Gráfica 2

Concluye

10. ¿Qué condiciones debe cumplir la recta para que los puntos sobre ella se encuentren a la misma distancia de los extremos del segmento?

Res: DEBE TENER UN LADO EN COMUN UN ANGULO Y LA MISMA MEDIDA

Terminaste, ahora da click en el botón Entrega y termina

b

Figura 118. Revisión de Nicol y el profesor sobre la etapa 8 de la tarea 3.

10.3.4. Tarea 4. Circunferencia por dos puntos

A lo largo de esta tarea se verá cómo Nicol continúa realizando arrastres para ajustar, en su mayoría, para responder a las condiciones del problema. A diferencia de la tarea anterior, en

esta Nicol logró realizar una construcción a partir de unos pocos casos particulares, obtenidos en los arrastres para ajustar.

Para dar inicio a esta tarea, se observó que Nicol, al parecer, leyó mentalmente el enunciado de la primera etapa: *Construye. 1. Usa las herramientas de GeoGebra para construir una circunferencia que contenga a los puntos A y B. Revisa el menú de circunferencias y busca una de las herramientas que te sirva. Explica cómo la construiste.*

Luego, la alumna exploró el menú de circunferencias de GeoGebra y seleccionó la herramienta *Compás*, pero no realizó nada con esta herramienta. A continuación, cambió su elección por la herramienta *Circunferencia (centro, punto)* y representó con ella dos circunferencias (Figura 119). Sin embargo, después, Nicol decidió borrarlas. En estas construcciones, Nicol no usó el arrastre para cumplir con las condiciones solicitadas.

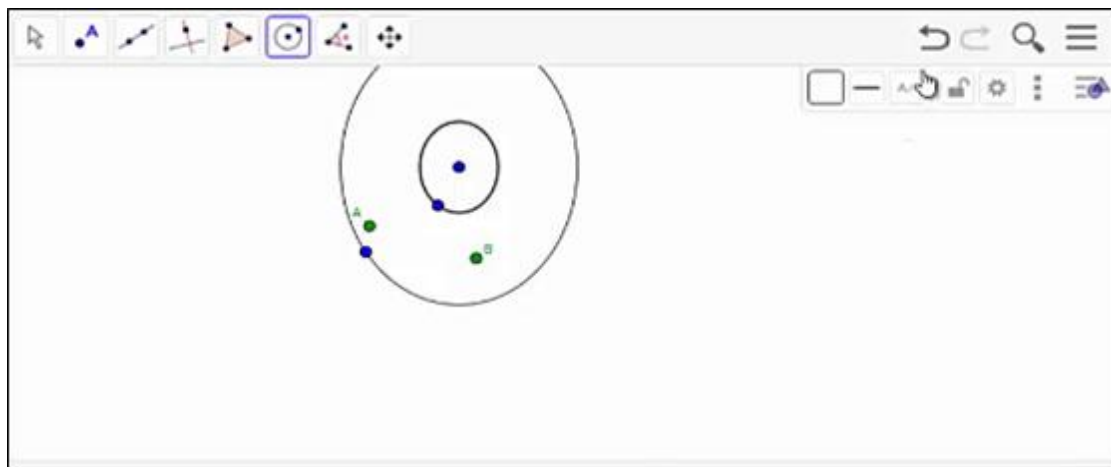


Figura 119. Primera construcción de Nicol en la etapa 1 de la tarea 4²⁹.

Luego, la estudiante volvió a intentar construir la circunferencia solicitada con la herramienta seleccionada, pero no tuvo éxito (Figura 120.a.). Así que ella decidió arrastrar el centro de la circunferencia, pero tampoco logró que los puntos estuvieran contenidos en esta (Figura 120.b.). Lo siguiente que hizo fue intentar mover los puntos A y B, pero tampoco logró el objetivo con esta estrategia (Figura 120.c.). Todos estos parecen ser arrastres para ajustar no exitosos [MAPA, 0, 0].

²⁹ En esta figura se ven un poco alargadas las circunferencias porque la alumna modificó la escala de la Vista Gráfica.

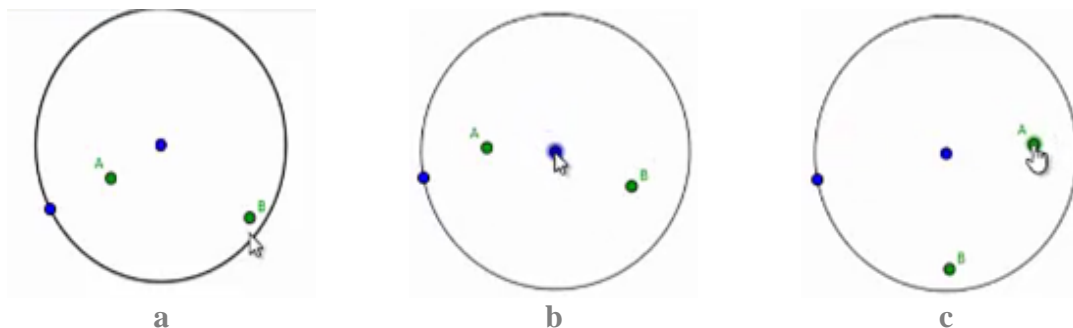


Figura 120. Segunda construcción de Nicol en la etapa 1 de la tarea 4.

Ahora uno de los profesores se acerca y tiene una conversación con la estudiante. En esta conversación podemos notar que la alumna tenía una confusión respecto a la tarea.

204	Profesor 1	Pero aquí qué te pide. Miremos a ver qué es lo que te pide.
205	Nicol	Que construya una circunferencia que contenga al punto A y B y ya los contiene.
206	Profesor 1	¿Sí?
207	Nicol	Sí, están dentro de él.
208	Profesor 1	Bueno, que pase.
209	Nicol	¿Que pase?
210	Profesor 1	Que pase por A y B. Lo que pasa es que la circunferencia no es lo de adentro.
211	Nicol	Ah.
212	Profesor 1	La circunferencia es la bolita. Solamente lo que es la línea. O sea que cuando habla de contener...
213	Nicol	Tiene que estar sobre ella.
214	Profesor 1	Sobre ella.

Luego de esta conversación, Nicol deshizo las construcciones realizadas y volvió a seleccionar la herramienta *Circunferencia (centro, punto)*. A continuación, intentó construir una circunferencia que contuviera a los dos puntos, para lo cual ubicó el centro y realizó arrastres de modo que la circunferencia pasara por los puntos, pero no logró que pasara por los dos (Figura 121). Estos arrastres los categorizamos como arrastres para ajustar [MAPA, 0, 0].

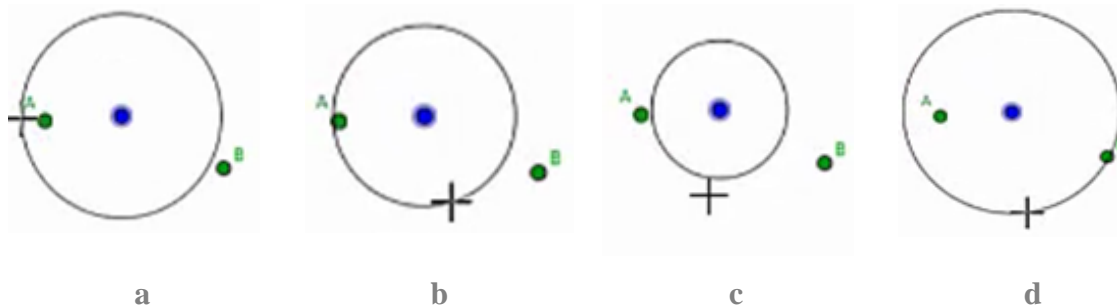


Figura 121. Arrastres de Nicol en la etapa 1 de la tarea 4.

Nicol repitió el procedimiento anterior, varias veces, ubicando el centro de la circunferencia en diferentes lugares (Figura 122). Observamos que estos puntos que tomaba como centro, se encontraban aproximadamente entre los puntos A y B. Sin embargo, la estudiante no usaba el arrastre para obtener la circunferencia que buscaba. Su estrategia consistía en construir circunferencias hasta obtener una que pasara por A y B.

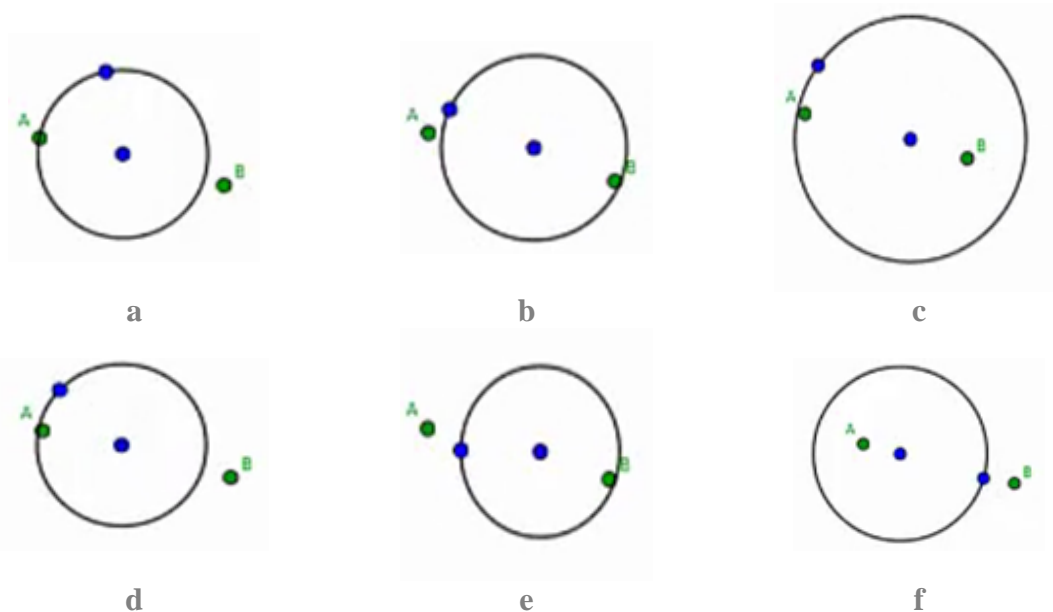


Figura 122. Diferentes circunferencias construidas por Nicol en la etapa 1 de la tarea 4.

Luego de varios intentos, Nicol ubicó el centro de la circunferencia en otro lugar y logró construir la circunferencia que pasaba por los dos puntos A y B (Figura 123).

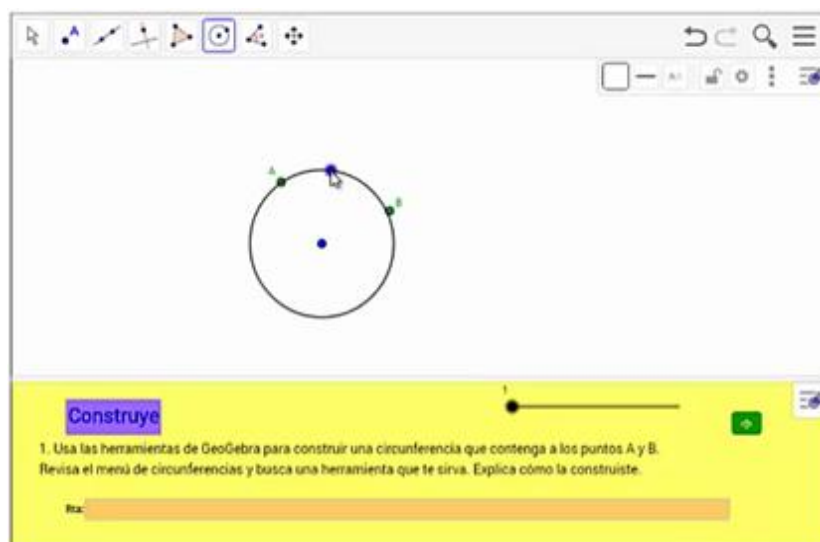


Figura 123. Construcción correcta de Nicol en la etapa 1 de la tarea 4.

Al ver que había obtenido lo que buscaba, Nicol llamó al profesor y conversó con él.

215	Profesor 1	Eso, muy bien, ¿cómo hiciste?
216	Nicol	Pues coger la bolita y ... Pues en la mitad no me daba para unir los dos.
217	Profesor 1	O sea, pusiste el centro en cualquier otro lado y después miraste en dónde te daba.
218	Nicol	Es que lo ponía en el centro de los dos y no me daba. Uno quedaba por fuera y el otro quedaba por dentro.
219	Profesor 1	¿Y si mueves el centro?

Nicol realizó el arrastre del centro y volvió a ubicarlo de manera que la circunferencia pasara por los dos puntos (Figura 124). Luego, le mostró al profesor lo que obtuvo y registró la respuesta: “UTILIZANDO LA HERRAMIENTA CIRCUNFERENCIA Y PUNTO PODEMOS HACER QUE LA CIRCUNFERENCIA CONTENGA A A Y B TENIENDO CENTRO EN OTRA PARTE QUE NO SEA ENTRE A Y B ” [sic]. Este arrastre realizado por Nicol corresponde a un arrastre para ajustar porque ella buscaba que la circunferencia pasara por estos puntos. Al variar la posición del centro de la circunferencia, la estudiante se debía fijar, no solo en la posición del punto que arrastra, sino también en la relación entre la circunferencia y los puntos A y B, por esta razón creemos que estas acciones corresponden a la función de variación de fusión. Además, el argumento que se observa en la respuesta señala que, para que la circunferencia contenga a los puntos A y B, es necesario que su centro no esté entre estos puntos. Aunque esta conclusión es errada, si podemos concluir que para afirmar esto Nicol se basa en su propia experiencia, ya que, cuando seleccionó un punto entre A y B como centro, no tuvo éxito para obtener la circunferencia. Es decir, este es un esquema de argumentación empírico [MAPA, FVF, EAE]. Así, la estudiante pasó a la siguiente etapa.

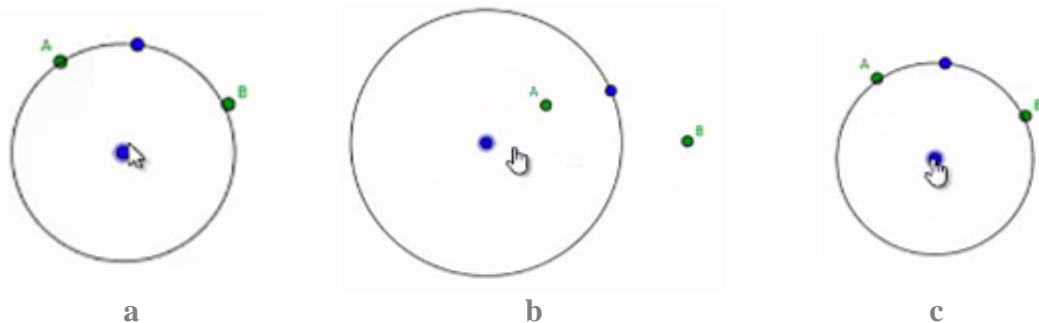


Figura 124. Arrastre del centro de la circunferencia por parte de Nicol en la etapa 1 de la tarea 4.

Anticipa. 2. ¿Crees que es posible construir otras circunferencias diferentes que contengan a los puntos A y B? Si_ No_. Explica tu respuesta.

Nicol leyó la pregunta y seleccionó la opción *Sí*. Luego, escribió la siguiente respuesta: “SI PORQUE SI UBICAMOS EL CENTRO EN OTRO PARTE QUE NO SEA EL ANTERIOR PODEMOS OBTENER LA MISMA RESPUESTA” [sic]. Esta respuesta carece de elementos para ser analizada a la luz de las categorías. De esta forma, avanzó a la etapa siguiente.

*Verifica. 3. El punto rojo es el centro de la circunferencia que contiene al punto A. Mueve el punto rojo tratando de que la circunferencia contenga al punto B. Al finalizar el movimiento activa la opción *Mostrar huella*. ¿Qué figura se puede formar con los puntos azules cuando la circunferencia contiene a los puntos A y B?*

Nicol realizó el arrastre del punto rojo, sin mantener del todo la intersección con el punto B y activó la opción *Mostrar huella* (Figura 125). Luego, leyó el enunciado y deshizo los cambios. Sin embargo, sin realizar un nuevo arrastre, ella decidió escribir lo siguiente como respuesta: “SE FORMA OTRA CIRCUNFERENCIA CONTENIENDO EL PUNTO B” [sic]. La respuesta parece no tener relación con lo que estaba observando la alumna en los puntos azules, por lo tanto, no podemos analizar la naturaleza de la misma. Luego, Nicol avanzó a la etapa 4.

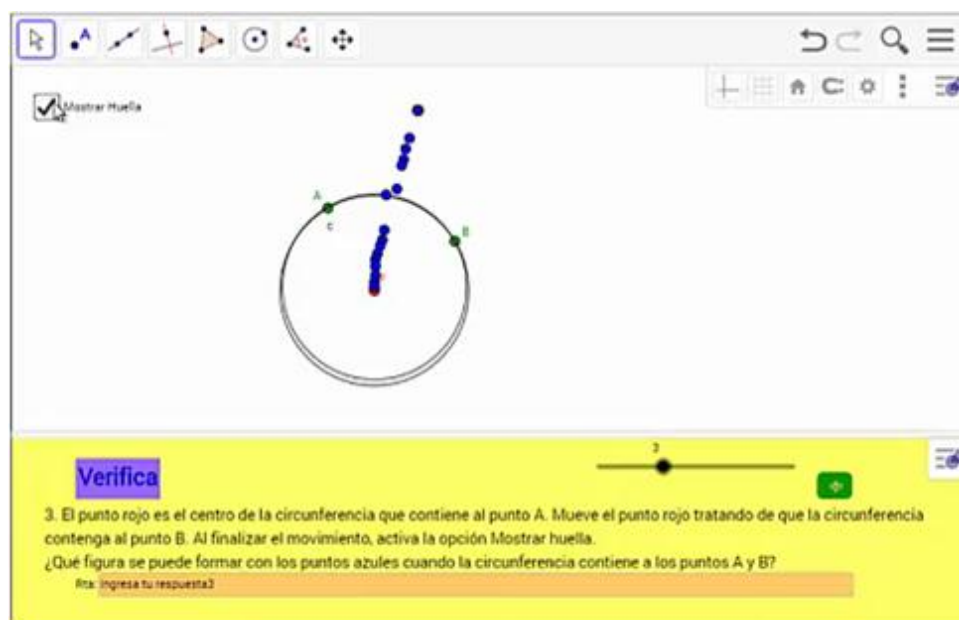


Figura 125. Arrastre por parte de Nicol en la etapa 3 de la tarea 4.

Explora. 4. Representa algunas circunferencias que pasen por A y B y encuentra sus centros. Explica cómo lo hiciste.

Nicol volvió a seleccionar la herramienta *Circunferencia (centro, punto)* y construyó una circunferencia con centro en mismo centro de la circunferencia que construyó en la etapa 1 (Figura 126.a.). Luego, deshizo esta construcción y volvió a usar la herramienta para construir una circunferencia con centro en un nuevo punto, pero, como no logró que esta contuviera a los puntos A y B, volvió a deshacer esta construcción (Figura 126.b.). En un tercer intento, ella logró ubicar el centro en un lugar tal que, al trazar la circunferencia, esta contenía a los puntos A y B (Figura 126.c.).

Luego de esto, Nicol continuó ubicando puntos y tratando de que la circunferencia con centro en ellos pasara por los puntos A y B; unas veces con éxito y otras no. En estas acciones observamos que la estudiante no aplicó el procedimiento que el profesor le sugirió antes respecto al arrastre de la circunferencia para que contuviera a los puntos, lo que hacía la alumna era construir las circunferencias por ensayo y error, a ver si lograba el objetivo. Por lo tanto, no podemos reconocer modalidades de arrastre ni funciones de la variación en esta acción.

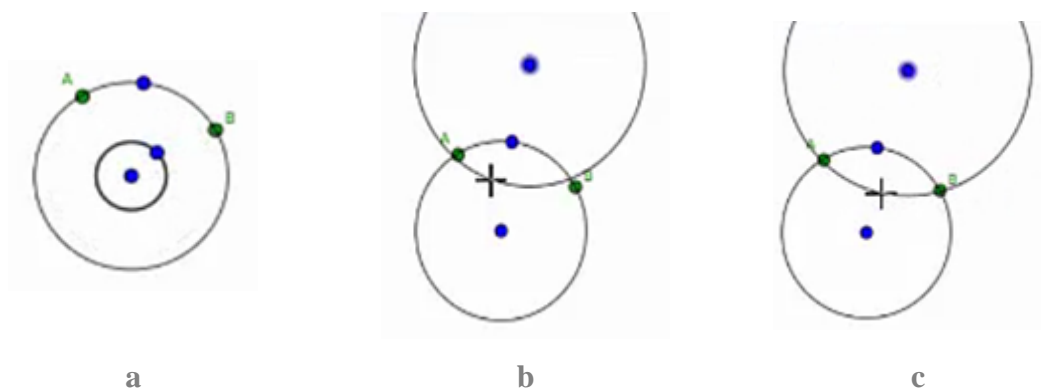


Figura 126. Construcciones de Nicol en la etapa 4 de la tarea 4.

Durante la exploración y por error, Nicol reinició la tarea, así que modificó sus respuestas así:

Construye. 1. Respuesta: “CON LA HERRAMIENTA CIRCUNFERENCIA Y PUNTO CREAMOS UNA CIRCUNFERENCIA QUE CONTENGA A A Y B” [sic].

Anticipa. 2. Respuesta: Seleccionó la opción *Sí* y escribió: “PORQUE HACIENDO CENTRO EN OTROS LADOS ENCONTRAMOS UNA CIRCUNFERENCIA QUE CONTENGA A A Y B” [sic].

Verifica. 3. Respuesta: “SE CREA UNA CIRCUNFERENCIA CONTENIENDO EN ELLA A B” [sic].

Todas las respuestas anteriores corresponden a descripciones de lo que la alumna ejecutó en el software para dar respuesta a lo solicitado, por lo tanto, consideramos que se trata de esquemas de recuento fáctico [0, 0, EAR]. Luego, la alumna regresó a la etapa 4 y solo registró la respuesta: “USANDO LA HERRAMIENTA CIRCUNFERENCIA Y PUNTO SE CREAN 7 CIRCUNFERENCIAS QUE CONTENGAN A A Y B” [sic]. Esto lo hizo a pesar de que ella no había logrado construir más que dos circunferencias con las condiciones solicitadas. Aunque ella no había obtenido esto, suponemos que ella creía que podría repetir el procedimiento para obtener más circunferencias, lo cual corresponde a un esquema de recuento fáctico [MAPA, 0, EAR]. Así, Nicol avanzó a la etapa 5.

Generaliza. 5. ¿Qué tienen en común los centros de las circunferencias que contienen a los puntos A y B? Utiliza herramientas de GeoGebra para verificar tú respuesta.

Mientras Nicol estaba leyendo el enunciado, se acercó a ella la otra docente y le dijo lo siguiente:

220	Profesor 2	¿Pero hiciste varias? Solo hiciste una. [Se refiere a las circunferencias]
221	Nicol	No, es que estoy pensando cómo hacerla.
222	Profesor 2	Ah, la otra.
223	Nicol	Estoy asimilando la pregunta.
224	Profesor 2	Tienes que hacer varias circunferencias y sacar los centros. Circunferencias que pasen por A y por B, para poder responder la pregunta. Ahí solo tienes una, por ahora.

Entonces, Nicol retomó el ejercicio de construir varias circunferencias que pasen por A y por B (Figura 127.a.). Cabe señalar que ella continuaba haciendo las circunferencias sin realizar el arrastre para ajustarlas. Con lo cual, si desde el principio no contenían a A y B, ella borraba la circunferencia y construía una nueva. Esto indica que la estudiante no estaba experimentando el arrastre ni, en consecuencia, la variación.

Luego, Nicol conversó con el profesor:

225	Nicol	Profe, mire.
226	Profesor 1	¿Y qué pasa?

227	Nicol	Pues que el centro es el centro del círculo.
228	Profesor 1	¿Y con los puntos qué formas? O sea, si tuvieras más centros, ¿qué pasaría?
229	Nicol	Una recta. Se formaría una recta.

A continuación, el profesor le sugirió a Nicol que usara las herramientas del programa para construir la recta que mencionaba. Así lo hizo la alumna, obteniendo el resultado que se observa en la Figura 127.b. Adicionalmente, la estudiante construyó una circunferencia tomando como centro uno de los puntos de la recta (Figura 127.c.). Esto último si lo hizo por decisión propia. Sin embargo, esta circunferencia no contenía a los dos puntos. El argumento elaborado por Nicol corresponde a un esquema analítico ya que, a partir de la pregunta del profesor [228], ella concluyó que, si se representaran más circunferencias junto con sus centros, se obtendría una recta [229]. Es decir, el argumento tiene la estructura si- entonces. La construcción que realizó la alumna se podría catalogar como un intento de realizar un arrastre test, dado que ella construyó la recta e intentó verificar que, al construir una circunferencia con centro en un punto de esta recta, esta contendría a los puntos A y B. En este caso, catalogamos las acciones de Nicol dentro de la función de la generalización por lo que la alumna intentó construir una figura que cumpliera con las condiciones buscadas y verificar que estas se presentaban [MAT, FVG, EAD].

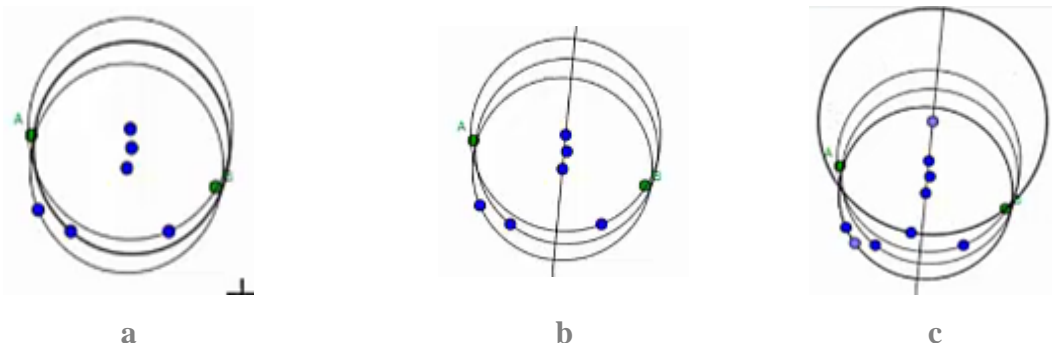


Figura 127. Circunferencias construidas por Nicol en la etapa 5 de la tarea 4.

Luego, ella registró la siguiente respuesta: “Tienen en común una recta que une a los centros de la circunferencia que contiene a A y B” [sic]. Posteriormente, avanzó a la etapa 6.

Concluye. 6. Mueve los puntos negros para lograr que la circunferencia con centro S contenga a los puntos A y B. Escribe una conclusión.

Nicol empezó a arrastrar los puntos negros (Figura 128.a.), pero, como no podía ver la circunferencia, realizó un alejamiento de la vista gráfica (Figura 128.b.). Luego de esto, ella movió los puntos negros de manera que la circunferencia aparentemente contenía a los puntos A y B (Figura 128.c.). Este corresponde a un arrastre para ajustar, ya que lo que se busca es que la configuración cumpla con una propiedad. Además, como la alumna se estaba fijando en varias dimensiones de variación, consideramos que este arrastre se encontraba dentro de la función de fusión [MAPA, FVS, 0].

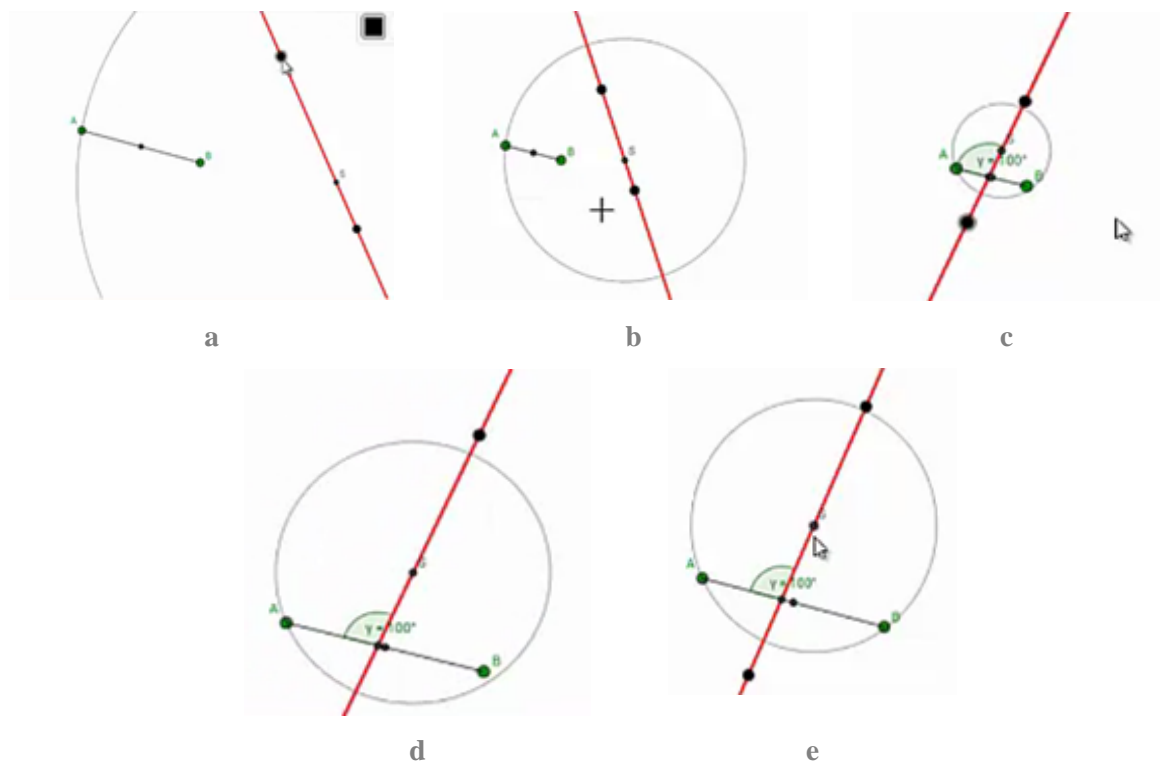


Figura 128. Acciones de Nicol en la etapa 6 de la tarea 4.

En este momento, el profesor se acercó y le preguntó a la alumna si estaba segura que la circunferencia pasaba por A y B. Al realizar nuevamente un acercamiento en la vista gráfica, el profesor le mostró la alumna que la circunferencia no pasaba exactamente por estos puntos (Figura 128.d.). De esta forma, Nicol realizó un nuevo arrastre para ajustar y obtuvo lo que estaba buscando (Figura 128.e.) [MAPA, FVS, 0]. Luego, ella registró la siguiente respuesta: “Si la circunferencia contiene a A y B entonces podemos decir que la recta S contiene a A y B en la circunferencia formando un ángulo $Y=100$ grados” [sic]. Esta respuesta de la estudiante tiene una estructura que aparentemente permite distinguir antecedentes o consecuentes. Se

podría decir que, para Nicol, si la circunferencia contenía a los puntos A y B, se obtenía un ángulo de 100° entre la recta y el segmento. Sin embargo, como ella no hizo el procedimiento adecuado, no pudo elaborar una conclusión correcta. Esto se podría catalogar como un esquema de argumentación analítico, porque tiene una estructura deductiva, aunque incorrecta [MAPA, FVS, EAD]. Así, Nicol pasó a la última etapa.

Concluye. 7. Mueve el punto S sobre la recta. ¿Qué sucede con la circunferencia y los puntos A y B? Escribe una conclusión.

Nicol intentó mover el punto S, pero como la recta no cumplía con las condiciones programadas en la actividad, no lograba hacerlo. En este momento habló con uno de los docentes:

230	Nicol	No se mueve.
231	Profesor 2	Pero es que la recta tiene que cumplir una condición para poderlo mover. ¿Qué condición crees que es de acuerdo con todo lo que has hecho?

Nicol siguió moviendo los puntos negros, pero no consiguió habilitar el movimiento del punto S. Estos arrastres los ejecutaba de manera aleatoria, por lo que corresponden a arrastres erráticos [MAE, 0, 0]. Así que ella, sin lograr el objetivo de la etapa, decidió registrar la siguiente respuesta: “Si la recta S pasa por una intersección de A y B entonces podemos decir que la circunferencia cuando la movemos aumenta la medida con el movimiento” [sic] (Figura 129). Esta respuesta no tiene muchos fundamentos en el proceso realizado, por lo que no la analizamos con base en las categorías. Así terminó el proceso de la alumna en esta tarea.

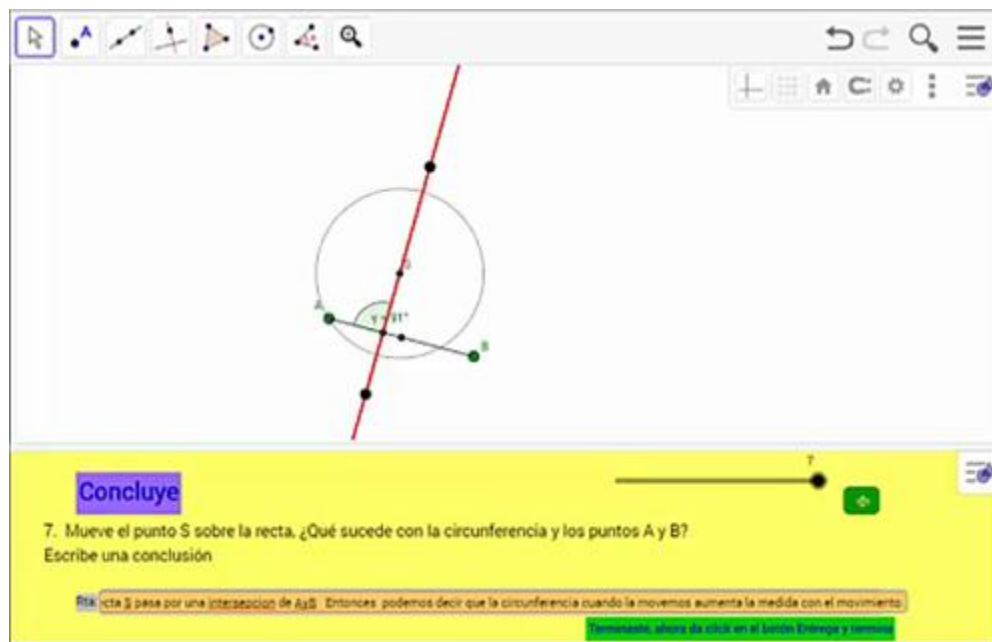


Figura 129. Configuración y respuesta de Nicol en la etapa 7 de la tarea 4.

10.3.5. Tarea 5. Cuadrilátero

En esta última tarea Nicol realizó un procedimiento muy rápido entre etapas. Como veremos, la estudiante solo logró evidenciar que era posible construir un cuadrilátero con las condiciones solicitadas en el problema, pero no le fue posible detectar las propiedades que tenían los vértices de este cuadrilátero ante su dificultad para realizar arrastres guiados.

Nicol inició la primera etapa: *Anticipa. 1. Antes de iniciar, ¿recuerdas qué es la mediatriz de un segmento? Si recuerdas, observa las mediatrices de los lados del cuadrilátero ABCD. ¿Crees que es posible transformar el cuadrilátero para que sus mediatrices se intersequen en un solo punto? Explica tu respuesta.*

Al iniciar la actividad, Nicol observó la figura y arrastró el vértice D un poco (Figura 130). Sin embargo, sin realizar nada más, ella seleccionó la opción *No* y escribió como respuesta: “no porque cuando movemos las mediatrices de los lados al mover una la otra no se interseca” [sic]. El arrastre que realizó Nicol parece ser de carácter exploratorio, ya que ella lo ejecuta para ver qué ocurría en la construcción, por lo que corresponde a un arrastre errático. No obstante, como la alumna se está fijando en varias dimensiones de variación (el punto que arrastra, el cuadrilátero y la intersección de las mediatrices), consideramos que la actividad promueve que

ella trabaje desde la función de variación de fusión. Por otro lado, su respuesta no es más que una descripción de los hechos encontrados [MAE, FVF, EAE].

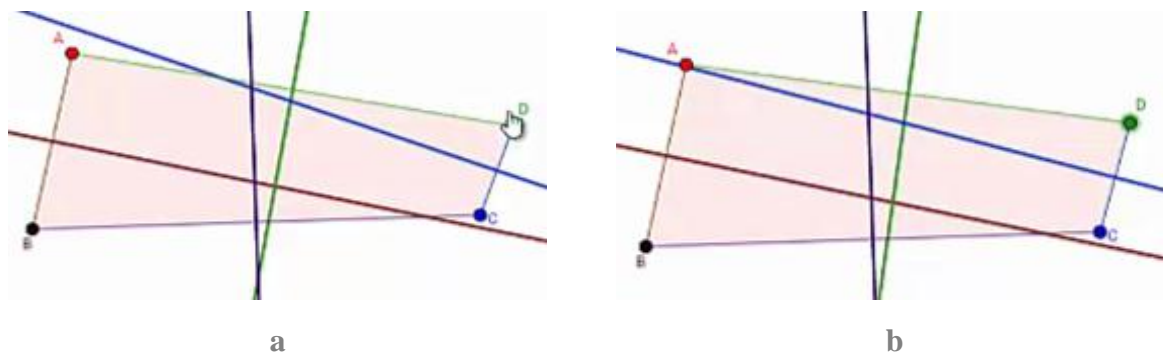


Figura 130. Arrastre de Nicol en la etapa 1 de la tarea 5.

Así, la alumna avanzó a la siguiente etapa.

Anticipa. 2. *¿Crees que es posible mover los vértices del cuadrilátero manteniendo la intersección de las mediatrices en un solo punto? Explica tu respuesta.*

Sin realizar ninguna acción en la construcción, Nicol seleccionó la opción *No* y respondió: “porque al mover una la otra simplemente se descuadra teniendo en cuenta que cada una es diferente así que no se pueden intersecar las dos” [sic]. Esta respuesta parece seguir basándose en el hecho encontrado previamente y es que, en un caso particular, no fue posible que las mediatrices se intersecaran en un solo punto. Por lo tanto, catalogamos esta respuesta como un esquema de argumentación empírico [0, 0, EAE]. Luego, Nicol avanzó a la siguiente etapa.

Verifica. 3. *Mueve los vértices del cuadrilátero manteniendo la intersección de las mediatrices en un solo punto. ¿Verificaste tu respuesta anterior? Si No ¿Por qué?*

Nicol seleccionó el punto C y lo arrastró hasta que las mediatrices se intersecaron en un solo punto (Figura 131). Esta vez la estudiante sí logró lo que se solicitaba. El arrastre realizado corresponde a un arrastre para ajustar, acción que sigue encasillada dentro de la función de fusión al demandar atención en varios aspectos críticos de la configuración. Luego, ella seleccionó la opción *Sí* y escribió la siguiente respuesta: “porque al mover las mediatriz de una la otra inmediatamente se interseca la otra” [sic]. Esta respuesta describe lo observado, por lo

que se cataloga como un esquema de argumentación empírico [MAPA, FVF, EAE]. Posteriormente, la estudiante pasó a la etapa siguiente.

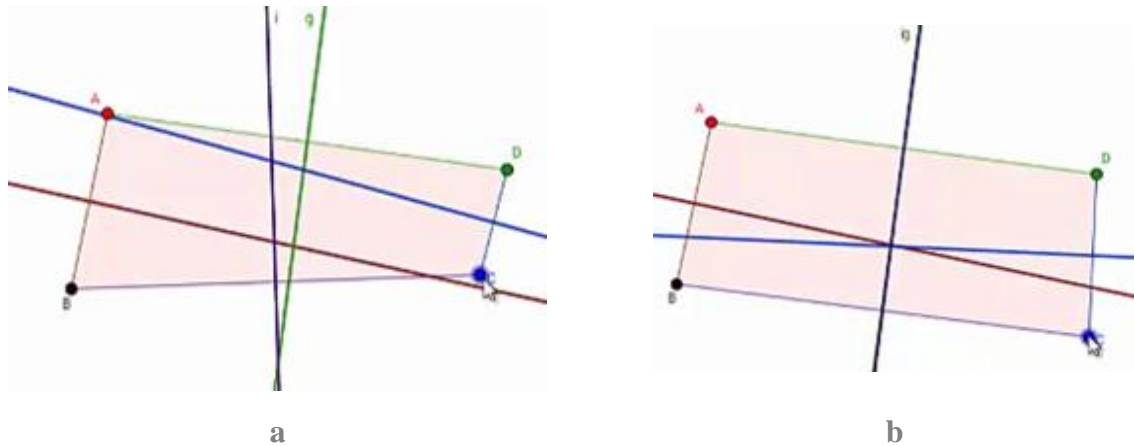


Figura 131. Arrastre de Nicol en la etapa 3 de la tarea 5.

Verifica. 4. *Intenta mover solo uno de los vértices manteniendo la intersección de las mediatrices en un solo punto. ¿Crees que hay alguna propiedad que se deba cumplir para que las mediatrices se intersequen en un solo punto? Explica.*

Nicol no realizó ningún procedimiento en la vista algebraica y registro la siguiente respuesta: “se forma un cuadrilátero” [sic]. Esta respuesta corresponde a una descripción de la figura que hay en la configuración, pero no responde a lo solicitado en la pregunta, por lo que no lo consideramos un argumento. De esta manera, avanzó a la siguiente etapa.

Concluye. 5. *¿Qué condiciones debe cumplir un cuadrilátero para que sus mediatrices se intersequen en un solo punto?*

Nuevamente, Nicol no realizó ningún procedimiento en la vista gráfica y escribió la respuesta: “se debe tener en cuenta que las mediatriz estén muy bien ubicadas tener en cuenta el diámetro una medida una cuerda y que cada punto se interseque en un punto en común” [sic]. No consideramos que esta respuesta sea un argumento. Así, avanzó a la siguiente etapa.

Aplica. 6. *Transforma el siguiente cuadrilátero para que sus mediatrices se intersequen en un solo punto. Justifica tu respuesta.*

Nicol seleccionó el punto D' y lo arrastró a otro lugar (Figura 132), pero no realizó ningún procedimiento adicional. Luego, registró como respuesta lo siguiente: “Al ver la mediatriz transformarse en un cuadrilátero podemos ver que sus puntos tienen que tenerse en común para formar un cuadrilátero” [sic].

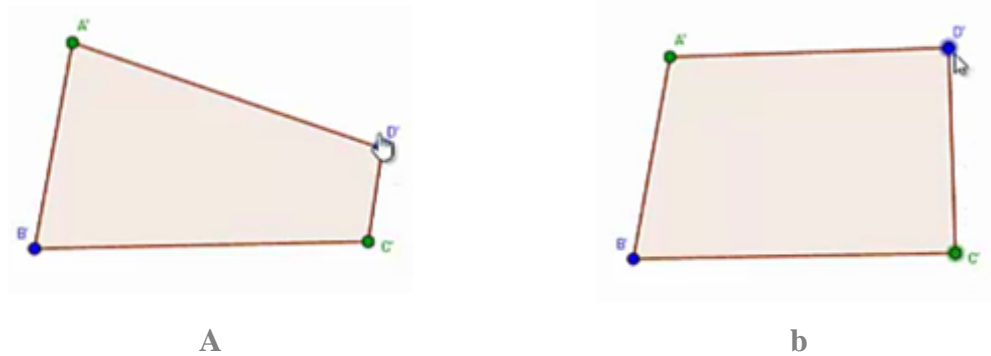


Figura 132. Arrastre de Nicol en la etapa 6 de la tarea 5.

De esta forma Nicol terminó su actividad. Notamos que la estudiante no tuvo una experiencia muy exitosa en las últimas tareas, lo cual se pudo deber a muchos factores. Por un lado, nos pareció que la alumna al avanzar las tareas tenía menos interés en realizar el proceso. Por otro lado, dado que el éxito en las tareas depende de la correcta ejecución de los arrastres para lograr las condiciones solicitadas y como Nicol no logró realizarlos, su experiencia no le permitió obtener respuestas más acertadas.

10.4. Análisis del trabajo de Luis

10.4.1. Tarea 1. El triángulo rectángulo

Fue abordado en la sección 6.1.

10.4.2. Tarea 2. Ángulo con medida constante

En lo que sigue veremos cómo Luis realizó diferentes tipos de arrastres como erráticos, para ajustar, guiados, de lugar mudo, con rastro activado y algunos arrastres test con el objetivo de explorar las diferentes etapas de la tarea. Lo hecho por Luis se enmarcó en las cuatro tipos de funciones de la variación mientras que los argumentos que desarrolló corresponden a esquemas de argumentación de recuento fáctico y empíricos durante las primeras etapas de la tarea, produciendo también algunos analíticos durante las últimas etapas. Durante todo el desarrollo de esta tarea, el actuar del estudiante se vio fuertemente influenciado por los hallazgos de la primera tarea, situación que se manifestó en las respuestas que dio a cada etapa. Sobre el quehacer del estudiante vale la pena señalar que se habituó rápidamente al uso de la herramienta *Mostrar Huella* y, adicionalmente, ideó en la última etapa una estrategia que le permitió validar la solución acertada que dio a la misma. Al finalizar el desarrollo de la tarea, Luis, con la guía del docente, logró la construcción robusta de una situación, relacionada con la primera tarea, que quería compartir con el profesor.

Luis leyó en voz alta la instrucción: *Anticipa. 1. Mueve el punto B y elige una medida para el ángulo B. Escribe la medida que elegiste en la caja verde. ¿Crees que el punto B se puede mover a otro lugar, manteniendo la misma medida que elegiste? Si__NO__. ¿Podrías decir en cuántas posiciones se puede ubicar el punto B?*

Luego el estudiante preguntó “¿la medida que uno quiera? [Refiriéndose a sí podría elegir la medida que quisiera para el ángulo B]” después de una pausa, se percató de lo que decía la primera parte de la instrucción y afirmó “¡ah sí! Elige una medida” entonces él se convenció que debía escoger la medida del ángulo. Consideramos que la afirmación hecha por Luis se corresponde con un esquema de argumentación autoritario, ya que su afirmación se basó en la instrucción encontrada en la tarea [0, 0, EAA].

Luis arrastró por diferentes lugares el punto B, su exploración se limitó al semiplano ‘derecho’ determinado por la recta AC. El estudiante en un momento se concentró en arrastrar a B de forma casi horizontal, en este movimiento llevó el punto B de derecha a izquierda de la pantalla obteniendo valores para el ángulo B entre 40° y 97° ; una idea del movimiento realizado se puede inferir de la Figura 133. Durante el arrastre antes mencionado él manifestó “voy a poner la medida en... 80° [sin intención de comunicación con alguien más]” Segundos después soltó a B en un lugar donde la medida del ángulo marcaba 80° . Registró la elección de la medida en el lugar correspondiente y acto seguido marcó la opción *Si* como respuesta a la pregunta *¿Crees que el punto B se puede mover a otro lugar, manteniendo la misma medida que elegiste?*. Hasta este momento de la exploración, se pueden identificar además de los arrastres erráticos y para ajustar, la función de variación contraste y como la respuesta de Luis se podría escribir como: si se puede mover el punto B a otro lugar y que se mantenga la misma medida de 80° , se clasificó como un esquema de argumentación de recuento factico [MAE/MAPA, FVC, EAR].



Figura 133. Arrastre realizado por Luis durante la primera etapa de la tarea 2.

Luego de ingresar el valor de 80° para el ángulo, Luis arrastró el punto B a diferentes lugares y encontró varias posiciones en las que el ángulo B tenía medida de 80° y otras tantas en las que la medida del ángulo era diferente, lo que le permitió hacer contraste e identificar ubicaciones para B en las que se cumplía la condición y otras en las que no. Repitió el proceso de exploración sin restringir el arrastre a algún semiplano. Después dio respuesta a la pregunta *¿Podrías decir en cuántas posiciones se puede ubicar el punto B? Respondió “6”*. [MAPA, FVC, EAR].

El estudiante avanzó y, como es costumbre en él, leyó el enunciado: *Verifica. 2. Mueve el punto B tratando de mantener la medida de 80° . Luego de mover el punto B por distintas partes manteniendo la medida del ángulo, habilita la opción Mostrar Huella. ¿Qué figura se forma con la huella del punto B?*

Luis se dirigió al docente y le pidió explicación de la instrucción, el docente le explicó diciendo “arrastra el punto de tal forma que se conserve [la medida del] el ángulo que seleccionaste”.

El estudiante durante un largo tiempo realizó exploraciones arrastrando el punto B por diferentes lugares, siempre con la intención de ajustar la medida del ángulo en 80° [MAPA, FVC, 0], al habilitar la opción *Mostrar Huella* se notó desconcertado pues al parecer la huella no le reveló información que pudiera interpretar como una figura formada con la huella del punto B. Fue necesario indicarle una manera de arrastrar el punto con mayor precisión, esta consiste en oprimir la tecla de segunda función al mismo tiempo que alguna de las teclas de flecha (arriba, abajo, izquierda o derecha).

Luis utilizó el método de arrastre sugerido, moviendo continuamente a B intentando conservar la medida del ángulo en 80° o en valores muy cercanos. Él realizó la operación durante algún tiempo y al llegar muy cerca del lugar donde inició con este arrastre decidió detenerse, y marcó la opción *Mostrar Huella*. Se dirigió al docente y le comentó que eso parecía un círculo [Refiriéndose a circunferencia] mientras hizo señas con la mano indicando la misma figura [MAG, FVC, EAE]. Para reforzar su hallazgo, el estudiante indicó en qué manera iba realizando el arrastre “porque yo lo hice así, iba recorriendo y acá iba hasta 120 [120 grados en cercanía a los puntos A o C] y subía y subía... pero entonces acá ya iba llegando a 80 [grados] entonces lo bajaba y lo volvía a subir y 80 y 80 [grados]” [MAG, FVS, EAR].



Figura 134. Configuración que Luis llamó círculo relleno.

Cuando Luis observaba la configuración a la que se refirió como un círculo relleno (Figura 134), fue cuestionado por el docente quien dijo ¿Ya se parece mucho más a algo conocido?, Luis respondió que se parece a un círculo mientras hacía el gesto de una circunferencia con la mano.

El docente instó al estudiante a escribir la respuesta pero el chico se veía dubitativo así que el docente sugirió volver a hacer la exploración aunque en esta ocasión le sugirió que usara la herramienta zoom pues el estudiante había reconocido y mencionado la dificultad de mantener la medida de 80° al acercarse a algunos de los puntos A o C.

El estudiante desactivo la opción *Mostrar Huella* e hizo de nuevo la exploración usando zoom y arrastre de pantalla para moverse con mayor precisión. Como se mencionó antes, suponemos que Luis conocía de antemano los lugares por donde debía mover a B para que cumpliera la condición, razón por la cual consideramos que el arrastre realizado por Luis se corresponde con dos modalidades, de arrastre guiado y de lugar mudo. Además él arrastró a B con la intención de mantener no solo la medida del ángulo, también la forma de una circunferencia, siendo así, los arrastres nos permiten encajar lo hecho por Luis dentro de la función de la variación separación. Cuando finalizó el recorrido activó nuevamente la opción *Mostrar Huella* (Figura 135.) y se animó a escribir la respuesta: “se forma una circunferencia”, afirmación que por hacer referencia a la forma encontrada en la configuración se corresponde con un esquema de argumentación empírico [MAG/MALM, FVS, EAE].



Figura 135. Configuración que el estudiante Luis obtuvo al finalizar la etapa 2 Verifica de la tarea 2.

En la etapa *Explora. 3*, el estudiante volvió a leer las instrucciones en voz alta: *se han creado algunos puntos auxiliares. Muévelos a diferentes lugares para que el ángulo que marquen sea de 80° ¿Qué figura se puede formar con los puntos? ¿Es la figura que esperabas?*

El estudiante procedió a arrastrar la pantalla y luego cada uno de los puntos auxiliares buscando obtener el ángulo de 80° [MAPA, FVG, 0]. En este proceso él utilizó hábilmente el teclado para arrastrar los puntos. Durante el desarrollo de esta actividad, el estudiante, mientras movía los puntos estaba convencido que la figura que debía formar era una circunferencia situación que fue reforzada luego de observar la configuración que obtuvo (Figura 136.) y así lo manifestó al contestar la pregunta, él escribió: “una circunferencia si es la misma” [sic].

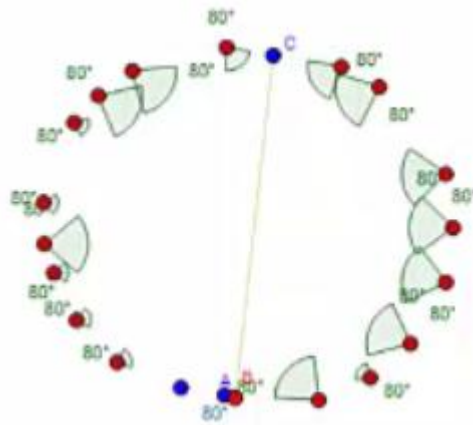


Figura 136. Configuración que el estudiante Luis obtuvo al finalizar la etapa 3 Explora de la tarea 2.

Para lograr esta afirmación, Luis se basó en el arrastre realizado, arrastre que se corresponde con arrastre para ajustar pues busca la medida de 80° y en la modalidad de arrastre en línea pues ubicó puntos auxiliares en lugares donde se favoreció la propiedad descubierta que para este caso es la forma de la circunferencia. Adicionalmente, en las afirmaciones hechas por Luis nos permitieron evidenciar que para él, ya se encontraba verificada la relación entre la medida del ángulo y la forma de la circunferencia, pensamos que además se encuentran indicios de construcción de significado pues menciona en repetidas ocasiones que la figura que se forma cuando B sigue el camino para que la medida del ángulo sea 80° es una circunferencia, lo que hace pensar que en la labor realizada por Luis se hizo presente la función de la variación fusión y de igual manera en sus afirmaciones, por estar basadas en la forma de la configuración, se hizo evidente un esquema de argumentación empírico [MAPA/MAEL, FVF, EAE].

Generaliza. 4. *Elige una nueva medida para el ángulo del punto B. Escribe la medida en la caja verde. Haz clic derecho sobre el punto B y activa la opción Rastro. Luego, mueve el punto*

B tratando de mantener la medida de _____. ¿Qué figura se forma con el rastro que va dejando el punto?

En la etapa 4 Luis leyó algunas partes de las instrucciones en voz alta, otras mentalmente. Eligió la medida de 100° y la ingreso en la caja verde, luego preguntó cómo activar la opción rastro y posterior a la explicación hizo el arrastre necesario tras lo cual obtuvo el resultado que se observa en la Figura 137.

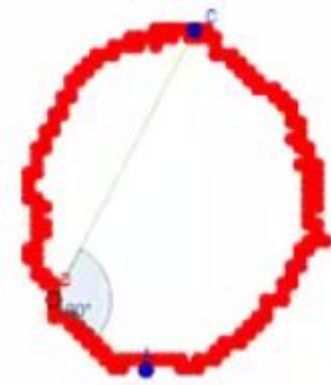


Figura 137. Configuración que el estudiante Luis obtuvo al finalizar la etapa 4 Generaliza de la tarea 2.

A la pregunta *¿Qué figura se forma con el rastro que va dejando el punto?* Él respondió: “forma una circunferencia” [sic]. Es claro que por la instrucción de esta etapa, Luis hizo un arrastre con rastro activado que le permitió identificar la forma de circunferencia a la que se refiere [MARA, 0, EAE]. Para Luis, esta etapa no significó un descubrimiento ni exploración adicional a las ya realizadas, es más, creemos que el desarrollo de esta etapa sirvió para reafirmar en él la forma de circunferencia descubierta en las etapas anteriores de esta tarea, influenciado por los resultados de la tarea 1.

Al llegar a la etapa 5 Luis hizo lectura de las instrucciones en voz alta: *Concluye. 5. De acuerdo con lo que observaste, ¿Cuál de las opciones sería la conclusión del problema? Deja seleccionada UNA, la que más te parezca. Apóyate en la construcción para verificar si tu selección es apropiada.*

El estudiante al finalizar la lectura de las instrucciones marcó la opción 1, esta decía: *Si A, B y C son puntos de una circunferencia ENTONCES todos ángulos que forman estos puntos tienen la misma medida.* Leyó con detenimiento el texto de la opción 1 y exclamó ¡esa es!, seguido,

marcó y leyó las demás opciones, prestó especial atención a las opciones 4 y 5 reproducidas a continuación:

Opción 4: *Si en un $\angle ABC$ se mueve el punto B manteniendo la medida del ángulo, ENTONCES el punto B va formando una circunferencia.*

Opción 5: *Si A y C son dos puntos de una circunferencia ENTONCES todos los puntos B que están sobre la circunferencia forman ángulos $\angle ABC$ de la misma medida.*

Marcó de nuevo la opción 4, estudió lo que allí aparecía. Finalmente decidió elegir esta y continuó con la etapa **Construye. 6. Mueve los puntos para lograr que los cuatro ángulos tengan la misma medida. Pista: Muestra las circunferencias y cambia sus radios.**

¿Por qué crees que esa debe ser la ubicación de los puntos? Explica tu respuesta.

En esta etapa, a pesar de tener nuevos comandos, el estudiante no pidió apoyo del docente para interactuar con el applet, aunque inicialmente se notó confundido por la apariencia de esta etapa debido al zoom que había elegido. Luis se vio interesado en leer las instrucciones y poco a poco entendió los comandos, posteriormente, arrastrando la pantalla en busca de los puntos que podía mover, los encontró y arrastró sobre alguna de las circunferencias que había marcado para que se mostraran [MAE/MAPA, 0, 0].

Durante el arrastre descrito las circunferencias no tenían igual radio, Luis se percató de esa situación e igualó el radio de las dos circunferencias y arrastró de nuevo los puntos sobre ellas, dos puntos en cada una.

Ajustó el zoom por sugerencia de la docente y ahora él se mostraba pensativo sobre cómo contestar la última pregunta. En diálogo con la docente manifestó su inquietud:

1	Luis	Y, ¿Aquí que escribo?
2	Profesor 2	Bueno, dice... mueve los puntos para lograr que los cuatro ángulos tengan la misma medida.
3	Luis	Ya los moví.
4	Profesor 2	Usaste estas funciones [se refiere a mostrar circunferencia A y circunferencia B] ajustaste el tamaño de las circunferencias... todo eso.
5	Luis	[asiente]
6	Profesor 2	Para ti esa era la respuesta correcta, ahora explícame por qué crees que esa debe ser la

		ubicación de los puntos.
7	Luis	No sé, porque se ven como iguales... se ven como iguales los ángulos.
8	Profesor 2	Pero tú los estas poniendo [los puntos] sobre la circunferencia.
9	Luis	Sí.
10	Profesor 2	¿Por qué?
11	Luis	Hay sí no sé [risas]
12	Profesor 2	Pero hay sí debes tener una razón, ¿por qué no los pusiste por aquí o por acá? [señalando una parte que no es parte de la circunferencia]
13	Luis	Porque tienen que estar en la circunferencia, ¿No?
14	Profesor 2	¿Pero tiene que ver algo con lo que has hecho antes?

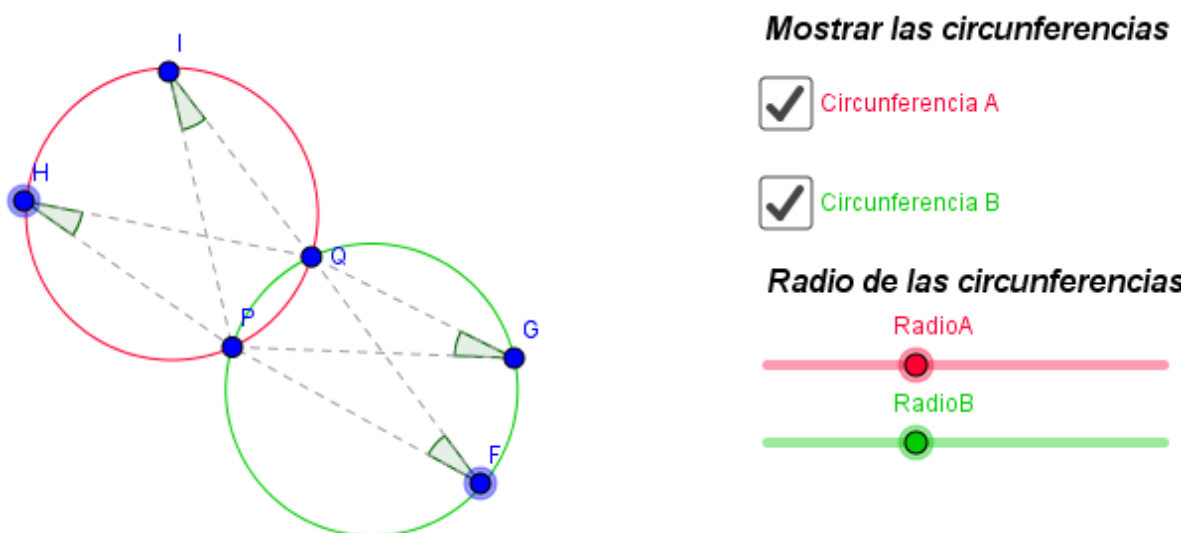


Figura 138. Configuración que el estudiante Luis obtuvo al finalizar la etapa Construye de la tarea 2.

Como se puede inferir de la transcripción y de la configuración que se puede ver en la Figura 138, el estudiante, para hacer que los cuatro ángulos tuvieran las mismas medidas, se fijó en que los vértices de los ángulos debían ir sobre las circunferencias y que estas debían tener igual radio. Lo que él desconocía era la razón por la que esto sucedía.

En ese momento Luis se encontraba inquieto por hallar la manera de justificar su respuesta. En un intento por motivar la exploración de Luis, el docente le pidió que moviera el punto H a otra posición, a lo que el estudiante respondió moviendo a H sobre la circunferencia [MAV, FVS, 0]. El docente le preguntó la razón por la que arrastró el punto sobre la circunferencia y Luis no supo dar respuesta. El docente le solicitó arrastrar a H fuera de la circunferencia como se puede apreciar en la Figura 139 y le pidió comparar los ángulos en H e I. Luis se mostró confuso

respondiendo en un primer instante que no eran iguales, luego de una breve pausa cambió su opinión manifestando que sí lo eran. [MAV, FVS, EAE].

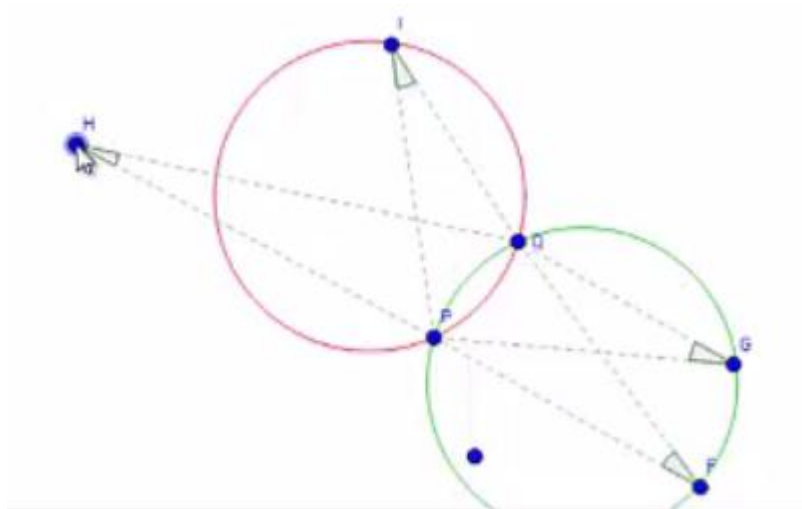


Figura 139. Configuración que el estudiante Luis construye. Etapa 6 de la tarea 2.

El docente solicitó al estudiante poner a H dentro de la circunferencia y él arrastró a H como se puede ver en la Figura 140.a. El profesor nuevamente solicitó comparar los ángulos, a lo que el estudiante respondió afirmando que no son iguales [se refería a que la medida de los ángulos H e I no es igual]. Sin embargo, algo interesante surgió, pues el estudiante intentando convencerse realiza un arrastre que le permitió evidenciar que los ángulos miden distinto, la configuración luego del arrastre puede ser observada en la Figura 140.b. Esta configuración fue la que le permitió al estudiante una evidencia de la relación que él sospechaba [MAT, FVG, EAD].

Algo similar realizó para cuando el vértice de uno de los ángulos se encontraba fuera de la circunferencia, comparándolo con otro ángulo cuyo vértice está en la circunferencia. Caso que ya había sido explorado por el estudiante, cuando mencionó que los ángulos median igual. Él arrastró los puntos H e I hasta obtener una configuración como la observada en la Figura 141. Tras lo cual afirmó que en este caso, los ángulos no miden igual [MAT, FVG, EAD]. Entonces escribió su respuesta: “por que al estar en la circunferencia los puntos deben tener la misma medida”. [sic]. [MAT, FVF, EAD].




Figura 140. Configuración para comparar la medida de 2 los ángulos con vértices uno en la circunferencia y otro dentro de la misma

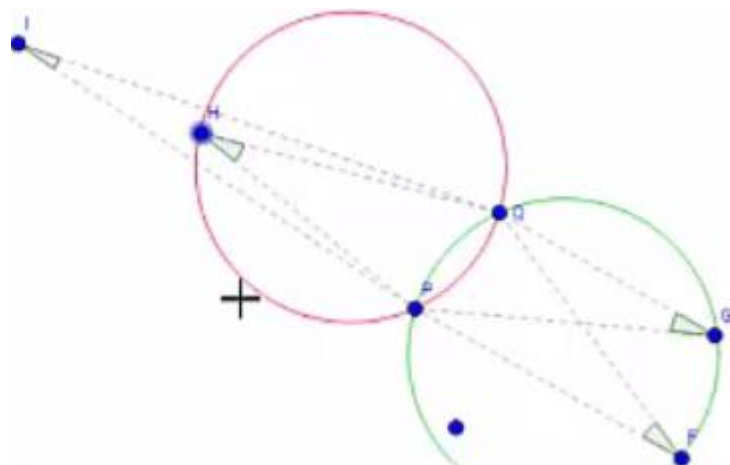


Figura 141. Configuración para comparar la medida de 2 los ángulos con vértices uno en la circunferencia y otro fuera de la misma

El estudiante intentó explicar sus hallazgos al docente pero él le sugirió utilizar las herramientas para mostrar lo que quiere comunicar. Se utilizó el applet de GeoGebra para tal fin, ahora Luis es quien realiza las construcciones, por lo que debió familiarizarse con el entorno antes de obtener una construcción como la que buscaba.

Luis se propuso hacer dos ángulos de 90° . Para ello trazó una circunferencia (centro-punto), pidió utilizar la cuadrícula, trazó un par de segmentos a manera de cruz (cuyos extremos B, D, E y F están en la circunferencia) y mencionó que allí tenía 4 ángulos de 90° (Figura 142.a.). El docente le indicó, que en esa configuración los 4 ángulos rectos no tienen relación con la circunferencia, razón por la que en algún momento Luis usó el applet de la tarea 1 (etapa Explora) para recordar.

Luego de ver el applet él trazó los segmentos EB y BD (Figura 142.b.), tras lo cual mencionó que allí se encuentra un ángulo de 90° . Por solicitud del docente él midió el ángulo y se percató que la medida es cercana a 90° , tras lo cual el docente pidió arrastrar el punto E a otro lugar. Al hacer esto, el estudiante lo arrastró al lugar que se puede apreciar en la Figura 142.c. y mencionó que la medida del ángulo dista de los 90° [MAT, FVG, EAE]. Luis, al ser cuestionado por el docente sobre por qué cambió la medida, reconoció que es porque el segmento ED ahora no es diámetro. [MAT, FVF, EAD].

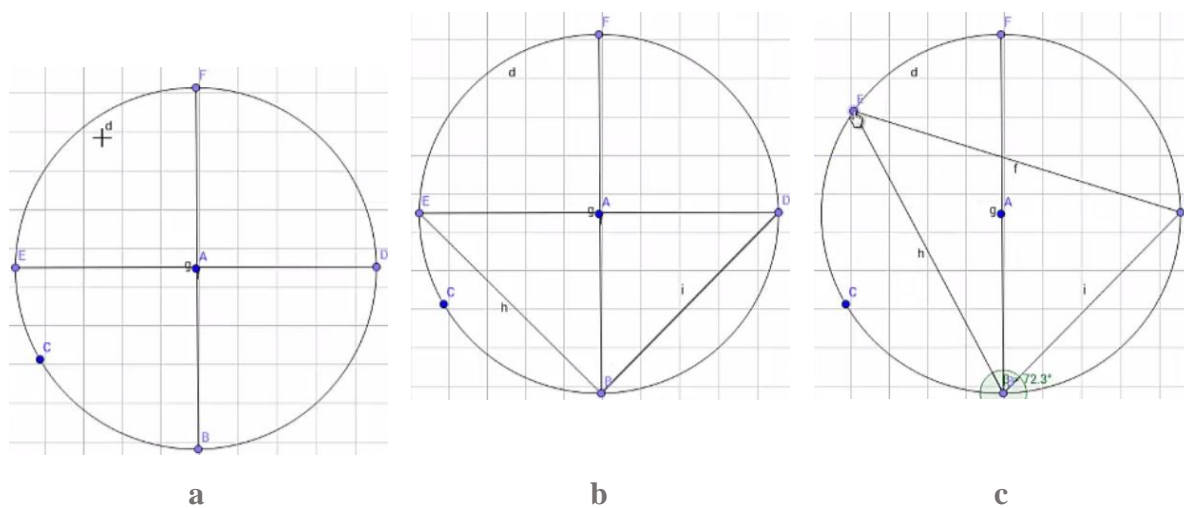


Figura 142. Construcción realizada por el estudiante con el propósito de construir ángulos de 90° sobre una circunferencia.

El docente trazó una circunferencia y marcó un diámetro en ella, luego solicitó al estudiante realizar de nuevo la exploración, por lo que el estudiante marcó algunos puntos sobre la circunferencia y dejó uno muy cerca pero no en ella. Como en la anterior construcción, él midió el ángulo determinado por los extremos del diámetro con vértice en un punto en la circunferencia, obteniendo esta ocasión una medida exacta de 90° . El estudiante arrastró el punto vértice (enlazado a la circunferencia) y se fijó que la medida era de 90° sin importar la ubicación de este punto. Él estudiante mencionó que si un lado del triángulo era un diámetro y el otro vértice se encontraba en la circunferencia media 90° , acto seguido, el docente le solicitó medir el ángulo formado por los puntos extremos del diámetro y con vértice en el punto cercano a la circunferencia, con lo que el estudiante reconoció que no medía 90° , si no que esta medida se acercaba o alejaba de acuerdo a la cercanía del vértice a la circunferencia [MAT, FVF, EAD].

Luego de esto, el docente y estudiante sostuvieron la siguiente conversación. En esta se pudo evidenciar una fuerte tendencia a relacionar la tarea 2 con la tarea 1. Como se comentó anteriormente, él esperaba que la figura siempre fuera una circunferencia, pero al desarrollar la etapa Construye, él no relacionó la existencia de dos circunferencias, aunque da una respuesta correcta. Podemos presumir dos cosas:

- La actividad le permitió llegar a la respuesta correcta de maneras que se escaparon a la percepción de quienes realizamos este análisis.
- El uso de la tarea proporcionó al estudiante herramientas que le permitieron dar solución –correcta en este caso- a las preguntas realizadas, sin embargo, la interacción con un docente le permite potenciar sus hallazgos y despejar dudas surgidas durante la interacción con el applet.

15	Luis.	Casi 92 [grados]
16	Profesor 2	Casi, ¿cierto?... y si lo pones [el vértice del ángulo] sobre la circunferencia, ¿Qué pasa?
17	Luis.	Parecería pero no... no se acerca bien a los 90 [grados].
18	Profesor 2	Si lo pones por fuera de la circunferencia [refiriéndose al punto que es vértice del ángulo]...
19	Luis.	Se aleja.
20	Profesor 2	Más o menos [refiriéndose a si el valor de la medida del ángulo es mayor o menor a 90°].
21	Luis.	Menos [la medida del ángulo es menor a 90°].
22	Profesor 2	Y si lo pones por dentro [si arrastra el vértice a un lugar dentro de la circunferencia]...
23	Luis.	Más [la medida del ángulo es mayor a 90°].
24	Profesor 2	¿Y qué pasa si lo haces con un segmento que no sea el diámetro?
25	Luis.	Pues pareciera pero no...
26	Profesor 2	Pues haga la misma construcción, pones una circunferencia y pones un segmento que no sea el diámetro, que sea una cuerda.
27	Luis.	Pues igualito a la que estaba acá [refiriéndose a la primera construcción realizada por él].
28	Profesor 2	¡No!
29	Luis.	La que estaba acá tenía una cuerda [refiriéndose al segmento ED (Figura 35.c)].
30	Profesor 2	Ah! esa es una cuerda, sí señor... sí, esa, mueve el ángulo para ver qué pasa.
31	Luis.	No es 90°, 79° [grados] mide 79.
32	Profesor 2	¿Pero mide lo mismo?
33	Luis.	Pero no tiene la...
34	Profesor 2	Mueve el segmento, mueve la cuerda.
35	Luis.	¿Cuál?, ¿esta?
36	Profesor 2	Sí, la que forma el ángulo... y mira qué pasa con el ángulo.
37	Luis.	46 [grados] huy queda igual... y ¿por qué?...

38	Profesor 2	¿Tendrá explicación eso?
39	Luis.	¡De pronto!
40	Profesor 2	No fue la segunda actividad.
41	Luis.	No, fue en la primera... en la primera aparecía 90 [grados].

10.4.3. Tarea 3. Equidistancia

En el desarrollo de esta tarea Luis realizó pocos arrastres erráticos, mientras que las modalidades de arrastre para ajustar, guiado, en línea, de lugar mudo y, limitado estuvieron más presentes. Las funciones de variación presentes en el quehacer de Luis corresponden a solo dos de las cuatro categorías: contraste y separación, por otro lado, los esquemas de argumentación que el estudiante produjo fueron de tipo de recuento factico y empíricos. Durante el desarrollo de esta etapa, Luis no tuvo inconvenientes para realizar las construcciones propuestas, el uso dado a la herramienta *Mostrar Huella* no reportó dificultades para el estudiante quien se vio cómodo las veces que debió utilizarla. Las respuestas a las diferentes etapas fueron acertadas aunque los argumentos no llegaron a ser del tipo analíticos.

Construye. 1. Usa las herramientas de GeoGebra para ubicar un punto que esté a la misma distancia de los puntos A y B, respectivamente. Explica cómo ubicaste el punto.

En esta etapa el estudiante utilizó la herramienta *Punto* y ubicó un punto en pantalla, durante un breve momento hizo arrastre sobre el punto creado e intentó ubicarlo de tal manera que cumpliera la condición (Figura 143.a) [MAPA, FVC, 0]. Aunque el punto parecía estar a igual distancia de A y de B, él quiso verificar si en efecto el punto cumplía o no con la condición de equidistar de ellos, por lo que buscó en el menú y utilizó la herramienta *Distancia o Longitud* para determinar las distancias del punto creado a los puntos A y B (Figura 143.b). Esta acción hizo que fuera visible la etiqueta ‘G’ del punto creado.

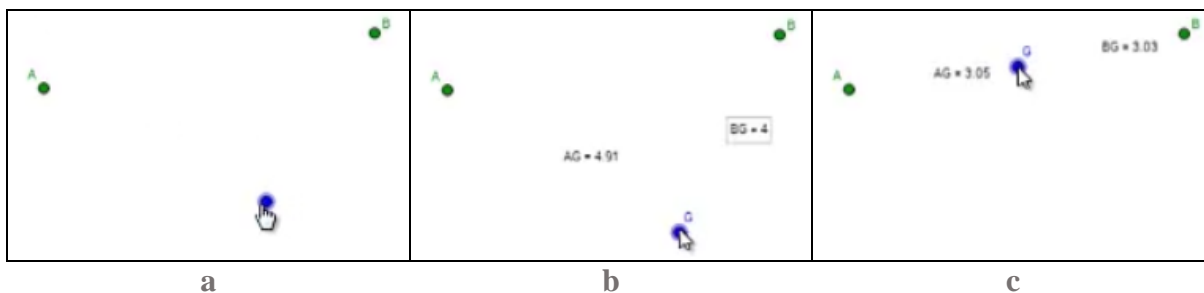


Figura 143. Construcción y arrastres realizados por el estudiante Luis durante el desarrollo de la etapa Construye de la tarea 3.

Como estas distancias eran diferentes, arrastró el punto G intentando igualarlas. Inicialmente ensayó arrastrando G a lugares cercanos al lugar donde se encontraba, luego intentó ubicar el punto como si este se tratase del punto medio del segmento AB (Figura 35.c), acercándose bastante a lo solicitado y guiándose por la medida de las distancias [MAG, FVC, 0] que eran 3.05 y 3.03 unidades. Intentando hacer arrastres muy delicados se acercó en varias ocasiones a la igualdad de medidas buscada, sin embargo, la búsqueda en cercanías al punto medio entre A y B no fue exitosa, a causa, por ejemplo, del zoom y del uso de dos cifras decimales, entre otras. Finalmente, el estudiante optó por desplazar el punto G por diferentes lugares de la pantalla (Figura 144 a-e.) hasta hallar la igualdad requerida (Figura 144.f) [MAPA, FVC, 0].

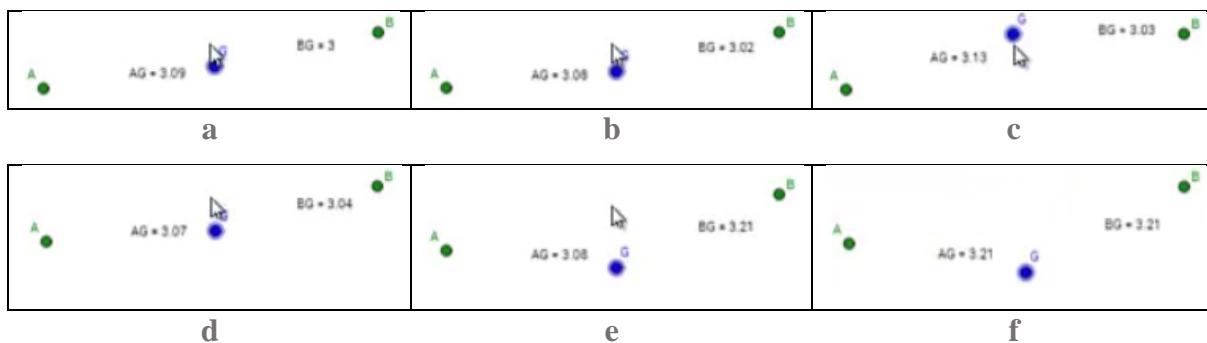


Figura 144. Secuencia de arrastre realizada por estudiante 1 durante la etapa Construye de la tarea 3.

Aunque el estudiante ignoraba el lugar por donde debía desplazarse G en búsqueda de la igualdad de medidas, la exactitud de dos cifras decimales le obligó a concentrar sus movimientos en regiones cercanas a la mediatriz, evidencia de ello se puede encontrar en la secuencia de imágenes de la Figura 144. Aunque este arrastre podía pensarse como uno en la modalidad de arrastre del lugar mudo, no lo hemos clasificado así pues la intención del estudiante al arrastrar el punto no era identificar el camino que sigue el punto para cumplir la propiedad.

Luego de arrastrar el punto G a un lugar en el que las medidas hasta A y hasta B fueran iguales, el estudiante procedió a dar respuesta a la pregunta. Él escribió: “Use la herramienta de punto y lo coloque y medi la longitud o distancia del punto A al punto G y otra del punto B al punto G

y empecé a acomodar el punto G de tal forma que dieran la misma medida” [sic] [MAPA, FVC, EAR].

Luego, el estudiante avanzó a la siguiente etapa, *Explora. 2. ¿Cómo podrías comprobar que el punto que ubicaste está a la misma distancia de A y de B usando las herramientas de GeoGebra?*

Sin realizar arrastre alguno, pues la situación no lo requería ya que los arrastres hechos durante el desarrollo de la primera etapa fueron suficientes, Luis inicio la escritura de su respuesta: “lo podría comprobar con la herramienta distancia y longitud”, interrumpió la escritura y luego de tomarse un tiempo completó su respuesta así: “lo podría comprobar con la herramienta distancia y longitud para que ese punto de la misma medida de los otros dos puntos” [sic] [MAPA, FVC, EAS]. Consideramos que esta afirmación, en la que el estudiante involucra lo que para él es el soporte que lo llevó a convencerse y determinar que se satisface o no la condición, se corresponde con un esquema de argumentación simbólico pues hace uso del lenguaje de forma poco consistente.

El estudiante avanzó e inició la lectura en voz alta de la instrucción, *Anticipa. 3. ¿Crees que puedes encontrar más puntos que estén a la misma distancia de A y de B? ¿o el punto que encontraste es el único? Explica tu respuesta.*

Luis arrastró el punto G buscando igualdad de medidas, en esta ocasión, él se alejó del camino de la mediatriz que había recorrido sin darse cuenta durante la primera etapa de esta tarea. Rápidamente obtiene otra igualdad de medidas [MAPA, FVC, 0]. En este caso la distancia de A a G y de B a G es 4.25 unidades (Figura 145). Luego, marcó la opción Sí como respuesta a la pregunta *¿crees que puedes encontrar más puntos que estén a la misma distancia de A y de B?* e inició la explicación de su respuesta, “Pues en realidad hay muchisi” y antes de completarla, arrastró el punto hasta encontrar otro lugar que cumplía la condición manteniendo las medidas lo más parecidas posible, luego continuó con la escritura de su respuesta: “Pues en realidad hay muchisimas partes donde ubicar puntos que estén a la misma distancia de A y B”. [sic]. [MAG, FVC, EAE].



Figura 145. Configuración obtenida por el estudiante 1 al desarrollar la etapa Anticipa de la tarea 3.

El estudiante dio clic para avanzar a la siguiente etapa y leyó en voz alta: *Verifica. 4. Mueve el punto rojo tratando que la distancia hasta A y hasta B sea la misma. Al finalizar el movimiento, Habilita la opción Mostrar Huella.*

¿Qué figura se puede formar con todos los puntos azules cuando la distancia es la misma? Explica tu respuesta.

Luis tomó el punto rojo y lo arrastró, en unos primeros instantes de forma algo desordenada [MAE, FVC, 0] y luego, usando las distancias como guía, hizo un corto recorrido arrastrando el punto sobre el camino en el que estas se mantenían iguales [MAG, FVC, 0]. Luis habilitó la opción *Mostrar Huella* (Figura 146.a) y, extrañado por la figura visualizada, decidió arrastrar el punto rojo utilizando como guía el rastro de puntos azules; este nuevo arrastre del punto rojo quedaba marcado por una cola de puntos azules pues estaba activa la opción *Mostrar Huella* (Figura 146.b), pensamos que este arrastre le sirvió a Luis para identificar lugares donde no se cumplía la condición y el camino que debía seguir para que si la cumpliera [MAG/MAEL, FVC/FVS, 0]. Antes de continuar, desactivó la opción *Mostrar Huella*, luego hizo acercamiento de pantalla y, transcurrido un tiempo, continuó el arrastre ininterrumpido haciendo uso del teclado [MALM, FVS, 0]. Consideramos que el arrastre coincide con la modalidad de lugar mudo pues Luis arrastró el punto siguiendo un camino que mantuvo la igualdad de las distancias. El camino que el estudiante siguió se puede observar en la Figura 147.a. Adicionalmente, lo hecho por Luis se corresponde con la función de variación separación pues él cambió un aspecto de la configuración (el punto rojo) mientras que otros aspectos se mantuvieron invariantes, por ejemplo, la igualdad de medidas y la posición de los puntos A y B.



Figura 146. Secuencia de arrastre realizada por estudiante Luis durante la etapa Verifica de la tarea 3.

En algún momento del arrastre Luis se detuvo y marcó la opción *Mostrar Huella*, observó y desmarcó la opción y quiso continuar haciendo arrastre del punto, desafortunadamente al no estar seleccionado el punto él modificó la escala lo cual creemos le causó incomodidad en los arrastres, tiempo después el docente se percató del cambio de escala y ajustó la vista.

Luis arrastró de manera constante el punto rojo hasta alcanzar la parte superior de la pantalla, guiado por el valor de las distancias [MAG/MALM, FVS, 0], allí decidió habilitar la opción *Mostrar Huella*. Al hacerlo reveló un camino que en partes se antojaba como una recta en contraste con algunos sectores en donde se notó una ligera curva. Tal vez por ese motivo Luis arrastró de nuevo el punto rojo hasta estar más seguro y poder responder. Para iniciar el arrastre, Luis tuvo que mover de lugar los últimos puntos azules pues se encontraba activa la opción *Mostrar Huella* [MAEL, FVS, 0] (Figura 147.a), finalmente convencido de su respuesta (Figura 147.b), ingreso: “forme como una clase de línea” [sic]. [MAEL, FVS, EAE].



Figura 147. Configuración obtenida por el estudiante Luis al desarrollar la etapa Verifica de la tarea 3.

Posteriormente Luis avanzó a la siguiente etapa *Construye. 5. Con las herramientas de Geogebra, construye la figura que supones se forma con todos los puntos azules, ¿Cómo la construiste?*

En esta etapa no tardó mucho en completar la instrucción (Figura 148). Para ello utilizó la herramienta *Segmento* y dos de los puntos que dejó la herramienta *Mostrar Huella*, y así lo relató en su respuesta “la construi poniendo un segmento del primer punto azul hast el ultimo punto azul” [sic] [MAEL, FVS, EAR].

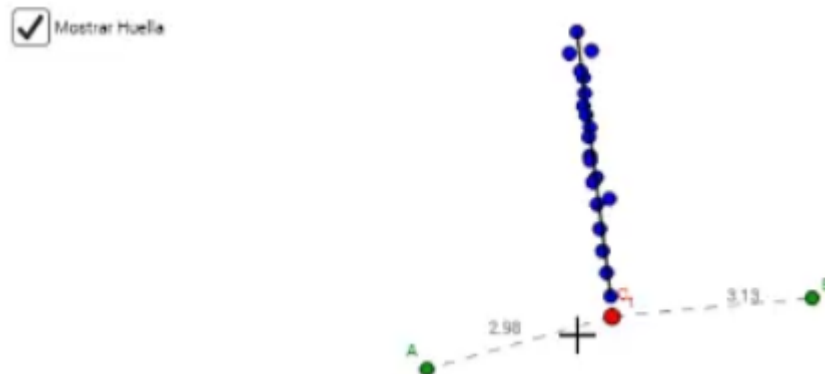


Figura 148. Configuración obtenida por el estudiante 1 al desarrollar la etapa Construye de la tarea 3.

Así pasó a la etapa siguiente: *Concluye. 6. Haz clic derecho sobre el punto Rojo y activa la opción Rastro. Luego, mueve el punto rojo tratando que la distancia hasta A y hasta B sea la misma. Escribe una conclusión.*

El estudiante activó la opción de rastro, hizo el arrastre atendiendo a que las distancias fueran lo más similares posible, de esta manera, transcurridos unos segundos, obtuvo el rastro (Figura 149) del que se valió para escribir su respuesta: “que ese rastro forma un segmento” [sic] [MARA, FVS, EAE].

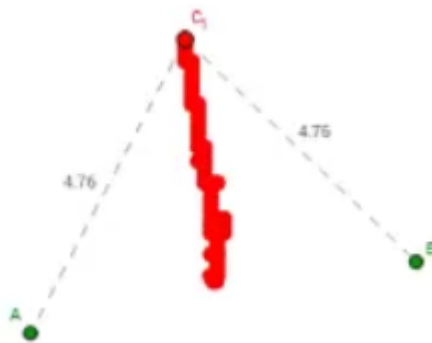


Figura 149. Configuración obtenida por el estudiante Luis al desarrollar la etapa Concluye de la tarea 3.

En la etapa siguiente se presentó al estudiante la siguiente instrucción que él leyó en voz alta: *Información. 7. Los puntos que están a la misma distancia de dos puntos dados P y Q , se encuentran sobre una recta denominada mediatriz del segmento PQ . En pantalla encuentras construida la mediatriz del segmento PQ . Mueve los puntos y observa lo que sucede.*

El estudiante hizo lo solicitado en la instrucción, movió el punto P , uno de los extremos del segmento PQ . Luego, hizo lo mismo con el punto Q haciendo que la configuración variara bastante en forma y tamaño (Figura 150.a) [MAE, 0, 0]. Al arrastrar el punto C , un punto sobre la mediatriz, Luis se detuvo a observar la distancia, por ejemplo, al estar cerca del punto medio del segmento PQ (Figura 150.b) o al encontrarse lejos del segmento (Figura 150.c) [MAL, FVS, 0]. A continuación, ajustó la vista de pantalla, arrastró a C hasta lugares lejanos del segmento y procedió a mover de nuevo los puntos extremos del segmento. Hizo más arrastres antes de dirigirse al docente, a quien luego cuestionó sobre qué más debía realizar. El docente le instó a realizar lo que se solicitaba en la instrucción. Él hizo otros arrastres y mencionó al docente la relación que encontró entre el segmento y la mediatriz; dijo que si se movía el segmento la mediatriz también lo hacía y que al mover C no se movía nada más pero las distancias si se mantenían iguales. Finalmente continuó a la siguiente etapa. [MAL, FVS, EAR/EAE].

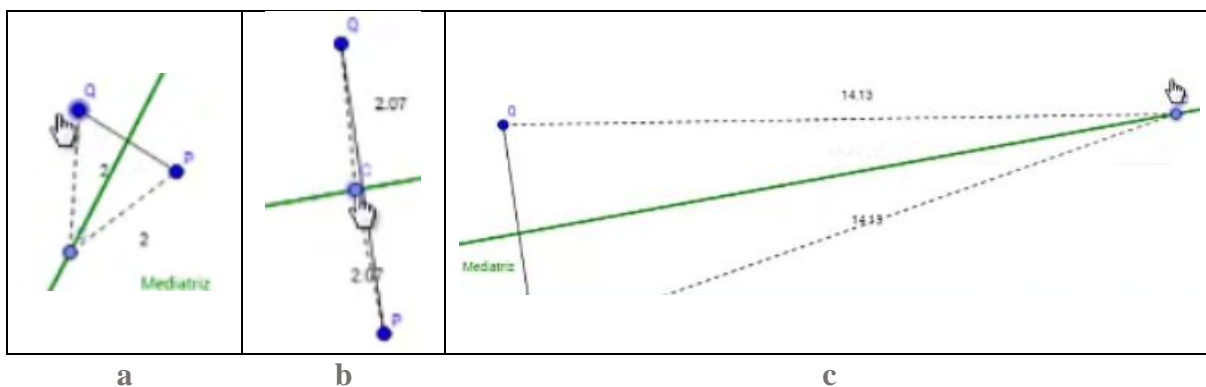
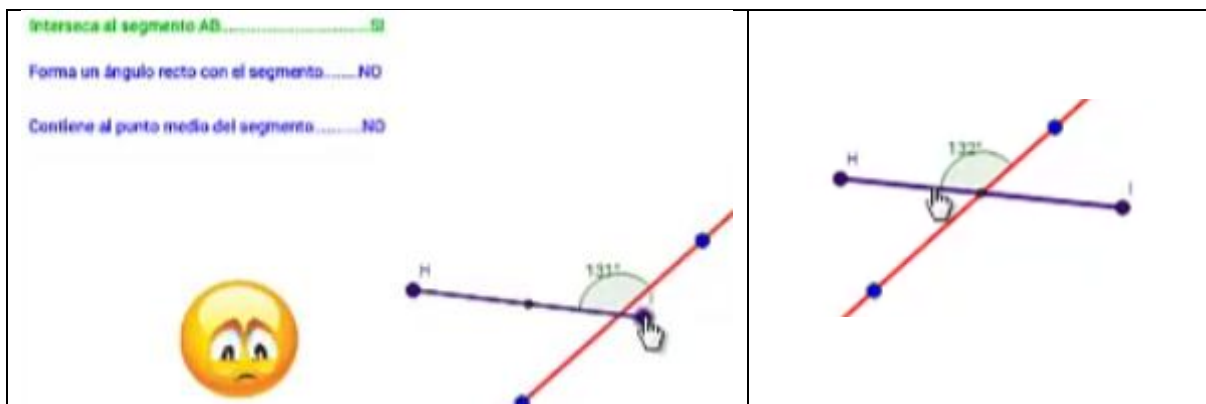


Figura 150. Arrastres y desarrollo de la etapa Información de la tarea 3.

Explora: 8. Mueve los puntos para lograr que la recta cumpla las condiciones mostradas a la izquierda. Observa lo que sucede cuando todas las condiciones se cumplen.

Como fue costumbre, el estudiante leyó en voz alta las indicaciones para esta etapa, se dirigió al docente y preguntó si las condiciones son estas mientras señalaba la parte superior izquierda de la pantalla (Figura 151.a.) El docente le respondió que sí eran esas y que debía lograr que esas condiciones pasaran a “sí” mediante movimientos de los objetos allí involucrados.

Luis movió inicialmente los puntos extremos del segmento por varias partes [MAE, 0, 0]. Se encontraba arrastrando al punto I cuando este llevó al segmento a extenderse tanto que intersecó la recta. Sucedieron dos cosas en las que se fijó Luis, en primer lugar, apareció marcado el ángulo que formaban la recta y el segmento al intersecarse y, segundo, cambió de azul a verde la primera condición, la que dice *Interseca al segmento AB* (Figura 151.a.). Luego de unos momentos, Luis tomó al segmento y lo arrastró hasta hacer coincidir el punto medio de este con la intersección de la recta y el segmento (Figura 151.b). [MAPA, FVC, 0].



a

b

Figura 151. Arrastres realizados por estudiante Luis al desarrollar la etapa Explora de la tarea 3.

Luis continuó arrastrando los puntos H e I por distintos lugares pero se le dificultó hacer cumplir al tiempo las tres condiciones. Sin embargo, al arrastrar los puntos que determinaban la recta ideó una estrategia: él arrastro uno de los puntos que determinaban la recta hasta hacerlo coincidir con el punto medio del segmento HI, con lo cual aseguró que la primera y tercera condición se cumplieran (Figura 152.a), esto le permitió ajustar el otro punto hasta cumplir las tres condiciones (Figura 152.b) [MAPA, FVC, 0].

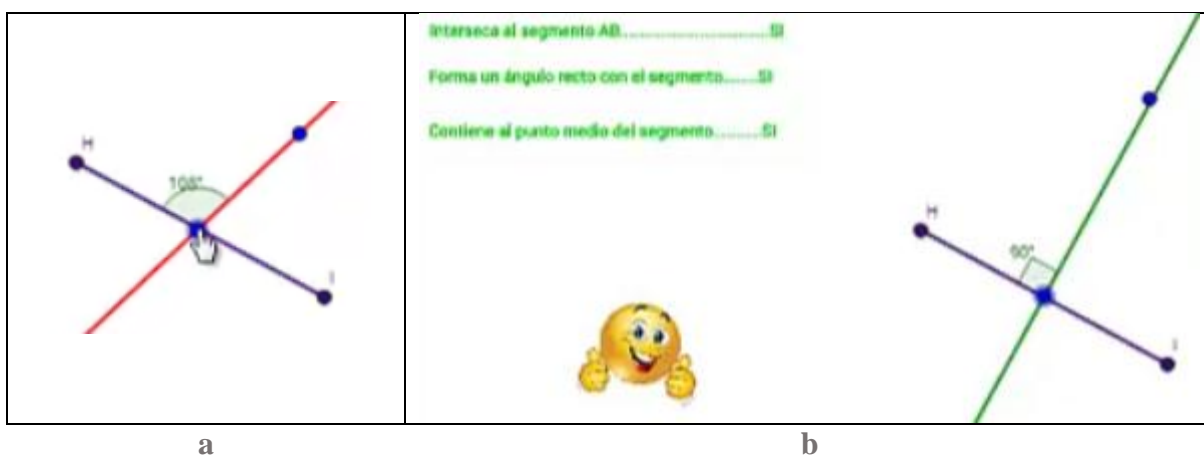


Figura 152. Arrastres realizados por estudiante Luis al desarrollar la etapa Explora de la tarea 3.

Explora. 9. ¡Excelente! Lograste que la recta cumpla las condiciones. Ahora aparece en la recta un punto especial S, muévelo ¿Qué sucede con la distancia del punto S a los extremos del segmento HI?

El estudiante tomó el punto S, que pertenece a la mediatriz del segmento HI, y lo arrastró (Figura 153.a) por las distintas partes que la pantalla le permitió, adicionalmente hizo acercamiento y de nuevo realizó arrastre (Figura 153.b) tras lo cual hizo varios alejamientos de la pantalla y arrastró lo más lejos posible el punto S (Figura 153.c). El estudiante comentó una reflexión al docente, dijo: “cada vez que se aleja [el punto S] del segmento la medida aumenta, ¿no?” [MAL, FVS, EAE]. El docente creyó que el estudiante daba esa afirmación como respuesta a la pregunta e intentó obtener información preguntando ¿qué sucede con la distancia del punto S a los extremos? Él señaló en la pantalla desde S hasta H y desde S hasta I, el estudiante respondió sin dilación “tienen la misma medida”. El profesor cayó en cuenta que el

estudiante conocía la respuesta a la pregunta y que seguramente la afirmación hecha por Luis respondía a un hallazgo adicional, razón por la que luego sostienen la siguiente conversación que, junto con la afirmación antes hecha por el estudiante, se convierten en evidencias de conjeturación:

1	Profesor 1	Lo que tú decías también es importante... porque si tú lo alejas [el punto del segmento] la distancia...
2	Luis	Aumenta
3	Profesor 1	Y si lo acercas...
4	Luis	Disminuye
5	Profesor 1	¿Dónde va a medir menos? [se refiere a donde la distancia del punto S a los extremos del segmento HI es menor]
6	Luis	[Tomó el punto S y lo arrastró hasta el punto medio del segmento HI] acá donde... donde pone acá.
7	Profesor 1	En el centro [refiriéndose al punto medio del segmento HI]... en el centro de ¿qué?
8	Luis	Del segmento

Al finalizar la conversación el estudiante inició la escritura de la respuesta a la pregunta y escribió: “el punto S siempre queda a la misma distancia de los puntos H y I” [sic]. [MAL, FVS, EAE].

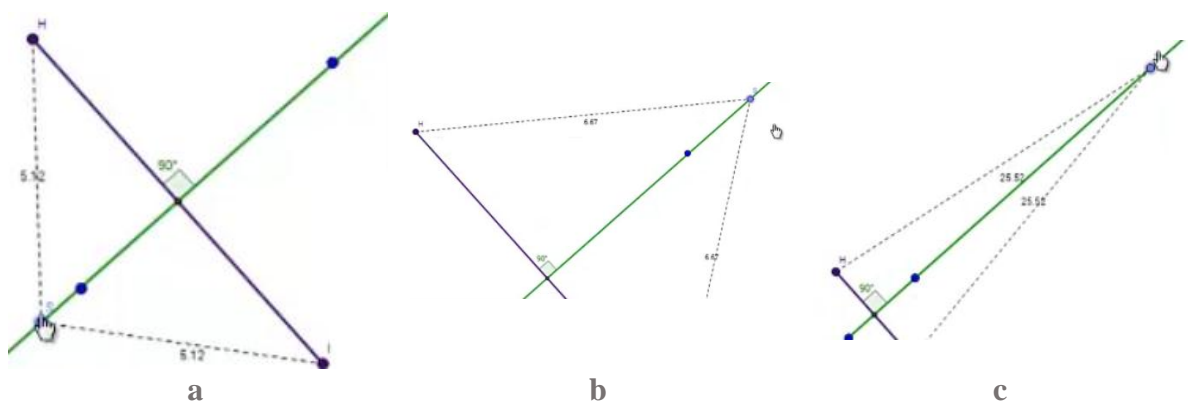


Figura 153. Arrastres y desarrollo de la etapa Explora de la tarea 3.

Por último, Luis pasó a la siguiente y última etapa de esta tarea: **Concluye. 10.** *¿Qué condiciones debe cumplir la recta para que los puntos sobre ella se encuentren a la misma distancia de los extremos del segmento?*

Luis intentó desarrollar esta parte de la tarea con recuerdos de lo hecho antes, sin embargo, se apoyó en la herramienta que le permitía regresar a las etapas anteriores, regresando dos etapas

(Figura 152.b), para poder dar respuesta a la pregunta. La respuesta dada por el estudiante fue: “QUE LA RECTA TENGA UNA INTERSECCION Y QUE EN ESA INTERSECCION FORMAR UN AGULO RECTO , QUE LA RECTA PASE POR LA MITAD DEL SEGMENTO” [sic] [0, 0, EAR].

10.4.4. Tarea 4. Circunferencia por dos puntos

En el desarrollo de esta tarea surgieron algunos inconvenientes en las construcciones realizadas por el estudiante debido a que él intentó que las construcciones fueran robustas y resistieran en arrastre. Luis logró superar los inconvenientes con las construcciones y en su quehacer logramos evidenciar arrastres erráticos, para ajustar, limitados, guiados y muchos arrastres de tipo test, la gran cantidad de arrastres tipo test se deben al deseo del estudiante por conseguir construcciones robustas. Los arrastres realizados nos permiten afirmar correspondencia con las funciones de la variación contraste, separación y generalización, mientras que las afirmaciones realizadas por Luis durante el desarrollo de la tarea se corresponden mayoritariamente a los esquemas de argumentación de recuento fáctico y empírico. Las respuestas fueron acertadas exceptuando la dada en la etapa 3.

Luis leyó en voz alta la instrucción: *Construye. 1. Usa las herramientas de GeoGebra para construir una circunferencia que contenga a los puntos A y B. Revisa el menú de circunferencias y busca una de las herramientas que te servirá.*

Luego procedió a revisar el menú de *circunferencias* donde seleccionó la herramienta *circunferencia centro y punto*. El estudiante hizo la circunferencia con centro en un punto aproximado al punto medio entre A y B que pasa por el punto A y se percató que la circunferencia trazada no pasaba por el punto B, por lo que arrastró a B sobre la circunferencia. Acto seguido decidió borrar la circunferencia e intentar otra forma de conseguir lo solicitado [MAPA, FVC, 0].

Luis decidió usar a la herramienta *Circunferencia por tres puntos*, para ello usó los puntos A, B y un punto en medio de A y B, lo que le permitió determinar una circunferencia (Figura 154.a), luego procedió a modificar el zoom de la pantalla y el aspecto de la circunferencia arrastrando uno a uno todos los puntos que la definieron (Figura 154.b). Suponemos que Luis arrastró cada

uno de los puntos con la intención de verificar si la construcción cumplía con las propiedades solicitadas [MAT, FVG, 0].

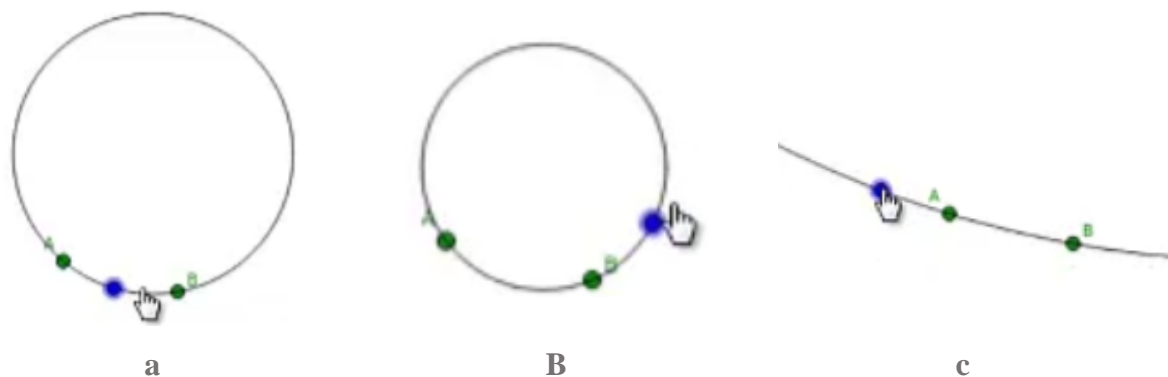


Figura 154. Construcción y arrastres del estudiante Luis durante la etapa 1 Construye de la tarea 4.

El estudiante inició la redacción de su respuesta: “use la herramienta” [sic], en este punto él detuvo la redacción y cambió la configuración arrastrando el punto azul. Presumimos que centró su atención en el cambio que sufría la circunferencia respecto al arrastre sobre el punto, experimentó configuraciones no habituales (Figura 154.c). Al finalizar la exploración dejó la configuración que se observa en la Figura 155 y completó su respuesta: “use la herramienta circunferencia por 3 puntos y seleccione a los dos puntos mencionados y agregue otro punto”. [sic]. [MAT, FVG, EAR]. En este caso, la presencia de un esquema de argumentación de recuento factico no se extraña pues es precisamente lo que se esperaba obtener con la instrucción elegida.

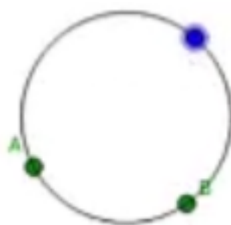


Figura 155. Configuración final del estudiante Luis etapa Construye tarea 4.

En la segunda etapa, Luis volvió al leer la instrucción en voz alta: **Anticipa. 2.** *¿Crees que es posible construir otras circunferencias diferentes que contengan a los puntos A y B? Si_ No_. Explica tu respuesta.*

El estudiante hizo dos intentos por crear circunferencias que pasaran por A y B utilizando la herramienta *circunferencia tres puntos* (Figura 156.a), desafortunadamente al usar la herramienta, Luis no seleccionó los puntos A y B, en lugar de ello, él marcó nuevos puntos cercanos a A y B, este hecho causó que la construcción realizada por Luis al ser arrastrada no conservara las características que se quería cumpliera, es decir, no resistió el arrastre (Figura 156.b). Él se mostró extrañado por lo que observó durante su larga exploración, e intentó obtener respuesta consultando al profesor, Luis explicó el procedimiento que usó para construir las circunferencias y el docente le confirmó que dos de las circunferencias estaban ‘enlazadas’ a puntos que no eran A y B. [MAT, FVG, EAR].

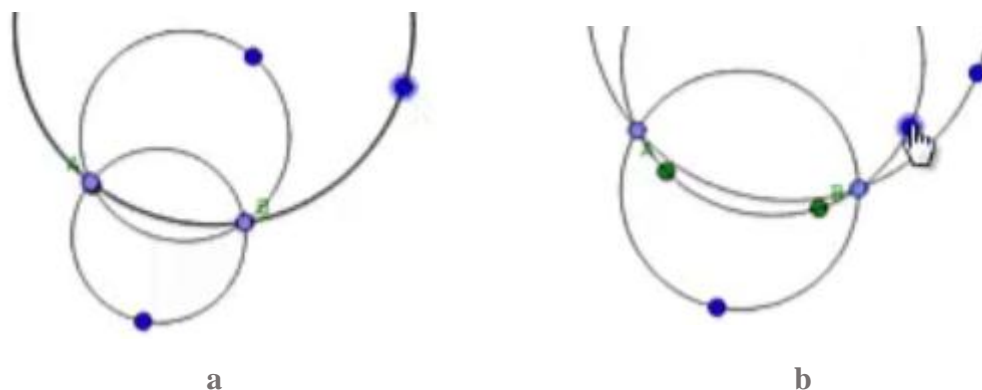


Figura 156. Primer intento de construcción realizado por el estudiante Luis etapa Anticipa tarea 4.

El estudiante borró todo, excepto los puntos A y B, y procedió a intentar de nuevo la tarea. Utilizó la herramienta *Circunferencia centro punto*, así creó la circunferencia con centro en un punto cercano al punto medio de A y B que pasa por A (Figura 157.a), arrastrando luego a B para que coincidiera con la circunferencia (Figura 157.b.) [MAPA, 0, 0]. Luego arrastró al punto A, lo que le permitió evidenciar que la construcción que realizó no resistió el arrastre pues la circunferencia, luego del arrastre no pasaba por el punto B (Figura 157.c.). Tras este proceso, decidió borrar lo construido dejando solamente los puntos A y B, pensamos que convencido por el arrastre test realizado que su construcción no cumplió con las expectativas [MAT, FVG, 0].

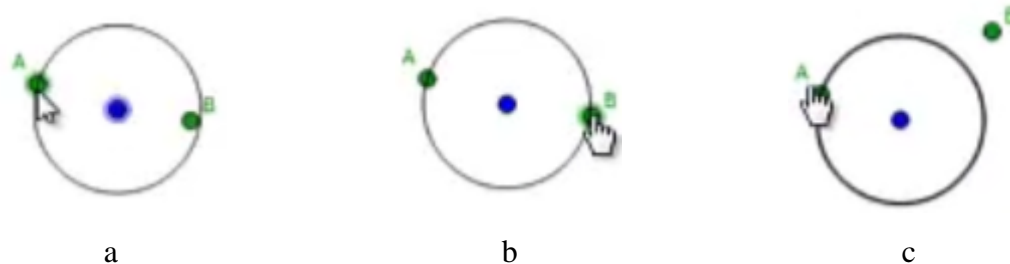


Figura 157. Segundo intento de construcción realizado por el estudiante Luis etapa Anticipa tarea 4.

Una vez más intentó usar la herramienta *Circunferencia centro punto* ubicando un punto cerca al punto medio de A y B. esta ocasión ubicó un punto cercano al punto medio de A y B que usó como centro e iba a usar a B para completar la creación de la circunferencia, pero se detuvo a observar que la circunferencia no pasaba por A. abortó la idea de crear la circunferencia utilizando la herramienta mencionada.

Después de la exploración el estudiante procedió a desarrollar la actividad utilizando la herramienta *Circunferencia tres puntos* nuevamente. Mientras daba clic sobre A, luego sobre B y finalmente sobre un punto en otra parte de la pantalla sostuvo el siguiente diálogo con el docente:

1	Luis	Profe...
2	Profesor 1	[El docente mira la pantalla y se encuentra que Luis estaba utilizando la herramienta <i>Circunferencia Tres Puntos</i> , hasta ese momento había hecho clic en dos y le faltaba hacer clic en un tercer punto]... Bien, esa [circunferencia] con cuántos puntos es, ¿con tres?
3	Luis	Sí, con tres...
4	Profesor 1	Por eso, ahí vas bien. Agrega otro punto. [El estudiante sigue la instrucción]. Ahí pasa por A y B.
5	Luis	Listo... [el estudiante logró hacer una circunferencia que pasa por los puntos A y B] (Figura 158.a).

Durante todo el tiempo el docente se encontraba presente, Luis repitió el proceso con la misma herramienta para crear otras circunferencias, pero cuando el estudiante creó la segunda circunferencia sucedió que al querer dar clic sobre B en realidad no tomó a B sino que se creó un punto sobre B enlazado a la primera circunferencia hecha (Figura 158.b). Ni el docente ni el estudiante se percataron de lo sucedido, así que Luis hizo otra circunferencia en la que usó el mismo punto.

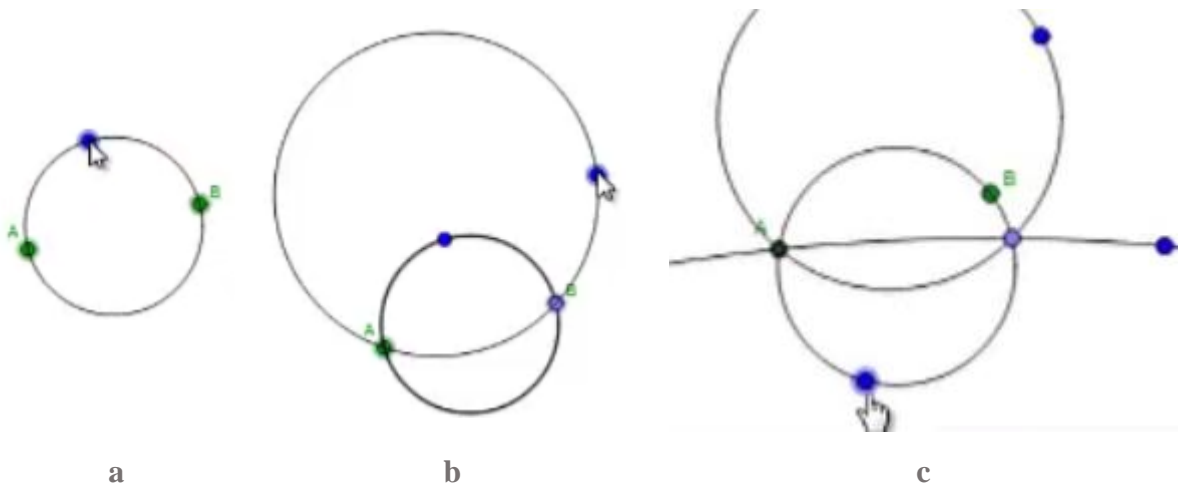


Figura 158. Segundo intento de construcción realizada por el estudiante Luis etapa Anticipa tarea 4.

El estudiante realizó arrastre y se percató que la construcción realizada no cumplía con lo que idealmente debería (Figura 158.c), sin embargo ajustó la construcción blanda (Figura 159) para que las tres circunferencias pasaran por A y B, luego él seleccionó la opción de respuesta *Sí*. Luis contestó: “porque cree varias circunferencias y esas circunferencia contenian a los punto A y B”. [sic] [MAT/MAPA, FVG, EAR].

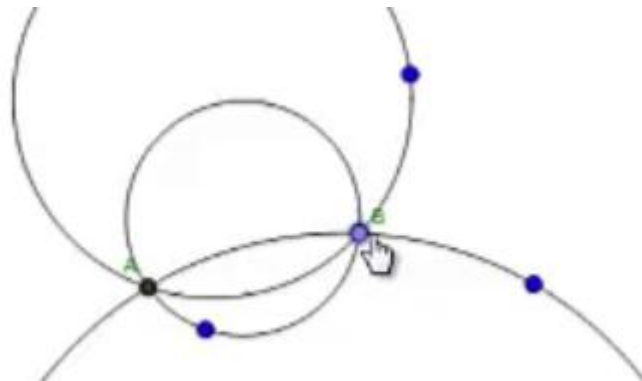


Figura 159. Configuración final del estudiante Luis etapa Anticipa tarea 4.

Luis avanzó a la siguiente etapa y leyó en voz alta, *Verifica. 3. El punto rojo es el centro de la circunferencia que contiene al punto A. Mueve el punto rojo tratando de que la circunferencia contenga al punto B. Al finalizar el movimiento activa la opción Mostrar huella. ¿Qué figura se puede formar con los puntos azules cuando la circunferencia contiene a los puntos A y B?*

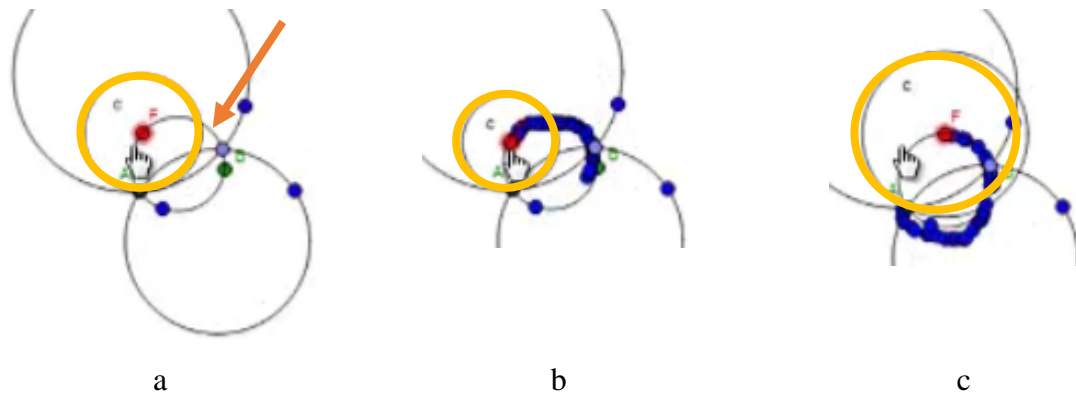


Figura 160. Configuración y arrastre realizado por el estudiante para el desarrollo de la etapa Verifica de la tarea 4.

El estudiante en esta etapa se vio extrañado pues no veía el punto rojo en pantalla. Así que luego de un largo rato ajustó el zoom y empezó a mover el punto rojo por distintos lugares de la pantalla. Suponemos que mientras movía el punto hizo lectura para comprender las instrucciones. Él movió el punto siguiendo la forma de la circunferencia menor (señalada con una flecha, Figura 160.a), luego habilitó la opción *Mostrar Huella* y a continuación arrastró al punto rojo de manera más precisa por sobre la circunferencia (Figura 160.b-c) sospechamos que no comprendió las instrucciones pues lo realizado no concuerda con lo solicitado, es decir, que la circunferencia que se resaltó en color naranja, cuyo centro era el punto rojo, contuviera al punto B, además la respuesta que dio no fue la esperada: “UNA CIRCUNFERENICA” [sic]. Para este caso, la intención del estudiante al arrastrar al punto rojo no es clara, no es claro si él arrastró para ajustar o para verificar, por lo tanto no analizamos esta parte del desarrollo de la tarea.

En la etapa siguiente *Explora. 4*. Luis hizo la lectura de la instrucción en voz alta, *Representa algunas circunferencias que pasen por A y B y encuentra sus centros. Explica cómo lo hiciste.*

El estudiante buscó en el menú de circunferencias y seleccionó la herramienta *Compas*, intentó usar la herramienta para hallar el punto centro de las circunferencias, tarea que por obvias razones no pudo completar. Luego intentó usando la herramienta *Circunferencia Centro Punto*, pero nuevamente falló en su propósito por lo que se dirigió al docente, el diálogo se muestra a continuación:

6	Luis	Profe... [lee en voz alta la instrucción] <i>Representa algunas circunferencias</i>
---	------	---

		<i>que pasen por A y B y encuentra sus centros... ¡No entiendo!</i>
7	Profesor 1	[Ya que el docente vio que el estudiante buscó solo en el menú de circunferencias le dice] Busca en el primer menú de herramientas
8	Luis	[Se desplaza por el menú con la intención de hallar una herramienta que pudiera serle útil, se detiene en un menú]
9	Profesor 1	¿Qué te dice eso? [Haciendo referencia a la herramienta <i>Medio o centro</i> en la que se había detenido el estudiante].
10	Luis	[Hizo clic en la herramienta para su uso y leyó la ayuda de la herramienta (Figura 161)]... ¡Ah! Ya.

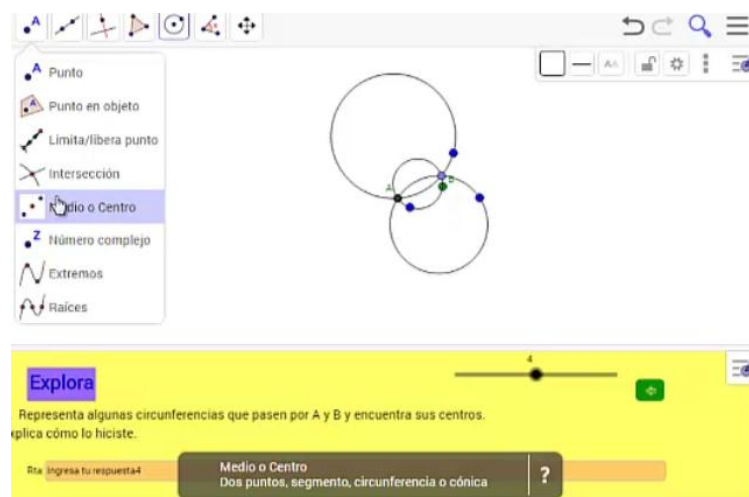


Figura 161. Exploración del menú de herramientas y elección de herramienta *Medio o Centro* para hallar el centro de una circunferencia.

Luego de seleccionar la herramienta *Medio o Centro* el estudiante se muestra indeciso para cómo usarla, así que el docente le dijo “sobre la circunferencia” indicándole así donde debía hacer clic. Él estudiante utilizó la herramienta para hallar los centros de las tres circunferencias que tenía en pantalla (Figura 162) tras lo cual respondió: “LO HICE UTILIZANDO LA HERRAMIENTA MEDIO O ENTRO” [sic]. [0, 0, EAR].

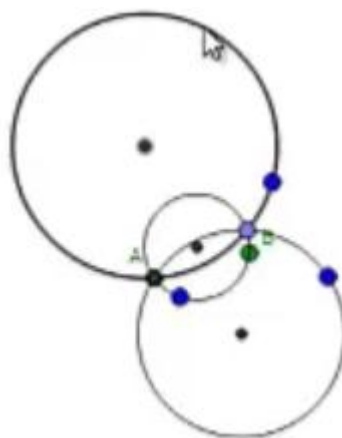


Figura 162. Configuración final del estudiante Luis tras hallar los centros de las circunferencias. Etapa Explora tarea 4.

En la etapa **Generaliza. 5**. Luis leyó en voz alta las instrucciones: *¿Qué tienen en común los centros de las circunferencias que contienen a los puntos A y B? Utiliza herramientas de GeoGebra para verificar tú respuesta.*

Luis, no había encontrado nada en común con los centros de las circunferencias y se dirigió al docente manifestando sus dudas, a lo que el docente le respondió sugiriendo la creación de más circunferencias hasta encontrar algo en común. El estudiante utilizó la herramienta *Circunferencia Tres Puntos* para crear una circunferencia adicional que pasara por A, B y otro punto cualquiera, tras lo cual arrastró ese último punto y comprobó que la circunferencia pasaba por A y B [MAT, FVS, 0]. Luis se dirigió al docente y le mostró, arrastrando el punto que había creado erróneamente durante el desarrollo de la etapa Anticipa, que la construcción no resistía el arrastre. El docente le sugirió dejar las circunferencias que si le servían [aquellas pasaban por A y B tras la prueba de arrastre] por lo cual Luis decidió borrar las que no cumplían la condición y borró también los puntos que quedaron luego de eliminar las circunferencias indeseadas. El docente le mostró que podía ocultar objetos haciendo clic derecho sobre el objeto y desmarcando la opción *Objeto visible*.

Usando las herramientas *Circunferencia por tres puntos* y *Medio o Centro*, el estudiante creó tres circunferencias que pasaran por los puntos A, B y un punto cualquiera. El error se replicó y en lugar de marcar a B como segundo punto en las circunferencias se creó un punto nuevo

sobre la primera de ellas. Luis ocultó el tercer punto con el que creó cada una de las circunferencias. Halló luego el centro de cada una de las tres circunferencias (Figura 163.a) y repitió el proceso para una cuarta circunferencia, ajustando el zoom de la pantalla (Figura 163.b), tras lo cual mencionó “que los puntos [centros de las circunferencias] se van formando como en un segmento” [MAT, FVS, EAE].

El estudiante inició la escritura de su respuesta, sin embargo se detuvo y construyó otra circunferencia, en esta ocasión no ocultó el tercer punto, halló el centro de esta última circunferencia y nuevamente varió el zoom para observar todos los elementos construidos en pantalla (Figura 163.c). Luego arrastró a ese tercer punto enlazado a la circunferencia para variar la apariencia y la posición del centro de esta, lo que le permitió verificar que el centro de la circunferencia se movía describiendo un camino y que este camino no era solo un segmento. Finalmente escribió “que se quedan en una línea recta” [sic] [MAL, FVG, EAE] y avanzó a la siguiente etapa.

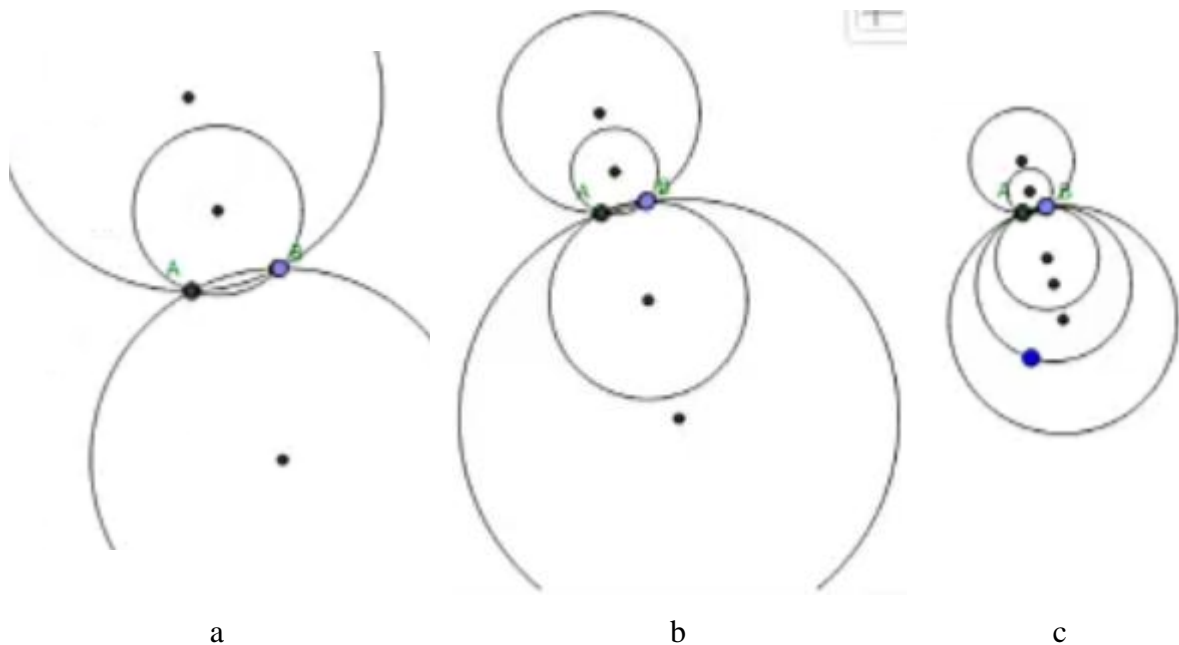


Figura 163. Construcción y arrastre realizado por el estudiante Luis para el desarrollo de la etapa Generaliza de la tarea 4.

Concluye. 6. *Mueve los puntos negros para lograr que la circunferencia con centro S contenga a los puntos A y B . escribe una conclusión.*

Luis intentó arrastrar los puntos A y B, lo cual no consiguió en este primer momento, además el zoom de la pantalla no le permitió mover los puntos negros que determinaban una recta, por lo que llamó al docente y este le sugirió ajustar el zoom. Una vez superó la dificultad por la vista en pantalla el estudiante arrastró los puntos negros en distintas direcciones y se percató que si la recta cortaba al segmento se marcaba un ángulo y su medida, tal vez así evocó una actividad anterior, lo cual manifestó así: “Ah! Lo mismo de la otra vez”. [MAE, FVC, 0].

Evocar la actividad anterior ayudó a Luis a utilizar estrategias distintas para desarrollar esta etapa de la tarea. A saber, una posible respuesta en esta etapa y así lo reconoció Luis es la mostrada en la Figura 164.a pues coincidía visualmente con lo solicitado, En palabras de Luis “¡Ahí da!” [MAPA, FVC, EAE], sin embargo, él continuó explorando. Inicialmente arrastró uno de los puntos negros para que la recta pasara cerca del punto medio de AB (Figura 164.b). Luego, también moviendo los puntos negros, procedió a ajustar el ángulo recto (Figura 164.c) y finalmente arrastró los puntos A y B hasta ajustar con mayor precisión y que estuvieran sobre la circunferencia, claro está, manteniendo la medida del ángulo en 90° . Lo hecho por Luis se corresponde con las modalidades de arrastre para ajustar (que la circunferencia pasara por A y B) y guiado pues mantuvo la medida de 90° , adicionalmente se hizo presente la función de variación separación.

Cabe señalar que la programación del applet le hubiera permitido mayor precisión y una respuesta visual (cambiar el color de la recta a verde si se acercaba más a ser la mediatriz del segmento AB), sin embargo, para Luis fue suficiente e inició la escritura de su respuesta “si ponemos la recta que pase por la mitad de el segmento AB y en esa intersección pones un angulo recto entonces la circunferencia s contiene a los puntos A y B” [sic] [MAPA/MAG, FVS, EAD].

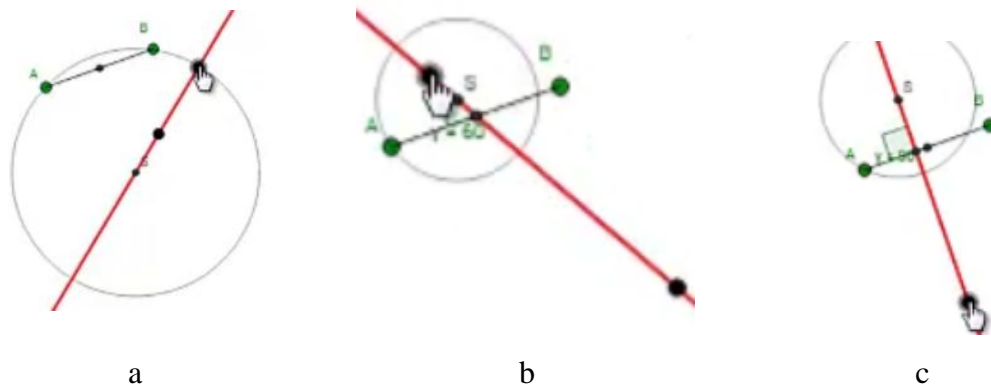


Figura 164. Construcción y arrastre realizado por el estudiante Luis para el desarrollo de la etapa Generaliza de la tarea 4.

Concluye. 7. Mueve el punto S sobre la recta. ¿Qué sucede con la circunferencia y los puntos A y B? Escribe una conclusión.

Luis leyó en voz alta la instrucción e intentó mover a S, la programación del applet se lo impidió por que la recta en ese momento no se acercaba lo suficiente a ser la mediatriz, él movió a uno de los puntos negros [MAE, 0, 0] y luego volvió a buscar que la recta pasara por el punto medio y formara un ángulo de 90° con el segmento. El docente que presenció lo ocurrido le dijo “eso no pasa por el centro [refiriéndose a que la recta no cortaba al segmento por el punto medio]” tras lo cual Luis acercó la vista al punto medio y arrastró la recta para que se cumpliera la condición [MAPA/MAG, FVS, 0]

Como la recta, por los arrastres que Luis hizo, se acercó suficiente a la mediatriz del segmento AB el applet cambió el color de la recta, pasó de rojo a verde y además le permitió mover el punto S enlazado a la recta, lo que se corresponde a una modalidad de arrastre limitado. Luis arrastró a S, observó lo ocurrido y fue cuestionado por el profesor quien le preguntó qué había encontrado, a lo que Luis contestó: “Pues que si movía a los puntos S para cualquier lado... eh... s [forma en que Luis llamó la circunferencia] siempre contenía los puntos [pausa larga] y S no se podía salir de la recta” [MAL, FVS, EAR/EAE]. El docente le solicitó al estudiante que pusiera por escrito todo eso que acababa de mencionar y Luis, después de un rato, inició la redacción de su respuesta escribiendo: “si tenemos una circunferencia que contenga a los puntos A y B y la recta pasa por la mitad de el segmento AB entonces” [sic].

Luis antes de terminar su respuesta interrumpió la escritura y charló de nuevo con el docente, durante la interacción Luis regresó una etapa, evocó lo realizado y manifestó, entre otras cosas, que la recta debía pasar por la mitad del segmento y que esa intersección debía formar un ángulo de 90° . Tras la interacción con el docente, el estudiante regresó a la séptima etapa, borró lo escrito y finalmente respondió de la siguiente manera: “Si el punto s se desplaza en la recta entonces siempre contiene a los puntos A y B” [*sic*] y después, pasó a la siguiente etapa.

Aunque en la respuesta escrita de Luis no se evidencian condiciones que son importantes para la validez general de la afirmación, como por ejemplo las condiciones sobre la recta, es decir, que esa recta debe ser mediatriz del segmento AB y además omitió decir quien contiene a los puntos AB cuando se arrastra S, podemos afirmar que estas omisiones corresponden más a la dificultad en la escritura de condicionales que en el desconocimiento de lo mencionado, es más, la respuesta escrita se asemeja bastante a la primera parte de la afirmación que Luis hizo cuando el docente le cuestionó por sus hallazgos, en esa afirmación la primera parte que Luis mencionó verbalmente se puede reescribir así: **Si** se mueve a S por la recta, **entonces** la circunferencia s siempre contiene a los puntos A y B. Aunque no se encuentra una descripción de las condiciones sobre la recta él sí las menciona de manera verbal y escrita, verbal en el dialogo con el docente y escrita en la etapa anterior; además menciona a s nombre que él eligió para la circunferencia.

A pesar de lo mencionado, preferimos ser modestos en la categorización, por tal razón pensamos que lo hecho por Luis se corresponde con la función de la variación separación pues solo varía una de las dimensiones, es decir, arrastró a S sobre la mediatriz, dejando de lado hacer arrastres sobre los puntos A y B o cambiando la posición de la recta o el segmento, por esto mismo no se corresponde con la función de variación generalización, pues lo hecho en la actividad no le permitió, ni exigió, variar o experimentar con esos cambios en la configuración. De igual manera, calificamos la afirmación como un esquema de argumentación empírico, pues a pesar de poder reescribirse de la forma si-entonces, el argumento está basado en lo visto durante la observación [MAL, FVS, EAE].

10.4.5. Tarea 5. Cuadrilátero

Antes de iniciar el desarrollo de la tarea, Luis decidió abrir la tercera tarea con la finalidad de recordar la definición de mediatriz de un segmento, él rápidamente descubrió el camino que debían seguir los puntos para cumplir la condición solicitada, situación que se evidenció no solo en las respuestas acertadas, también en las modalidades de arrastre que mayoritariamente fueron arrastres de lugar mudo y arrastres test, claro que también realizó en menor medida arrastres para ajustar, guiados y mantenidos. En cuanto a las funciones de la variación, estas pasaron tempranamente de contraste y separación a generalización y fusión mientras que los esquemas de argumentación presentados por Luis fueron simbólicos, analíticos, de recuento factico y empíricos, estos dos últimos fueron mayoría. En el desarrollo de esta tarea, Luis además de identificar que si las mediatrices de un cuadrilátero concurren los vértices del cuadrilátero deben estar en una circunferencia, descubrió que las mediatrices concurren en el centro de la circunferencia, e intentando hacer una construcción robusta de esta situación produjo una conjetura errónea que finalmente logró desechar gracias a las exploraciones hechas en el applet.

El estudiante leyó en voz alta la instrucción: *Anticipa. 1. Antes de iniciar, ¿recuerdas qué es la mediatriz de un segmento? Si recuerdas, observa las mediatrices de los lados del cuadrilátero ABCD. ¿Crees que es posible transformar el cuadrilátero para que sus mediatrices se intersequen en un solo punto? Explica tu respuesta.*

Luis le comentó al profesor que no recordaba, en sus propias palabras “nada de eso”, por lo que abrió las actividades anteriores, se remitió a la etapa Información de la tarea 3, luego dijo “la recta mediatriz es la que pasa por la mitad del segmento y que al intersecarse forman un ángulo recto”, el docente asintió y Luis comentó “esas son las condiciones que debe cumplir esa recta” mientras abría la tarea 5.

Luis volvió a leer en voz alta las instrucciones y luego arrastró el vértice D del cuadrilátero, durante el arrastre se detuvo en una configuración en la que las mediatrices se intersecaron en un solo punto (Figura 165.a.), sin embargo, Luis siguió con su arrastre y llamó al docente en busca de explicación. El docente le dijo que esas rectas son las mediatrices de los lados del cuadrilátero, lo que Luis pareció entender y a continuación el profesor le preguntó ¿crees que

todas esas [mediatrices] se pueden intersecar en un solo punto? El estudiante siguió con su exploración haciendo arrastres sobre los vértices D, A y B. este arrastre se realizó sin ningún orden particular ni intención más que buscar que las mediatrices se intersecaran en un solo punto. Luis, casi por casualidad obtuvo una solución, la configuración puede observarse en la Figura 165.b. El estudiante marcó la opción SI, y respondió “si creo porque podemos mover los puntos del cuadrilatero de tal forma que las rectas mediatrices se intersequen en un solo puntos” [sic] [MAE/MAPA, FVC, EAR/EAE].

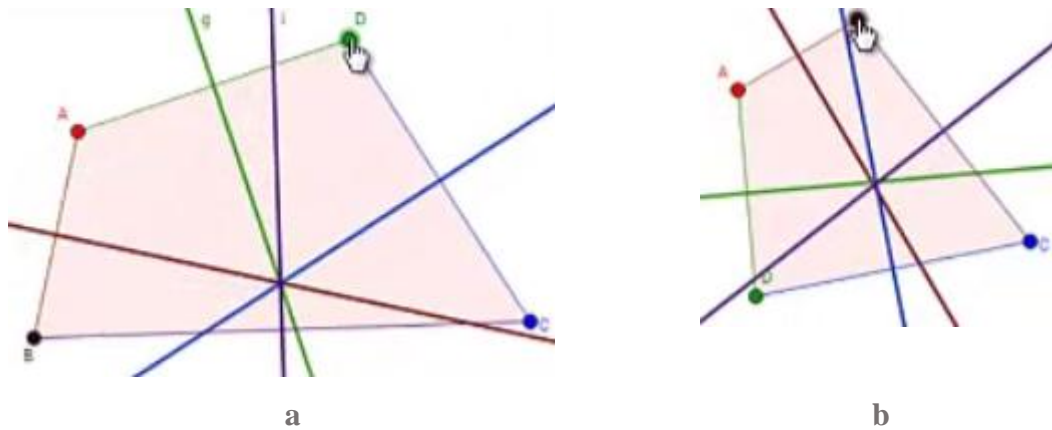


Figura 165. Arrastre de pantalla realizado por Luis durante el desarrollo de la etapa Anticipa tarea 5.

Luis avanzó a la segunda etapa, *Anticipa. 2. ¿Crees que es posible mover los vértices del cuadrilátero manteniendo la intersección de las mediatrices en un solo punto? Explica tu respuesta.*

El estudiante, tras unos arrastres erráticos del punto B [MAE,0,0], logró mover a B por lugares donde se mantuvo la condición buscada, es decir, que las mediatrices se intersecaran en un solo punto [MAG/MAM, FVS, 0], al llegar muy cerca del siguiente vértice del cuadrilátero, Luis detuvo su arrastre y luego, sin mantener la relación entre las mediatrices, regresó a B a un punto en el que se cumplía la condición [MAPA, FVC, 0] tras lo cual continuó su exploración arrastrando al punto C, repitió el arrastre guiado por la intersección de las mediatrices y exclamó ¡ah esto tan fácil! Soltó al punto C [MAG/MAM, FVS, 0].

De inmediato arrastró al punto D, al parecer identificó el camino que debía seguir con los vértices del cuadrilátero pues este arrastre se hizo en menos tiempo y de manera eficiente en términos de mantener la intersección de las mediatrices en un solo punto. Soltó el punto D y

arrastró un poco al punto A nuevamente acertando en sus movimientos para que se cumpliera la condición. Luis procedió a marcar la opción Si y escribió su respuesta: “Lo hice moviendo los puntos del cuadrilátero en forma de circunferencia” [sic]. En la respuesta dada por Luis evidenciamos que él logró verificar, en los arrastres de los puntos D y A, que el camino que se debía seguir para mantener la intersección de las mediatrices en un solo punto era una circunferencia, lo cual hace que se corresponda con la función de variación generalización, el arrastre hecho con la modalidad de arrastre de lugar mudo y la afirmación con un esquema de argumentación de recuento factico. [MALM, FVG, EAR].

Verifica. 3. Mueve los vértices del cuadrilátero manteniendo la intersección de las mediatrices en un solo punto. ¿Verificaste tu respuesta anterior? SI __ No __ ¿Por qué?

Luis de inmediato marcó la opción Si, luego procedió a arrastrar algunos vértices del cuadrilátero, manteniendo con el arrastre la forma de una circunferencia [MALM, FVG, 0] e inició la escritura de su respuesta, aunque se detuvo por un dialogo que sostuvo con el profesor.

1	Luis	Es como si este [señalando el punto de intersección de las mediatrices] fuera el centro de la circunferencia
2	Profesor 1	¡Opa! ¿Qué es el centro?
3	Luis	O sea... Acá, donde se intersecan las mediatrices... es como si fuera el centro de la circunferencia
4	Profesor 1	Pues miremos, sigue avanzando a ver qué más encuentras.

Como se puede evidenciar en las líneas en las que participa Luis, él además de percatarse que los puntos del vértice del cuadrilátero siguen el camino de una circunferencia afirmó que el centro de la circunferencia es el punto donde se intersecan las mediatrices [MALM, FVG, EAE]. En el diálogo sostenido con el docente, Luis puso en conocimiento que identificó y verificó una propiedad invariante, en este caso, que el centro de la circunferencia es el punto donde se intersecan las mediatrices, por lo tanto, el arrastre siguió siendo acorde a la modalidad de lugar mudo, la función de variación generalización y la afirmación se correspondió a un esquema de argumentación empírico.

A la pregunta en esta etapa, *¿Verificaste tu respuesta anterior? ¿Por qué?*, Luis contestó de la siguiente forma “Si”, “por que todos los puntos los iba moviendo como en forma de

circunferencia y es como si donde se intersecan las meatrices fuera el punto [centro] de la circunferencia” [sic] [MALM, FVG, EAR/EAE]. Luis avanzó a la siguiente etapa.

Verifica. 4. Intenta mover solo uno de los vértices manteniendo la intersección de las mediatrices en un solo punto. ¿Crees que hay alguna propiedad que se deba cumplir para que las mediatrices se intersequen en un solo punto? Explica.

El estudiante intentó hacer el arrastre del punto A con el ratón y luego, por facilidad decidió continuar con el arrastre del punto haciendo uso del teclado. Al arrastrar, él movió el punto intentando describir con su movimiento una circunferencia y, a la vez, cerciorándose que la intersección de las mediatrices fuera un solo punto; el arrastre realizado por Luis, que continuó siendo acorde a la modalidad de arrastre de lugar mudo, atendió a dos condiciones que le permitieron a él experimentar diferentes características críticas al mismo tiempo se corresponde con la función de variación fusión. [MALM/MAM, FVF, 0].

Creemos que Luis preguntó, con la intención de arrastrar los vértices con mayor precisión mientras se fijaba en las dos situaciones descritas en el párrafo anterior, si podía utilizar las herramientas de GeoGebra; como él recibió respuesta afirmativa, utilizó la herramienta *Circunferencia Centro Punto* para lo cual señaló como centro la intersección de las mediatrices (Figura 166.a) y como punto uno de tal forma que los vértices del cuadrilátero pasaran por la circunferencia (Figura 166.b).

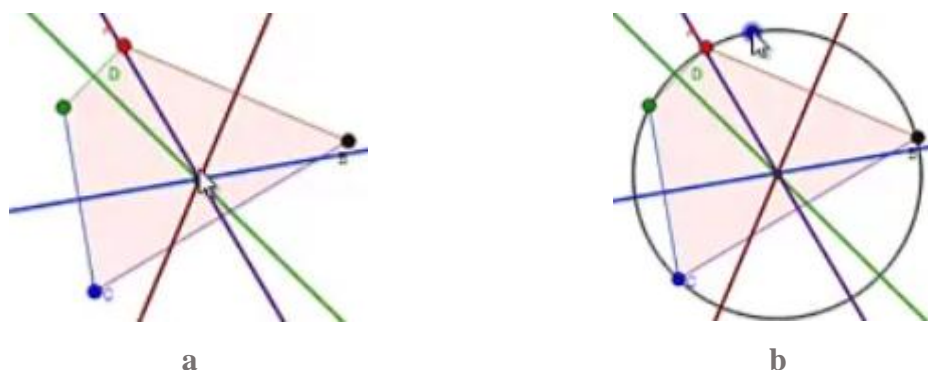


Figura 166. Construcción por Luis de la circunferencia que contiene los puntos de un cuadrilátero en el que las mediatrices se interseca durante el desarrollo de la etapa Generaliza tarea 5.

Luis arrastró el punto A sobre la circunferencia pero se percató que su construcción no cumplía con las propiedades que él quería [MAT, FVF, 0], sospechamos que pretendía arrastrar

cualquiera de los vértices sobre la circunferencia y que siempre se mantuviera en un punto la intersección de las mediatrices, lo cual no se cumplió siempre (Figura 167 a-b). A pesar de que la construcción de Luis no cumplió con las propiedades que deseaba, él intentó algo más, trazó la recta que pasa por los puntos A y B (Figura 167.c.) y, además, en dialogo con el docente [7] manifestó estar convencido de su hallazgos, atribuyendo la falla en su construcción a la inexperiencia al usar las herramientas de GeoGebra.

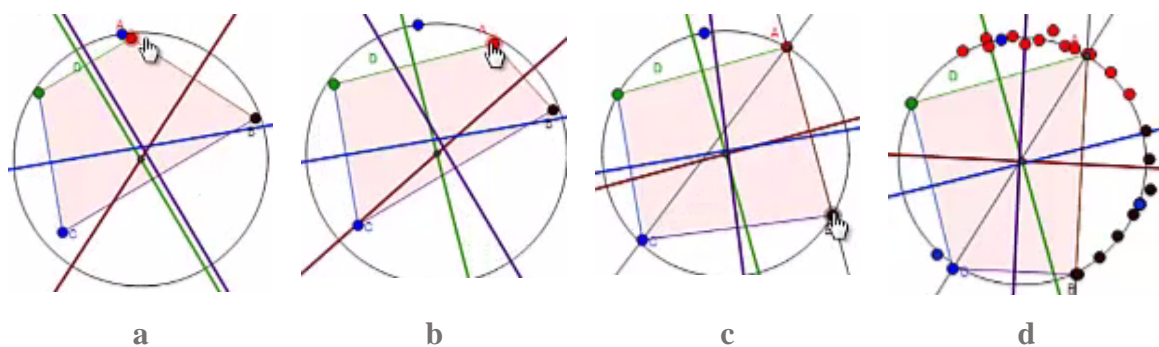


Figura 167. Arrastre que Luis hace de los vértices de un cuadrilátero para que las mediatrices se intersequen durante el desarrollo de la etapa Generaliza tarea 5.

5	Luis	Profe... es que...
6	Profesor 1	¿Está convencido ahora?
7	Luis	[Luis construyó una recta que pasa por los puntos C y A (Figura 167.c), arrastró al punto B sobre la circunferencia] [pausa...] no, pero si estoy convencido... sino que no se usar bien las herramientas.
8	Profesor 1	¿De qué estas convencido?
9	Luis	De que... para las condiciones que deben tener... que haya una circunferencia y en el centro de esa circunferencia se intersecan las mediatrices y que los puntos están en la circunferencia.
10	Profesor 1	¿Cuáles puntos?
11	Luis	Los puntos del cuadrilátero [se refirió a los vértices]

Durante el mismo diálogo, Luis mencionó estar convencido de las condiciones de la tarea [9], los elementos que mencionó verbalmente los volvió a mencionar más adelante por escrito en su respuesta para esta etapa, el escribió “tiene que tener una circunferencia y que los puntos del cuadrilátero estén en la circunferencia y que en el punto donde se intersequen las mediatrices sea el centro de la circunferencia” [*sic*] [MALM, FVF, EAE]. De lo mencionado verbalmente a lo escrito se puede percibir que Luis intentó darle orden a su respuesta. Tal vez, por lo dicho inicialmente en diálogo con el docente, Luis enumeró sus hallazgos, los que llamó condiciones de la tarea y en un segundo momento, en su respuesta por escrito, él dio un orden diferente a

sus palabras. Sin embargo, a la luz de las evidencias, hasta el momento no es claro si Luis logró detectar alguna relación de dependencia o tan solo relaciones sin llegar a identificar cual es la causa.

Antes de avanzar a la siguiente etapa Luis habilitó las opciones *Mostrar Huella* para cada uno de los vértices del cuadrilátero (Figura 167.d), lo observado en pantalla le llevó a reforzar los hallazgos que antes había hecho, así lo manifestó al docente, escribió la respuesta mostrada antes y continuó a la siguiente etapa.

Concluye. 5. *¿Qué condiciones debe cumplir un cuadrilátero para que sus mediatrices se intersequen en un solo punto?*

Luis leyó la pregunta en voz alta sin realizar arrastre o cambios sobre la configuración (Figura 167.d) inició la escritura de su respuesta: “que los puntos del cuadrilatero esten sobre la circunferencia y que el punto donde se intersequen la mediatices sea el centro de la circunferencia” [sic]. [0, 0, EAE].

Aplica. 6. *Transforma el siguiente cuadrilátero para que sus mediatrices se intersequen en un solo punto. Justifica tu respuesta.*

Luis inicia realizando arrastres sobre los puntos D, C, B, vértices del cuadrilátero, él cambió la configuración original (Figura 168.a.) hasta darle la forma [MAG, 0, 0] que se aprecia en Figura 168.b. A continuación utilizó la herramienta *Circunferencia Centro Punto* y creó un punto que usó para el centro y el punto C. Tenía entonces la circunferencia y arrastró los puntos A, B y D sobre esta [MAPA, FVF, 0].

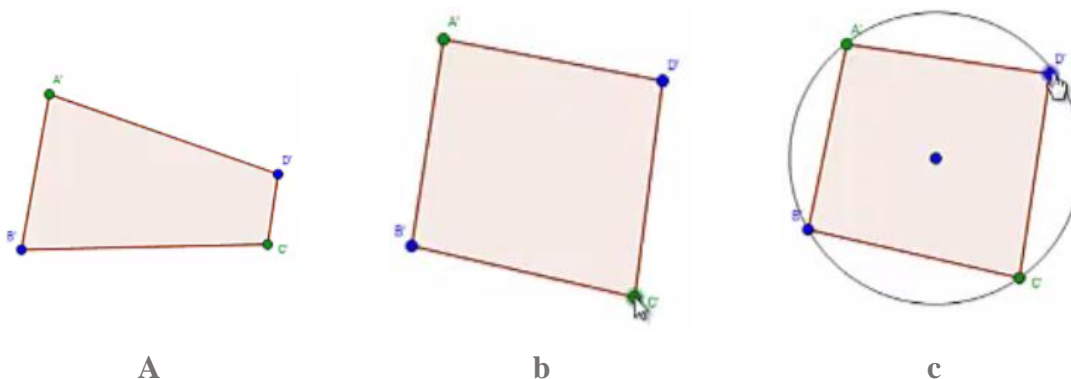


Figura 168. Construcción blanda y arrastres de Luis durante el desarrollo de la etapa Aplica tarea 5.

A pesar que la construcción hecha por el estudiante respondía satisfactoriamente a las expectativas de la tarea, la inquietud de Luis por tener que arrastrar los vértices del cuadrilátero a la circunferencia en lugar que los vértices estuvieran vinculados a la misma lo llevó a borrar lo hecho antes, el borró el centro de la circunferencia y en charla con la docente y le comentó que necesitaba hacer una circunferencia que contuviera los puntos A, B, C, D e hizo énfasis en que la circunferencia debería contener los puntos. En presencia de la profesora, Luis repitió el proceso antes realizado construyendo una circunferencia con centro en un lugar aproximado a la intersección de las diagonales del cuadrilátero que además pasaba por B (Figura 168.a.).

Luis dijo a la profesora, refiriéndose a la construcción que estaba haciendo, que “si la circunferencia contenía a este [punto B] no contiene a los demás [A, C y D] y necesito que los contenga a todos”. Mientras terminaba de arrastrar los demás vértices del cuadrilátero sobre la circunferencia (Figura 169.b) Luis decía “Ahí están... parece que están pero no están” Luis arrastró el punto B por lugares donde parecía que los 4 vértices estaban ubicados sobre la circunferencia (Figura 169.c) y luego arrastró a B por lugares donde claramente los otros tres vértices no se encontraban sobre la circunferencia (Figura 169.d).

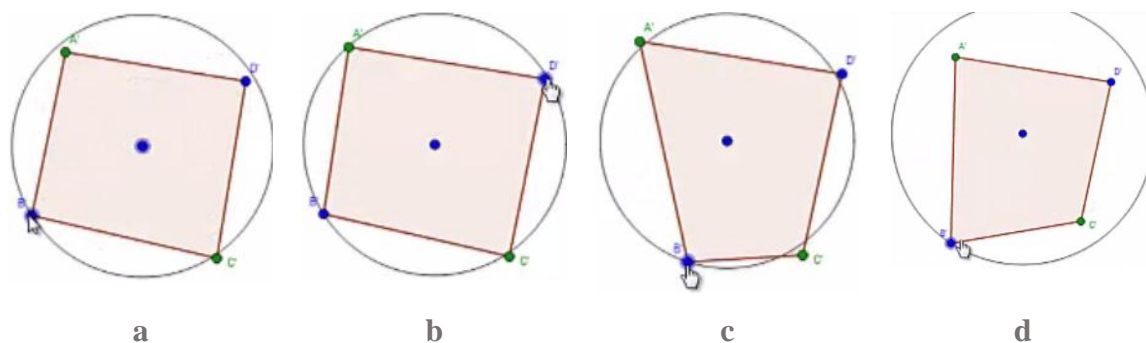


Figura 169. Construcción y arrastres de Luis durante el desarrollo de la etapa Aplica tarea 5.

La docente le sugirió a Luis explorar los otros menús para buscar herramientas que le permitan hacer lo que él buscaba. Con esta sugerencia en mente él revisó la herramienta *Punto en objeto* y, la profesora, luego que Luis leyó la ayuda de la herramienta, le explicó que “esa herramienta era para crear un punto sobre” además le indicó que debía leer con detenimiento la ayuda. Así fue como el estudiante encontró la herramienta *Limita/Libera punto*, él leyó la ayuda “punto y objeto al que sujetarlo” y decidió ensayar.

Con una configuración similar a la vista en la Figura 169.d. y luego de algunos ensayos con la herramienta *Limita/Libera punto*, Luis logró vincular los puntos A, C y D a la circunferencia que había creado antes y, que por la manera en que había sido construida, ya pasaba por el punto B, e hizo arrastres sobre cada punto vértice del cuadrilátero, ahora vinculados a la circunferencia, para verificar [MAT, FVF, 0] (Figura 170.a) a pesar que la figura cumplió con las expectativas y que la construcción que Luis acababa de realizar respondía a lo solicitado en el enunciado, él continuó. Luis trazó una recta que pasó por el centro de la circunferencia y un punto en el segmento AD cercano al punto medio, mismo proceso que realizó para crear una recta que intersecó al segmento AB (Figura 170.b). La docente le cuestionó sobre qué eran los puntos sobre los segmentos [12], la explicación de él fue extraña, uso incorrectamente el lenguaje [13] [0 ,0 EAS]. Luis intentó explicar que esas rectas eran las mediatrices [17] e incluso mencionó en varios momentos las condiciones para que una recta fuera mediatriz de un segmento [19, 23, 25], por lo cual la profesora le dijo que esos puntos se podían mover y entonces lo cuestionó sobre si esas rectas eran o no las mediatrices de los segmentos [26].

12	Profesor 2	Y esos puntos, ¿qué se suponen que son?
13	Luis	Los que contienen al... a la recta, o sea, el cuadrilátero contiene a la recta mediatriz [pausa larga] ¡algo así!
14	Profesor 2	Pero... ¿esas rectas si son mediatrices? Porque si tu mueves este punto se te dañan.
15	Luis	[Arrastra el punto A]
16	Profesor 2	Igual, lo que querías hacer con el cuadrilátero, ahí ya te funciona como tu querías, los puntos están sobre la circunferencia como tu querías... pero este punto de acá [el punto sobre el segmento AB], ¿si tú lo mueves...?
17	Luis	[procedió a ocultar los puntos sobre los segmentos AB y AD] [pausa] ahí son mediatrices.
18	Profesor 2	¡Ah! [pausa] ¿Por qué son mediatrices?
19	Luis	Porque se intersecan en un punto de tal forma que al cortarse miden 90° y se unen en la mitad del segmento.
20	Profesor 2	Ok, Es mediatriz del segmento, ¿no?... o sea, ¿esta es mediatriz de qué lado? Esta que dibujaste.
21	Luis	Esta es la mediatriz... [risas]
22	Profesor 2	La mediatriz, es mediatriz de un segmento y tiene las características que tú dijiste. Que forman qué...
23	Luis	Un ángulo recto
24	Profesor 2	Y qué otra cosa
25	Luis	Y que pasan por la mitad de un segmento
26	Profesor 2	Esas dos características, pero mira que esta como que no... yo no veo los ángulos ahí como bien rectos, de pronto esta de arriba si... pero igual si se mueve...

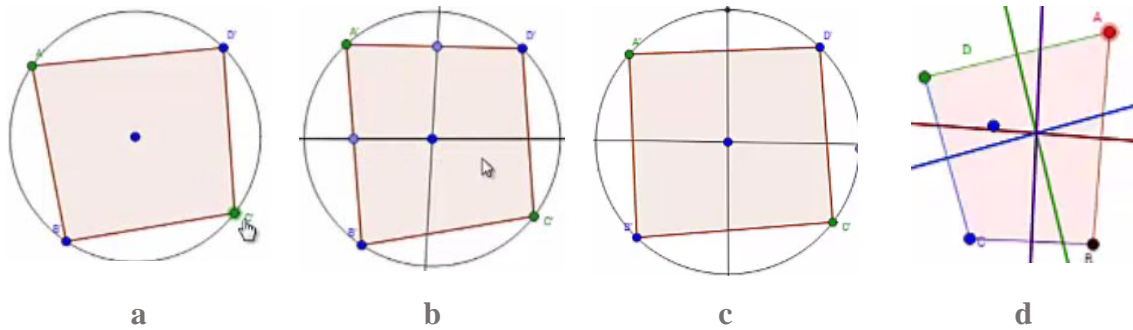


Figura 170. Construcción y arrastres de Luis durante el desarrollo de la etapa Aplica tarea 5.

Ante la insistencia de la docente y luego de hacer arrastres que le permitieron darse cuenta que las rectas no cumplían ser mediatrices de los segmentos del cuadrilátero, Luis decidió probar ubicando puntos sobre la circunferencia pero no fue clara su intención, luego ante una intervención de la docente [27], Luis conjetura que el polígono debería ser un cuadrado y arrastró hasta darle una forma parecida al cuadrilátero [28] (Figura 170.c) y luego de probar distintos arrastres decidió borrar las rectas e intentar construirlas de nuevo [30]. En interacción con el otro docente, Luis manifestó haber descubierto otras cosas, y comentó con él [34, 36] que el cuadrilátero debía ser un cuadrado para que las mediatrices se intersecaran en un solo punto, además así coincidía mejor con su construcción [MAT, FVF, EAD]. El docente le sugirió [37] usar las etapas anteriores para verificar los nuevos descubrimientos, por esta razón, Luis regresó una etapa y realizó arrastres a los puntos D y A que le permitieron invalidar su conjetura sobre un cuadrado pues los arrastres le permitieron darse cuenta de ejemplos en los que las mediatrices se intersecaban en un solo punto sin que el polígono fuera cuadrado [38] (Figura 170.d) [MAT, FVG, 0].

27	Profesor 2	Es que las rectas deben ser mediatrices del segmento, del lado. Ahorita en los puntos anteriores estábamos haciendo mediatrices de los lados, mira que estas no son mediatrices de los lados porque esta recta no cumple con las dos condiciones que tú estabas diciendo.
28	Luis	Entonces tiende a ser un cuadrado [mientras le da forma de cuadrado al polígono].
29	Profesor 2	Ah tiene que ser cuadrado, no puede ser cualquier...
30	Luis	[Borró las rectas y construyó otra que parece tener un ángulo recto en la intersección con el segmento AD y que pasa por el centro de la

		circunferencia, hizo arrastre del punto D, al parecer no coincidió lo hallado durante el arrastre y lo que esperaba pues procedió a borrar la recta]
31	Profesor 1	¿Qué haces, me cuentas?
32	Luis	Ya me di cuenta de otra cosa
33	Profesor 1	¿De qué más te diste cuenta?
34	Luis	Que esto tiene que ser un cuadrado
35	Profesor 1	¿Tiene que ser un cuadrado?
36	Luis	Si porque, pues ella me explicó que tenía que pasar [las mediatrices] por el medio de este segmento [señala el segmento AD]. Entonces si lo pongo así [mueve el punto B y quita la apariencia de cuadrado, luego mueve los demás puntos para obtener otra apariencia de cuadrado].
37	Profesor 1	Pues comprueba lo que tu estas diciendo, haber, qué tal si te devuelves y miras si es obligatorio en las anteriores.
38	Luis	[Luis se regresó una etapa y arrastró el punto A percatándose que las mediatrices se intersecaban en un solo punto sin que el polígono fuera cuadrado, luego continuó el diálogo] Usted borró puntos aquí [refiriéndose a los puntos medios de cada segmento que esperaba encontrar]. Usted borró puntos cuando hizo esto [la construcción].
39	Profesor 1	No te entiendo la pregunta
40	Luis	[Luis se mostró confundido y observó la figura] ah! Ya [regresó a la etapa 6] Como la última vez, construyó una circunferencia y luego enlazó los demás vértices a esta. Intentó crear una recta, luego una semirecta.
41	Profesor 1	¿Qué quieres pintar?
42	Luis	Una semirrecta que pase por el medio [abandonó la construcción de la semirrecta].
43	Profesor 1	Que pase por el medio.
44	Luis	Que pase por la mitad [buscó la herramienta medio o centro y ubicó el centro del segmento AD y luego trazó la recta usando el punto medio de AD y el centro de la circunferencia].

El dialogo entre el docente y el estudiante propició que Luis recordara la herramienta *Medio o Centro* [41-44], él había utilizado esta herramienta para hallar los centros de circunferencias en tareas anteriores. El estudiante construyó los puntos medios de los segmentos AD y BC y trazó las rectas usando los puntos medios de cada segmento y el centro de la circunferencia (Figura 171.a) y, aunque la construcción de las rectas hizo pensar que Luis omitió que estas, para ser mediatrices, debían formar ángulos de 90° con el segmento correspondiente, el dialogó

permitió establecer que Luis estaba convencido que las rectas si eran mediatrices, incluso mencionó de nuevo las condiciones para estas rectas [46].

Luis arrastró el punto B variando la forma y tamaño del cuadrilátero (Figura 171 b-c) y mencionó que se cumplía toda la teoría [46], el docente le preguntó por cuál teoría y Luis contestó que los puntos del cuadrilátero tienen que estar sobre la circunferencia para que las mediatrices se intersequen en un solo punto y ese punto sea la mitad de la circunferencia [47-50] [MAT, FVF, EAD]. Sospechamos que Luis identificó la relación de causa efecto, o así nos lo hace pensar las palabras anteriores, sin embargo, algunas de sus respuestas no parecen ser tan ordenadas en este aspecto y, sospechamos que esto se debió a la necesidad que Luis manifestó por mostrar el hallazgo adicional relacionado con el centro de la circunferencia como punto donde concurren las mediatrices de los cuadriláteros cíclicos.

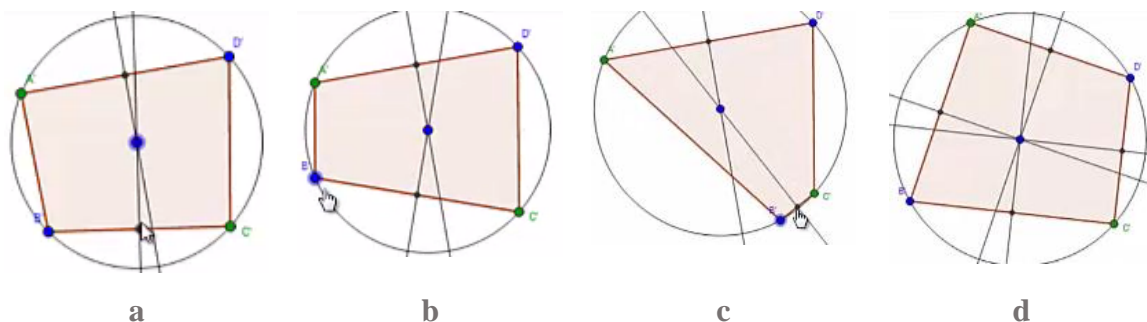


Figura 171. Construcción y arrastres de Luis durante el desarrollo de la etapa Aplica tarea 5.

Luego de la afirmación verbal que hizo Luis, él terminó de construir las otras mediatrices (Figura 171.d) y se evidenció otro resultado importante; Luis en algún momento llegó a conjeturar que para que las mediatrices de un cuadrilátero se intersecaran en un punto, el cuadrilátero debía ser cuadrado. Ante este hecho, las exploraciones realizadas con el applet le ayudaron a validar esta conjetura como falsa y así lo manifestó en dialogo con el profesor [52] [MAT, FVF, EAE].

45	Profesor 1	Pero, ¿es una recta cualquiera?
46	Luis	No, es una que pase por el medio y 90° [construyó la recta que él llamó mediatriz del segmento BC, arrastró el punto B] hay se está cumpliendo toda la teoría.
47	Profesor 1	¿Cuál es la teoría?
48	Luis	O sea que los puntos del cuadrilátero tienen que estar sobre la

		circunferencia.
49	Profesor 1	¿Para qué?
50	Luis	Para que las mediatrices se intersequen en un solo punto y ese punto sea la mitad de la circunferencia [termina de construir las otras mediatrices].
51	Profesor 1	Y tu habías dicho algo acerca de un cuadrado.
52	Luis	Si pero eso no... eso es falso
53	Profesor 1	Y ese polígono tan raro... ahí también funciona.
54	Luis	¡Aja, claro! Es que teniendo esas condiciones funciona.

Luis inició la escritura de su respuesta, el escribió “para que las mediatrices se intersequen en un solo punto” [sic] y antes de continuar escribiendo buscó la aceptación del profesor. El docente le indicó que siguiera con su respuesta, la respuesta verbal de Luis fue la siguiente: Para que las mediatrices se intersequen en un solo punto tenemos que formar una circunferencia de tal forma que los puntos del cuadrilátero estén en la circunferencia [MAT, FVF, EAD]. De inmediato, a Luis se le preguntó sobre cuales puntos del cuadrilátero y él respondió A, B, C, D.

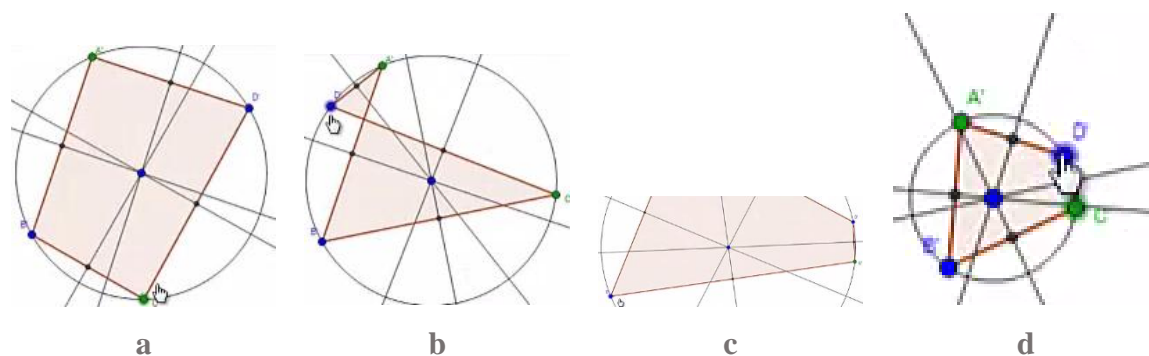


Figura 172. Construcción y arrastres de Luis durante el desarrollo de la etapa Aplica tarea 5.

El comentario sobre los puntos del cuadrilátero motivó a Luis a cambiar su respuesta pues se le antojó importante. Finalmente la respuesta que Luis anotó en la etapa fue “hay que poner una circunferencia y que los puntos ABCD del cuadrilátero estén en la circunferencia y poner puntos en la mitad de los segmentos del cuadrilátero y formar una recta que pase por el centro de la circunferencia y la mitad de el segmento” [sic] [MAT, FVF, EAR].

Luis discutió con la docente sobre su respuesta, haciendo énfasis en que el punto donde se intersecaban las mediatrices es el centro de la circunferencia, tal vez intentando convencer a la docente, él arrastró los vértices por varias partes cambiando la forma del cuadrilátero (Figura 172 a-b) e incluso su tamaño, llegó a configuraciones en las que la imagen era muy grande

(Figura 172.c) o muy pequeñas (Figura 172.d), el manifestó que podía hacer ese cambio y se sigue cumpliendo todas las condiciones [MAT, FVF, EAE]. Con esa intervención entre Luis y el docente, el estudiante finalizó la actividad.

10.5. Análisis del trabajo de Sara

10.5.1. Tarea 1. El triángulo rectángulo

En lo que sigue veremos cómo Sara realizó arrastres que se enmarcamos en las modalidades de arrastres: erráticos, para ajustar y guiados con la finalidad de dar solución a cada una de las etapas. Los arrastres realizados por la estudiante se correspondieron en su mayoría con las funciones de la variación contraste y separación y en menor cantidad con la función de variación generalización y fusión. En cuanto a los esquemas de argumentación en su mayoría fueron empíricos y, con menor frecuencia de recuento fáctico, aunque logró producir unos pocos argumentos analíticos. Durante el desarrollo de la tercera etapa Sara intentó realizar construcciones con la finalidad de dar respuesta a lo solicitado, ella tuvo dificultades con el uso de las herramientas y aunque erró y borró en varias ocasiones finalmente logró su objetivo.

Tan pronto se dispuso todo para el trabajo, la estudiante Sara leyó la instrucción: *Anticipa. 1. ¿crees que el punto B se puede ubicar en otro lugar de tal forma que el ángulo siga midiendo 90°?*

Acto seguido, sin intentar cambios a la configuración, la alumna inició la redacción de su respuesta. Ella escribió “si, se puede ubicar en otro lado ,y aun haci mide 90 grados, dependiendo en donde lo ubique” [sic]. Luego de redactar su respuesta, Sara llamó a la docente y le preguntó cómo seguir, a lo que la docente le respondió que debía registrar su respuesta presionando la tecla Enter. Así lo hizo la estudiante y avanzó a la segunda etapa.

En la segunda etapa Sara, en presencia de la docente, leyó la instrucción en voz alta: *Verifica. 2. Haz clic en el punto B y muévelo para buscar otra posición en la que el ángulo mida 90°. ¿Solo hay una posición que cumpla esta condición? Explica cómo llegaste a tu respuesta y*

preguntó ¿cómo así?, refiriéndose a cómo mover el punto B. La docente le indicó la manera en que podía mover al punto B.

La estudiante continuó el desarrollo de la tarea iniciando el movimiento de B, fijándose en la medida del ángulo. Ella, luego de unos movimientos erráticos, centró su atención en una región en donde la medida llegó a acercarse a 90° (Figura 173.a.). Luego, movió el punto B hacia la derecha (Figura 173.b.) y, viendo que la medida aumentó, deshizo su avance volviendo a la región donde la medida era cercana a 90° , en donde bajó la velocidad del arrastre hasta que halló un lugar en el que el ángulo medía 90° (Figura 173.c.), como se le solicitó en la instrucción [MAE, FVC, 0]. Sara mencionó en voz alta “ahí, ¡ya!” a lo que la docente le respondió invitándola a contestar la pregunta: solo hay una posición que cumpla esta condición o crees que hay más? Sara respondió “yo digo que hay más” y retomó la tarea de arrastrar a B buscando otros lugares en los que el ángulo tuviera una medida de 90° .

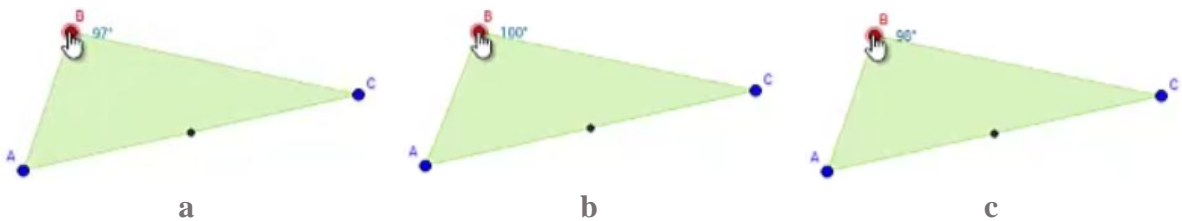


Figura 173. Configuración obtenida por Sara en distintos momentos etapa verifica de la tarea 1.

Hasta este momento en la tarea Sara había realizado dos afirmaciones. La primera de ellas la presentó en la respuesta de la primera etapa, la segunda, la presentó de manera verbal luego de ser cuestionada por la docente sobre si era posible o no mover a B a otros lugares donde la medida del ángulo fuera de 90° .

De la primera afirmación, difícilmente podemos presentar o sospechar qué motivó a Sara para responder como lo hizo, más allá de la intuición de la estudiante. Ella creía que sí se podía ubicar a B en otro lugar donde la medida fuera de 90° , como comprobó durante el desarrollo de la segunda etapa. Algo similar sucedió para lo mencionado verbalmente, es difícil identificar qué llevó a la estudiante a realizar tal afirmación, ¿sería su intuición?, ¿sería la interacción con la configuración?, ¿sería que ella pensó que si halló otro lugar donde ubicar a B y que la medida del ángulo fuera de 90° , se debía poder encontrar más lugares? No podemos defender

alguna de las suposiciones anteriores, lo que si nos es posible decir es que la interacción con la tarea digital le brindó a Sara herramientas para poder validar las conjeturas como se evidencia a continuación.




Figura 174. Arrastres erráticos realizados por Sara en etapa verifica de la tarea 1.

Luego de la interacción con la docente y de afirmar que había más lugares a donde mover a B y se cumpliera con la condición, Sara continuó la exploración y mientras arrastraba a B, halló lugares en los que se cumplía la condición y muchos en los que no (Figura 174). Sin embargo, con la certeza de encontrar más lugares en los que el ángulo en B midiera 90° , Sara se aventuró a realizar exploraciones en las que arrastró a B por lugares en los que la medida del ángulo se alejaba decididamente de la condición solicitada (Figura 174.c.) [MAE, FVC, 0].

Algo que también notamos y vale la pena destacar, es que tras pasar un tiempo explorando, la velocidad a la que Sara hacia los arrastres era casi constante. Incluso cuando desplazaba a B por sitios en los que la medida se alejaba de lo requerido, ella no se precipitó ni mostró afán por regresar a zonas donde la medida fuera favorable. Este cambio en la forma de arrastrar nos permitió identificar que ella, antes de iniciar la escritura de su respuesta en esta etapa, arrastró a B siguiendo una línea imaginaria (agregada a la imagen original en color amarillo, Figura 175) hasta ajustar la medida del ángulo a 90° .

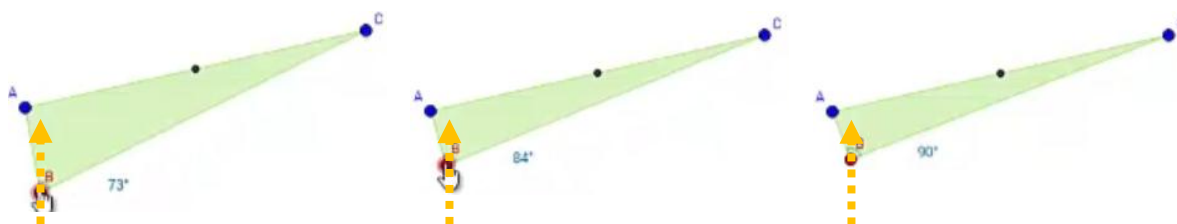


Figura 175. Arrastre Para Ajustar realizado por Sara, etapa verifica de la tarea 1.

Tras realizar el arrastre y posterior ajuste que se describió en el párrafo anterior, Sara inició la redacción de su respuesta a la pregunta. Ella contestó: “no por que si voy moviendo el ángulo de 90 puedo encontrar mas angulos que midan 90 grados pero no en todas las posiciones por ejemplo yo encuentre 6 pocisiones de angulos que miden 90 grados creeria yo que se puede encontrar mas [...] de la unica manera que los encuentre fue haci los lados de arriba y abojo y alos centros de arriba a bajo ,pero podrian haver mas pero no ,” [sic]. Lo anterior pensamos se enmarca dentro del esquema de argumentación de recuento factico pues menciona hechos evidentes a manera de explicación y además expone que movió de derecha a izquierda, de arriba abajo para conseguir que el ángulo midiera 90° [MAE/MAPA, FVC, EAR].

Antes de continuar a la siguiente etapa, Sara intentó leer lo que hasta el momento tenía escrito pero decidió cambiar la respuesta. Tal vez detectó la dificultad para leer un texto tan extenso y con fallas en la redacción, ella borró y escribió: “no, se puede ubicar el punto b en distintos lugares y que su ángulo siga siendo de 90°” [sic]. Consideramos que esta afirmación está basada en el trabajo de arrastre realizado por Sara, que le permitió validar la existencia de otros lugares en los que el punto B forma un ángulo de 90° [MAE/MAPA, FVC, EAR].

Sara avanzó a la tercera etapa, *Explora. 3. Se han creado algunos puntos auxiliares. Muévelos a diferentes posiciones para que el ángulo marcado sea de 90°. ¿Qué figura se puede formar con todos los puntos cuando el ángulo que marcan es de 90°?*

La estudiante solicitó explicación de las instrucciones a la docente, quien le indicó que debía mover todos los puntos rojos, es decir, los puntos auxiliares a lugares en los que el ángulo fuera de 90°, tras lo que Sara inició el arrastre de los puntos, tarea que le resultó sencilla de obtener pues ubicó los puntos en lugares donde previamente había obtenido ángulos de 90° (Figura 176.a.). Luego se dirigió a la docente y le dijo que podía obtener muchas figuras, la docente le repitió la pregunta del enunciado haciendo énfasis en que se fijara en los puntos rojos. Sara dijo “no se forma ninguna figura”. Consideramos que este argumento presentado por Sara se apoya en la apariencia de la figura obtenida, por tanto se corresponde con un esquema de argumentación empírico. [MAPA, FVC/FVS, EAE].

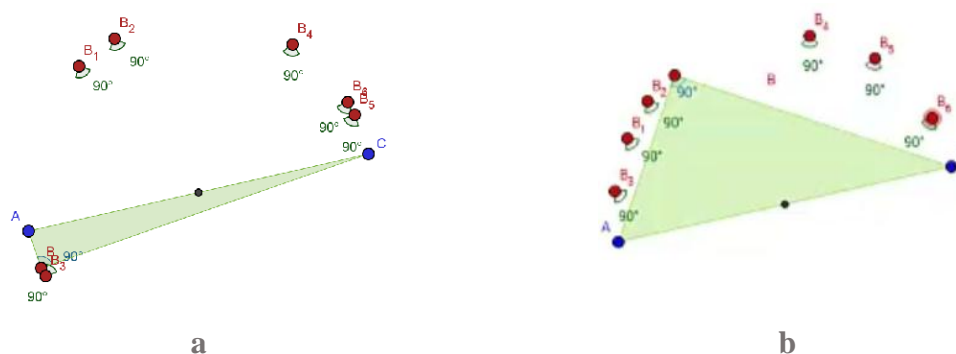


Figura 176. Arrastre Para Ajustar realizado por Sara, etapa explora de la tarea 1.

Le fue sugerido a Sara que moviera los puntos a otros lugares, pues aunque el trabajo realizado por ella era correcto, la posición de los puntos hacía difícil ver alguna figura. Así fue como después de unos arrastres, Sara consiguió la configuración mostrada en la Figura 176.b. Para llegar a obtener esta configuración ella realizó arrastre de los puntos auxiliares para ajustar la medida del ángulo deseada, además varió la posición de los puntos a lugares donde se cumplió la condición y todo con la intención de identificar qué figura se podía formar con los puntos auxiliares. A propósito de la figura que se supone Sara debía descubrir, ella mencionó que “hay muchas figuras” [MAPA, FVS, EAE].

La docente cuestionó a Sara sobre qué figura veía, y si podía señalar alguna que se formara con los puntos rojos, a lo que la estudiante respondió “se ve como un ovalo, no?”. En la interacción verbal con la docente, esta última le preguntó a Sara ¿ves un ovalo? Tras lo cual la estudiante respondió dudosa, la docente le recordó la posibilidad que ella tenía de mover de nuevo los puntos a otros lugares. Luego de un rato en el que ella contempló la configuración sin hacer cambios, se dirigió a otro docente y le cuestionó leyendo en voz alta la pregunta del enunciado y mencionando que se sentía bloqueada, también mencionó que a pesar de las sugerencias hechas por la otra docente, continuaba bloqueada. Durante el diálogo con el profesor, ella dice “yo veo que hace como un iglú” mientras señala y sigue la forma de los puntos con el dedo índice, a lo que el docente decidió aprovechar ese gesto y cuestionar a la estudiante sobre la razón por la que hace ese movimiento y sobre el nombre de la figura que ella señala con el dedo. Sara contestó que la figura que ella hizo “es un iglú, como un ovalito”. Intervención tras la que el docente decide sugerir que emplee las herramientas, le señala y dice, “mira, aquí tienes

herramientas si quieres puedes dibujar uno (...) ¿esa figura que tú haces se parece a alguna de estas? (señalando las herramientas de GeoGebra)”.

Sara preguntó cuál herramienta debía utilizar y el docente le contestó que ella debía mirar y decidir, que podía guiarse por la apariencia de la herramienta. Sara se detiene en el menú de circunferencia y al ver que no sucede nada, el docente le indica que debe hacer clic. Al hacer clic se desplegó el menú y Sara de inmediato menciona que se parece a la herramienta *Semicircunferencia*. Esta última afirmación la caracterizamos como un argumento basado en la apariencia que tiene el icono de la herramienta, [0, 0, EAE], el docente anima a Sara a utilizar la herramienta y ella, luego de algunos intentos fallidos (Figura 177.a.), decide borrar las construcciones que realizó, para esa labor hizo clic derecho sobre cada figura y selecciono la opción *Borra* con tan mala suerte que borró más objetos de los que debía (Figura 177.b.) y afectó la configuración que debía ser mostrada en la siguiente etapa, sin embargo, a pesar de borrar, por ejemplo, el triángulo, Sara logró terminar la etapa y la tarea sin contratiempos mayores.

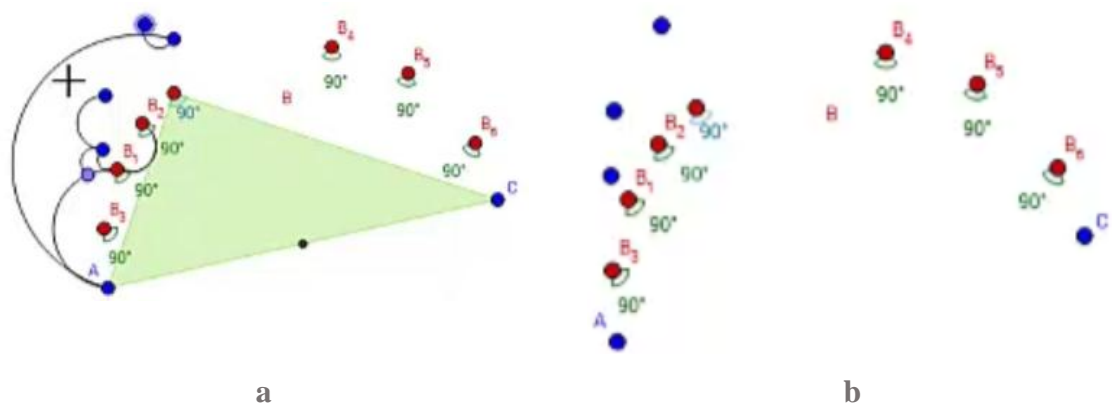
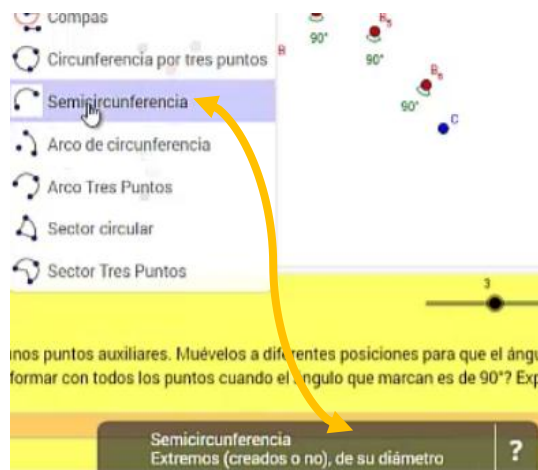


Figura 177. Arrastre Para Ajustar realizado por Sara, etapa explora de la tarea 1.

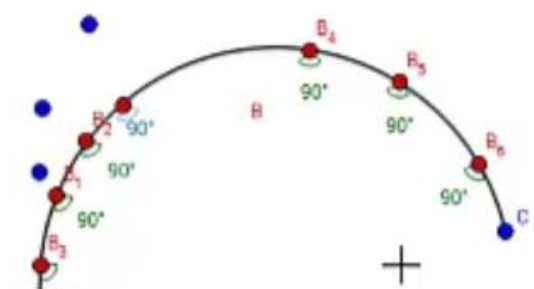
En la exploración de esta etapa, Sara intentó de nuevo el uso de las herramientas para construir la figura que ella observó se forma con los puntos rojos. La docente se percató que Sara tenía problemas para usar la herramienta *Semicircunferencia* pues, entre otras cosas, Sara se guio por la apariencia del icono y no se fijó en la ayuda contextual de la herramienta (Figura 178.a.). Luego que la estudiante eligió la herramienta la docente le dijo “debes seleccionar los

extremos, el primer punto y luego el último” así que Sara hizo clic en A y luego en C (Figura 178.b.) tras lo cual dijo “vea ahí los tengo todos (los puntos)”.



a. Menú contextual herramienta

Semicircunferencia



b. Construcción de la semicircunferencia de diámetro AC

Figura 178. Exploración realizada por Sara, etapa explora de la tarea 1.

La docente le preguntó a Sara ¿qué fue lo que hiciste? Y ella respondió “que para saber que figura era, me fijé en esas figuritas (refiriéndose a la apariencia de los iconos que aparecen en el menú de herramientas de GeoGebra) y miré cual me daba ... usé la herramienta *Semicircunferencia*”, en este caso la afirmación se corresponde con los esquemas de argumentación empírico, de recuento factico y simbólico, el primero porque Sara se basó en la apariencia del icono, el segundo pues menciona los pasos que realizó, y simbólico porque utilizó el lenguaje y simbología matemáticos de forma poco consistente, este último se hace más evidente en la siguiente afirmación en la que la estudiante deja en evidencia que utilizó la herramienta matemática más como una herramienta de dibujo para pintar que como herramienta que permite representar un objeto geométrico con propiedades. [0, 0, EAS/EAR/EAE].

La docente le preguntó si creía que con lo realizado podría responder a la pregunta, por lo que Sara inició la redacción de su respuesta, ella escribió “la figura que me dio a mi fue la semicircunferencia , me dio fue por que ami seme parecia un iglu y decidi utilizar una herramienta para formar la figura que me dio la semicircunferencia , pero podrían haber mas

figuras creería yo” [sic] [0, 0, EAS/EAR/EAE]. Sara detuvo su escritura y procedió a utilizar la herramienta *Arco Tres Puntos* haciendo clic en C, luego en un punto de la semicircunferencia y finalmente en A (Figura 179).

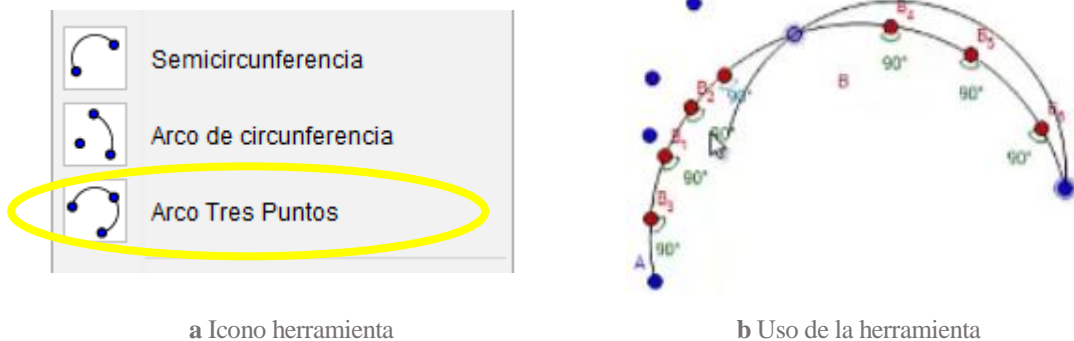


Figura 179. Icono de la Herramienta *Arco Tres Puntos* y su uso, etapa explora de la tarea 1.

La última parte de lo antes escrito por Sara, es decir, “pero podrían haber mas figuras creería yo” [sic] y el uso de la herramienta *Arco Tres Puntos* nos permitió evidenciar que la estudiante utilizó la información visual proporcionada por el icono de GeoGebra (Figura 179.a.) para validar la conjetura “podrían haber más figuras”, ella utilizó la información visual para identificar la herramienta que podría servir para dibujar la figura deseada, luego con esa información gráfica utilizó los puntos adecuados para trazar la figura. Tras el éxito obtenido cambió parte de su respuesta en la que afirma que encontró dos herramientas *Semicircunferencia* y *Arco Tres Puntos* para trazar la figura que ella creía podía formar. La respuesta final de Sara a esta etapa fue: “la figura que me dio a mi fue la semicircunferencia , me dio fue por que ami seme parecia un iglu y decidí utilizar una arramienta para formar la figura que me dio la semicircunferencia , pero tambien encontrte otra figura que fue el arco de tres puntos ,pero podrian haver mas cabria la posibilidadada”[sic] [0, 0, EAS/EAR/EAE].

En diálogo sostenido con la docente, Sara le preguntó sobre la posibilidad de encontrar más figuras, refiriéndose a encontrar más herramientas de GeoGebra que sirvieran para trazar al figura, la docente le indicó que podría utilizar y explorar con las que ella quisiera, así que Sara intentó con la herramienta Arco de circunferencia y, tras unos intentos sin conseguir su propósito, detuvo la construcción y avanzó a la siguiente etapa.

Explora. 4. Mueve el punto B a diferentes lugares y observa qué pasa con la medida del ángulo. ¿Qué condición debe cumplir la curva para que el ángulo en B mida 90° ?

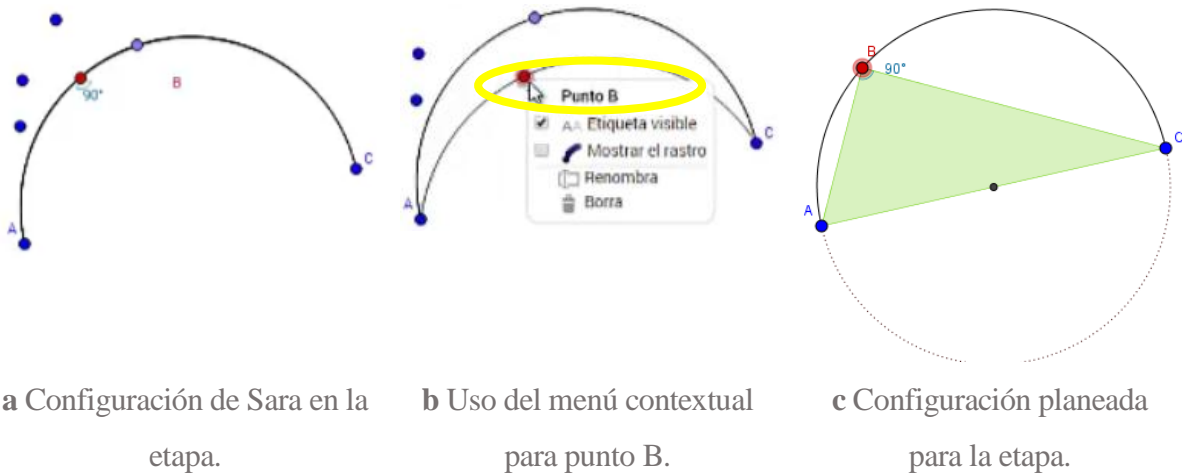


Figura 180. Configuración etapa 4, de la tarea 1.

Luego de iniciar esta etapa, Sara manifestó en voz alta “y aquí cual es el punto B” pues la etiqueta de este punto se encontraba distante (Figura 180.a.). La estudiante confundida intentó arrastrar el punto más cercano a la etiqueta sin conseguirlo, en ese momento la docente arrastró a B y le mostró que dando clic derecho, aparecía el nombre del elemento geométrico sobre el cual se hizo clic (Figura 180.b.).

La docente también se percató que la configuración mostrada no coincidía con la preparada. Esto sucedió pues Sara en la etapa anterior borro el triángulo y con este también borró el punto medio del segmento AC, ambos elementos geométricos deberían aparecer en esta configuración, en la Figura 29.c. se puede ver la configuración tal como debería haberla visto Sara.

La docente decidió que Sara continuara el desarrollo de la etapa y de la tarea a pesar de los cambios en la configuración, ya que de reiniciar, la estudiante podría perder lo realizado. La docente movió a B y explicó a Sara que debía fijar su atención en la curva que se movía junto con B e intentar responder qué condición debía cumplir la curva para que el ángulo midiera 90° . Sara inició su exploración arrastrando a B por diferentes lugares.

Sara, durante un corto periodo de tiempo (30 segundos), arrastró al punto B por diferentes lugares, algunos pueden verse en la Figura 181, sin embargo, resaltamos que los últimos arrastres al punto B los realizó siguiendo una línea recta imaginaria que apuntaba al punto en la semicircunferencia como se aprecia en la Figura 181 (b - f) y que tras llegar a sobreponer a B con el punto mencionado cesó su exploración.

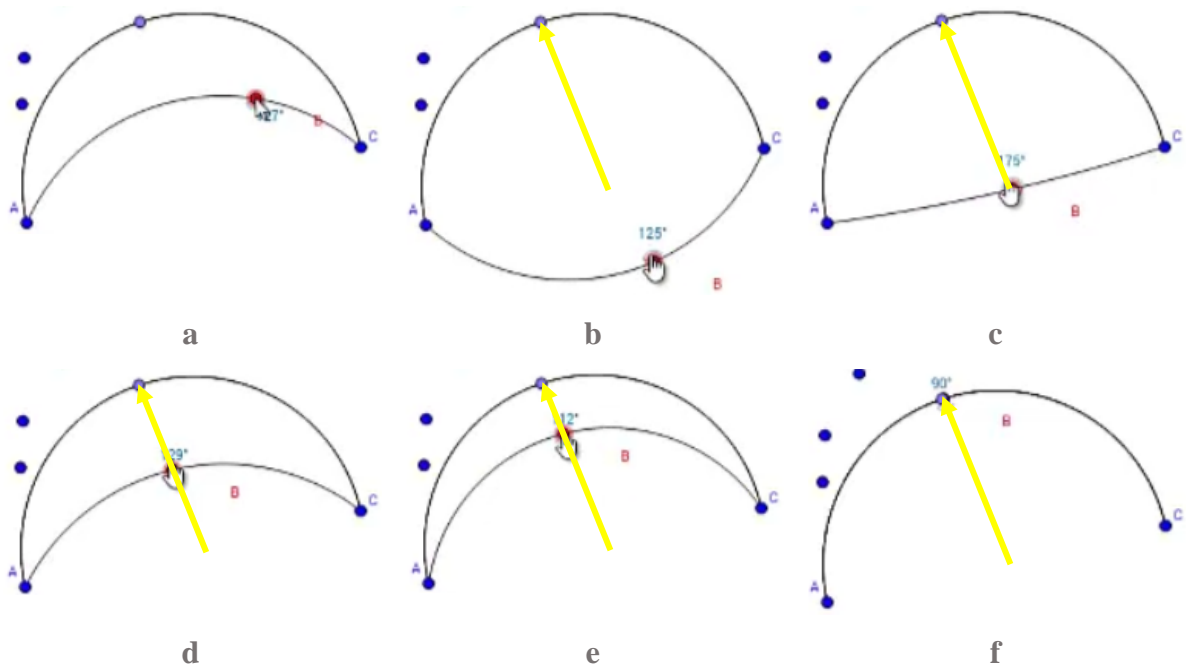


Figura 181. Arrastres hechos por Sara durante la etapa 4, de la tarea 1.

Tras finalizar la exploración, Sara llamó la atención de la docente diciendo “profe, ya! Ahí en donde estaba da 90” situación que fue contestada por la docente recordándole la pregunta en el enunciado. Luego de un breve momento en silencio de Sara, la docente dijo “qué condición debe tener esa curva para que ese ángulo sea siempre de 90°” con lo cual Sara inició la escritura de su respuesta, ella escribió: “la condición que debe tener es que debe ser una semicircunferencia para que mida 90 o el arco de tres puntos podría ser” [sic], pensamos que la estudiante basó su afirmación tanto en la apariencia de la configuración como en las construcciones de la semicircunferencia y el arco por tres puntos realizadas previamente y, por tal motivo se corresponden con los esquemas de argumentación de recuento factico y empírico. [MAPA, FVC/FVS, EAR/EAE].

Sara continuó a la etapa siguiente, *Generaliza. 5. Se presentan dos opciones para trazar diferentes circunferencias. Mueve el punto B sobre cada circunferencia trazada y observa qué pasa con la medida del ángulo.*

- *Trazar circunferencia con diámetro AC.*
- *Trazar otra circunferencia.*

Sara inició su exploración eligiendo mostrar la circunferencia de diámetro AC. Ella llevó a B por lugares al interior de la circunferencia, la docente se percató de este arrastre y le dijo a la estudiante que debía ser sobre la circunferencia. Sara hizo algunos movimientos más, arrastrando a B en algunos casos al interior de la circunferencia y otros por sobre la misma y, eligió la otra circunferencia e hizo arrastres de B de manera similar. Luego Sara en diálogo con la docente manifestó:

1	Sara	No profe yo sigo sin entender.
2	Profesor 2	Bueno, ¿ya miraste qué pasaba cuando movías el punto sobre la circunferencia? ... Si lo mueves sobre esta [refiriéndose a mover a B sobre la circunferencia que no tiene diámetro AC] ¿qué pasa?
3	Sara	Pues nada!
4	Profesor 2	¿Qué diferencia hay si mueves sobre esta o sobre la otra [circunferencia], en cualquier lugar?
5	Sara	Que en esa disminuye [la medida del ángulo, señalando la circunferencia de diámetro AC] y en la otra [circunferencia] aumenta [la medida del ángulo].

Como podemos evidenciar en la transcripción, Sara precisó de ayuda para poder identificar que hacer en esta etapa, aun así los arrastres realizados por la estudiante resultaron poco reveladores, erráticos, pues a pesar de mencionar que en una circunferencia el ángulo disminuye respecto a la otra [MAE, FVC, EAE], esta afirmación es verdad solo en algunos casos, ella la realizó basándose en lo visto durante los arrastres realizados y, creemos, revela que realizó los arrastres sin saber en qué poner su atención, así que fue necesaria una nueva intervención de la docente:

6	Profesor 2	Recuerda qué estábamos haciendo, qué estábamos buscando que ocurriera... ¿Qué esas observando cuando pones el punto sobre la circunferencia AC [de diámetro AC] o sobre la otra circunferencia?, acuérdate qué estábamos buscando en los puntos anteriores.
7	Sara	Al mover B, ¿qué pasa? Pues yo veo que casi no pasa nada
8	Profesor 2	¿Cómo qué no?, muévelo [al punto B] sobre [la circunferencia] y mira la medida

9	Sara	¿Y a donde queda sobre?
10	Profesor 2	¡Pues encima! ... [La estudiante llevó a B a la circunferencia de diámetro AC] ¡ahí!
11	Sara	Bueno, pues yo...
12	Profesor 2	Si está sobre esa [circunferencia de diámetro AC], ¿qué pasa?

Creemos que algo en el diálogo entre la docente y Sara hizo que la estudiante comprendiera la instrucción y el objetivo, así ella continuó arrastrando a B, esta vez el arrastre del punto lo realizó procurando ir sobre la circunferencia de diámetro AC (Figura 182 a - c) y refiriéndose a este arrastre con expresión de descubrimiento mencionó “que solo mide 90, 92, 90...”. Ella, guiada por la circunferencia, arrastró a B sobre casi la totalidad de la curva. Por el arrastre y la intención de lo realizado por Sara consideramos que lo hecho por ella se corresponde con la función de variación separación pues experimentó variando solo la posición de B, mientras el resto de la configuración se mantuvo, con la finalidad de identificar la propiedad descubierta y mencionada atendiendo a lo observado en el dibujo [MAG, FVS, EAE].

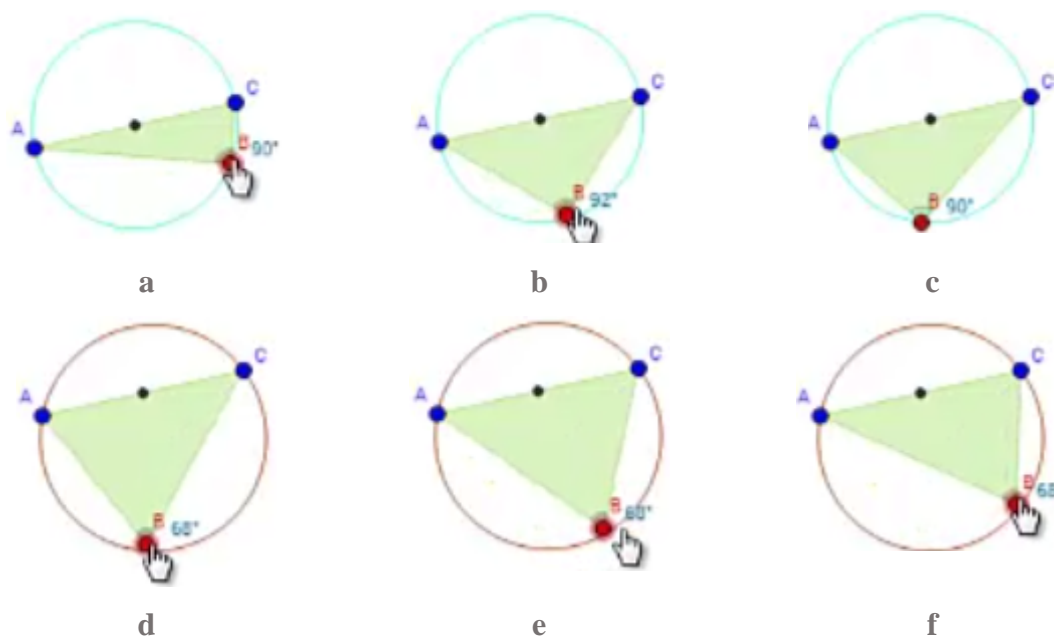


Figura 182. Arrastres realizados por Sara etapa 5, de la tarea 1.

Sara decidió marcar la opción *Trazar otra circunferencia*, arrastró a B hacia la circunferencia trazada e inició su exploración, después de realizar unos pocos arrastres (Figura 182 d-f) ella manifestó “¡huy ya cambia!” la docente le preguntó ¿ya ves otra medida? A lo que Sara asintió. La docente aprovechó para preguntar ¿entonces cuál es la conclusión que sacas?

13	Sara	Con el diámetro AC [el ángulo] solo mide 90, 93, 92, 90 grados y en cambio en la otra circunferencia, cambia el ángulo...
14	Profesor 2	¡Sí!, pero ¿qué pasa si pones el punto exactamente sobre la circunferencia?, ¿te dan cercanos a 90°? o ¿qué pasa?

Lo dicho por Sara [13] se corresponde a una afirmación en la que menciona algunas de las medidas encontradas durante el arrastre del punto sobre las circunferencias, a manera de recuento, también se corresponde con las funciones de contraste y separación pues en el caso de la primera ella experimentó variando la circunferencia trazada y las posiciones de B, así tuvo la oportunidad de contrastar lo que sucedió en una o en otra posición o circunferencia, en el segundo caso, se corresponde con separación pues el arrastre fue realizado con la finalidad de descubrir que sucedía al arrastrar a B sobre cada circunferencia [MAG, FVS/FVC, EAR].

Debido a lo dicho por la docente [14] Sara marcó la opción *Trazar circunferencia con diámetro AC* y arrastró a B hasta ajustar su ubicación exactamente sobre la circunferencia, esto le permitió comprobar que en efecto, al arrastrar a B sobre la circunferencia la medida del ángulo era 90°, por lo que se enmarca en la modalidad de arrastre para ajustar y en la función de variación generalización pues le sirvió para verificar la invariabilidad de la medida del ángulo al arrastrar a B sobre la circunferencia de diámetro AC. Acto seguido, Sara escribió su respuesta: “en la circunferencia el diametro debe ser AC para que el angulo b mida 90° en diferentes lugaren de la circunferencia” [sic] [MAPA, FVG, EAD].

La estudiante continuó con la etapa *Concluye. 6. De acuerdo con lo que observaste. ¿Cuál de las opciones sería la conclusión del problema? Deja seleccionada UNA, la que más te parezca. Apóyate en la construcción para verificar si tu selección es apropiada.*

La estudiante marcó la primera opción, y mencionó que no pasaba nada pues ella esperaba un cambio en la configuración, la docente tuvo que indicarle que se fijara en el texto que apareció en la parte inferior del applet. Sara leyó: *Si el segmento AC es diámetro de una circunferencia y B es otro punto de la circunferencia, ENTONCES, el triángulo ABC tiene un ángulo recto en el vértice B.*

Sara preguntó ¿solo escojo una opción?, la docente asintió y la estudiante continuó con la lectura de cada opción de conclusión, tras lo cual exclamó ¡y solo puedo una!... ¡cuál escojo! La docente le mencionó que debía seleccionar la que mejor le pareciera. Sara continuó

manifestando que era difícil elegir una, a lo que la profesora le cuestionó: ¿Por qué? ¿Te parecen posibles varias? ¿Cuáles?

15	Sara	La uno ¡no!
16	Profesor 2	¿Por qué?
17	Sara	No sé! [Leyó de nuevo la opción 1, hizo un pausa]... pero la... pero la cuatro yo digo que sí [marcó la opción 4 y la leyó de nuevo].

La opción 4 decía: *SI el segmento AC es el diámetro de una circunferencia y se traza el triángulo ABC, ENTONCES el punto B pertenece a la circunferencia.*

Sara se marcó y leyó la opción 3, *SI en un triángulo ABC, el ángulo en el vértice B es recto, ENTONCES los puntos A, B y C están contenidos en una circunferencia de diámetro AC.* Tras una pausa, preguntó a la docente sobre qué es un vértice, la docente le respondió que los vértices de los triángulos son los punticos que lo determinan, a lo que Sara contestó, voy a elegir la 3 porque me dice que el triángulo de aquí [señalando con sus dedos el triángulo ABC en pantalla] con el vértice que arrastré pues entonces los puntos A, B, C están contenidos en una circunferencia de diámetro AC, pues si!

Sara continuó a la siguiente etapa: *Aplica. 7. Mueve los puntos P, Q y R para que el triángulo representado tenga un ángulo de 90°. ¿Por qué crees que esa debe ser la ubicación de los puntos? Explica.*

Sara preguntó sobre cómo podía hacer para saber la medida del ángulo si no estaba el “numerito”, la docente le mencionó que debía usar lo que hizo en los anteriores ejercicios. La estudiante arrastró los tres puntos, P, Q, R y se percató que solo se movían sobre la circunferencia. De esta manera, ella tomó la configuración inicial (Figura 183.a.) y arrastró los puntos hasta obtener la configuración de la Figura 183.b. y llamó la atención de la docente:

18	Sara	¿Así profe?, ¿ahí es?
19	Profesor 2	¿Ahí tienes un ángulo recto?, ¿cuál?
20	Sara	Sí, eso creo. P es recto.
21	Profesor 2	¿Cómo haces para saber que P es recto?
22	Sara	Pues es que puse como un diámetro acá [señalando el segmento RQ]...
23	Profesor 2	¿Y eso qué tiene que ver?
24	Sara	Pues es que como puse un diámetro y hay una circunferencia el ángulo es recto.
25	Profesor 2	Tú pusiste el segmento RQ como diámetro, y ¿qué pasó con el punto P?

26	Sara	Nada, porque está en la circunferencia.
----	------	---

Dicho esto, la profesora cuestionó a Sara sobre si el ángulo P siempre sería recto, a lo que Sara contestó moviendo a P para mostrarle a la profesora que estaba sobre la circunferencia (Figura 183.c.) y dijo que sí. La docente le pidió responder a la pregunta y terminar pues el tiempo de clase se agotaba. Sara contestó: “porque el ángulo p en cualquier lugar de la circunferencia mide 90° porque el diámetro de la circunferencia es RQ” [sic].

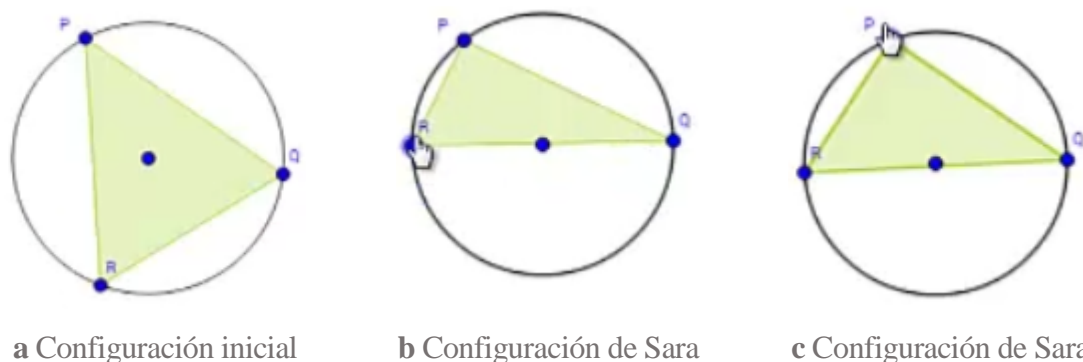


Figura 183. Configuraciones obtenidas en distintos momentos etapa aplica de la tarea 1.

Los arrastres realizados en esta etapa se corresponden a modalidad de arrastre guiado limitado, porque los puntos estaban limitados a la circunferencia, y modalidad de arrastre para ajustar, pues Sara ajustó el segmento RQ como diámetro de la circunferencia. Respecto a las funciones de la variación creemos que someter a la estudiante al reto de obtener un ángulo recto con la configuración dada favoreció la fusión pues ella debió emplear lo encontrado en las exploraciones pasadas para poder dar respuesta de manera correcta dando significado a la configuración que ella obtuvo (Figura 183 b-c). Al respecto de las afirmaciones realizadas por Sara, en particular las encontradas en las líneas [18 a 26] de la última transcripción y la respuesta que dio a la etapa pudimos evidenciar que existe una cadena deductiva, desprendida del dibujo y apoyada en las exploraciones previas, lo que nos hace pensar que se corresponde con un esquema de argumentación analítico [MAG/MAPA, FVF, EAD].

10.5.2. Tarea 2. Ángulo con medida constante

En esta tarea se verá cómo Sara realizó de manera perfecta algunos arrastres guiados, en línea (usando la herramienta *Mostrar Huella*) y con rastro activado, dentro de la función de

separación. Sin embargo, al final se evidencia que la estudiante tiene dificultades para generalizar lo que se observa en esos arrastres, de modo que le cuesta establecer una conclusión general.

Sara inició la primera etapa de la tarea:

Anticipa. 1. Mueve el punto B y elige una medida para el ángulo B. Escribe la medida que elegiste en la caja verde. ¿Crees que el punto B se puede mover a otro lugar, manteniendo la misma medida que elegiste? ¿Podrías decir en cuántas posiciones se puede ubicar el punto B?

Luego de observar la pantalla por un momento, aparentemente leyendo el enunciado, Sara seleccionó el punto B y empezó a arrastrarlo de manera aleatoria en la pantalla (Figura 184).

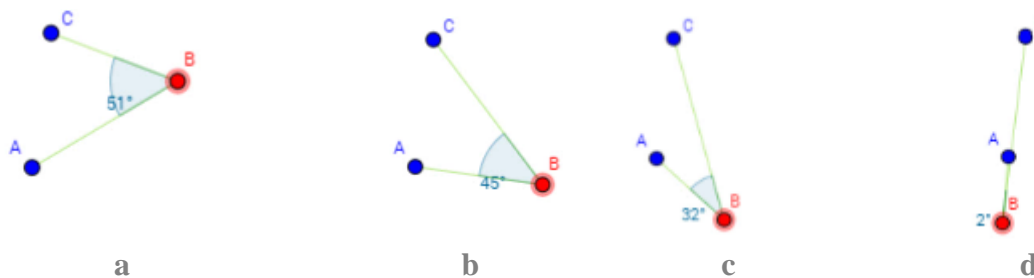


Figura 184. Arrastres erráticos de Sara en la primera etapa de la Tarea 2.

En esta acción reconocemos un arrastre errático, ya que Sara lo ejecutó sin una estrategia aparente. Adicionalmente, dado que la estudiante estaba modificando una sola dimensión de la configuración, consideramos que se encontraba en la función de variación de separación [MAE, FVS, 0].

A continuación, Sara dejó el punto B en una posición tal que el ángulo era de 50° (Figura 185.a.) y, luego, buscó mediante el arrastre otra posición en la que el ángulo también tuviera esta medida (Figura 185.b.). Es decir, la alumna estaba ahora haciendo arrastres para ajustar la configuración a la medida que ella había elegido y se encontraba en la función de contraste, dado que comparaba las posiciones del punto que favorecían la medida y aquellas que no lo hacían [MAPA, FVC, 0]. Al obtener estos resultados, Sara decidió escribir la medida de 50° en la caja verde y se dirigió a uno de los docentes.

1	Sara	Oye, una pregunta... aquí donde dice en cuántas posiciones se puede poner... pero en ese número [haciendo referencia la medida del ángulo elegido, es decir, 50°].
---	------	--

2	Profesor 2	Sí, como tú elegiste 50° , vas a trabajar con esa medida, entonces intenta buscar otras posiciones donde también exista esa medida.
---	------------	--

Sara continuó buscando posiciones en las que el punto B determinara una medida de 50° para el ángulo. Ella arrastraba el punto hasta encontrar medidas cercanas a 50° y, luego, realizaba movimientos más precisos para ajustar la medida (Figura 185), de manera que se mantenía haciendo arrastres para ajustar enmarcados en la función de contraste [MAPA, FVC, 0]. Tras hacer estos arrastres, se dirigió a otro de los profesores:

3	Sara	Profe, ¿aquí toca poner el número específico de cuantas posiciones se puede tener ese ángulo?
4	Profesor 1	Sí tú quieres, ¿cuántas crees?
5	Sara	Pues ya llevo 6.
6	Profesor 1	Por eso, si siguieras... ¿Habrían más? [más posiciones del punto B donde la medida del ángulo sea 50°]
7	Sara	Yo creo que sí... Bueno...

Sara escribió como respuesta a esta etapa: “Se puede poner en seis posiciones y probablemente se puede poner en otras posiciones” [*sic*]. De esta forma, ella avanzó a la etapa siguiente. Esta respuesta se basa en los arrastres para ajustar ejecutados dentro de la función de contraste, por lo que lo clasificamos como un argumento de carácter empírico [MAPA, FVC, EAE].

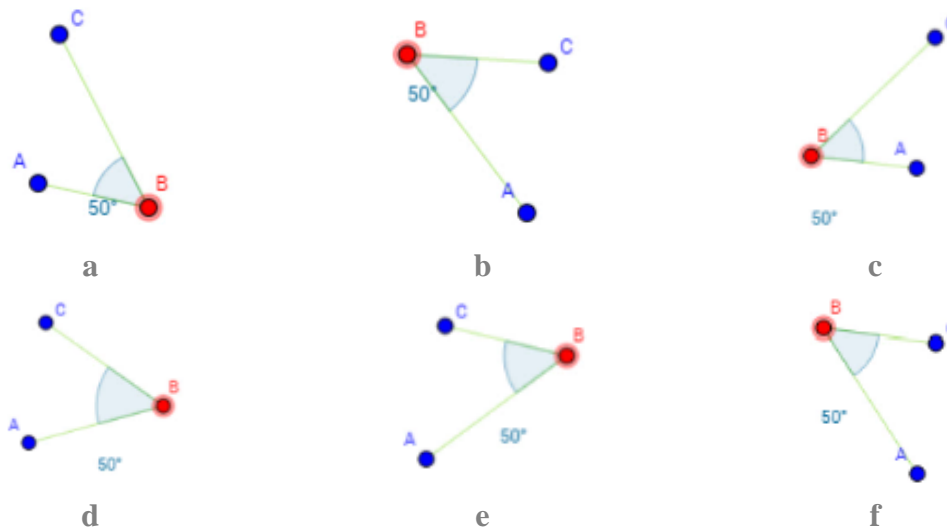


Figura 185. Arrastres para ajustar de Sara en la primera etapa de la Tarea 2.

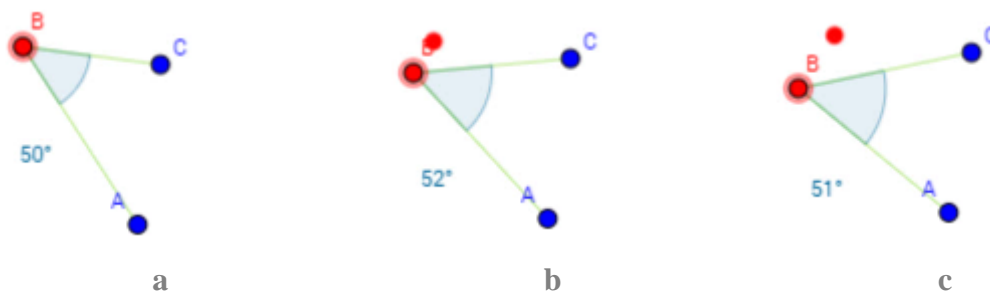
Verifica. 2. Mueve el punto B tratando de mantener la medida de 50°. Luego de mover el punto B por distintas partes manteniendo la medida del ángulo, habilita la opción Mostrar Huella. ¿Qué figura se forma con la huella del punto B?

Al empezar esta etapa de la tarea, Sara parecía un poco confundida. Uno de los profesores le explicó qué debía hacer.

8	Profesor 2	Vamos a trabajar es con esta opción de acá, pero aún no la vamos a activar [se refiere a la herramienta <i>Mostrar Huella</i>]. La idea es que trates de mover el punto B manteniendo la medida de 50°, o sea, trata de mirar cómo lo mueves de manera que se mantenga esa medida. Cuando creas que ya hayas hecho un recorrido lo suficientemente largo, le das mostrar huella, ¿listo? Intenta hacerlo.
9	Sara	Bueno.

Sara empezó a mover el punto, mientras la docente le enfatizaba que debía mantener la medida de 50°. Durante el arrastre realizado por Sara, el ángulo tomó medidas cercanas a 50°, dado que era difícil que tomara exactamente la medida deseada (Figura 186).

Este arrastre ejecutado por la alumna, corresponde a un arrastre guiado dado que, a lo largo del movimiento, la estudiante busca mantener la medida en la configuración. Difiere de los arrastres ejecutados en la etapa 1 porque allí no se mantenía la medida a lo largo del arrastre, sino que se buscaba una posición particular que favoreciera la medida. Además, esta acción de arrastre corresponde a la función de variación de separación, dado que la estudiante se fija en la dimensión de variación dada por el vértice del ángulo [MAG, FVS, 0].



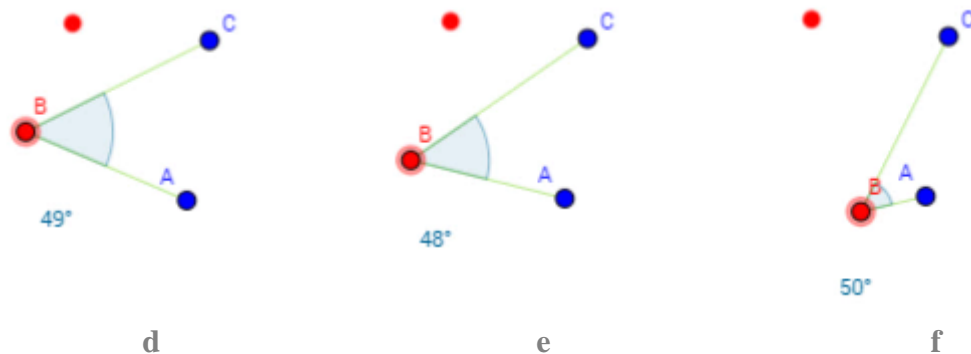


Figura 186. Arrastre guiado de Sara, en la segunda etapa de la Tarea 2³⁰.

Mientras realizaba estos arrastres, parece que Sara tuvo dificultades, especialmente en los sectores cercanos al punto A. Cuando llegó a esta parte, le costaba encontrar posiciones que favorecieran la medida. Entonces volvió a hablar con la docente.

10	Profesor 2	¿Has visto por dónde es la cosa?
11	Sara	Sí, pero... Es que... o sea, si lo hago hacia acá [el punto B forma un ángulo de 50°] y lo sigo acá [moviendo a B verticalmente hacia abajo] se vuelve muy pequeñito [la medida del ángulo] y no sé hacia dónde moverlo para que quede 50°.
12	Profesor 2	A ver... Inténtalo.
13	Sara	[Sara arrastra el punto B hacia un nuevo lugar en el que la medida del ángulo es de 50° (Figura 187.a.)]
14	Profesor 2	Ahí, ¿y por dónde crees tú que hay que moverlo? [Haciendo referencia al arrastre para hallar la medida del ángulo en 50°]
15	Sara	Pues quería como darle la vuelta, pero no, no puedo porque ya se cierra mucho acá [al intentar acercar B al punto A].

Sara continuó arrastrando el punto B cerca de A, pero no lograba mantener la medida que buscaba (Figura 187 b–d). Aunque no era del todo efectiva su estrategia, la intención de la alumna era realizar un arrastre guiado y separar la dimensión del vértice del resto de la configuración [MAG, FVS, 0]. A continuación, la docente intervino para realizar un acercamiento de la pantalla que le permitiera hacer estos arrastres de manera más precisa (Figura 187.e.). Así, Sara siguió realizando el arrastre, manteniendo la medida de 50° y, luego de un rato, por sugerencia de la profesora, activó la opción *Mostrar huella* (Figura 187.f.). Estos arrastres guiados continúan asociándose con la función de separación, dado que el interés

³⁰ El punto rojo diferente al punto B, que se observa en este arrastre, es el resultado del rastro del punto que la alumna activó accidentalmente. Luego lo desactivó.

de la alumna era descubrir patrones o propiedades en esta dimensión de variación [MAG, FVS, 0].

Sara se decepcionó al ver el resultado y la profesora le sugirió seguir el procedimiento, pues debía encontrar alguna figura en la huella que dejaba el punto B. No obstante, ante las evidentes dificultades que presentaba Sara, la profesora le sugirió usar una nueva técnica para hacer el arrastre. Esta técnica consistía en arrastrar el punto usando la combinación de las teclas de dirección y la tecla Shift.

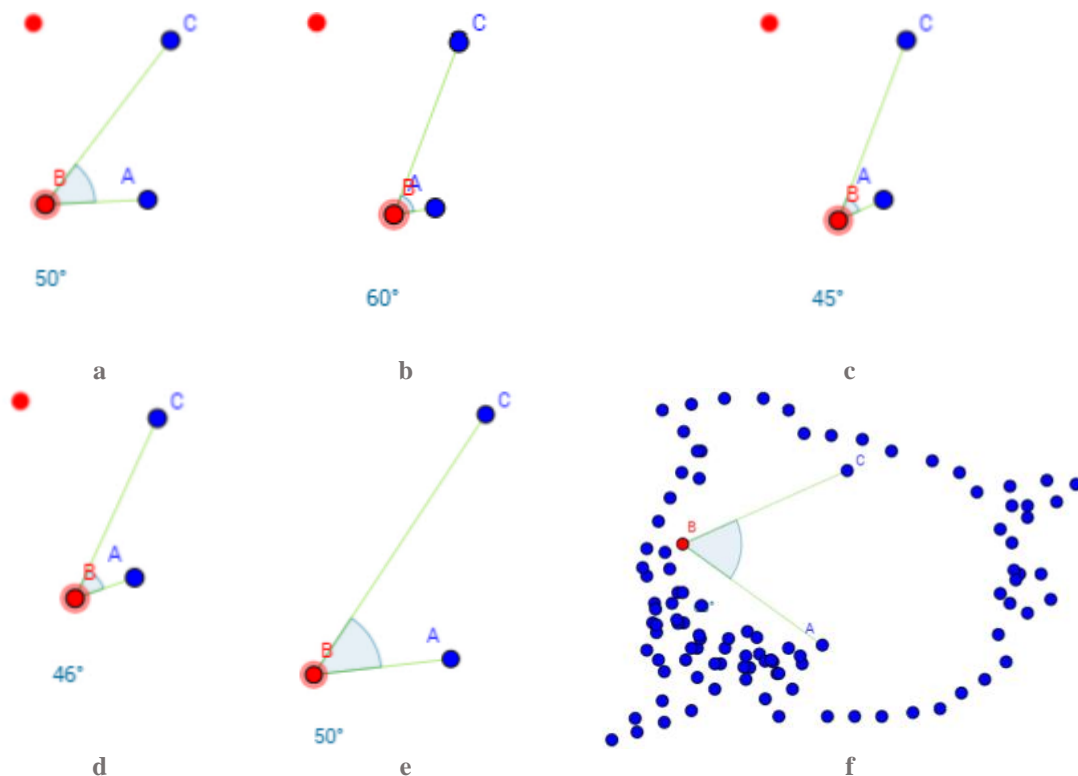


Figura 187. Arrastres de Sara en la segunda etapa de la Tarea 2.

16	Profesor 2	Vamos a intentar otra cosa. Vamos a mantener presionada esta tecla, la tecla shift, y presionas la flechita hacia arriba y vamos a mover el punto, ¿ves?, ahí se mantiene en 50°, se mantiene en 50° (Figura 188 a-b)... ¿Ves? Ahí cambió (Figura 188.c.), entonces tal vez tengo que moverme hacia otro lado y me sigo moviendo...
17	Sara	¡Ah! Así es más fácil...
18	Profesor 2	Y me sigo moviendo, ahí cambió (Figura 188.d.)... Entonces me tengo que mover hacia algún lado... Tú eliges hacia donde, aquí me sirve, sigo moviendo, ya me cambió, no me sirve, busquemos el camino otra vez... Inténtalo a ver cómo te va con esa...
19	Sara	[Sigue la instrucción, haciendo el arrastre del punto B].

20	Profesor 2	Exactamente, ¿si ves?, que en algunas partes tienes que irte hacia el mismo y en otras hacia atrás...
----	------------	---

Sara realizó el arrastre siguiendo esta técnica, aunque perdía la medida cuando se acercaba al punto A (Figura 188 e-f), continuó haciendo el arrastre durante un rato [MAG, FVS, 0].

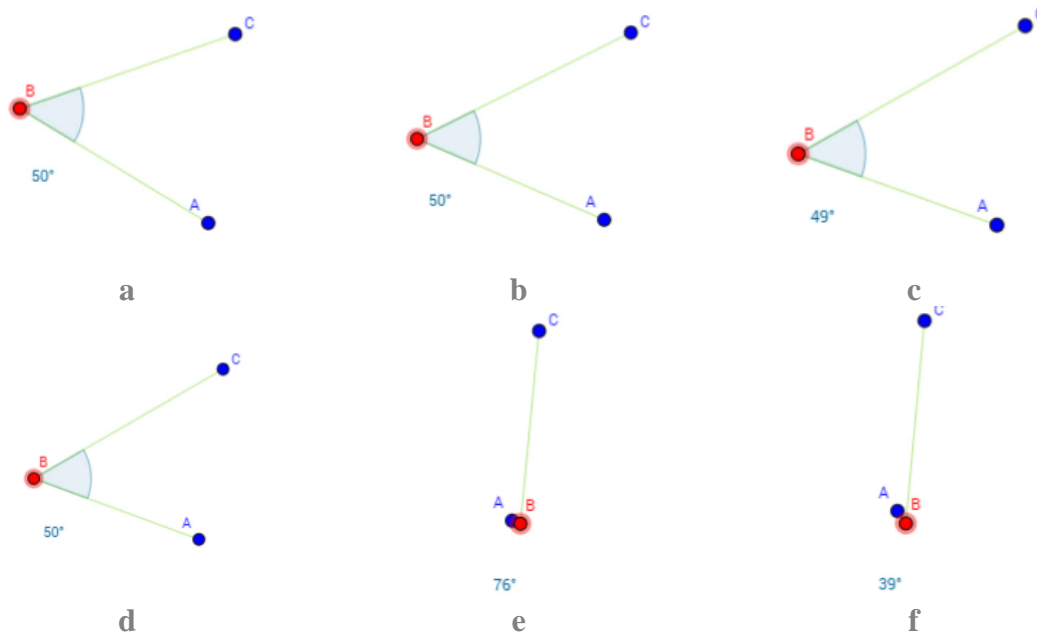


Figura 188. Uso de las teclas de dirección y Shift para realizar el arrastre.

Luego de realizar un recorrido bastante largo alrededor de los puntos A y C, la profesora le sugirió a Sara que activara la herramienta *Mostrar Huella*. Al hacerlo, observó el recorrido reciente que había seguido el punto B (Figura 189).

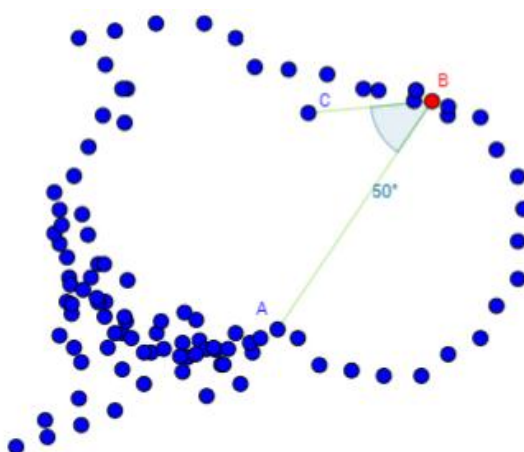


Figura 189. Segunda visualización del recorrido con la herramienta *Mostrar Huella* ejecutada por Sara.

Observando el resultado, Sara y la profesora tuvieron el siguiente diálogo.

21	Profesor 2	Si ves sobre todo la última parte que has recorrido.
22	Sara	O sea, es que eso era lo que quería ver, para ver si más o menos manteniéndolo en 50° y haciendo la vuelta sobre los puntos hacia como una circunferencia, pero...
23	Profesor 2	Parece que no...
24	Sara	Sí [risas].
25	Profesor 2	Pero mira que ese último giro que hiciste [se refiere a la huella de arrastre que hizo la estudiante buscando la medida del ángulo de 50°]...
26	Sara	Sí, se trató más o menos de marcar [se refiere al último arrastre que había hecho buscando que la media del ángulo fuera de 50°].
27	Profesor 2	Aquí te mantuviste bien... [señala las huellas que dejó el punto B al ser arrastrado por la estudiante] En esa última medida, aquí fue donde tuviste más problemas [señala el inicio del arrastre donde a la estudiante se le dificultaba hallar la medida del ángulo de 50°].
28	Sara	Por lo que se abría y se cerraba, como mucho.
29	Profesor 2	Sí... Pero tú puedes sacar alguna idea ¿No te parece?
30	Sara	¿De qué, de la figura?
31	Profesor 2	De la figura... ¿Qué parecería que se formara?, Si quieres puedes seguir explorando otro poquito porque acá parece que se perdió la figura [señalando los primeros arrastres que realizó la estudiante en la parte superior izquierda (Figura 189)]
32	Sara	[Asiente con la cabeza]
33	Profesor 2	Ocúltala para que no te moleste y sigue moviendo y síguelo moviendo.

Sara continuó realizando el arrastre del punto B, manteniendo la medida de 50° o una medida cercana a este valor. Después de un rato, activó la herramienta *Mostrar huella* y observó el camino recorrido (Figura 190.a.). Sin embargo, ella aún no le veía forma a este camino, así que continuó haciendo el proceso. La profesora le sugirió que continuara por los sectores en los que la figura parecía más irregular. Esta vez, Sara realizó el recorrido teniendo algunas veces la opción *Mostrar Huella* activa. En estas acciones se observa que Sara tenía un interés particular por analizar el camino que recorría el punto, manteniendo la medida, a partir de los puntos que marcaban las posiciones recorridas. En consecuencia, el arrastre ejecutado puede asociarse con un arrastre en línea dentro de la función de variación de separación [MAEL, FVS, 0].

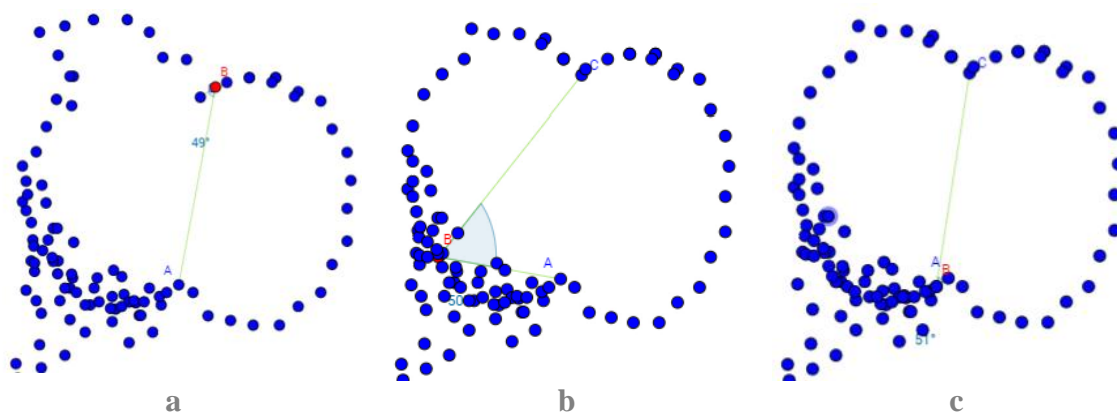


Figura 190. Diferentes usos de la *Herramienta huella* ejecutados por Sara³¹.

Posteriormente, Sara obtuvo el resultado que se observa en la Figura 190.b. y la profesora la invitó a describir la figura que se observaba, pero ella aún no sabía cómo hacerlo. Sara repitió el procedimiento en otros sectores y volvió a hacer uso de la herramienta (Figura 190.c.). Luego, volvió a conversar con la docente.

34	Profesor 2	¿Qué pasó?
35	Sara	No le veo forma...
36	Profesor 2	¿No le ves forma?
37	Sara	Pues... Pues...
38	Profesor 2	¿Qué observas en el recorrido? Tiene que tener alguna forma, ¿no crees?
39	Sara	O sea, pues, con ese contornito si me dijeran que hiciera una línea por esos punticos, haría con eso un dibujo, pero a eso no le veo forma.
40	Profesor 2	¿Qué dibujo harías?
41	Sara	Haría unos ojos pegados. [Risas]
42	Profesor 2	Intenta describir eso geoméricamente.
43	Sara	Pues no sé... Siento que se pudo haber formado ahí una circunferencia, pero...
44	Profesor 2	¿Una circunferencia? ¿Cuál?
45	Sara	Es que... Es precisamente cuando llego a estos puntos, mira [señala los puntos A y C]. Cuando llego ahí que el ángulo como que se corre mucho con un movimiento, ¿ves? Digamos, si lo corro ya queda muy abajo o muy arriba [refiriéndose a la medida del ángulo: menor o mayor a 50°].
46	Profesor 2	¿Ahí te parece que cambia la forma?
47	Sara	[Asiente con la cabeza]... Porque es como que solamente ahí lo que no me deja definirlo como circunferencia porque se cierra mucho.
48	Profesor 2	Ok. Pero, ¿podrías decir qué forma tiene ese recorrido que hiciste?
49	Sara	Uhm... Como un círculo raro...
50	Profesor 2	¿En dónde ves el círculo?
51	Sara	Por estos lados [hace un movimiento con sus dos manos señalando los dos arcos de circunferencia que tiene en pantalla]. Es que ahí [señala la cercanía a los

³¹ En este caso, la figura se veía un poco alargada porque, a través del arrastre, Sara modificó la escala de la vista gráfica.

	puntos A y C], es ahí donde se cierra... Es lo que no...
--	--

En la conversación anterior se observa que Sara tiene dificultades para reconocer la forma geométrica de la figura obtenida. Sus respuestas corresponden más a una descripción del resultado obtenido [41, 45]. Por lo tanto, lo consideramos un argumento empírico que tiene origen en el arrastre en línea ejecutado dentro de la función separación [MAEL, FVS, EAE].

La profesora notó que la estudiante había modificado la escala. Así que realizó el ajuste para dejar la visualización en una escala 1:1 (Figura 191).

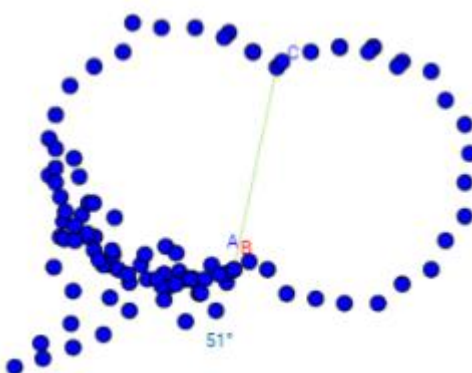


Figura 191. Ajuste de la profesora a la escala de la Vista gráfica en la tarea 2 de Sara.

52	Sara	Ahora sí tiene más cara de círculo.
53	Profesor 2	Claro, ahorita cuando lo estabas moviendo, tú como que lo alargaste, pero este es el tamaño, digamos que real].
54	Sara	Sí, porque... Pues ahora ya cogió más forma, ya se ve como más... ¿Sí?, Parecen dos círculos unidos, pero no sé...
55	Profesor 2	Ahí ya... Ese es el recorrido que tú has hecho.
56	Sara	Pues si le veo forma a eso, pero no sé cómo...
57	Profesor 2	Tú ya dijiste algo muy importante.
58	Sara	Que parece un círculo... Bueno sí... Parece una circunferencia, pero...

Sara creía que los puntos deberían formar una circunferencia, pero al no obtenerla, ella parecía bastante confundida. Aunque señaló que la trayectoria de los puntos podía corresponder a dos círculos [54], su hipótesis estaba más relacionada con la circunferencia que esperaba obtener y con el cambio que se observa en la trayectoria en las proximidades de los puntos A y C. Sus respuestas corresponden básicamente a la descripción de lo observado, es decir, un esquema de argumentación empírico basado en el arrastre realizado [MAEL, FVS, EAE]. En este momento, Sara empezó a escribir su respuesta, mientras volvía a conversar con la docente.

59	Profesor 2	¿Qué quieres explicar finalmente?
60	Sara	O sea, pues, quiero escribir que se formaría una circunferencia si... No sé cómo llamarle a esa línea [hace referencia al segmento AC]. Eh... Que si ese fuera el diámetro de la circunferencia para que en cualquier posición del borde de la circunferencia se mantuviera en 50° .
61	Profesor 2	¿Tú crees que si se forma? ¿Si se mantiene toda la circunferencia la medida?
62	Sara	Siguiendo la línea del borde.
63	Profesor 2	Del borde de la circunferencia.
64	Sara	Si ese fuera el diámetro [hace referencia al segmento AC].
65	Profesor 2	¿Qué es el diámetro de una circunferencia?
66	Sara	Eh.
67	Profesor 2	Si tú tienes una circunferencia, ¿cuál es su diámetro?
68	Sara	El punto del centro.
69	Profesor 2	Ese es el punto del centro.
70	Sara	Eh.
71	Profesor 2	¿El diámetro es un punto?
72	Sara	No, el diámetro es la línea [segmento], si se puede decir, es el que está entre el centro y el borde de la circunferencia...
73	Profesor 2	Ese que tú estás diciendo es el radio.

La profesora le explica a Sara lo que es un radio y lo que es un diámetro y le sugiere que, con base en esto, revise sus conclusiones. No obstante, la estudiante sigue afirmando que el resultado debería ser una circunferencia de diámetro AC. De esta forma continuó la conversación.

74	Profesor 2	A ver, volvamos a retomar. Tú querías mantener la medida de 50° .
75	Sara	Sí.
76	Profesor 2	Hiciste el recorrido manteniéndola, ¿cierto? Se mantenía, ibas entre 49° y 51° , te ibas acercando y este fue el resultado que obtuviste, ¿cierto? Ahora, tú hiciste tu recorrido bien, nosotros vimos que la medida se mantenía... Ahora trata de mirar qué figura ves en ese rastro que obtuviste.
77	Sara	Pues, se formaría una circunferencia.
78	Profesor 2	¿Cuál? ¿Cuál es la circunferencia?
79	Sara	Esta, pero... O sea, todo eso es una circunferencia [señala toda la figura que tiene en pantalla]. Pero, está deforme.

Luego de estas conversaciones, Sara registró la siguiente respuesta: “Se formaría una circunferencia si la medida del diámetro fuera más grande o la medida del ángulo B fuera más pequeña” [sic]. Sin embargo, la profesora le señaló que su respuesta no respondía a la pregunta, porque lo que debía hacer era describir la forma de la figura que había obtenido. No obstante, Sara mantuvo esta respuesta y avanzó a la siguiente etapa.

Esta última afirmación de Sara en la respuesta corresponde a un esquema de argumentación analítico, aunque erróneo, pues tiene la estructura deductiva si-entonces. La modalidad de arrastre continúa siendo en línea, influenciado por el uso de la herramienta *Mostrar Huella*. La función de variación sigue siendo de separación [MAEL, FVS, EAD].

Explora. 3. Se han creado algunos puntos auxiliares. Muévelos a diferentes lugares para que el ángulo que marquen sea de 50° . ¿Qué figura se puede formar con los puntos? ¿Es la misma figura que esperabas?

Para empezar la etapa, la profesora alejó un poco la vista gráfica para que se observaran todos los elementos de la etapa (Figura 192.a.). Luego, Sara empezó a arrastrar los puntos para obtener una medida de 50° en todos los ángulos que determinaban. Este proceso le tomó bastante tiempo, hasta que obtuvo la configuración de la Figura 192.b).

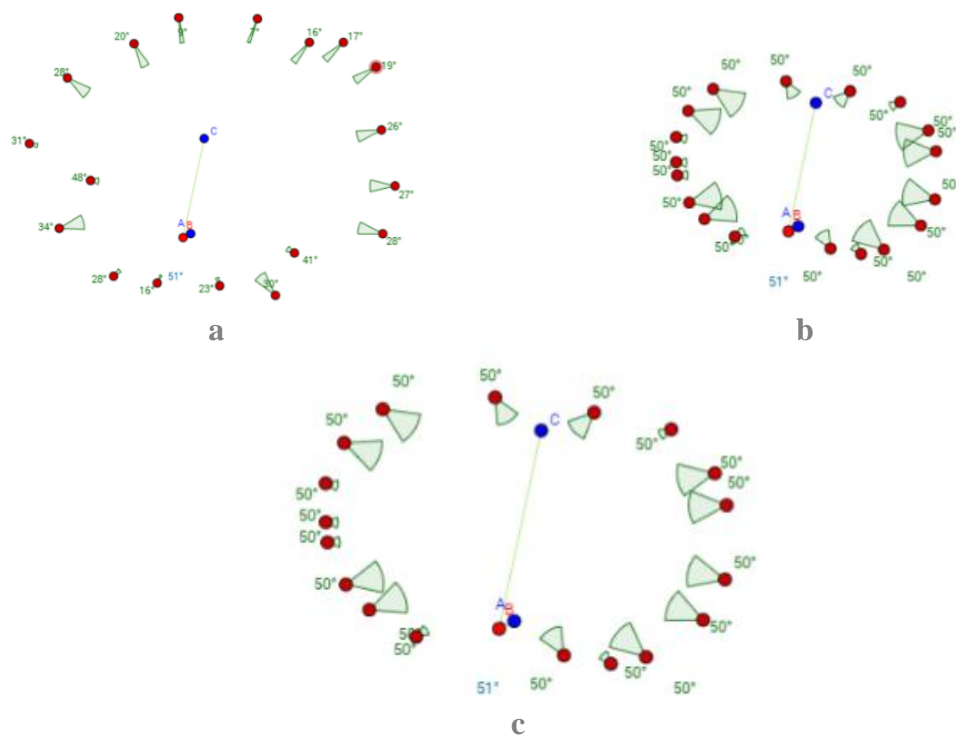


Figura 192. Tercera etapa de la tarea 2 resuelta por Sara.

Todos los arrastres ejecutados corresponden a modalidades de arrastre para ajustar, que se realizan para encontrar patrones, es decir, dentro de la función de separación [MAPA, FVS, 0]. Luego, Sara siguió conversando con la profesora.

80	Profesor 2	¿Qué pasó?
81	Sara	Ahí voy [se encontraba arrastrando un último punto]. Ya.
82	Profesor 2	¿Qué figura se puede formar con los puntos?
83	Sara	No. [Risas]
84	Profesor 2	¿Qué te pareció esa? ¿Qué resultado obtuviste?
85	Sara	El mismo de ahorita.
86	Profesor 2	¿Y qué forma es esa? ¿Sigues pensando en la circunferencia?
87	Sara	Sí.

La profesora realizó un acercamiento a la vista gráfica (Figura 192.c.) y Sara afirmó que se obtenía la misma figura que en la etapa anterior.

88	Sara	Se parece a la de ahorita.
89	Profesor 2	¿Y en qué se parece?
90	Sara	En la forma que iba tomando si se mantenía el ángulo de 50° .
91	Profesor 2	¿Qué forma ves ahí?
92	Sara	Pues como un ovalo, pero no una circunferencia.
93	Profesor 2	Pero ya cambiaste tu respuesta, porque ahorita dijiste que una circunferencia y ya estás diciendo que un ovalo.
94	Sara	Porque básicamente eso era lo que quería hacer en el de ahorita. Una circunferencia, pero no se podía.

Luego, Sara registró como respuesta lo siguiente: “Se puede hacer una figura similar a un ovalo, no esperaba esa figura” [sic]. Esta respuesta corresponde a un esquema de argumentación empírico basado en los arrastres para ajustar ejecutados dentro de la función de separación [MAG, FVS, EAE]. De esta forma, pasó a la siguiente etapa.

Generaliza. 4. Elige una nueva medida para el ángulo del punto B. Escribe la medida en la caja verde.

Sara seleccionó la medida de 90° y la escribió en la caja verde. De esta forma, la siguiente parte del enunciado se modificó así:

Haz clic derecho sobre el punto B y activa la opción Rastro. Luego, mueve el punto B tratando de mantener la medida de 90° . ¿Qué figura se forma con el rastro que va dejando el punto?

Posteriormente, Sara hizo clic derecho sobre el punto B y activó la opción *Mostrar rastro*. Así, empezó a arrastrar el punto manteniendo la medida de 90° o una medida cercana (Figura 193). Luego, la alumna escribió su respuesta: “se forma una circunferencia”. La profesora le señaló que con el ángulo de 90° sí se obtenía la circunferencia que ella esperaba, a lo que la estudiante

respondió afirmativamente. Estos arrastres ejecutados por Sara corresponden a arrastres con rastro activado, realizados para buscar propiedades en la configuración a través de la separación. El esquema de argumentación presente en la respuesta dada es empírico [MARA, FVS, EAE].

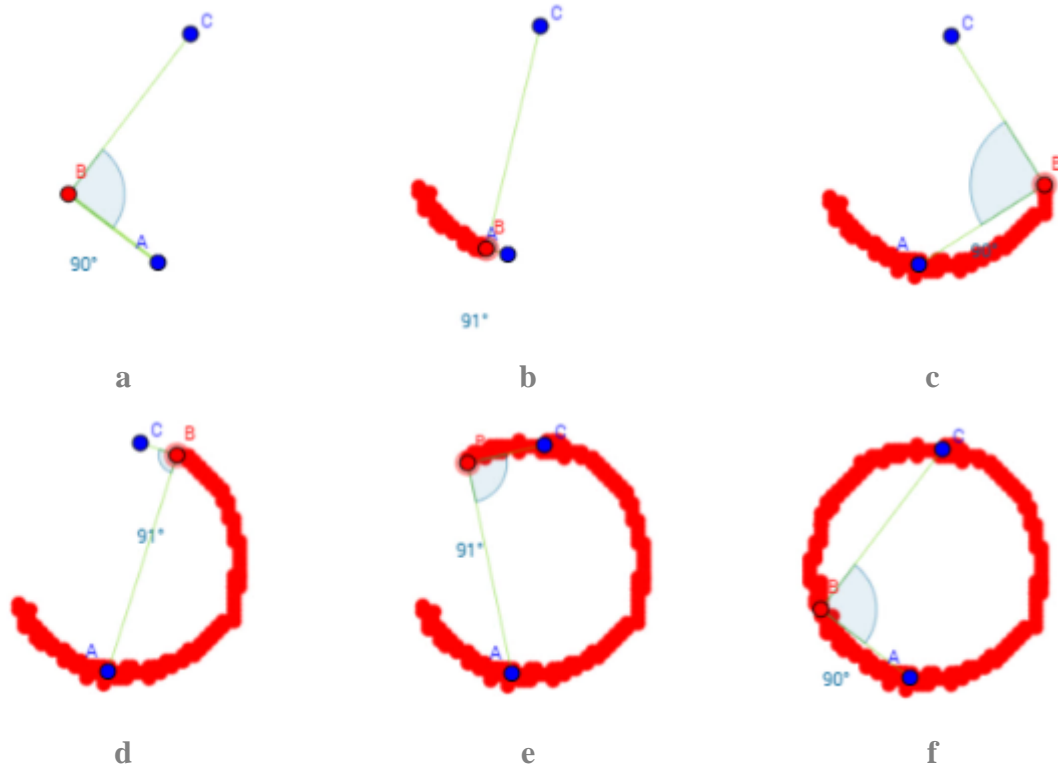


Figura 193. Arrastres ejecutados por Sara en la etapa 4 de la tarea 2.

Así, la alumna avanzó a la etapa 5.

Concluye. 5. De acuerdo con lo que observaste, ¿cuál de las opciones sería la conclusión del problema? Deja seleccionada UNA, la que más te parezca. Apóyate en la construcción para verificar si tu selección es apropiada.

Sara empezó a seleccionar las opciones y a leerlas. Al leer la opción 2 (Figura 194), ella le preguntó a la docente si el borde la circunferencia era un arco de la circunferencia, a lo que la profesora le contestó que un arco es una parte de la circunferencia que está entre dos puntos y le mostró algunos ejemplos en la imagen que se mostraba en ese momento en pantalla. Luego,

ella continuó leyendo las otras opciones. Cuando estaba leyendo la opción 5, ella volvió a realizar un arrastre del punto B que aparecía en pantalla (Figura 195). Este arrastre parecía tener la intención de verificar que, al mover el punto sobre la circunferencia generada por el rastro, se mantenía la medida. Por esta razón creemos que corresponde a un arrastre vinculado enmarcado dentro de la función de generalización [MAV, FVG, 0].

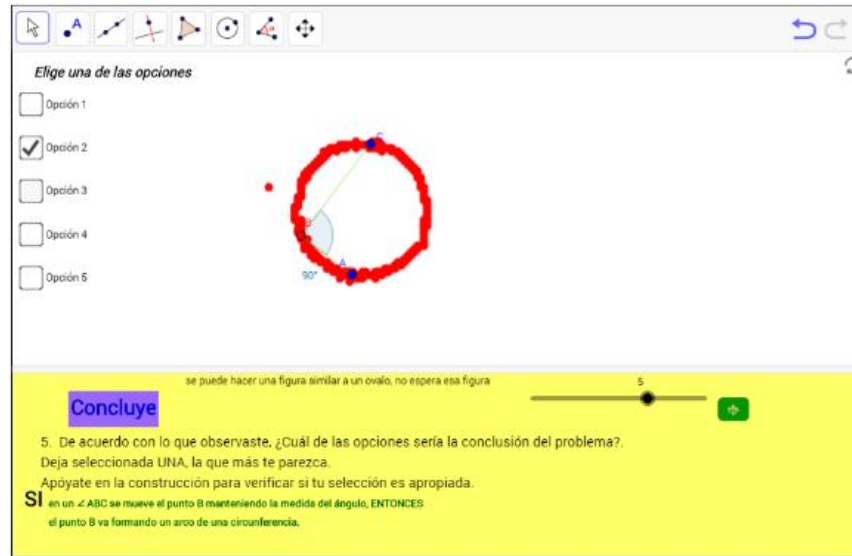


Figura 194. Quinta etapa de la tarea 2 en el proceso de resolución de Sara.

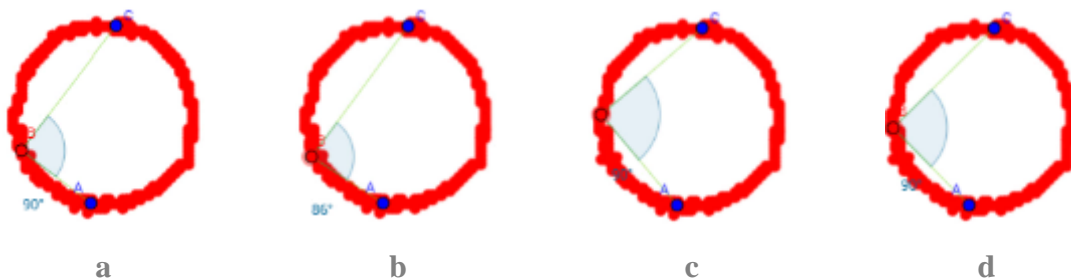


Figura 195. Arrastres de Sara en la quinta etapa de la tarea 2.

Sara se dirigió a la profesora y le hizo una pregunta:

95	Sara	¿Se puede poner más de una opción?
96	Profesor 2	Solo una, dice: deja seleccionada una. ¿Por qué? ¿Crees que hay más de una?
97	Sara	Pues, sí porque más de una ...
98	Profesor 2	¿Cumple lo que viste?
99	Sara	Sí.
100	Profesor 2	¿Cuáles?

101	Sara	Esta. [Sara selecciona la opción 3]
102	Profesor 2	[Empieza a leer la opción 3] Si AC es una cuerda de una circunferencia entonces todos los puntos B que están sobre la circunferencia, en el arco que empieza en A y termina en C, forman ángulos \sphericalangle ABC de la misma medida. ¿Por qué crees que es verdadera?
103	Sara	Porque el ángulo se mantiene en la misma medida.
104	Profesor 2	¿En el arco? Dices tú.
105	Sara	Sí.
106	Profesor 2	¿Eso en dónde lo viste? ¿En qué parte del ejercicio lo viste?
107	Sara	[Señala el arco entre A y C en el que hizo la exploración previamente]
108	Profesor 2	Ah, ok. O sea, tú dices que si está en ese pedazo de circunferencia mantiene la medida. Eso es verdadero para ti. ¿Y qué otra es verdadera?
109	Sara	Estas tres.
110	Profesor 2	Las 3, 4 y 5.
111	Sara	[Asiente con la cabeza]
112	Profesor 2	[Lee la opción 4] Si en un \sphericalangle ABC se mueve el punto B manteniendo la medida del ángulo ENTONCES el punto B va formando una circunferencia.
113	Sara	Porque básicamente eso fue lo que hice [señala lo que se observa en pantalla].
114	Profesor 2	En este. ¿Y en los otros?
115	Sara	No.
116	Profesor 2	¿Te acuerdas lo que hiciste en los primeros? [se refiere a las primeras etapas del ejercicio] Que tú dijiste: no, pero no se forma, yo quisiera que fuera una circunferencia. ¿Será que eso se cumple siempre?
117	Sara	No.
118	Profesor 2	En este caso como que sí, ¿no? En este que tú acabas de hacer como que sí se cumplió, pero en los primeros como que no.
119	Sara	No.
120	Profesor 2	¿Y la cinco también te parece verdadera?
121	Sara	[Selecciona la opción 5]
122	Profesor 2	[Lee la opción 5] Si A y C son dos puntos de una circunferencia entonces todos los puntos B que están sobre la circunferencia forman ángulos \sphericalangle ABC de la misma medida.
123	Sara	No, no. Pues, si la circunferencia, o sea... Si el rastro que quedó marcado fuera en todos los puntos... Eh. O sea, si toda la circunferencia se hubiera mantenido en 90° , creería yo que sí, que el ángulo ABC sí se mantendría en la misma medida.
124	Profesor 2	Si el ángulo es de 90° , ¿sí? Pero no siempre es de 90° , tú elegiste otra medida al principio.
125	Sara	Pero es que, me estoy confundiendo porque ya está comparando la primera con la segunda.
126	Profesor 2	Todo es una misma actividad y aquí lo que te están preguntando es la conclusión del problema, todo el problema que tú has abordado, entonces elige la que es más completa para ti.

Luego de esta conversación, Sara seleccionó la opción 4 y avanzó a la siguiente etapa.

Construye. 6. Mueve los puntos para lograr que los cuatro ángulos tengan la misma medida.
Pista: Muestra las circunferencias y cambia sus radios. ¿Por qué crees que esa debe ser la ubicación de los puntos? Explica tu respuesta.

En un principio, Sara no entendía qué debía hacer en esta etapa. La profesora le explicó que allí podía visualizar dos circunferencias y modificar sus radios (Figura 196).

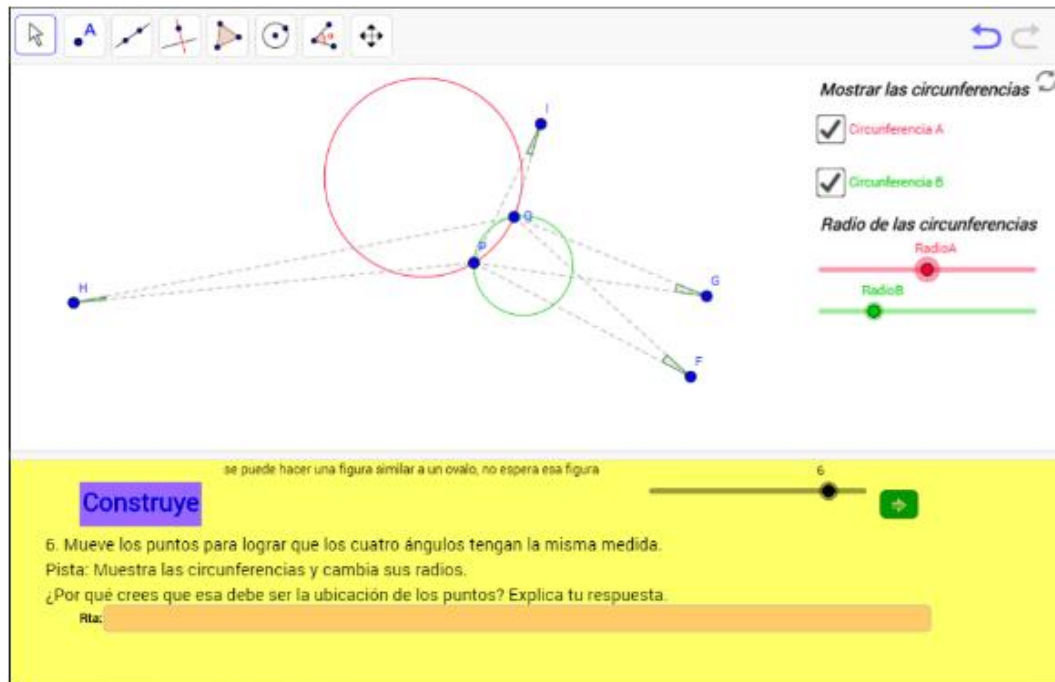


Figura 196. Exploración de Sara en la sexta etapa de la tarea 2.

127	Profesor 2	Ahora tienes que ubicar los puntos de tal forma que los tres ángulos... los cuatro ángulos tengan la misma medida. ¿Cómo lo harías?
128	Sara	[Parece pensativa]
129	Profesor 2	¿Tú crees que ahí tienen la misma medida?
130	Sara	No.
131	Profesor 2	De acuerdo con lo que has hecho, ¿dónde los ubicarías para que tengan la misma medida?
132	Sara	¿Y aquí cómo sé la medida del ángulo?
133	Profesor 2	No, la idea es que no la sepas, pero tú has hecho cosas que ya te deben ayudar a saber que debes hacer ahí, ¿no?

Sara ocultó la circunferencia roja y modificó el radio de la circunferencia verde. Luego, empezó a arrastrar el punto F, al parecer de manera aleatoria (Figura 197.a.) [MAE, FVS, 0]. A continuación, movió el punto F hasta una posición que aproximadamente corresponde al centro

de la circunferencia verde (Figura 197.b.). Posteriormente, movió el punto G (Figura 197.c.) y luego movió el punto I (Figura 197.d.). Consideramos que la alumna estaba ejecutando arrastres para ajustar y fijándose en una dimensión particular de la configuración [MAPA, FVS, 0]. Al ser cuestionada por la profesora respecto a las ideas que tenía para resolver esta etapa, Sara mencionó que no sabía para qué estaban allí esas circunferencias. La docente le sugiere que relacione esta etapa con lo desarrollado en las etapas anteriores, donde también buscaba ángulos de la misma medida.

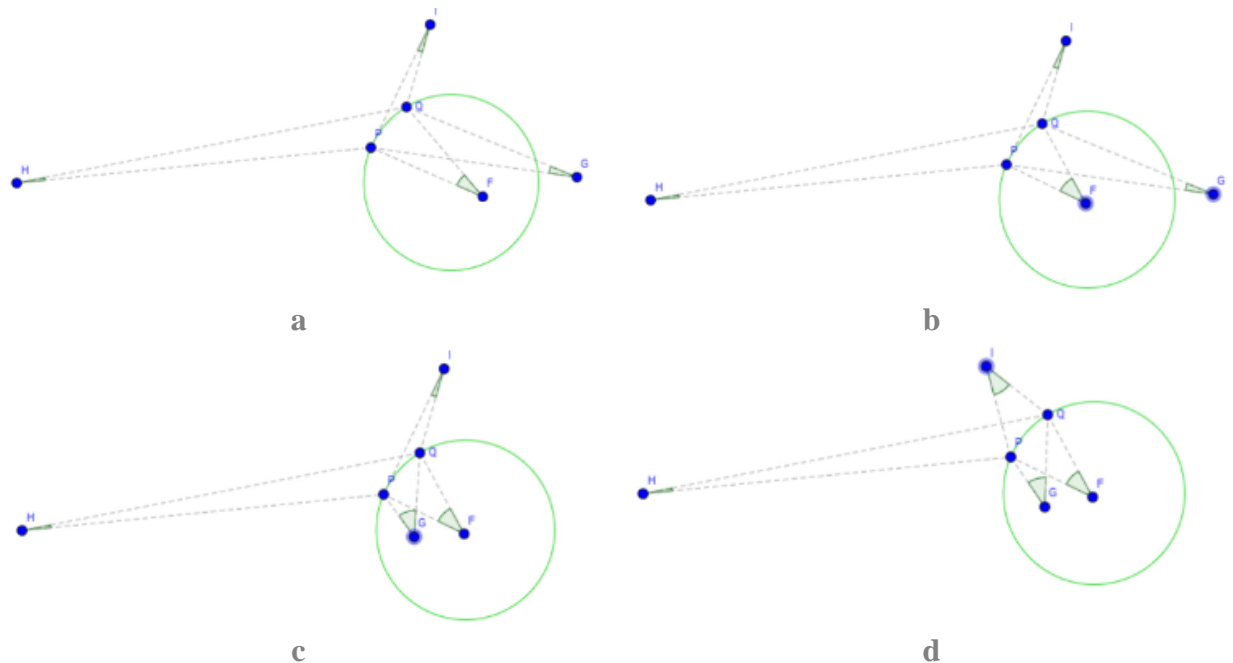


Figura 197. Arrastres de Sara en la sexta etapa de la tarea 2.

Luego de esto, Sara le dijo a la docente que ella creía que los puntos se debían ubicar en el centro de la circunferencia. Así que lo que ella hizo fue activar las dos circunferencias y ubicar los puntos como se muestra en la Figura 198.a. Sin embargo, la profesora le cuestionó sobre si ese era el centro de la circunferencia verde, por lo que Sara realizó el ajuste del radio de esta circunferencia, de manera que las dos quedaron con el mismo radio (Figura 198.b.). Estos arrastres para ajustar buscaban darle una forma particular a la configuración. Como Sara, estaba considerando varios elementos de la configuración al mismo tiempo, ella estaba dentro de la función de variación de fusión [MAPA, FVF, 0].

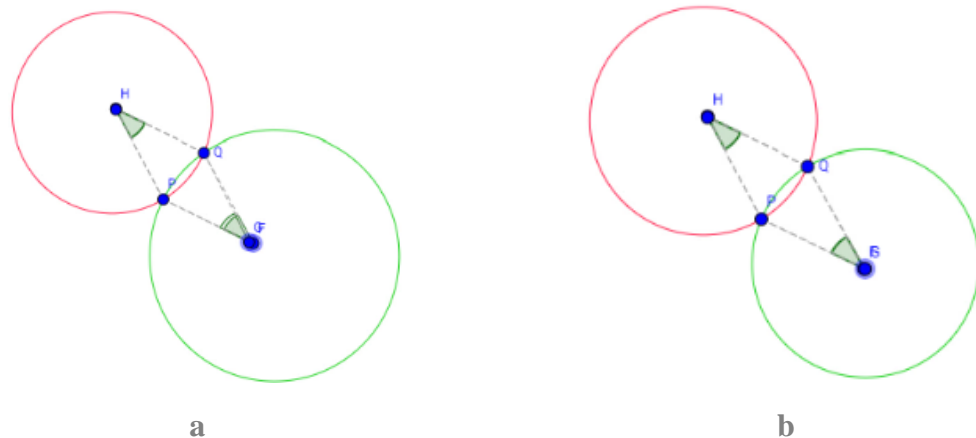


Figura 198. Respuesta final de Sara en la sexta etapa de la tarea 2.

Finalmente, Sara respondió lo siguiente: “porque los puntos en común de los ángulos están ubicados en el centro de la circunferencia y es probable que las circunferencias tengan en mismo radio” [sic]. Esta respuesta corresponde a una descripción de lo que Sara observaba en pantalla por lo que lo consideramos un esquema de argumentación empírico [MAPA, FVF, EAE]. Así, ella terminó su ejecución de esta tarea.

10.5.3. Tarea 3. Equidistancia

En el desarrollo de esta tarea se observará que Sara tuvo dificultades para usar de manera favorable la herramienta *Mostrar Huella*, porque no comprendía que debía realizar un arrastre guiado. Luego, con la asesoría del profesor, la alumna realizó un arrastre con rastro activado. Al finalizar, se verá como en la etapa 8, en la que la alumna debía modificar la configuración para cumplir con una serie de condiciones, la estudiante logra desarrollar más argumentos para establecer una conclusión final.

Sara empezó la primera etapa de la tarea: *Construye. 1. Usa las herramientas de GeoGebra para ubicar un punto que esté a la misma distancia de los puntos A y B, respectivamente. Explica cómo ubicaste el punto.*

Para iniciar, Sara ubicó un punto G, aproximadamente en el punto medio entre A y B (Figura 199.a.).

134	Sara	Pues, para que quedara con la misma distancia entre el punto A y B, lo pondría pues ahí en el centro y que pues quedara en el centro de los dos para que me diera por ambos lados lo mismo.
-----	------	---

Luego, por sugerencia de la docente, Sara exploró los menús que se encontraban en la parte superior de la ventana y decidió usar la herramienta *Distancia o longitud*; con esta herramienta, midió las distancias entre A y G y entre G y B (Figura 199.b.). Luego, ella empezó a arrastrar el punto G (Figura 199 c-e), hasta obtener una posición en donde la medida de las distancias hasta A y B fuera igual (Figura 199.f.).

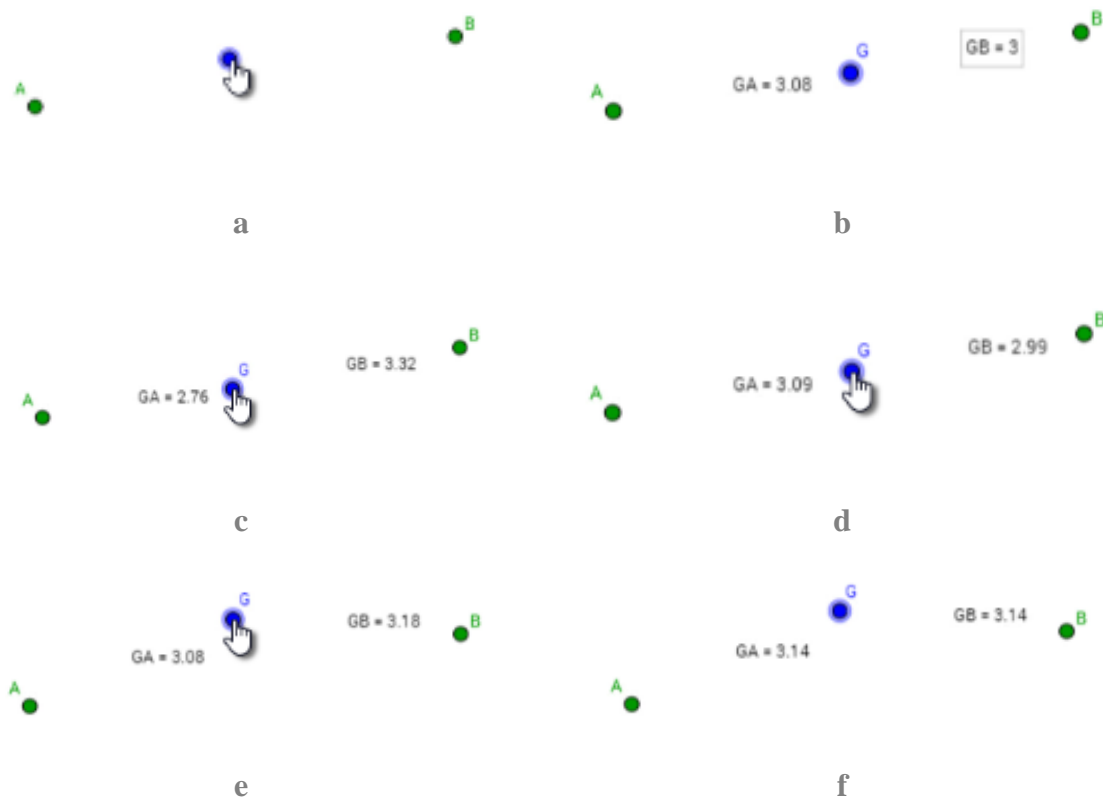


Figura 199. Arrastres de Sara en la primera etapa de la Tarea 3.

El arrastre realizado por la alumna buscaba ajustar la configuración a una medida particular y se fijaba solo en esta dimensión de la misma. por lo que se trataba de una función de separación [MAPA, FVS, 0]. Entonces Sara empezó a escribir la respuesta: “El punto G se ubicó en el centro de los puntos A y B para que así tuviera” [sic]. Sin embargo, en este momento, ella empezó a hacer otro procedimiento sobre la vista gráfica. Lo que hizo la estudiante fue seleccionar la herramienta *Ángulo* y seleccionar los puntos A, G y B, en orden, de manera que

construyó el ángulo AGB (Figura 200.a). Luego, ella borró las medidas de las distancias entre G y los puntos A y B (Figura 200.b).

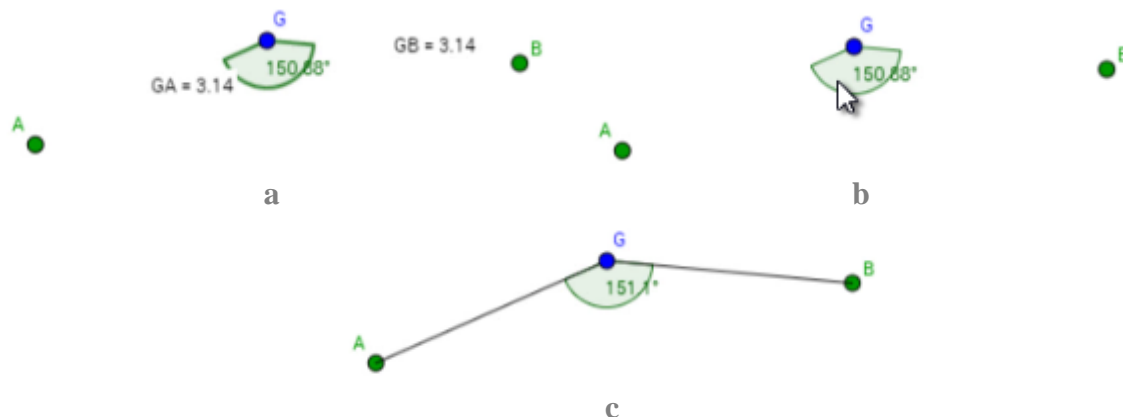


Figura 200. Construcción de un ángulo por parte de Sara en la etapa 1 de la Tarea 3.

En este momento, la profesora se acercó y empezó a conversar con Sara.

136	Profesor 2	¿Cambiate de idea?
137	Sara	No, es que no sé cómo explicarlo porque iba a escribir el punto G se ubicaba en el medio de los puntos A y B, pero no. No le encontraría lógica a lo que escribo y a lo que veo.
138	Profesor 2	Pero tú ahorita hiciste otra cosa.
139	Sara	Iba a hacer una recta, como para que quedara el ángulo marcado, pero no pude.

La profesora le explicó a Sara qué herramientas podía usar para construir los lados del ángulo y, haciendo uso de estas, la alumna construyó los segmentos AG y GB (Figura 200.c.). Luego, ella modificó su respuesta así: “el punto G se ubicó en el medio de los puntos A y B consiguiendo que la distancia de los puntos AG y BG tuvieran la misma distancia” [sic].

El procedimiento seguido por Sara parece sugerir que, para la alumna, dado que el punto que había ubicado no se encontraba sobre el segmento AB, era necesario construir el ángulo AGB y esta construcción, junto con las medidas, era lo que determinaba la ubicación de dicho punto. La respuesta dada al final no es más que una descripción de los pasos que ella realizó por lo que corresponde a un esquema de argumentación de recuento fáctico. Adicionalmente, por el uso poco consistente del lenguaje matemático, este argumento también podría considerarse como simbólico [MAPA, FVS, EAR/EAS].

Luego de escribir esto, Sara avanzó a la etapa 2 de la tarea: *Explora. 2. ¿Cómo podrías comprobar que el punto que ubicaste está a la misma distancia de A y de B usando las herramientas de GeoGebra?*

Por un momento parece que Sara está pensando. Luego, ella escribió la siguiente respuesta: “tomando la distancia de cada semirrecta” [sic]. A continuación, ella modificó su respuesta por lo siguiente: “midiendo la distancia de cada semirrecta” [sic]. Por último, Sara cambió nuevamente su respuesta, así: “Midiendo la distancia que hay entre los puntos A B con el punto G” [sic]. De esta forma, la alumna avanzó a la siguiente etapa.

Anticipa. 3. ¿Crees que puedes encontrar más puntos que estén a la misma distancia de A y de B? ¿o el punto que encontraste es el único? Explica tu respuesta.

Sara seleccionó la opción *Sí* y observó por un momento la pantalla, aparentemente leyendo el enunciado y, luego, escribió como respuesta: “no es el único porque se puede ubicar otro punto en diferentes partes y sigue teniendo la misma distancia con los puntos A y B” [sic]. Cabe señalar que ella no buscó más posiciones favorables en este momento, sin embargo, escribió esto como respuesta. Como la alumna no realizó arrastres, es difícil caracterizar el argumento que proporciona, pues no sabemos en qué se basa ella para dar esta respuesta. En su lugar, esto podría ser una conjetura. Luego, pasó a la etapa siguiente.

Verifica. 4. Mueve el punto rojo tratando que la distancia hasta A y hasta B sea la misma. Al finalizar el movimiento, Habilita la opción Mostrar Huella. ¿Qué figura se puede formar con todos los puntos azules cuando la distancia es la misma? Explica tu respuesta.

Al empezar esta etapa, Sara arrastró el punto C_1 . Sin embargo, en este arrastre no se mantenía la igualdad entre las medidas solicitada en el enunciado (Figura 201) y, además, el cambio en las longitudes era muy amplio de un arrastre a otro por lo que creemos que este arrastre fue realizado con el teclado. Por estas razones creemos que este es un arrastre errático que corresponde a una función de separación [MAE, FVS, 0].

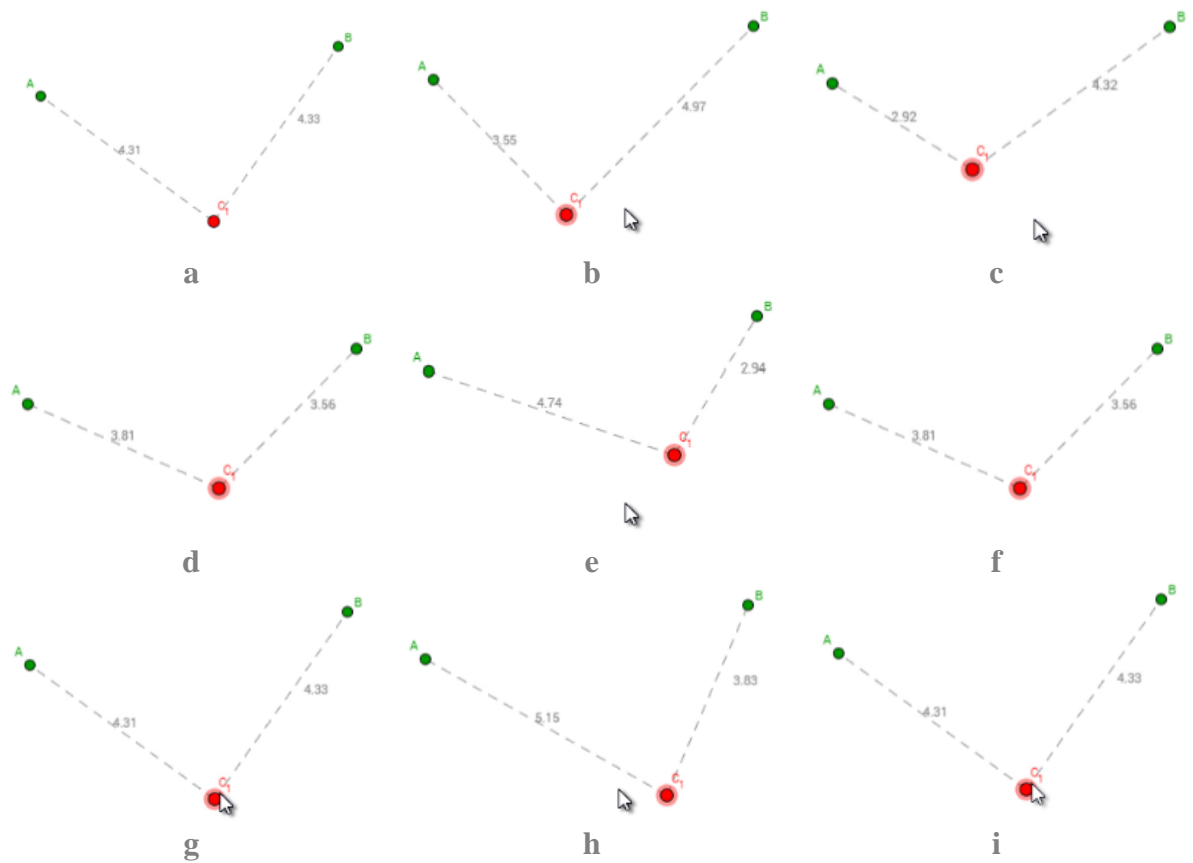
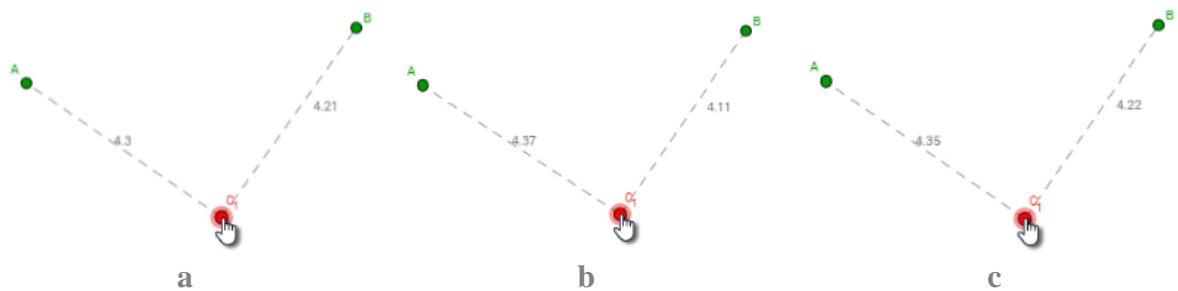


Figura 201. Arrastres iniciales ejecutados por Sara en la etapa cuatro de la tarea 3.

Luego, ella realizó un arrastre con mayor precisión, aparentemente con el mouse porque el cambio en las longitudes era menor (Figura 202). Lo que buscaba la alumna era una posición en la que las dos medidas fueran exactamente iguales, por lo que este movimiento correspondía a un arrastre para ajustar enmarcado en la función de separación, ya que la alumna se fijaba solamente en esta dimensión de variación para buscar darle una medida particular a la configuración [MAPA, FVS, 0].



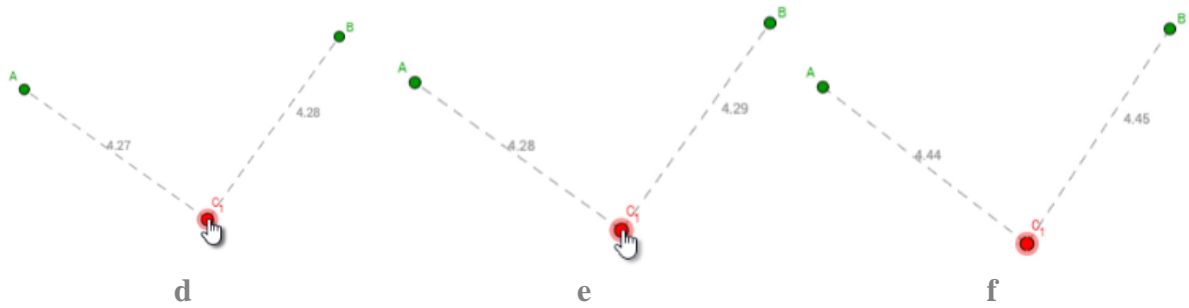


Figura 202. Segunda ejecución de arrastres por parte de Sara en la etapa cuatro de la tarea 3.

En este momento, Sara conversó con uno de los profesores.

140	Profesor 1	¿Desesperada?
141	Sara	No.
142	Profesor 1	Pues déjalo lo más aproximado posible.
143	Sara	Profe, he estado a uno no más, a un puntito.
144	Profesor 1	A un puntico estaría bien.
145	Sara	[Arrastró el punto hasta la posición que muestra la Figura 202.f.).

Luego de esto, Sara activó la herramienta *Mostrar Huella* y obtuvo el resultado que se muestra en la Figura 203.a. Después de observar la pantalla por un momento, ella escribió la siguiente respuesta: “Se puede formar un cuadrado” [sic]. Esta respuesta, aunque errónea, corresponde a una descripción de lo que veía Sara en pantalla y de la forma que se le podía dar, por lo que constituye un esquema de argumentación empírico basado en los arrastres previamente ejecutado [MAE/MAPA, FVS, EAE]. Luego de esto, ella pasó a la etapa cinco.

Construye. 5. Con las herramientas de GeoGebra, construye la figura que supones se forma con todos los puntos azules, ¿Cómo la construiste?

Sara usó la herramienta *Segmento* para construir algunos segmentos entre los puntos que había obtenido y otros que ella agregó con la herramienta *Punto* (Figura 203.b.). A continuación, ella escribió como respuesta: “agregué dos puntos como complemento para formar un cuadrado” [sic]. Hecho esto, la alumna avanzó a la etapa seis.

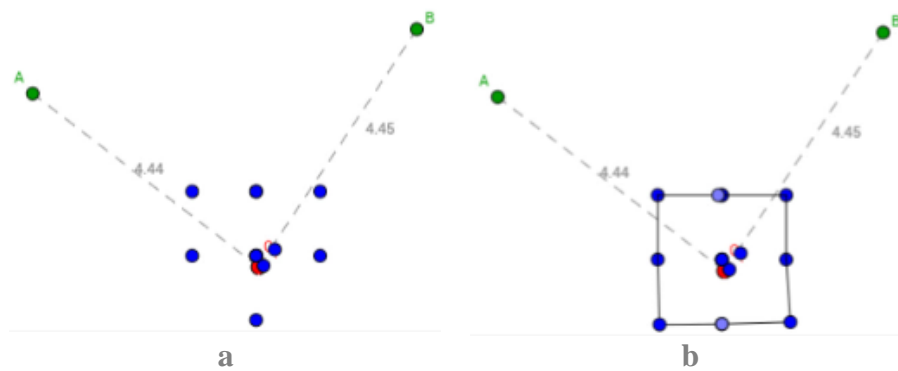


Figura 203. Uso de la herramienta *Mostrar Huella* por parte de Sara en las etapas cuatro y cinco de la tarea 3.

Concluye. 6. Haz clic derecho sobre el punto Rojo y activa la opción Rastro. Luego, mueve el punto rojo tratando que la distancia hasta A y hasta B sea la misma. Escribe una conclusión.

La profesora se acercó a la alumna y le sugirió usar la combinación de las teclas Shift y las flechas para arrastrar el punto, haciendo énfasis en que en todo momento del arrastre ella debía buscar que se mantuviera la igualdad entre las medidas de las longitudes. Sara activó la opción *Mostrar rastro* y ejecutó el arrastre según lo indicado por la docente, como se muestra en la Figura 204.

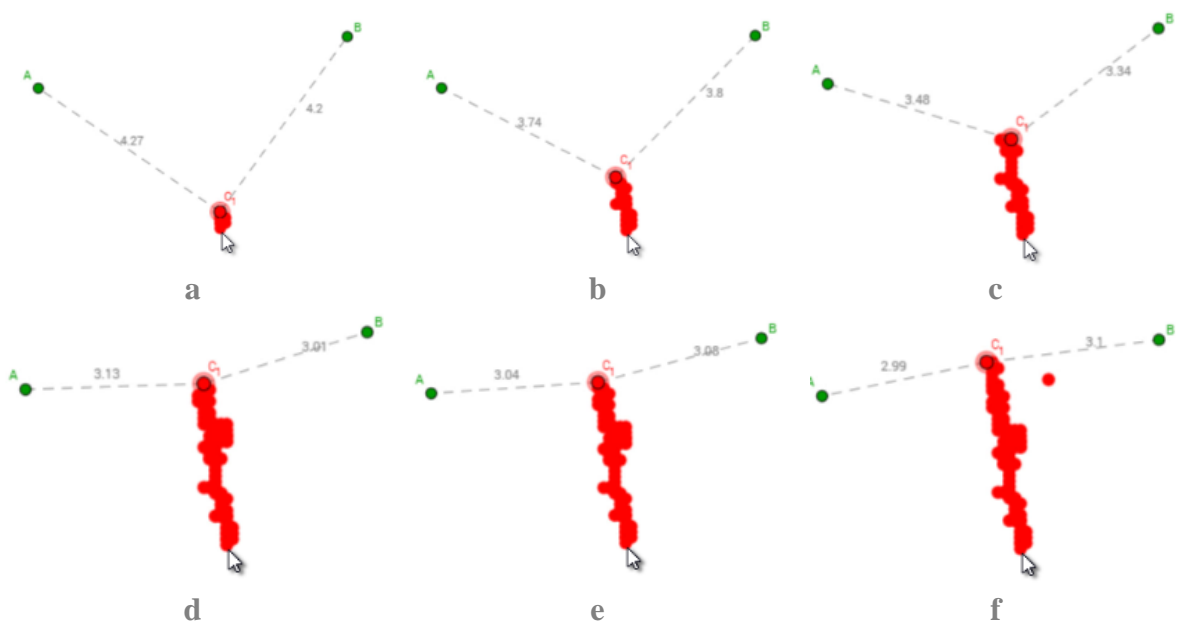


Figura 204. Arrastre ejecutado por Sara en la etapa seis de la tarea 3.

A continuación, la profesora habló con Sara:

146	Profesor 2	¿Qué observas ahí? ¿Ya no observas algo particular?
147	Sara	Pues, como que si se sigue el rastro así [señala con las manos la forma de una línea vertical], se da una línea.
148	Profesor 2	Escribe una conclusión.

Entonces, Sara escribió como respuesta la siguiente: “si el punto rojo se mueve manteniendo aproximadamente la misma distancia entre los puntos A y B se va marcando una línea” [sic] y avanzó a la etapa 7.

Los arrastres realizados antes de dar la respuesta corresponden a la modalidad de arrastre con rastro activado. La alumna se encontraba buscando patrones a través de dicho arrastre y concluyó que el camino descrito correspondía a una línea, lo que corresponde a la función de separación y un esquema de argumentación empírico [MARA, FVS, EAE].

Información. 7. Los puntos que están a la misma distancia de dos puntos dados P y Q, se encuentran sobre una recta denominada mediatriz del segmento PQ. En pantalla encuentras construida la mediatriz del segmento PQ. Mueve los puntos y observa lo que sucede.

Sara observó por un momento la configuración en pantalla. Luego, ella seleccionó el punto C y lo arrastró sobre la mediatriz (Figura 205 a-d). Como este punto se encontraba enlazado a la recta, el arrastre ejecutado por Sara correspondía a la modalidad de arrastre limitado y a la función de separación [MAL, FVS, 0]. Posteriormente, ella arrastró el punto B (Figura 205 e-g) y volvió a arrastrar el punto C (Figura 205 h-i). El arrastre del punto B, a diferencia de C, sí fue de carácter errático, dado que no estaba vinculado a la recta. Sin embargo, al igual que C, la variación de B correspondía a la función de separación porque Sara se fijaba en esta dimensión mientras las demás permanecían estáticas [MAE, FVS, 0]. Finalmente, Sara escribió su nombre en la respuesta y avanzó a la etapa siguiente.

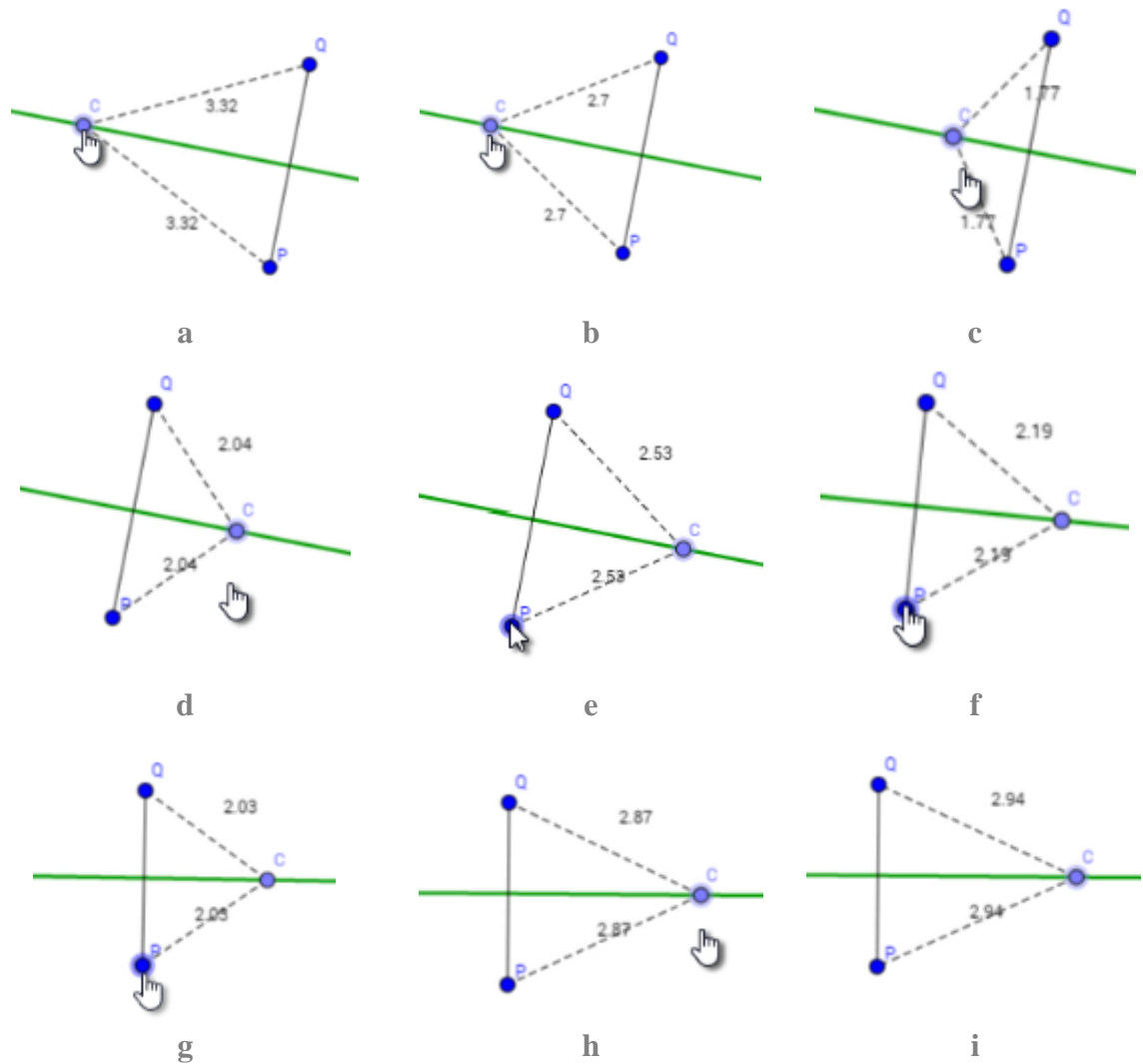


Figura 205. Arrastre ejecutado por Sara en la etapa siete de la tarea 3.

Explora. 8. Mueve los puntos para lograr que la recta cumpla las condiciones mostradas a la izquierda. Observa lo que sucede cuando todas las condiciones se cumplen.

Sara observó por un momento lo que aparecía en pantalla, luego, la profesora volvió y dialogó con ella.

149	Profesor 2	¿Qué pasó? Listo, ¡llegamos al ocho?
150	Sara	Sí, pero no entiendo esto.
151	Profesor 2	Dice, mueve los puntos para lograr que la recta cumpla las condiciones mostradas a la izquierda [leyendo el enunciado]. Ahorita todas las condiciones están en “no”. La recta es la roja. Entonces, puedes mover los puntos que están allí para lograr que todo esto sea “sí” [se refiere a las

		condiciones de la izquierda (Figura 206)].
--	--	--

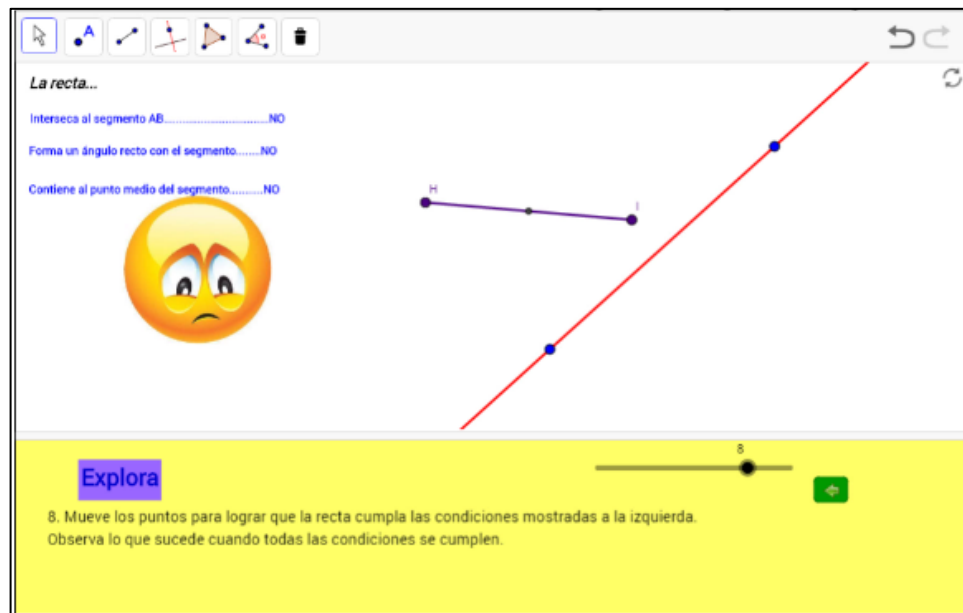
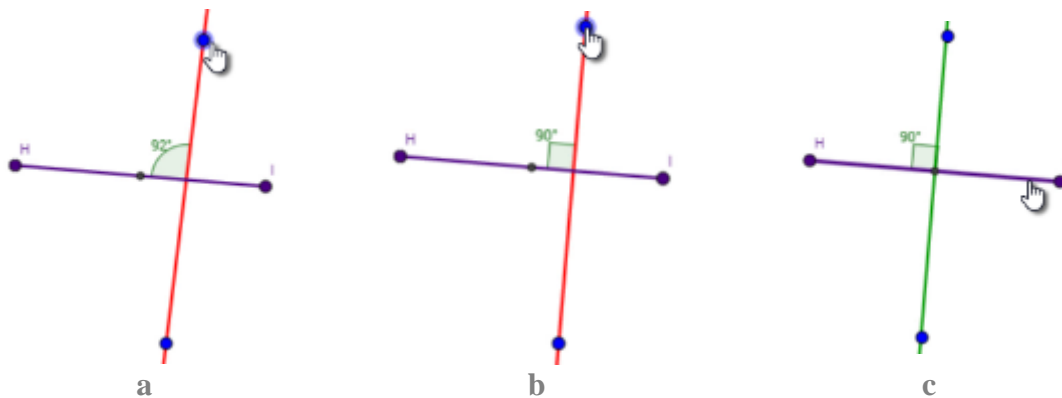


Figura 206. Etapa 8 de la tarea 3 en el trabajo de Sara.

Sara empezó a realizar el arrastre de la recta, a partir de uno de sus puntos, de manera que esta se intersecó con el segmento (Figura 207.a.). Luego, continuó arrastrando la recta hasta formar un ángulo de 90° (Figura 207.b.). A continuación, ella arrastró el segmento hasta que la intersección de este con la recta fuera en su punto medio (Figura 207.c.). En cada uno de estos movimientos lo que buscaba la alumna era que la configuración tuviera una forma determinada, pero, como esta no se mantenía a través del arrastre, sino que se encontraba una posición particular donde se daba, el arrastre ejecutado era para ajustar. Además, como la alumna debía fijarse en varios aspectos críticos a la vez, se encontraba dentro de una función de fusión [MAPA, FVF, 0]. Así, obtuvo que las tres condiciones se cumplieran (Figura 207.d.) y avanzó a la etapa nueve.



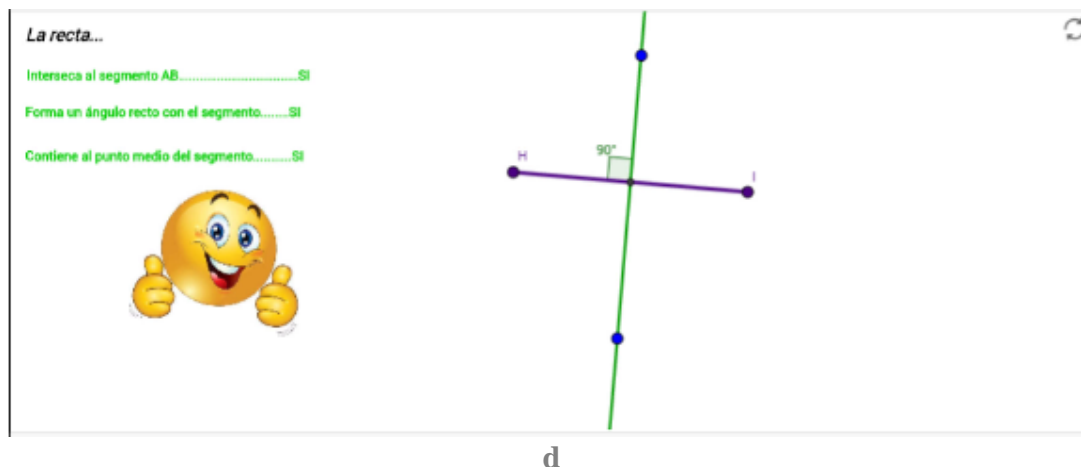


Figura 207. Arrastres de Sara en la etapa 8 de la tarea 3.

Explora. 9. ¡Excelente! Lograste que la recta cumpla las condiciones. Ahora aparece en la recta un punto especial S, muévelo ¿Qué sucede con la distancia del punto S a los extremos del segmento HI?

Sara empezó a arrastrar el punto S sobre la recta verde (Figura 208). Luego, de hacer esto, ella escribió la siguiente respuesta: “la distancia del punto S con los extremos del segmento HI varía con el movimiento pero es la misma entre ambos puntos” [sic]. Así, Sara pasó a la etapa 10.

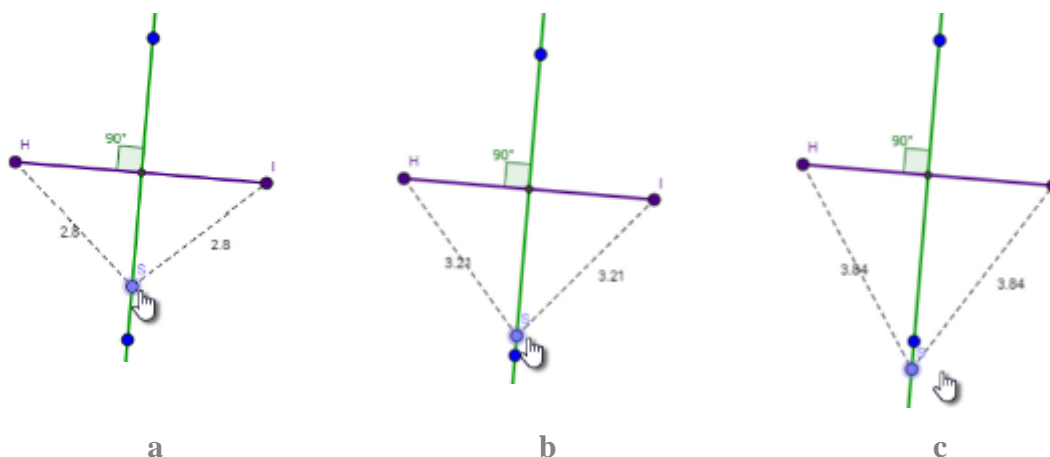


Figura 208. Arrastres de Sara en la etapa 9 de la tarea 3.

El movimiento realizado corresponde a un arrastre limitado, dado que el punto pertenecía a la recta por defecto. Además, dado que se modificó una dimensión mientras las otras estaban fijas, la variación realizada corresponde a la función de separación. Por otro lado, la respuesta dada,

corresponde a un argumento empírico dado que describe los hechos observados [MAL, FVS, EAE].

Concluye. 10. ¿Qué condiciones debe cumplir la recta para que los puntos sobre ella se encuentren a la misma distancia de los extremos del segmento?

La profesora le leyó la instrucción en voz alta y le pidió a Sara que respondiera esta pregunta teniendo en cuenta todo lo que había realizado. En este momento a Sara le surgió una duda.

152	Sara	¿Las rectas deben ser paralelas?
153	Profesor 2	¿Cuáles son las rectas paralelas para ti?
154	Sara	Es que en eso estoy confundida, no sé si son las rectas paralelas o secantes.
155	Profesor 2	Las rectas paralelas son las que nunca se tocan. O sea, digamos acá...
156	Sara	Las que nunca tienen un punto en común.
157	Profesor 2	Esas son paralelas. Las secantes son las que se cortan y las perpendiculares son las que se cortan formando un ángulo recto.

Entonces, la alumna escribió lo siguiente: “la recta debe ser perpendicular con el segmento” [sic]. Sin embargo, luego, borró esta respuesta y escribió: “la recta debe estar ubicada en el centro del segmento y así las distancias de los puntos sobre ella y los extremos del segmento sea la misma” [sic]. Así, Sara terminó esta tarea.

En este último apartado se observa que la estudiante desarrolló un esquema de argumentación analítico incompleto, dado que le faltaron condiciones. No obstante, en esta conclusión es posible observar los elementos que corresponden a la estructura condicional propia de estos esquemas, la cual se podría reestructurar así: Si la recta se interseca con el centro del segmento entonces los puntos sobre ella están a la misma distancia de los extremos del mismo [0, 0, EAD].

10.5.4. Tarea 4. Circunferencia por dos puntos

Veremos en el siguiente análisis que la estudiante Sara realizó varios tipos de arrastres, principalmente arrastres erráticos, para ajustar, mantenidos. En cuanto a las funciones de la variación pudimos evidenciar que durante las primeras etapas ella se encontraba en la función de variación contraste, en cuanto a las afirmaciones que produjo, la mayoría correspondió con esquemas de argumentación empírico y analítico. Durante el desarrollo de la tarea, ella

rápidamente identificó que el centro de las circunferencias que pasan por dos puntos se encuentra en una recta, además desarrolló en la etapa cuatro una estrategia que le permitió encontrar los centros de las circunferencias sin utilizar la herramienta *Centro Punto*. El trabajo realizado durante las etapas 6 y 7 se tornó difícil para ella.

Tan pronto se dispuso todo para el trabajo, la estudiante Sara leyó la instrucción: **Construye. 1.** *Usa las herramientas de GeoGebra para construir una circunferencia que contenga a los puntos A y B. Revisa el menú de circunferencias y busca una de las herramientas que te servirá.*

La estudiante exploró el menú de circunferencias, centró su atención sobre algunas herramientas y decidió ensayar con la herramienta *Circunferencia Centro Punto* (Figura 209.a.), hizo centro en A y dio clic en el punto B (Figura 209.b.). Sara inició la redacción de su respuesta, ella escribió “Hice la circunferencia logrando que el punto A fuera el centro y el B” en ese momento detuvo la escritura y procedió a observar de nuevo el menú de circunferencias. Luego de un momento eligió utilizar la herramienta borrar con la que borró la circunferencia hecha.

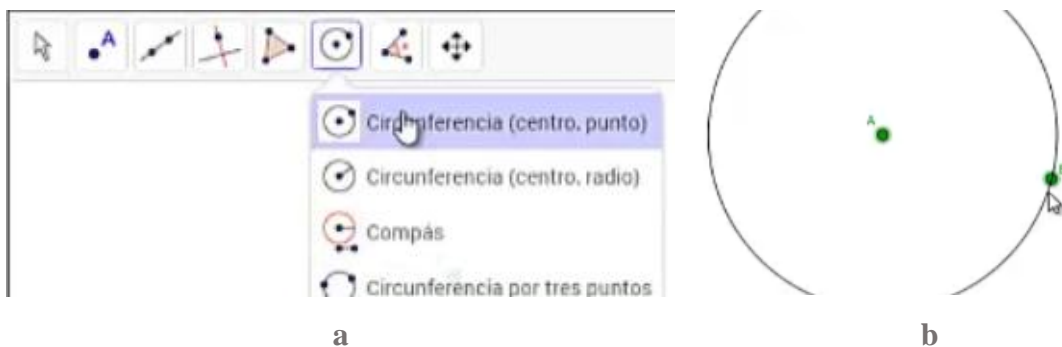


Figura 209. Exploración de Sara en distintos momentos etapa 1, tarea 4.

Luego de llamar la atención de la profesora la estudiante preguntó si los puntos A y B debían estar en la circunferencia, la docente le mencionó parte de la instrucción de la etapa: “necesitamos una circunferencia que contenga los puntos A y B” a lo que Sara le contesta “que los puntos A y B sean en el arco de la circunferencia” y complementó su comentario señalando que estaba haciendo algo distinto, seguramente no había comprendido a cabalidad la instrucción de la etapa.

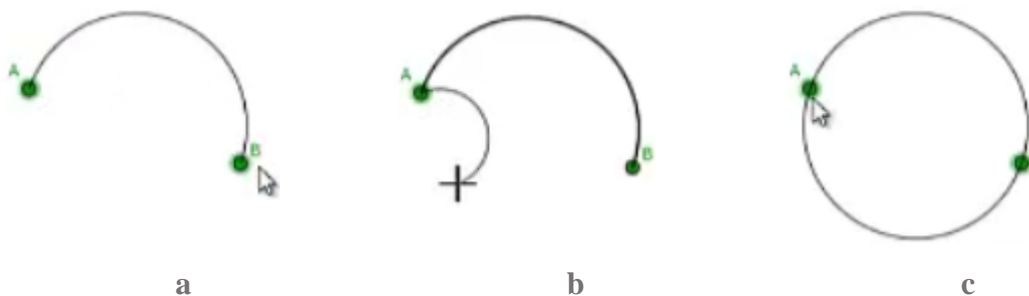


Figura 210. Construcciones hechas por Sara en la etapa 1 de la tarea 4.

Sara procedió de nuevo a desplegar el menú de circunferencias y preguntó a la docente sobre la herramienta *Compas*, la docente explicó su función y Sara deshecho la idea de usarla. Intentó luego con la herramienta *Semicircunferencia* dando clic en A y luego en B (Figura 210a.). Sara se percató que solo creó solo la mitad de una circunferencia y procuró completarla, para ello dio nuevamente clic en A y observó que la figura que iba a crear no coincidía con lo buscado, por lo tanto detuvo su ejecución (Figura 210.b.). Luego de algunos intentos la estudiante se percató que para completar la circunferencia debía primero hacer clic en B y luego en el punto A, así lo realizó (Figura 210.c.) tras lo cual inició la escritura de su respuesta, ella escribió “la hice ubicando dos semicircunferencias y que cada extremo quedara”. Sara detuvo su escritura, borró una parte, dejando su respuesta así: “la hice ubicando dos semicircunferencias y que equidistan”, una vez más Sara detuvo la escritura, se le vio pensativa, decidió borrar y finalmente escribió su respuesta: “la hice ubicando dos semicircunferencias que fueran del punto a hasta el B”.

Sara avanzó a la segunda etapa cuya instrucción fue: *Anticipa. 2. ¿Crees que es posible construir otras circunferencias diferentes que contengan a los puntos A y B? Si_No_. Explica tu respuesta.*

La estudiante guardó silencio y se mostró pensativa, la docente intervino y le preguntó ¿crees? A lo que Sara contestó que no, que no creía. La docente espero un momento y se desarrolló la siguiente conversación:

1	Profesor 2	¿Por qué? [Refiriéndose a por qué razón no creía que era posible construir otras circunferencias]
2	Sara	Porque para que... ¡ah! Sí, sí se puede...
3	Profesor 2	¿Si? Y ¿cómo?

4	Sara	Haciendo unas circunferencias más grandes y que quede, digamos, si la hago más grande y señala la pantalla la forma de una circunferencia de mayor radio.
---	------	---

Después de la conversación con la docente, Sara cambió de pensar sobre la posibilidad de construir otras circunferencias que pasaran por los puntos A y B. Dedicó sus esfuerzos a realizar la construcción de otras circunferencias, para ello exploró de nuevo el menú de circunferencias y se apoyó en la ayuda contextual de cada herramienta, además, eventualmente preguntó a la docente sobre el uso de alguna herramienta.

Sara intentó, nuevamente, construir una circunferencia como la pedida utilizando la herramienta *Circunferencia Centro Punto*, hizo clic en A y llevó el cursor del mouse en dirección a B (Figura 211.a.). Cuando la docente se percató que esta no era la forma, intervino diciendo: “pero tu donde necesitas que esté el centro”, acto seguido la estudiante canceló la construcción. Sara intentó de nuevo usando la herramienta *Compás*, para ello dio clic sobre una de las semicircunferencias causando que apareciera una circunferencia de la cual ella manejaba el centro con el mouse (Figura 211.b.), Sara ubicó el centro de la circunferencia (Figura 211.c.) y sin realizar arrastre alguno decidió borrar la circunferencia y el punto creados con esta herramienta.

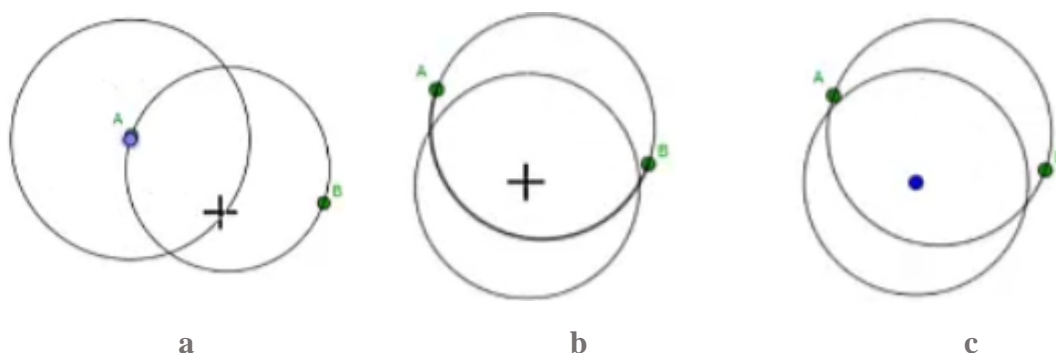


Figura 211. Intentos de construcciones realizados por Sara, etapa 2 de la tarea 4.

La docente luego de observar los intentos fallidos de Sara por construir otra circunferencia intervino:

5	Profesor 2	¿Qué quieres hacer?
6	Sara	Pues yo creería que se puede hacer otra circunferencia, o sea, una circunferencia diferente a esta [la creada en la etapa 1 con dos semicircunferencias] que contenga los puntos A y B. pues la haría más grande y estarían [los puntos A y B] ahí en la circunferencia. Pero no sé cómo...
7	Profesor 2	¿Cómo hacerla?... explora otra opción, hace un momento usaste... ¿cuál fue? La de

		semicircunferencia, ¿no? Explora otra que te pueda servir para que pase por ahí.
8	Sara	[Explora el menú de circunferencias y elige <i>Arco de Circunferencia</i> , da clic en A y una vez más falla]
9	Profesor 2	Espera, antes de que selecciones [la herramienta], el [applet] te dice que se necesita, en este caso tres puntos, el primero va a ser el centro y los siguientes van a ser los puntos del arco (Figura 212.a.).

Sara hizo cara de comprender lo dicho por la profesora, y exploró el menú de circunferencias leyendo también la ayuda contextual, por algún motivo, ella decide explorar los demás menús de herramientas de GeoGebra. Luego de un tiempo leyendo las instrucciones la estudiante intentó con la herramienta *Arco de Circunferencia*. Ubicó un punto eligiéndolo de tal forma que pareciera equidistar de A y B y luego dio clic dos veces en un lugar sobre la semicircunferencia cerca de A obteniendo la configuración que se puede observar en la Figura 212.b. Sobre lo obtenido Sara exclamó “¡por un poquitico! Ojalá lo pudiera arrastrar” y así lo hizo, ella arrastró el punto en la semicircunferencia con la finalidad de ajustar la construcción y que la circunferencia pasara por los puntos A y B, punto que al estar enlazado a la semicircunferencia y ser arrastrado se corresponde con modalidad de arrastre limitado, [MAPA/MAL, 0, 0] sin obtener el resultado esperado (Figura 212 b-c). Cómo no consiguió lo buscado, eliminó los elementos construidos.

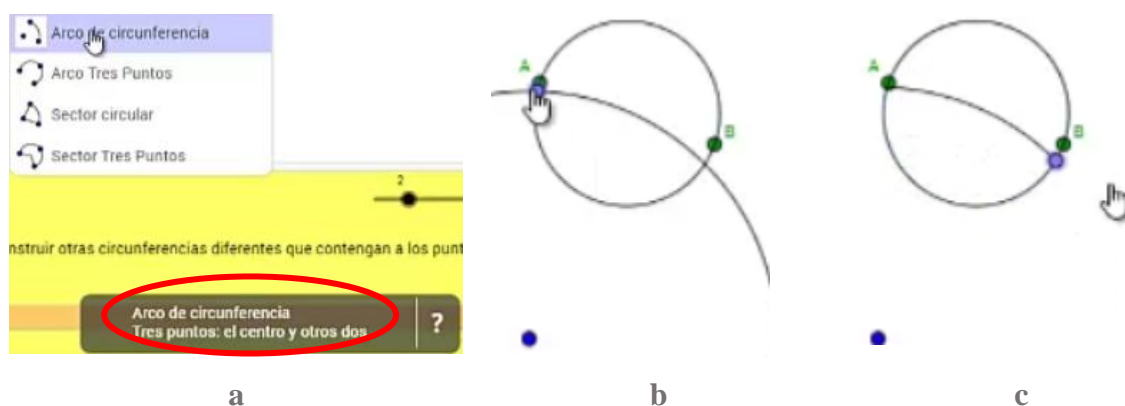


Figura 212. Intentos de construcciones realizados por Sara, etapa 2 de la tarea 4.

La docente le mencionó a Sara que la razón por la que la circunferencia parecía desaparecer era porque estaba utilizando una herramienta que creaba arcos de circunferencias y no circunferencias completas (Figura 212.c.). Es así como Sara decidió intentar con la herramienta *Circunferencia Tres Puntos*, para ello, antes ubicó un punto fuera de la circunferencia y usó la herramienta haciendo clic en los puntos A, B y el que ella creo, el proceso puede verse en la

Figura 213. Sin embargo, Sara tan pronto terminó la creación de la circunferencia procedió a borrarla. La razón por la cual lo hizo no es clara, sospechamos que tuvo que ver que al dar clic en los puntos A y B en realidad se crearon otros puntos sobre una de las semicircunferencias y no en los ‘verdaderos’ A y B.

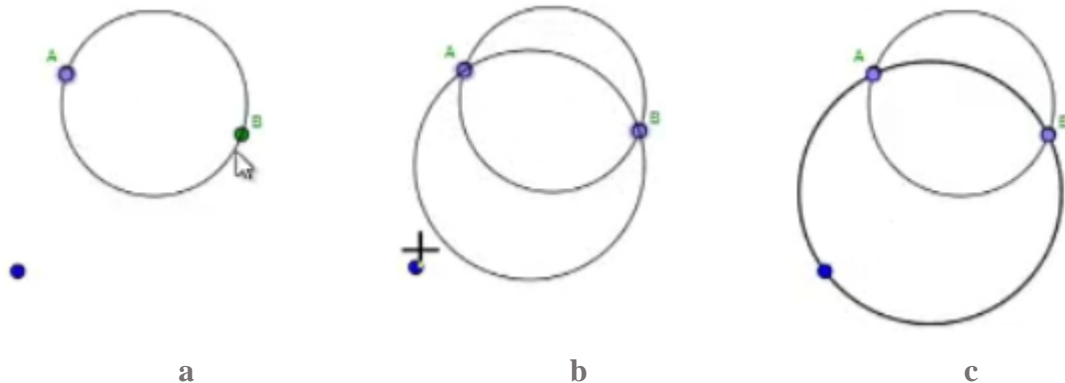


Figura 213. Construcción de otra circunferencia que contenga los puntos A y B, etapa 2 de la tarea 4.

Tras borrar la circunferencia y el punto que había creado, Sara se disponía a hacer un nuevo intento, ella creó un punto que usaría como uno de los tres necesarios para utilizar la herramienta (Figura 214.a.). Antes de usarla, se dirigió a la docente y le dijo “ya hice otra, pero con tres puntos y en el arco estaba A y B y otro punto”. La estudiante se percató que aún estaban los puntos creados cerca de A y B en el intento anterior y procedió a borrarlos (Figura 214.b.).

Sara también borro el punto que usaría para la circunferencia, creó uno nuevo más lejos de la circunferencia, al parecer pensó que podía arrastrar estos puntos (Figura 214.c.). Seleccionó la herramienta *Circunferencia Tres Puntos* y dio clic cerca de A creando un punto en la semicircunferencia (Figura 214.d.) la docente se dio cuenta de la situación y le dijo a Sara “no importa, hagamos de cuenta que está sobre A”, dio el segundo clic de la herramienta en el punto creado fuera de la circunferencia (Figura 214.e.) y finalmente en B (Figura 214.f.).

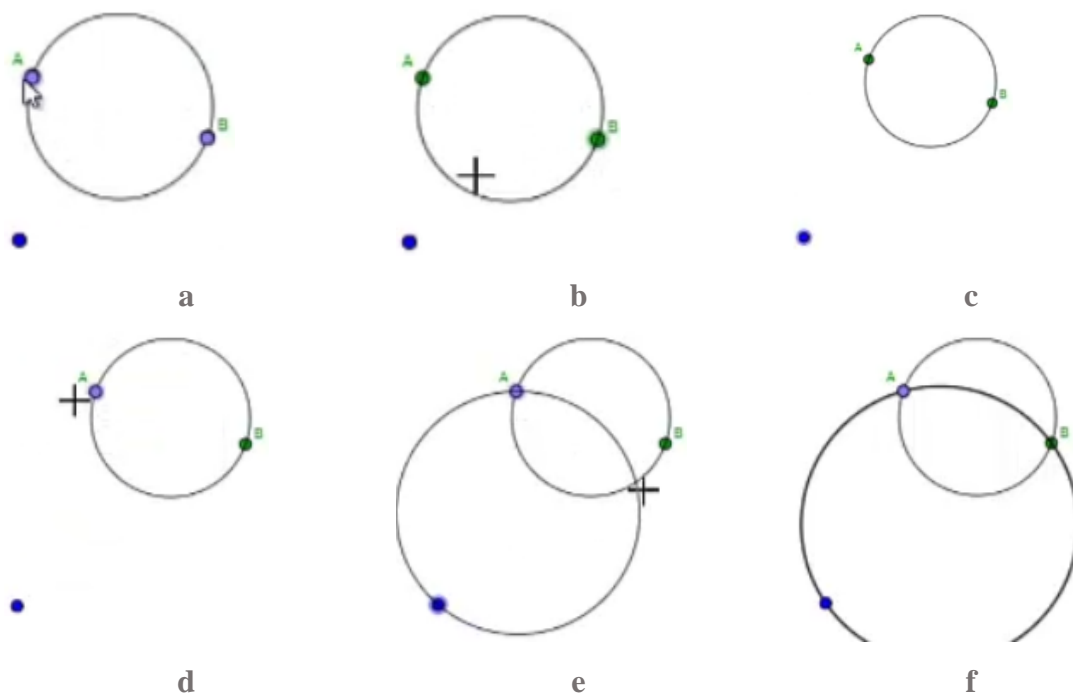


Figura 214. Construcción de otra circunferencia que contenga los puntos A y B, etapa 2 de la tarea 4.

El análisis de lo realizado por Sara hasta este punto reportó una correspondencia entre los arrastres realizados con las modalidades de arrastre para ajustar y limitado, sin embargo, no se reportan correspondencias con la función de la variación pues el problema para Sara se convirtió en un problema de construcción y de exploración de las herramientas más que uno relacionado al objetivo mismo de la tarea. Antes de escribir su respuesta final en esta etapa, Sara escribió y borró una afirmación que podría corresponderse con un esquema de argumentación analítico, ella escribió "... si se construye una circunferencia mas grande su arco puede contener los puntos A y B" [sic], la cual fácilmente se puede escribir en la forma si-entonces igualmente sucede con la respuesta definitiva, la que dejó luego de borrar parte de la anterior. Sara luego de señalar que sí cree posible construir otras circunferencias que contengan los puntos A y B, escribió: "Porque si se construye una circunferencia mas grande sigue conteniendo los puntos A y B" [sic]. Estas dos afirmaciones, una correcta y la otra incorrecta, como ya se mencionó se pueden escribir de la forma si-entonces aunque no muestran una elaborada cadena deductiva. [MAPA/MAL, 0, EAD].

Sara continuó a la tercera etapa, *Verifica. 3. El punto rojo es el centro de la circunferencia que contiene al punto A. Mueve el punto rojo tratando de que la circunferencia contenga al punto*

B. Al finalizar el movimiento activa la opción *Mostrar huella*. ¿Qué figura se puede formar con los puntos azules cuando la circunferencia contiene a los puntos A y B?

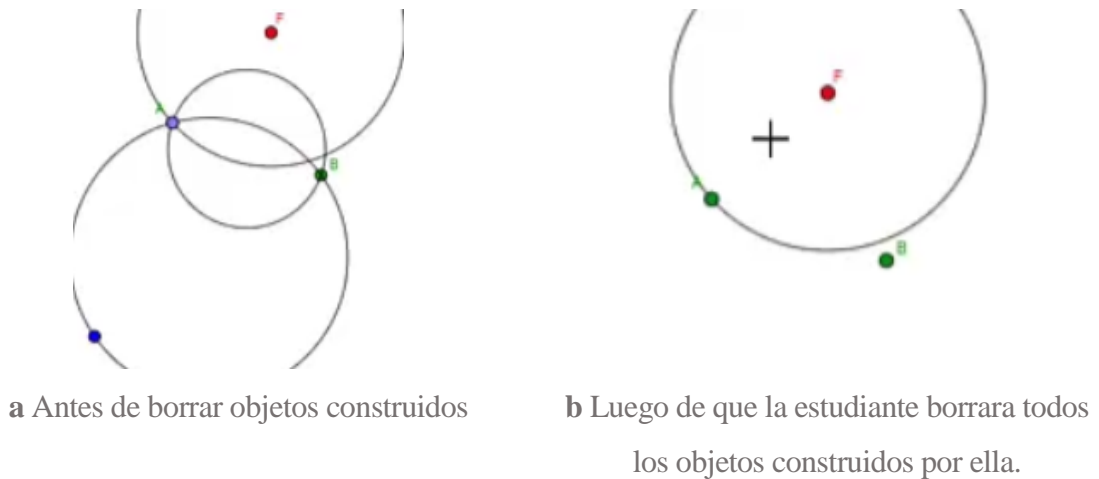


Figura 215. Configuración inicial etapa 3 de la tarea 4.

La estudiante utilizó la herramienta borrar para eliminar de la configuración los objetos que ella había construido antes (Figura 215). Tras lo cual tomó el punto F, es decir, el punto rojo, y lo arrastró un poco hasta hacer que la circunferencia pasara también por B. Sara habilitó la opción *Mostrar Huella* y la docente le dijo: “la idea es que ahora lo muevas [al punto rojo] tratando que siempre contenga los dos puntos [A y B]”. Sara después de la sugerencia de la docente, deshabilitó la opción *Mostrar Huella*, e inició el arrastre del punto.

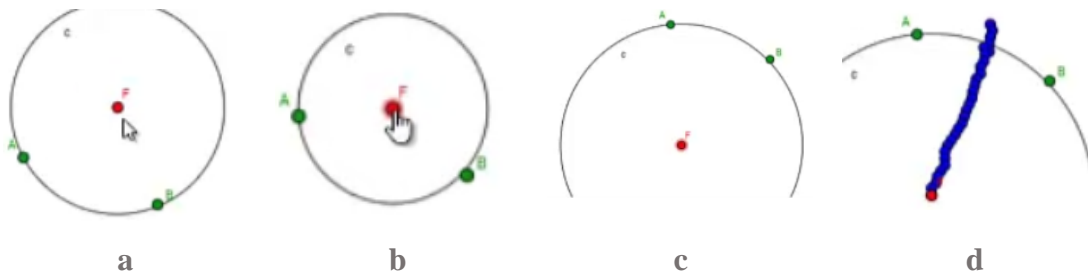


Figura 216. Arrastres realizados por Sara en la etapa 3 de la tarea 4.

Los primeros arrastres del punto F realizados por Sara podrían clasificarse en la modalidad de arrastre errático pues fueron en todas direcciones, aunque luego de unos momentos y haciendo uso del mouse, movió a F a una posición donde la circunferencia contenía los puntos A y B lo que coincide con la modalidad de arrastre para ajustar (Figura 216.a.), después, manteniendo la condición sobre los puntos A y B llevó, sin percatarse, al punto rojo sobre un camino oculto lo

que corresponde con las modalidades de arrastre mantenido y de lugar mudo (Figura 215 b-d). A Sara le resultó difícil arrastrar a F haciendo uso del mouse por lo que continuó moviendo el punto haciendo uso del teclado, hecho que le permitió aumentar la precisión de sus movimientos.

La estudiante activó la opción *Mostrar Huella*, lo que visualmente generó rastro del lugar por donde movió a F (Figura 215.d.) y aunque los puntos del rastro no fueron marcados por la estudiante, el arrastre hecho se corresponde con la modalidad de arrastre en línea puesto que la estudiante ya conocía el manejo de la herramienta. Sara, luego de activar la opción *Mostrar Huella*, inició la escritura de su respuesta, “el punto rojo va trazando una línea y aun así la circunferencia sigue conteniendo los puntos A y B” [sic]. Esta afirmación pensamos se corresponde con un esquema de argumentación empírico ya que se apoya en el dibujo para realizar la argumentación.

En cuanto a las funciones de la variación, consideramos que el desarrollo de la etapa permitió a la estudiante momentos de arrastre en los que se favoreció la función de la variación contraste y separación, el primer caso sucedió cuando la estudiante hacía arrastró a F hasta un lugar que favoreciera la condición, luego cuando hizo esfuerzos por mover el punto rojo por lugares donde se cumplía la propiedad deseada, contraste pues encontró lugares donde se favorecía la condición y otros en los que no [MAE/MAPA, FVC, EAE]. En cuanto a separación, pudo suceder en dos momentos, el primero pudo suceder cuando la estudiante, luego de realizar el arrastre mantenido sobre el punto F, al parecer identificó que debía moverse en línea recta, es decir, identificó el patrón, y el segundo momento sucedió cuando Sara activó la opción *Mostrar Huella*, lo que le permitió con seguridad identificar el camino que siguió el punto rojo [MAM/MALM/MAEL, FVS, EAE].

Sara inició la etapa 4 cuyo enunciado fue: *Explora. 4. Representa algunas circunferencias que pasen por A y B y encuentra sus centros. Explica cómo lo hiciste.*

Luego de leer la instrucción, Sara inició la construcción de algunas circunferencias, para ello repitió lo hecho en etapas anteriores. En primer lugar creó dos semicircunferencias, una usando

los puntos A y B y la otra usando los mismos puntos en diferente orden para obtener así la circunferencia de diámetro AB.

Luego Sara ubicó un punto fuera de la circunferencia, seleccionó la herramienta *Circunferencia Tres Puntos* y quiso dar clic en el punto A marcando accidentalmente un punto muy cercano (Figura 217.a.), el segundo clic lo dio sobre el punto que había creado fuera de la circunferencia (Figura 217.b.) y el último clic no lo dio sobre B como se pensaría sino que ajustó un punto, nuevamente fuera de la circunferencia, de tal forma que esta curva pasara por B (Figura 217.c.). Lo realizado por Sara para ubicar el último punto se corresponde con la modalidad de arrastre guiado pues ella movió el punto (aun sin ubicar) para darle la forma (tamaño) deseada a la circunferencia. Con lo realizado Sara también encontró lugares en los que se cumplió la condición y otros en los que no, por ello se corresponde el trabajo de la estudiante con la función de variación contraste. [MAG, FVC, 0].

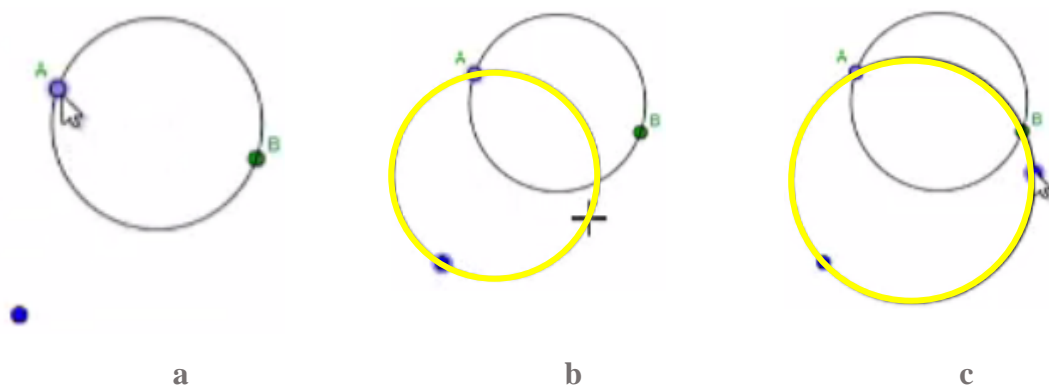


Figura 217. Uso que dio Sara a la herramienta *Circunferencia Tres Puntos* durante la etapa 4 de la tarea 4.

La profesora, quién veía el trabajo realizado por Sara con la herramienta, le comentó que el uso de la herramienta no necesitaba de tres puntos ya creados, los tres puntos los podría ir marcando “Tú puedes seleccionar la herramienta y cuando ya esté seleccionada haces clic dónde quieres que vayan los puntos”. La estudiante seleccionó la herramienta *Circunferencia Tres Puntos*, dio clic sobre el punto cercano al punto A (Figura 218.a.) luego quiso dar clic sobre B creando un punto cerca a este último (Figura 218.b.) y finalmente seleccionó en pantalla un tercer punto para crear la circunferencia (Figura 218.c.).

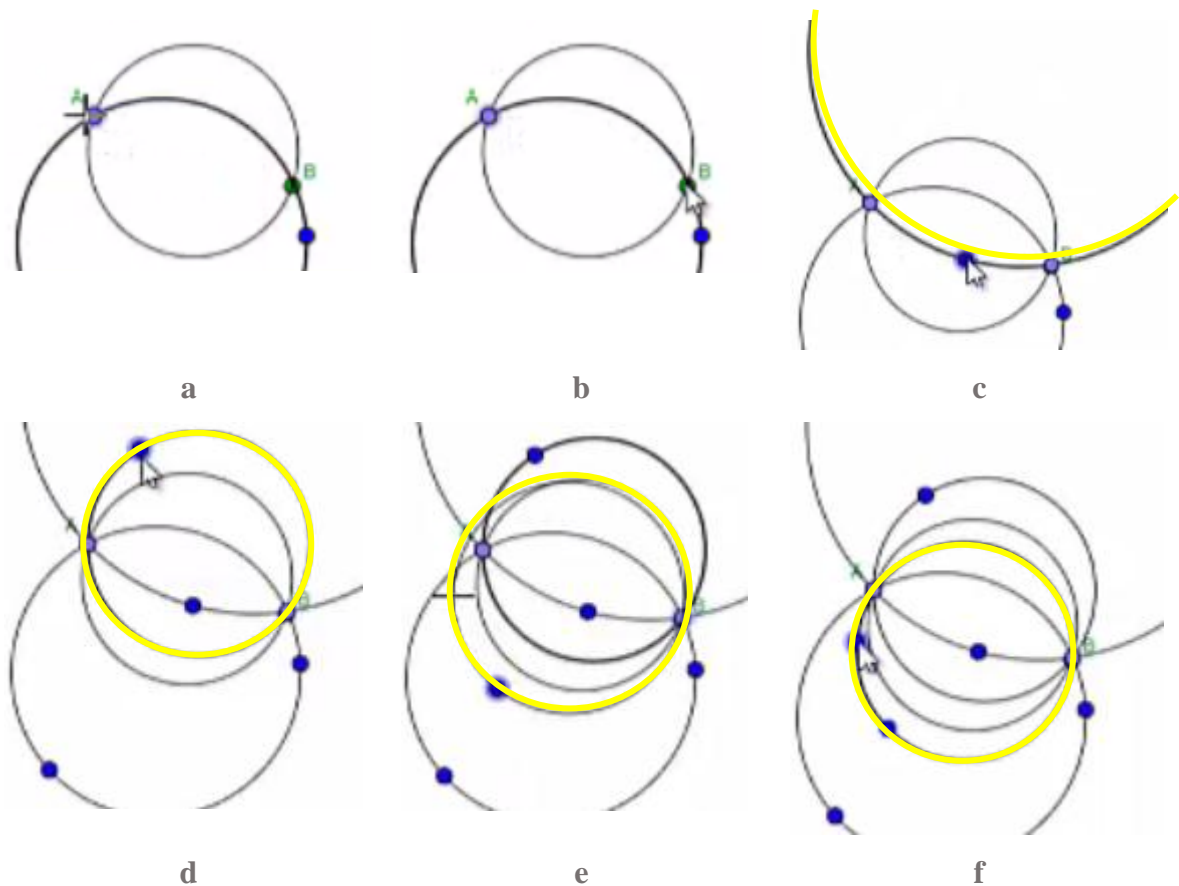


Figura 218. Arrastres realizados por Sara etapa 5, de la tarea 4.

Por algún motivo que desconocemos Sara no se vio satisfecha con las construcciones realizadas hasta el momento, sin embargo, con la herramienta *Circunferencia Tres Puntos* seleccionada hizo clic en B (en el punto cercano a B) luego en A (en el punto cercano a A) y finalmente marcó un tercer punto que determinó una nueva circunferencia (Figura 218.d.). En la Figura 218.e. y Figura 218.f. se puede observar parte del proceso realizado por Sara para trazar otra circunferencia, en este caso ella dio clic en B (en el punto cercano a B) luego dio clic en un lugar vacío para crear un punto nuevo y finalmente arrastró el mouse, por una región vacía, ajustó la posición del mouse hasta que la circunferencia pasara por el punto A donde dio clic definiendo otra circunferencia, es decir, ajustó la posición del punto guiada por la ubicación de A [MAPA/MAG, FVC, 0].

Al parecer la cantidad de circunferencias trazadas fue suficiente para Sara pues mencionó ¡ya, ahí cuántas van! la docente escuchando a Sara le respondió que ahora el problema era encontrar

el centro de esas circunferencias, le preguntó a la estudiante ¿Cómo le hacemos para encontrar los centros? Sara se vio confundida.

La docente le sugirió explorar el programa, le preguntó si sabía que era el centro de una circunferencia a lo cual Sara asintió. La profesora a manera de sugerencia le dijo “explora el programa a ver si te puede ayudar, mira qué herramienta te puede ayudar encontrar esos centros”. Sara seleccionó la herramienta *Circunferencia Centro Punto* dio clic en A (en el punto cercano) y arrastró el mouse observando que la curva no coincidía con lo deseado, dio clic para fijar la circunferencia e inmediatamente seleccionó la herramienta *Borrar* para eliminar el objeto geométrico creado.

Sara pasó un tiempo pensando en qué hacer, exploró detenidamente los menús de herramientas de GeoGebra, al tiempo que pasaba el mouse sobre los diferentes menús, la docente le indicó a Sara “ese es para crear ángulos, ese para crear circunferencias y arcos, ese para los polígonos, ese es para crear rectas y ese también, ese es el que se usa para crear puntos”. La estudiante pasó largo tiempo sin hacer algo así que la docente intentó animarla y dijo, “bueno, ¿qué pasó? Ya miraste bien todos los iconos [refiriéndose a los iconos de las herramientas del programa]”. Ellas luego de un momento en silencio, tuvieron la siguiente conversación:

10	Profesor 2	Tú ya sabes qué es el centro de una circunferencia... es un punto.
11	Sara	¡Ah pues claro!
12	Profesor 2	Eso, tú ya sabes ubicar puntos, ¿cierto?
13	Sara	¡Sí!
14	Profesor 2	Pero ahora necesitamos que sean puntos, que sean los centros de las circunferencias.

Sara eligió la herramienta *Punto*, con la que creó un punto cerca del centro de la circunferencia más amplia en su configuración, y lo arrastró para ajustarlo visualmente a esa condición. Consideramos que la estudiante ejecutó un arrastre que coincidió con la modalidad de arrastre guiado pues ella arrastró el punto, antes y después de crearlo, hasta ubicarlo de tal forma que visualmente fuera el centro de la circunferencia y guiada por la misma figura.

Acto seguido seleccionó la herramienta *Circunferencia Centro Punto* y como centro seleccionó el punto recién creado y dio clic en un lugar vacío. La circunferencia creada no pasaba por los puntos A y B así que Sara tomó la circunferencia y la arrastró hasta hacerla coincidir con la ubicación de los puntos A y B, sin embargo, al no quedar satisfecha cesó su arrastre para

intentar arrastrar ahora los puntos que definieron la circunferencia en mención. La docente señaló “tiene que pasar por A y por B, y ya tienes su centro, es una buena estrategia... ya tienes una con centro, necesitamos varias con centro”. Consideramos que los arrastres realizados por Sara, de la circunferencia y de los puntos que la definieron se corresponden con la modalidad de arrastre para ajustar.

Sara repitió la estrategia, creó un punto en un lugar vacío, lo usó como centro de una circunferencia que pasó por otro punto que fue creado en una región sin objetos geométricos y moviendo este último punto por distintos lugares, incluso algunos que alejaron la curva de la condición de contener a los puntos A y B, ajustó la curva a la condición deseada. Cabe resaltar que el ajuste realizado a la circunferencia tardó demasiado, no porque la estudiante no lograra visualmente ajustar la curva, en realidad tardó porque Sara parecía estar prestando atención a la variación de la curva causada por la variación del punto.

El quehacer de Sara descrito en el párrafo anterior corresponde a las modalidades de arrastre guiado (para ubicar el centro) y para ajustar, junto a los arrastres se presentó la función de variación contraste pues la estudiante arrastró uno de los puntos llevándolo a lugares donde la condición se cumplió y otros donde no [MAG/MAPA, FVC, 0].

En la configuración que Sara había logrado tenía varias circunferencias que pasaban por A y B entre ellas dos circunferencias de las que conocía el centro. Pero tantos objetos geométricos le dificultaban seguir con la tarea, así que ella decidió borrar la mayoría de elementos dejando la configuración que puede ser vista en la (Figura 219.a.), la cual incluía dos circunferencias: una cuyo centro se conocía y otra de diámetro AC cuyo centro era desconocido. A continuación Sara repitió la estrategia descrita en el párrafo anterior. Obteniendo la configuración de la Figura 219.c.).

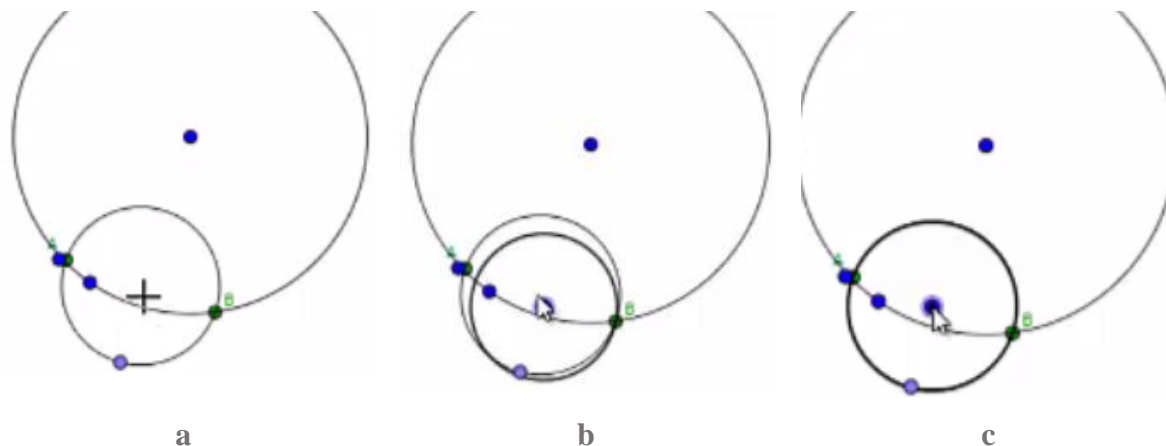


Figura 219. Estrategia seguida por Sara para ubicar el centro de una circunferencia, etapa 4 de la tarea 4.

Sara, antes de usar nuevamente la estrategia que le resultó exitosa para solucionar la tarea propuesta, creó una circunferencia usando tres puntos, A (cercano a A), B (cercano a B) y un tercero en un espacio vacío. Luego eligió la herramienta *Punto* y ubicó uno que visualmente pareció ser el centro de la circunferencia por tres puntos recién creada, es decir, ubicó un nuevo punto guiada por la forma de la circunferencia lo que se corresponde con la modalidad de arrastre guiado y no con arrastre para ajustar pues, en efecto ella debió, después de ubicar el punto y crear una circunferencia, arrastrarlo y ajustar la ubicación del punto para que se cumpliera la condición deseada, es decir, que fuera centro de la circunferencia por tres puntos, situación narrada a continuación.

Sara utilizó la herramienta *Circunferencia Centro Punto* para crear una (Figura 220.a.), para lo cual utilizó como centro el punto que visualmente ubicó para que coincidiera con el centro de la circunferencia por tres puntos. El objeto creado con la herramienta *Circunferencia Centro Punto* fue ajustada, no solo para que pasara por los puntos A y B, también fue arrastrada junto a los puntos que la definieron (Figura 220.b.) hasta sobreponerla a la circunferencia creada con la herramienta *Circunferencia Tres Puntos* (Figura 220.c.). Estos últimos arrastres pensamos que se corresponden con la modalidad de arrastre para ajustar pues Sara arrastró los puntos que definen un objeto geométrico y el objeto mismo hasta que coincidieron con el tamaño y ubicación de otro. La intención de la estudiante era conocer el centro de la primera circunferencia (la creada con la herramienta *Circunferencia Tres Puntos*).

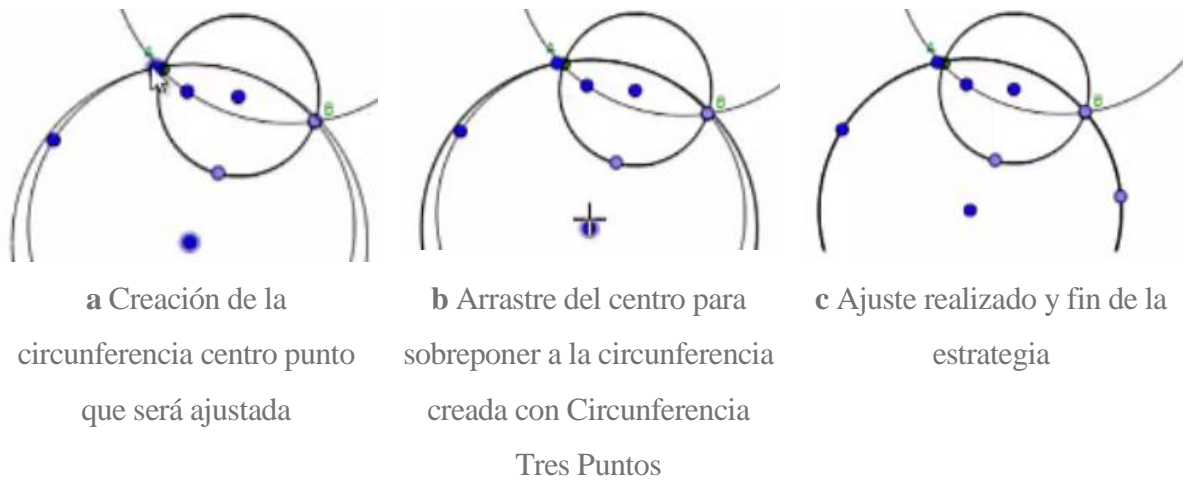


Figura 220. Estrategia seguida por Sara para ubicar el centro de una circunferencia, etapa 4 de la tarea 4.

Sara, luego de crear la tercera circunferencia cuyo centro conocía, escribió la respuesta al enunciado de esta etapa: “Construj mas circunferencias que me guiaran en centro con el punto” [sic] en este instante detuvo su escritura y borró. Luego escribió “Hice mas circunferencias y ubique un punto aproximandolo al centro y para asegurarme me guien” [sic] acá nuevamente detuvo su escritura, borró e inició la escritura de la que sería su respuesta definitiva “Hice mas circunferencias y ubique un punto aproximado al centro” [sic] [MAE/MAG/MAPA, FVC, EAR/EAD].

Sobre la afirmación hecha por Sara: “Hice mas circunferencias y ubique un punto aproximandolo al centro y para asegurarme me guien” [sic] debemos mencionar que aunque ella no completó la idea, sabemos que en la práctica lo realizado por Sara se puede describir así: Si tengo dos circunferencias de las cuales solo conozco el centro de una y si hago que las circunferencias coincidan, entonces el centro de la circunferencia que conozco será también el centro de la circunferencia que desconozco. Lo cual claramente es un Esquema de Argumentación Analítico. Sobre la afirmación ““Hice mas circunferencias y ubique un punto aproximado al centro” [sic]” decidimos clasificarlo como Esquema de Argumentación Recuento Fático, pues es evidente que ella, como base para su argumentó, hizo el recuento de lo que realizó.

Sara continuó a la etapa siguiente, *Generaliza. 5. ¿Qué tienen en común los centros de las circunferencias que contienen a los puntos A y B? Utiliza herramientas de GeoGebra para verificar tú respuesta.*

Pasado un tiempo en que la estudiante contempló la instrucción y la configuración, Sara y la docente sostuvieron la siguiente conversación:

15	Profesor 2	¿Qué tienen en común los centros de las circunferencias que contienen a los puntos A y B? (...) tienes tres centros ahí.
16	Sara	[Con un gesto de su mano señala la línea que une los tres puntos] una línea.
17	Profesor 2	Por ejemplo... dice, usa las herramientas de GeoGebra para verificar tú respuesta. Tú ya diste una respuesta, ahora verifica.
18	Sara	[Sara lleva el mouse hasta el menú de rectas, y luego pasa al de punto]
19	Profesor 2	¿Qué necesitas hacer?
20	Sara	[Volvió al menú de rectas, y pasó por todos los demás] ahí se puede trazar una línea, pero..., para hacerla dice que es un segmento es con dos puntos, tendría que hacer dos segmentos.

Es fácil darse cuenta, según el dialogo anterior, que Sara conoce la respuesta incluso desde la tercera etapa. La demora en sus respuestas es causada por su desconocimiento del manejo del programa en cuando a construcciones se refiere, esto quedó en evidencia pues ella verbalmente y más adelante por escrito responde que los puntos tienen en común que pasan por una recta, sin embargo, la construcción que hizo inicialmente para ‘verificar’ se limitó a la construcción de dos segmentos (Figura 221 a-b.).

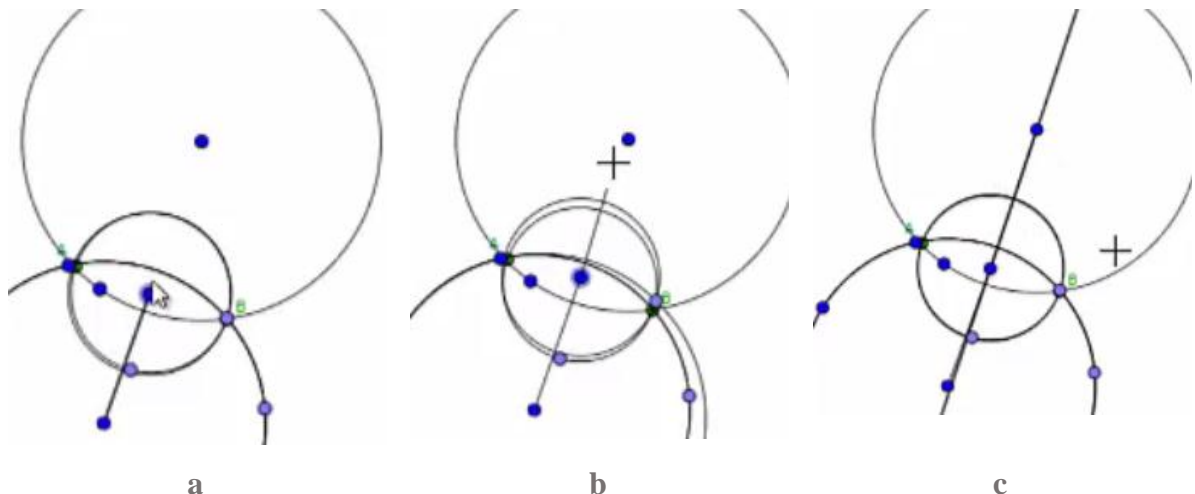


Figura 221. Construcción para verificar que los centros de las circunferencias se encuentran en una recta, etapa 5 de la tarea 4.

Luego de la construcción de los dos segmentos, Sara escribió en la caja de respuesta “tienen una recta en común” [sic]. Tiempo después, ella ajustó el punto que comparten los dos segmentos para que fueran colineales, tras lo cual seleccionó la herramienta *Recta* y construyó la recta que se aprecia en la Figura 221.c. Sara, antes de avanzar a la siguiente etapa, ajusta su respuesta escribiendo: “hay una recta en común” [sic] [MAG, FVS/FVC, EAR].

Concluye. 6. *Mueve los puntos negros para lograr que la circunferencia con centro S contenga a los puntos A y B. escribe una conclusión.*

Sara tomó uno de los puntos negros que determinaban la recta que puede ser vista en la Figura 222 y con él hizo una serie de arrastres por distintos lugares. Un arrastre de esta manera hace que coincida con modalidad de arrastre errático; ya cuando estaba cerca de cumplir con la condición solicitada en el enunciado, es decir, que la circunferencia con centro en S contenga los puntos A y B, Sara arrastró con detenimiento el punto negro hasta lograr que la circunferencia contuviera los dos puntos, obteniendo la configuración vista en la Figura 222.a.

La estudiante continuó realizando arrastres logrando más configuraciones que cumplieron la condición deseada como la de la Figura 222.b. lo cual coincide con las modalidades de arrastre para ajustar y luego mantenido, pues luego de ajustar la posición para cumplir la condición, Sara arrastró el punto negro de tal forma que se mantuvo la condición. En ambas modalidades de arrastre consideramos se estableció la función de variación contraste ya que la estudiante logró evidenciar lugares en los que se cumplió y otros en los que no se cumplió la condición [MAE/MAM, FVC, 0].

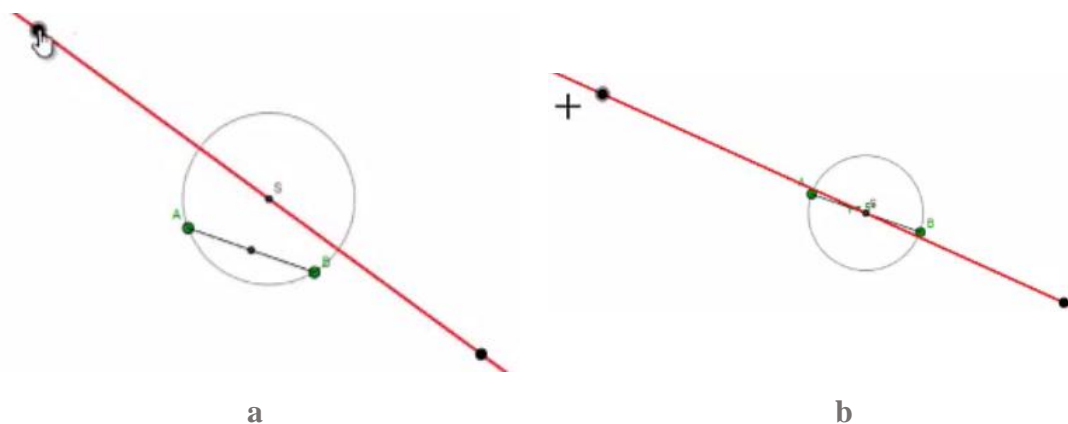


Figura 222. Configuraciones obtenidas por Sara, etapa 6 de la tarea 4.

La docente y Sara sostuvieron la siguiente conversación, en este dialogo se nota que Sara pensaba en dar respuesta al enunciado.

21	Profesor 2	Y eso, ¿Si se relaciona con lo que hiciste ahorita?
22	Sara	Sí (...) toca utilizar esto, ¿cierto? [Refiriéndose a que en la respuesta se espera una frase de la forma si-entonces]
23	Profesor 2	Sí, debes decir: Si y que condiciones debe cumplir... lo que tienes ahí para que contenga los puntos A y B, eso sería después del entonces. Ustedes han trabajado eso con el profesor 1.
24	Sara	Sí.

La estudiante arrastró el otro punto negro e inició la exploración, los primeros arrastres fueron erráticos mientras detectó los lugares por los que podría mover el punto buscando mantener la relación. Ella mantuvo la condición solicitada durante todo el movimiento. Lo anterior se corresponde en primer lugar a la modalidad de arrastre errático y en segundo a la modalidad de arrastre mantenido. Después de que Sara cesó el movimiento la docente le preguntó ¿qué se te ocurre?, ¿se te ocurre alguna conclusión? A lo que la estudiante respondió que no, desde nuestra perspectiva comprendemos la respuesta negativa de la estudiante pues los arrastres y cambios en la configuración logrados por Sara a pesar de cumplir la condición pedida no favorecieron la generación de la conjetura que buscábamos, es decir, que los centros de las circunferencias que contienen a A y B estuvieran en la recta mediatriz de los puntos [MAE/MAM, FVC, 0]. La docente insistió diciendo:

25	Profesor 2	Y de lo que has hecho los puntos anteriores, ¿qué observaste en los puntos anteriores.
26	Sara	Que los puntos negros eran como unos puntos colineales [con el punto S].
27	Profesor 2	Sí, o sea que estaban todos sobre la misma línea, pero ¿cómo era esa línea?
28	Sara	Recta.
29	Profesor 2	Sí, pero no era distinta a esta, a esta roja.
30	Sara	Sí, pero...
31	Profesor 2	Porque estos eran los puntos A y B, y acuérdate cómo estaban ubicados los centros con relación a los puntos.

En la intervención [27-31] de la docente se puede evidenciar un intento por hacer que la estudiante evocara ‘la forma’ de la línea que Sara había evidenciado en las etapas anteriores. Sara después del diálogo, tomó el punto negro ubicado en la parte inferior derecha (Figura 223.a.) y lo llevó a lugares por donde se encontraban los centros de las circunferencias hechas

previamente por ella (Figura 223 b-c), en realidad cerca a la mediatriz, situación que Sara seguía ignorando.

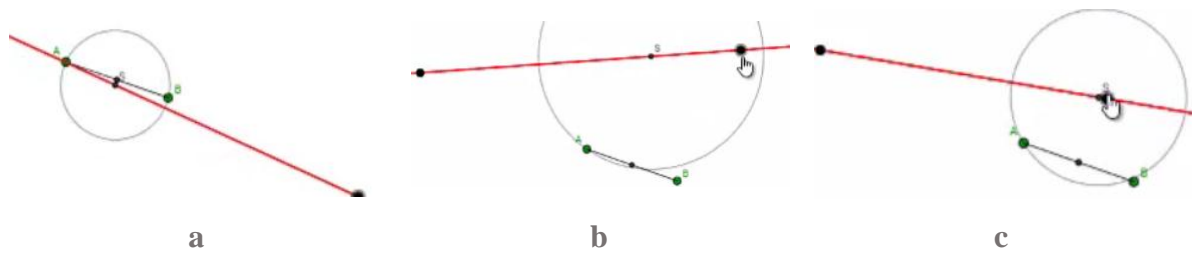


Figura 223. Configuraciones obtenidas por Sara, etapa 6 de la tarea 4.

Luego de obtener la configuración de la Figura 223.c. la estudiante arrastró alternadamente los puntos negros que determinaban la recta, de tal forma que si la condición sobre la circunferencia dejaba de cumplirse ajustaba arrastrando alguno de los puntos negros hasta que se cumpliera, lo cual coincide con modalidad de arrastre para ajustar. El arrastre de los puntos negros la llevó a que la recta intersecara al segmento. Como en este arrastre ella buscaba siempre cumplir la condición sobre la circunferencia y los puntos A y B, este se corresponde con modalidad de arrastre mantenido [MAPA/MAM, FVC, 0].

La estudiante siguió arrastrando los puntos (Figura 224 a-b) y tiempo después, al obtener la configuración de la Figura 224.c. exclamó “eran casi así”. La docente al cuestionar a la estudiante sobre quienes “eran casi así” logró establecer que la estudiante se refirió a la ubicación de los puntos centros de las circunferencias que contenían a los puntos A y B en la etapa 5 Figura 221.c. La afirmación anterior nos llevó a pensar que Sara llevó los puntos negros que determinan la recta a lugares donde previamente había explorado, lugares que evocó y a donde, de manera predeterminada, arrastró estos puntos negros buscando que en el centro de la circunferencia se ubicara también el lugares conocidos dando así una forma y tamaños particulares a la recta y a la circunferencia. Esto concuerda con una modalidad de arrastre guiado [MAM, FVC, 0]. La conversación entre Sara y la docente continuó:

32	Profesor 2	Así dices tú... [Refiriéndose a la posición del punto S]
33	Sara	Si, más o menos así estaban.
34	Profesor 2	Trata de escribir una conclusión (Pausa larga). Cómo escribirías la conclusión. Te dejo para que pienses.

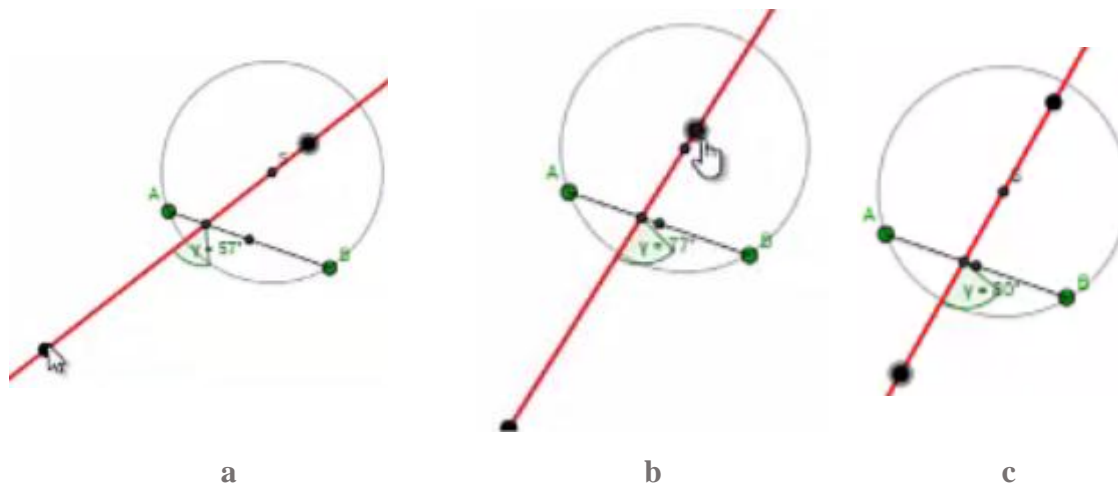


Figura 224. Configuraciones obtenidas por Sara, etapa 6 de la tarea 4.

Sara al obtener la configuración vista en la Figura 225, detuvo la exploración. Si vemos en detalle, al arrastrar los puntos negros que determinan la recta, sobrepuso el punto S al centro del segmento AB. Este actuar coincide con las modalidades de arrastre para ajustar y guiado, pues además de ajustar hasta sobrepone los puntos, arrastró de tal manera que S coincidió con el centro de la circunferencia de diámetro A y B. Ella hizo coincidir la circunferencia con centro en S con la circunferencia de diámetro AB, comportamiento que ella había realizado antes, durante el desarrollo de la etapa 5. Esta configuración propició el dialogo entre docente y estudiante:

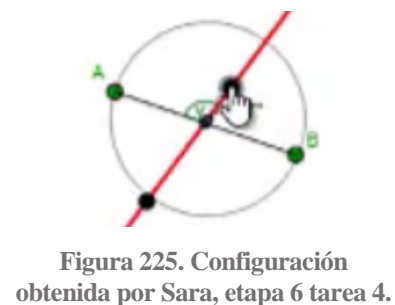


Figura 225. Configuración obtenida por Sara, etapa 6 tarea 4.

35	Profesor 2	¿Observas ahí algo que sea importante? (pausa larga) ¿algo que puedas relacionar con los puntos anteriores? Tú llegaste a una conclusión ahorita que hiciste la recta.
36	Sara	... que los puntos [centros de circunferencias] están sobre la misma recta...
37	Profesor 2	Tú hiciste tres, ¿crees que se podrían hacer más?
38	Sara	Sí.
39	Profesor 2	¿Cuántos crees que se podrían hacer?
40	Sara	Muchísimos.
41	Profesor 2	¿Muchísimos centros?
42	Sara	Asiente (...) y esos centros se ponen sobre la misma recta, siempre van a quedar sobre la misma recta.
43	Profesor 2	¿Esa recta que tú mencionas tiene alguna característica? además de ser una recta... o sea, ¿puede ser cualquier recta?

En la línea [42] del dialogo se puede inferir que la estudiante identifica que los centros de las circunferencias que contienen a los puntos A y B se ubican sobre una recta. De manera que con

esta afirmación Sara complementa las realizadas etapas antes sobre el mismo tema. En este caso, coincide con esquema de argumentación analítico pues el razonamiento de la estudiante podría escribirse así: *Si se trazan muchísimas circunferencias que contienen a los puntos A y B, entonces los centros de las circunferencias se ubican sobre una recta.*

Es claro que la exploración realizada por Sara le permitió afirmar lo dicho en la línea [42], sin embargo, es necesario clarificar que los últimos arrastres fueron los que le permitieron realizar esa afirmación, exploraciones en las que ella realizó arrastres para ajustar, guiados y mantenidos, eso en cuando a modalidades de arrastre.

Por otro lado, en cuanto a funciones de la variación, consideramos que de manera simultánea, en el quehacer de Sara se evidenciaron indicadores que permiten enmarcar lo hecho en las funciones de la variación separación y generalización. Como fue mencionado por Sara, ella prestó atención a la posición del punto S construido sobre la recta y que además era centro de la circunferencia, mientras que variaba mediante arrastre la posición de los puntos negros de la recta, que a su vez variaban el tamaño y posición de la circunferencia. Mientras todo eso variaba, los puntos A y B, el segmento AB y el punto medio del segmento no lo hicieron [MAPA/MAG/MAM, FVS/FVG, EAD].

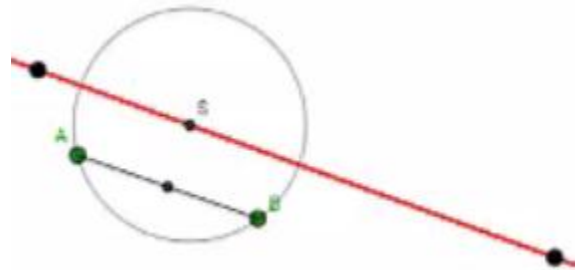


Figura 226. Configuración obtenida por Sara, etapa 6 tarea 4.

Luego de la última pregunta hecha a la estudiante, línea [42] del dialogo anterior, Sara reinició su exploración. Sospechamos que intentaba identificar las características de la recta en la que están los centros de las circunferencias. Luego de unos arrastres, ella suspendió por largo rato la exploración mientras en pantalla se encontraba la configuración que se ve en la Figura 226, como había pasado tiempo suficiente, la docente le preguntó si ya sabía que responder y se presentó el siguiente dialogo:

44	Sara	[Haciendo gesto de desagrado] Los puntos negros [los centros de las circunferencias] van sobre la misma recta. Se relaciona con el punto anterior
----	------	---

		porque los centros de las circunferencias que ahí dan quedaban igual... como puntos colineales.
45	Profesor 2	Por qué no te gusta. ¿No te gusta?
46	Sara	No porque es que o sea, no le veo como mucha relación a lo que dice ahí [refiriéndose al enunciado] y lo que está ahí [refiriéndose a la configuración actual] y lo que hice antes.
47	Profesor 2	Ok.
48	Sara	Es eso, ¡no me convence!
49	Profesor 2	Yo te entiendo, pero yo entiendo porque está pasando. Porque de pronto aquí encuentras una representación distinta. ¿No? ... ahorita [en las anteriores etapas] la recta era como así [señala con su mano perpendicularmente al segmento AC] como pasando por acá [señalando al punto medio del segmento AC].
50	Sara	Sí.
51	Profesor 2	Pero tú te estas fijando es en el punto S ... y ese punto S sí se parece a los que ubicabas ahorita (pausa larga), si tu tuvieras que ubicar otra circunferencia, tu sabes por donde tendría que pasar, por donde tendría que estar el centro [de la circunferencia].
52	Sara	Asiente, tendría que ser como una recta perpendicular [se refirió al segmento AB].

De la respuesta dada por Sara [52] se logra evidenciar de nuevo un esquema de argumentación empírico pues se basó en la forma que presentó la configuración en etapas previas [0, 0, EAE].

Finalmente, Sara escribió su respuesta: “Es posible hacer mas de una circunferencia que contenga los puntos A y B y que sus centros pasen por una misma recta” [sic] y avanzó a la siguiente etapa, cuestión que no debía suceder pues el applet se había programado de tal forma que no debía permitirle avanzar al estudiante a menos que convirtiera la recta roja en la mediatriz del segmento AC. Esto afectó la realización de la siguiente etapa.

Sara continuó a la siguiente etapa: *Concluye. 7. Mueve el punto S sobre la recta. ¿Qué sucede con la circunferencia y los puntos A y B? Escribe una conclusión.*

Sara intentó arrastrar el punto S en la configuración que veía en pantalla, y como en la etapa anterior no hizo que la recta fuera una mediatriz del segmento, el movimiento del punto S no se habilitó. Llamó la atención de la docente y le mencionó que no podía mover el punto S sobre la recta. Luego de lo cual profesora y estudiante sostuvieron el siguiente dialogo:

53	Profesor 2	Tienes que buscar la forma de que se pueda mover [el punto S]. Ahí no se puede mover. ¡Cómo te explico! La única forma en que puedas mover es que todos los puntos de esta recta sean centros de las circunferencias que pasan por A y por B. pero ahí no ocurre, ¿Me entiendes?
54	Sara	No.
55	Profesor 2	Ubícalo [la configuración] de tal forma que la circunferencia pase por A y

		por B.
56	Sara	[Arrastró uno de los puntos negros hasta conseguir que la circunferencia pase por A y B]
57	Profesor 2	¡Ahí pasa! Ahora lo que necesitamos es que cualquier punto de acá [señalando la recta roja] sea centro de una circunferencia que pase por A y por B (pausa larga)... Si tu pones un punto acá y que pase por B, listo [como la programación del applet falló, la docente modificó la configuración creando una circunferencia con centro en la recta y que pasara por B] (Figura 227.a). Necesitamos que cualquier punto de esta recta [señalando la recta roja] sea centro de una circunferencia que pase por A y por B. y mira que este punto no me sirve [arrastrando el centro de la circunferencia recién creada] porque no pasa por A y por B... yo lo que necesito que si yo lo muevo [el punto centro de la circunferencia] todas esas circunferencias pasen por A y por B. ¿cómo le hacemos? Tendrías que mover la recta para lograr eso.
58	Sara	(... pausa larga...) Digamos, creo yo que el centro tiene que estar sobre la recta y si en el punto anterior, no en el 5 [se refería a la etapa 5] hice varias circunferencias de diferentes tamaños y el centro seguía pasando por la recta.
59	Profesor 2	Pero cómo era esa recta, ¿Era igual a está? [Igual a la recta roja] en relación a los puntos A y B o ¿cómo estaba ubicada?
60	Sara	No, así [haciendo un gesto con su mano].
61	Profesor 2	Ensayo como debe estar ubicado.

A lo largo de la conversación y en especial en la línea [58] evidenciamos que la estudiante, a pesar de los esfuerzos hechos por la docente para hacerle entender la finalidad del ejercicio no logró comprenderlo, resultado apenas natural pues es la consecuencia del error en el enunciado y programación de la etapa anterior, etapa que la estudiante no ha debido superar sin haber convertido la recta roja en mediatriz del segmento AB.

Vemos también que Sara mantiene en mente lo realizado durante la quinta etapa, así que la profesora intentó usar esto para darle un nuevo foco de atención pidiendo que intentara caracterizar la recta que había logrado en la quinta etapa y la comparara con la recta que tenía en la configuración. En ningún momento la estudiante intentó regresar para observar etapas anteriores. En lugar de ello, decidió continuar con su exploración.

La estudiante arrastró uno de los puntos negros y llevándolo a diferentes ubicaciones se alejó de lo buscado. Sara buscaba que las dos circunferencias que se ven en la Figura 227b cumplieran contener los puntos A y B. La docente le recordó a la estudiante que podía mover la recta directamente y así lo hizo para obtener una configuración en la que las dos circunferencias se acercaron a cumplir la condición deseada (Figura 227.c.) [MAE/MAPA, 0, 0].

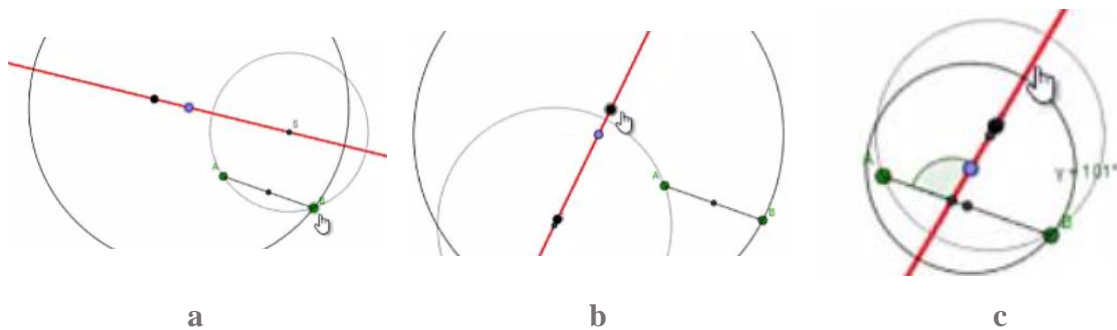


Figura 227. Configuraciones obtenidas por Sara, etapa 7 de la tarea 4.

Luego, Sara tomó uno de los puntos negros y logró que las circunferencias pasaran muy cerca de A y B (Figura 228.a.), no detuvo su avance sino que continuó hasta obtener la configuración de la Figura 228b. Fue en ese momento que la docente le recordó que el punto S se podría mover cuando ella lograra la posición ideal de la recta, además, le pidió mover el centro de la circunferencia y arrastrarlo. La docente también le pidió que notara que al mover el centro, la circunferencia pasaba por A y B solo cuando se acercaba al centro de la otra circunferencia como en la Figura 228c. También le fue indicado que deberían poder lograr que todas las circunferencias que tuvieran centro en la recta pasaran por A y B.

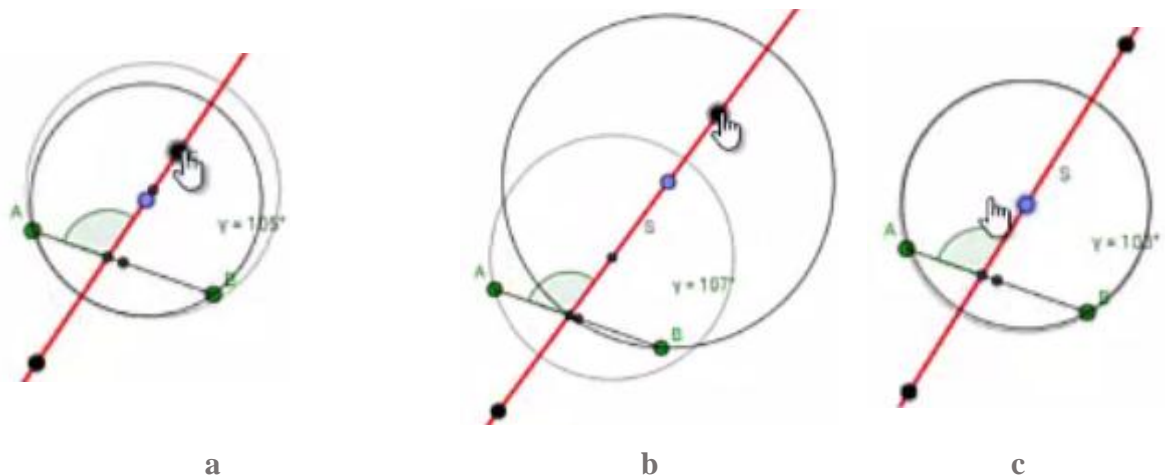


Figura 228. Configuraciones obtenidas por Sara, etapa 7 de la tarea 4.

Sara mencionó una afirmación que se corresponde con un esquema de argumentación empírico pues se basó en la configuración: “se me hace raro que en el punto 5 [etapa 5] hice circunferencias de diferentes tamaños y el centro se mantenía sobre la misma recta y aquí la circunferencia que usted hizo para que contenga a A y B tiene que quedar del mismo tamaño de

la circunferencia que tiene el centro S' . La docente insistió preguntando ¿cómo era esa recta?, era igual a esta, ¿tú crees?, ¿Qué otros elementos crees que son importantes, ¿Cómo era la recta con relación a los puntos A y B? señaló además que la estudiante había mostrado que la recta tenía determinada forma y repitió el gesto que antes había hecho Sara con su mano, y finalmente agregó ¿Qué quieres decir con eso [con el gesto]?

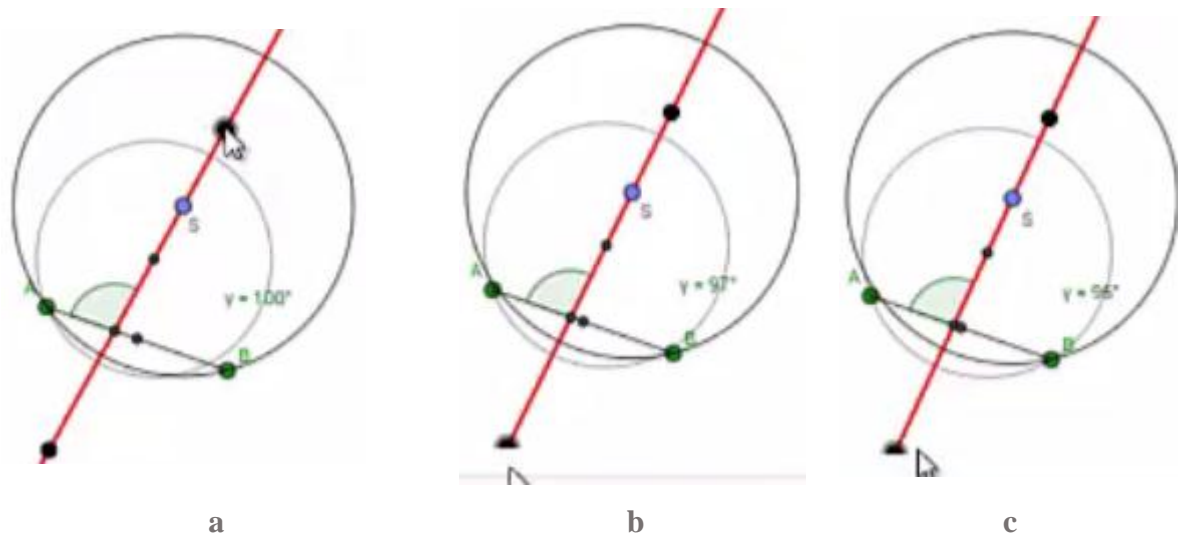


Figura 229. Configuraciones obtenidas por Sara, etapa 7 de la tarea 4.

Sara tomó de nuevo uno de los puntos negros y comenzó a arrastrar buscando ajustar ambas circunferencias a la condición, ella obtuvo la configuración que se puede ver en la Figura 229.a, luego cambió el punto de arrastre, tomó el punto negro ubicado abajo en la configuración y con la idea de ajustar las circunferencias acercó mucho la recta al punto medio del segmento AB (Figura 229 b-c) lo cual hubiera ajustado la recta a la mediatriz del segmento, sin embargo, no lo consiguió entre otras cosas porque no era lo que ella buscaba [MAPA, 0, 0].

La docente le sugirió mover el centro de la circunferencia, para revisar si se ajustaba a los puntos A y B, en una especie de arrastre test, claro que sugerido por la docente. Sara tomó el centro y arrastró el punto limitado a la circunferencia, primero hacia arriba hasta ver que ya la circunferencia no pasaba por A y B (Figura 230.a.), luego lo arrastró hacia abajo hasta descubrir lo mismo (Figura 230.b.) [MAT/MAL, 0, 0].

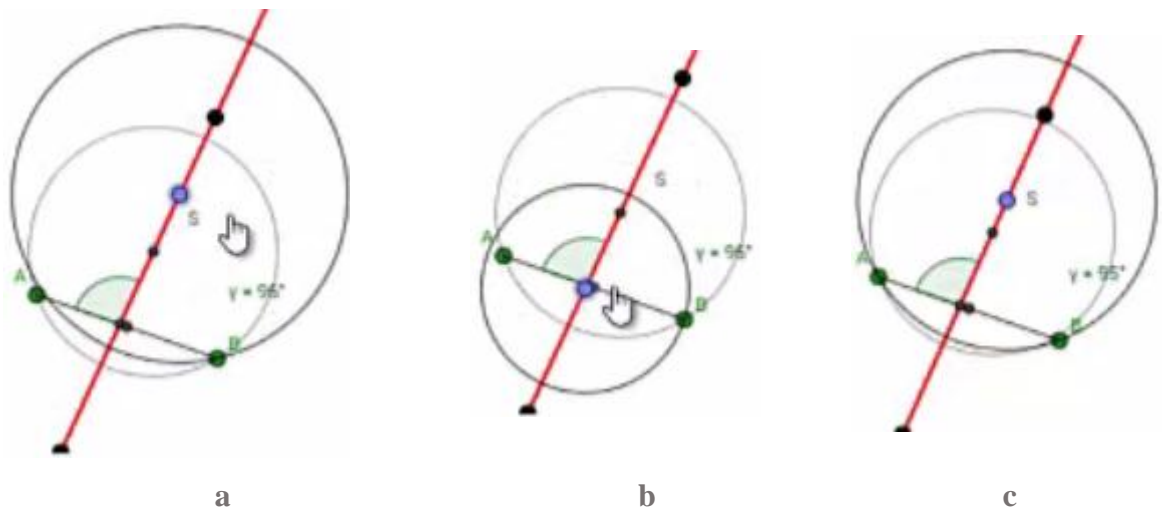


Figura 230. Configuraciones obtenidas por Sara, etapa 7 de la tarea 4.

La docente le preguntó a Sara si estaba considerando todos los elementos allí, en un intento por hacerle caer en cuenta de las condiciones faltantes sobre la recta: una la perpendicularidad que ya había sido nombrada por Sara y otra que la recta pasara por el punto medio del segmento. La docente vio más esfuerzos de Sara por ajustar las circunferencias a la condición establecida, en uno de ellos, la estudiante obtuvo la configuración que se puede ver en la Figura 230.c. al obtenerla se detuvo y la docente le dijo, es una gran aproximación, ¿podrías intentar una conclusión?

La estudiante inició la redacción de su respuesta “Si las circunferencias contienen los puntos A y B entonces los centros de ellas quedan en la misma recta” [sic]. Sara detuvo su escritura, negaba con la cabeza y se quedó mirando a la docente pensativa, entonces la profesora le preguntó ¿no se te ocurre nada más? ¿Qué otras características debe tener esa recta?

A las preguntas hechas por la docente Sara contestó, “no sé si tenga algo que ver pero (...) el segmento que está entre los puntos A y B queda, queda como esto acá [Sara fue al menú de herramientas y buscó la herramienta *Perpendicular*]” luego preguntó si la perpendicular es que quedan así [como los gestos hechos con la mano en explicaciones anteriores] y queda un ángulo recto, a lo que la docente asintió.

Continuando su respuesta a las preguntas de la docente, Sara manifestó que el segmento y la recta quedan como rectas perpendiculares, la profesora le dijo “así parecen, ¿no?”. Sara

contestó que básicamente así era la posición que tenía la recta del punto quinto y manifestó también no sentirse segura como para incluir esta sospecha en su respuesta. La docente preguntó a Sara si podría hacer algo para estar segura. Sara tomó uno de los puntos negros y lo movió hasta ajustar el ángulo entre recta y segmento a 90° (Figura 231.a.). Al hacer ese arrastre Sara mencionó “y si deajo el ángulo recto ya se sale [refiriéndose a que las circunferencia no pasaban por A y B en la configuración que ella obtuvo]”. A continuación tomó el punto centro de la circunferencia y lo arrastró por sobre la recta (Figura 231 b-c) como modo de verificar que las circunferencias no cumplían con la condición señalada.

Por la afirmación hecha por Sara en el párrafo anterior, pensamos que la intención de los arrastres realizados por ella procuraban convencer a la docente de algo como “si el segmento y la recta son perpendiculares, entonces las circunferencias no pasan por los puntos A y B”, de tal manera su quehacer se corresponde con la función de variación separación pues varió la posición uno de los puntos negros hacia una posición en la que se cumplió la perpendicularidad, además, la afirmación encaja con un esquema de argumentación empírico pues, además de poderse escribir de la forma si-entonces se basó en lo visto en el dibujo durante el arrastre test. [MAPA/MAT/MAL, FVG, EAE].

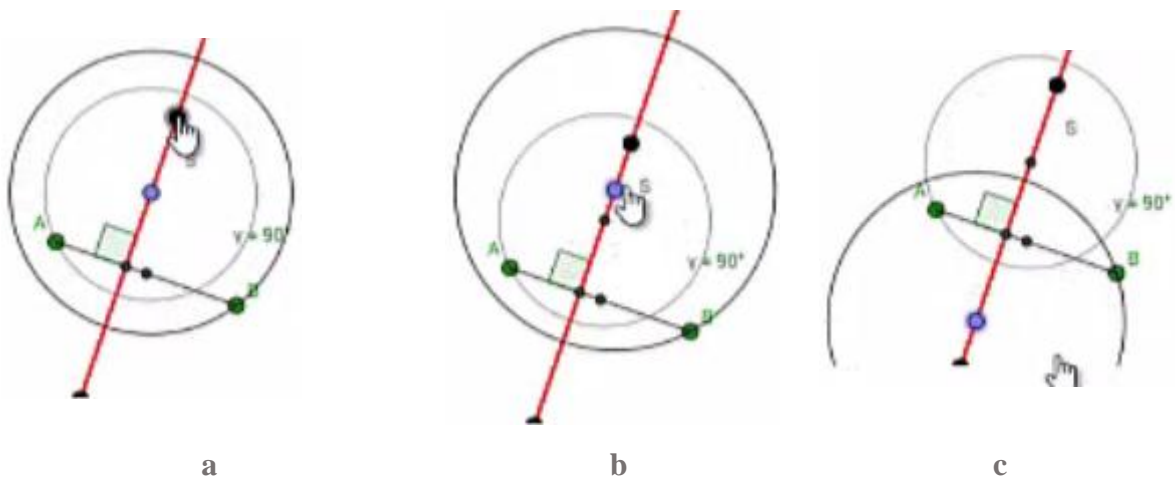


Figura 231. Configuraciones obtenidas por Sara, etapa 7 de la tarea 4.

La docente, luego de la demostración de Sara, le dijo “entonces no es suficiente que sea recto [el ángulo entre el segmento y la recta]” y la cuestionó, ¿Qué más tendrá que cumplir? La estudiante en un intento por mejorar su respuesta, construyó un punto sobre la recta y luego,

seleccionó la herramienta *Circunferencia Centro Punto*, creó una circunferencia con centro el punto que recién había creado y que pasó por un punto sobre una de las circunferencias (Figura 232.a.). Luego tomó el centro y lo arrastró por sobre la línea encontrando que a la circunferencia creada por ella le sucedía lo mismo que a la creada al principio de la actividad por la profesora (Figura 232 b-c), así lo manifestó Sara, es decir en ocasiones pasaba por los puntos A y B y en otras no [MAL/MAT/, FVG, EAE]. Consideramos que lo hecho por Sara se corresponde con la función de variación generalización pues ella fue quien construyó la circunferencia y varió la posición del centro de esta sobre la recta para verificar que, al hacerlo, la circunferencia creada le pasó lo mismo que la creada por la docente al principio de la etapa.

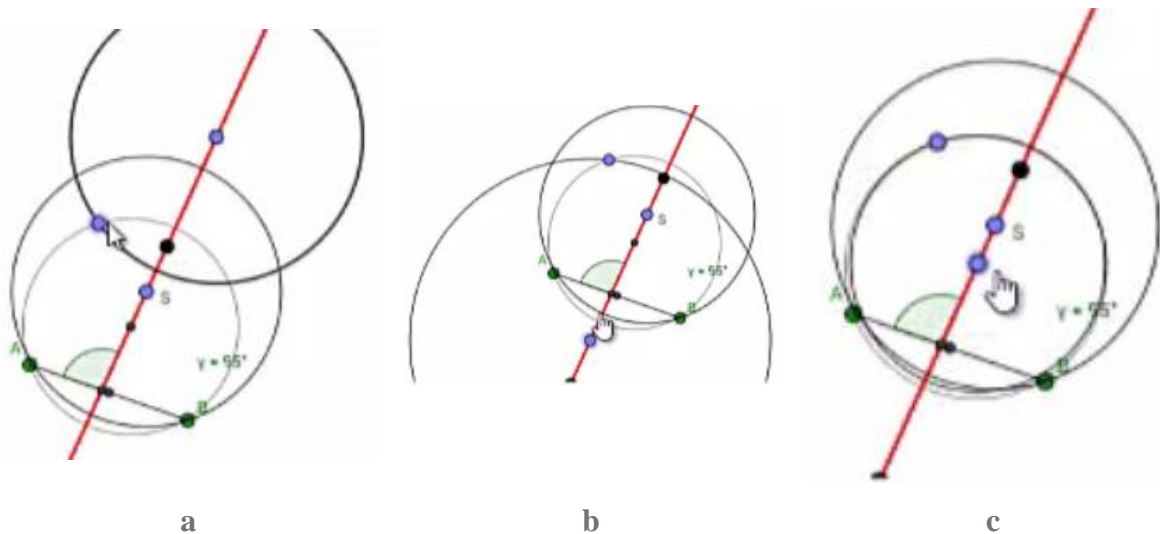


Figura 232. Configuraciones obtenidas por Sara, etapa 7 de la tarea 4.

La docente le informó a Sara que el tiempo de la clase había finalizado, así que el trabajo fue guardado y entregado en línea.